

۱ تا ۵/۱ نمره

۱) جملات درست یا نادرست را انتخاب کنید

۱ تا ۵/۲ نمره

۲) جاهای خالی را با عبارت های درست پر کنید

۱ تا ۵/۲ نمره

۳) ارتباطی

۱ تا ۵/۲ نمره

۴) تست

۱ تا ۵/۲ نمره

۵) نام بردنی

نمره ۰/۷۵

(۶) شکل

نمره ۱ تا ۱/۲۵

(۷) مسئله

نمره ۰/۵

(۸) انتخاب بین دو مورد

جمعا حدود ۱۱ نمره

(۹) پاسخ کوتاه ۶ نمره و تشریحی حداکثر ۵ نمره

نمره ۲/۷۵

فصل اول- ناحیه چیست؟

تصور شما از یک ناحیه چیست؟

درس اول

نواحی انسانی چگونه پدید می آیند؟

درس دوم

نمره ۱/۷۵

فصل دوم- زندگی در نواحی ساحلی

ویژگی‌های جغرافیایی سواحل

درس سوم

انسان و سواحل

درس چهارم

نمره ۲/۷۵

فصل سوم- زندگی در نواحی کوهستانی

با کوهستان آشنا شویم

درس پنجم

انسان و کوهستان

درس ششم

نمره ۲/۲۵

فصل چهارم- زندگی در نواحی گرم و خشک، گرم و مرطوب

فرسایش بیابانها در نواحی گرم و خشک

درس هفتم

تنوع زیستی در نواحی گرم و مرطوب

درس هشتم

نمره ۲/۲۵

فصل پنجم- زندگی در نواحی قطبی

ویژگی‌های طبیعی نواحی قطبی

درس نهم

انسان در نواحی قطبی

درس دهم

نمره ۳/۵

فصل ششم- سکونتگاه‌های شهری و روستایی

سکونتگاه‌های شهری و روستایی چگونه پدید می‌آیند؟

درس یازدهم

پراکندگی و نقش شهرها

درس دوازدهم

رشد سریع شهرنشینی چه مشکلاتی به وجود می‌آورد؟

درس سیزدهم

نمره ۲/۷۵

فصل هفتم- نواحی سیاسی

واحدهای سیاسی و مرزها

درس چهاردهم

قدرت ملی و تحولات سیاسی بیست سال اخیر

درس پانزدهم

نمره ۲

فصل هشتم- نواحی اقتصادی

کشاورزی، صنعت و تجارت

درس شانزدهم

۱) جملات درست یا غلط را مشخص کنید و اصلاح کنید.

صحیح / غلط

صحیح

۱- با حذف جنگل های استوایی ، آبرفت رودها
افزایش می یابد .

صحیح

۲- خاک های مزارع واقع در جنگل های استوایی
به سرعت تضعیف می شود .

۲) گزینه‌ی درست را انتخاب کنید.

الف) محدوده زندگی کرم خاکی جزء کدام یک از بخش‌های زیر می‌باشد؟

۱) لیتوسفر

۲) اتمسفر

۳) هیدروسفر

۴) بیوسفر

الف) با حذف جنگل، رودخانه‌ها توسعه می‌یابند و بر مقدار

آبرفت آن‌ها به شدت (افزایش - کاهش) می‌یابد.

ب) تنوع حشرات در جنگل‌های مداری (بیش‌تر - کمتر) از

جنگل‌های استوایی است.

۳) در عبارات زیر جای خالی را با کلمات مناسب پر کنید.

۱- متداول ترین تپه های ماسه‌ای هلالی شکل **برخان** نام دارد

۲- به آن دسته از زبان‌های دنیا که یک ریشه‌ی اصلی دارند

خانواده زبانی می‌گویند.

۴) سوالات ارتباطی

الف) سرد

۱- یکی از معیارهای مهم در ناحیه‌بندی طبیعی

ب) پشتو

۲- بارش دما در این آب و هوا برای رشد مخروطیان کافی است

ج) آب و هوا

۳- اصلی‌ترین بخش زنجیره‌ی غذایی است.

د) گیاهان سبز

۴- یکی از شاخه‌های زبان ایرانی

ه) پودزول

(۵) سؤالاتی که به صورت نمودار یا جدول است.

۱- جدول زیر را کامل کنید؟

ویژگی	ناحیه	نوع خاک
خاک سیاه بسیار غنی	معتدل	چرنوزیوم

۳- جدول زیر را کامل کنید:

انواع کوهها	یک ویژگی ظاهری	زمان پیدایش	نمونه مهم
کوههای جوان	(الف)	دوره ترشیاری	(ب)

الف) دندانه‌دار، مرتفع، پرشیب، نوکتیز، دره‌های عمیق یک مورد

ب) آلپ، آند، هیمالیا یک مورد

۴- جدول زیر را کامل کنید:

نوع مرز	ویژگی‌های مرز
تحمیلی	مرزهایی که بدون توجه به سیمای فرهنگی و قومی تعیین می‌شوند.
هندسی	مرزهایی که در آنها از خطوط نصف‌النهار، مدار یا خطوط مستقیم استفاده می‌شود که دارای شکل تقریباً منظمی هستند.
تطبیقی	مرزهایی که با توجه به سیمای فرهنگی و قومی تعیین می‌شوند.
پیشتاز	مرزهایی که در نواحی خالی از سکنه و قبل از استقرار اجتماعات انسانی ترسیم شده‌اند

۶) سوالات پاسخ کوتاه

۱- در شکل‌گیری ناهمواری‌های زیر فرسایش کاوشی دخالت

داشته یا فرسایش تراکمی؟

فرسایش تراکمی

الف) تپه‌های ماسه‌ای ساحلی

فرسایش کاوشی

ب) دریاوار

۲- در ارتباط با سواحل، به پرسش‌های زیر پاسخ دهید:

الف) چرا بیشتر جمعیت دنیا، در نواحی ساحل یا در فاصله‌ی اندکی از آن زندگی می‌کنند؟

شرایط مناسب طبیعی

ب) از کدام توان‌های محیطی سواحل برای تولید برق استفاده می‌شود؟

انرژی امواج قوی

(۷) سؤالاتی که عواملی یا شرایط را می‌خواهد

۱- بادهای محلی در چه شرایطی برای تولید برق بادی مناسب

هستند؟

سرعت زیاد- جهت ثابت وزش- مدت زمانی طولانی وزش

۸) سوآلاتی که هدف را می‌خواهد

- ۱- هدف بیشتر جهانگردانی که به قطب جنوب می‌آیند، چیست؟
دیدن چشم‌اندازهای زیبای این نواحی مانند شفق قطبی،
خورشید نیمه شب، اجتماع زیبای پنگوئن‌ها و وال‌های غول
پیکر و نیز پایگاه‌های تاریخی کاشفان اولیه قطب است.

۲- در مورد سازمان اوپک (کشورهای صادرکننده نفت) به پرسش‌های

زیر پاسخ دهید:

الف) نام دو عضو اولیه اوپک

عربستان- ایران- عراق- کویت- ونزوئلا (۲ مورد)

ب) هدف تشکیل سازمان اوپک

جلوگیری از کاهش قیمت نفت

ج) سال تشکیل اوپک

سال ۱۳۴۰ شمسی یا ۱۹۵۷ میلادی

۹) سؤالاتی که به دنبال دلایل موجود است و یا علت است.

۱- سواحل پست برای سکونت و فعالیت انسان مناسب‌ترند یا

سواحل مرتفع، چرا؟

سواحل پست- شیب مناسب

۲- چرا صنایع ذوب فلزات و صنایع غذایی در کنار معادن و مزارع

شکل می‌گیرند؟

به علت سنگین بودن صنایع ذوب فلزات و فاسد شدن مواد

غذایی

۱۰) سوالات توضیحی یا تعریفی

۱- امروزه برای ناحیه‌بندی از چه روش‌هایی استفاده می‌شود؟

از روش‌های جدید نقشه‌کشی، ۲۵ / ° تفسیر عکس‌های هوایی

۲۵ / ° سیستم‌های اطلاعات جغرافیایی و ۲۵ / ° بویژه

روش‌های آماری و ریاضی ۲۵ / ° استفاده می‌شود.

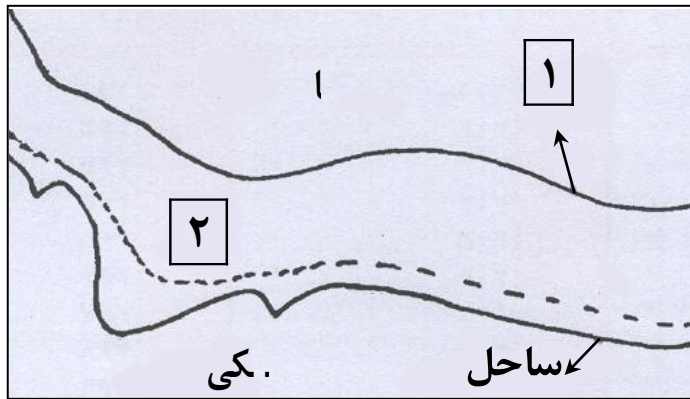
۱۱) سوالاتی که شکل مطرح است.

۱- در شکل زیر با توجه به مرزهای آبی، شماره‌های ۱ و ۲ را

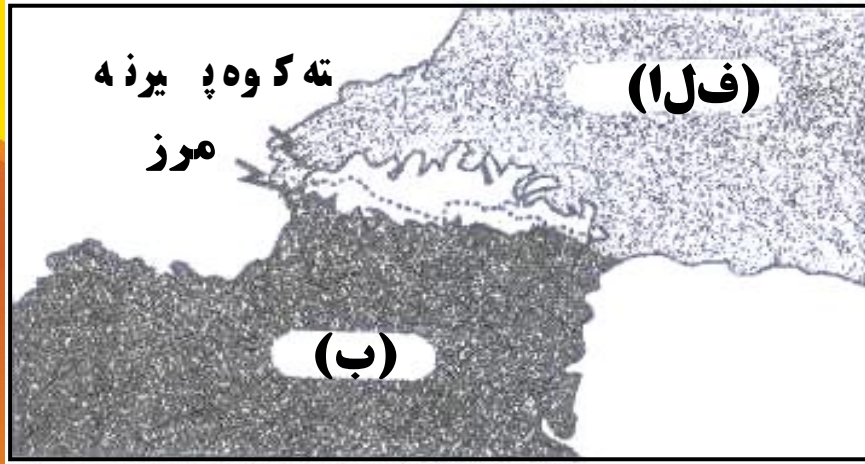
مشخص نمائید.

۱) خط مرزی (مرز دریایی)

۲) دریای سرزمینی



۳- رشته کوه پیرنه مرز طبیعی میان کدام کشورهاست؟



الف) فرانسه

ب) اسپانیا

(۱۲) سؤالاتی که مسئله و یا منحنی میزان مطرح است.

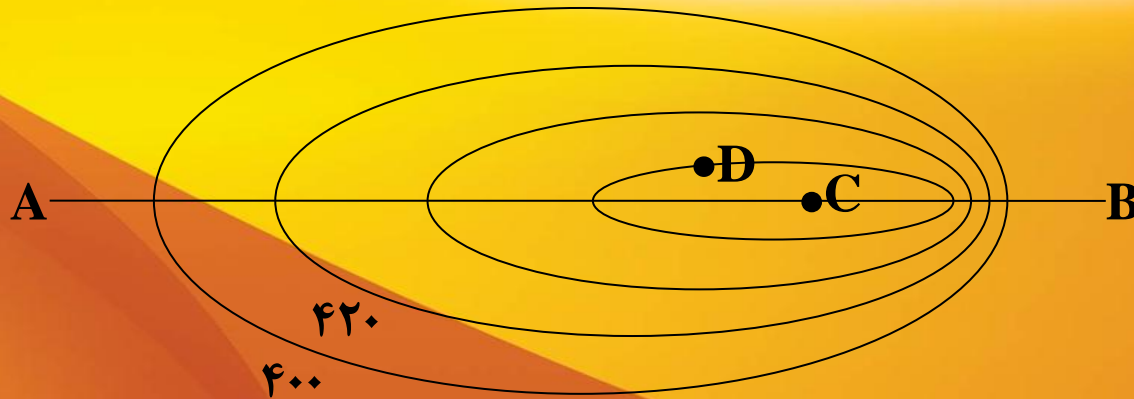
۱- بر روی نقشه‌ای با مقیاس $\frac{۱}{۲۰۰۰۰۰}$ طول کانالی ۸ سانتی‌متری است. طول کانال در روی زمین چند کیلومتر می‌باشد؟ (محاسبه بر روی پاسخ‌نامه نوشته شود)

$$\frac{۱}{۲۰۰۰۰۰} = \frac{۸}{x}$$

$$\frac{۱۶۰۰۰۰۰}{۱۰۰۰۰۰} = ۱۶$$

۱۲) سؤالاتی که مسئله و یا منحنی میزان مطرح است.

۲- با توجه به شکل مقابل، به موارد زیر پاسخ دهید:



الف) نیمرخ توپوگرافی را در امتداد AB رسم کنید.
ب) میزان شیب در امتداد CB بیشتر است یا CA؟
ج) ارتفاع نقطه D چند متر است؟

الف) رسم نیمرخ (۰/۵)
ب) CB (۰/۲۵) چون منحنی میزان ها بهم نزدیکتر هستند (۰/۲۵)
ج) قطعه D (۴۶۰ متر) (۰/۲۵)

