

گزینهدو



مؤسسه آموزشی فرهنگی

پایه هفتم  
دوره اول متوسطه

# \* ارزشیابی پیشرفت تحصیلی مرحله ۱۰ (۱۸ اردیبهشت ۱۴۰۴)

سال تحصیلی ۱۴۰۳-۱۴۰۴

عنوان	تعداد پرسش	از شماره	تا شماره	وقت پیشنهادی
فارسی	۱۵	۱	۱۵	۱۵ دقیقه
عربی	۱۰	۱۶	۲۵	۱۰ دقیقه
پیام های آسمان	۱۵	۲۶	۴۰	۱۵ دقیقه
زبان انگلیسی	۱۰	۴۱	۵۰	۱۰ دقیقه
مطالعات اجتماعی	۱۵	۵۱	۶۵	۱۵ دقیقه
ریاضی	۲۰	۶۶	۸۵	۵۰ دقیقه
علوم تجربی	۲۰	۸۶	۱۰۵	۳۵ دقیقه
از من تا خدا	۱۵	۱۰۶	۱۲۰	۱۵ دقیقه

مدت پاسخ گویی: ۱۵۰ دقیقه

تعداد کل پرسش ها: ۱۰۵

توجه:

\* این ارزشیابی، نمره منفی ندارد.

\* دانش آموزان با توجه به برنامه درسی مدرسه خود فقط به یک سری از پرسش های درس «پیام های آسمان» یا «از من تا خدا» پاسخ می دهند.



دانش آموز گرامی، شما می توانید با اسکن تصویر روبه روبه وسیله گوشی هوشمند و یا تبلت خود، پاسخ های تشریحی را مشاهده نمایید.



۱- معنای چه تعداد از واژه‌های زیر، نادرست نوشته شده است؟  
«بیزاری: تنفر / نوید: مژده / مکث: درنگ / تکلم: کامل شدن / محزون: متفکر / معصوم: پاک / فارغ: آسوده / استقلال: وابستگی»

- (۱) یک  
(۲) دو  
(۳) سه  
(۴) چهار

۲- در کدام گزینه جفت‌واژه «مترادف» دیده نمی‌شود؟

- (۱) به‌درستی که رسول خدا ﷺ برای شما آسوه و نمونه نیکویی است.  
(۲) توانستند لیاقت خود را به دیگران ثابت کنند، به‌طوری که آن‌ها را به پیشوایی و مقتدایی پذیرند.  
(۳) در آغاز سال تحصیلی با شاگردانش عهد و پیمانی داشت که به آن پای‌بند می‌ماند.  
(۴) گاه دقایقی طولانی به یک گل خیره می‌شد و نشاط عجیبی احساس می‌کرد.  
۳- در همه گزینه‌ها هر چهار واژه هم‌خانواده هستند، به‌جز گزینه .....

- (۱) مظهر - ظهور - اظهار - ظاهر  
(۲) تبعید - بعید - متعبد - معبود  
(۳) عطوفت - عاطفه - معطوف - عواطف  
(۴) تدفین - مدفون - دفن - دفینه

۴- در کدام گزینه غلط املایی وجود ندارد؟

- (۱) می‌توانیم از لحظه‌های زندگی لذت ببریم و جویبار باصفا و ذلال و گوارای زندگی را گل آلود نسازیم.  
(۲) این‌ها جزء زندگی است، مخصوصاً اگر با عمل و فکر و عبرت همراه باشد.  
(۳) شهید رجایی، معلمی متواضع و صمیمی و در کارش بسیار دقیق و جدی بود.  
(۴) حقایق اسلامی را با جامه زیبای شعر و نصر فارسی به زیباترین شکل، آرایش داده‌اند.

۵- در کدام گزینه نام صاحب هر دو اثر به‌درستی آمده است؟

- (۱) گل‌ونوروز: خواجه کرمانی / هفت‌پیکر: نظامی گنجه‌ای  
(۲) ما می‌توانیم: ویتاتو ژیلینسکای / کویر: علی شریعتی  
(۳) قصه‌های مجید: هوشنگ مرادی کرمانی / الهی‌نامه: اقبال لاهوری  
(۴) بهارستان: جامی / گلشن راز: عطار نیشابوری

۶- آرایه مربوط به کدام گزینه نادرست ذکر شده است؟

- (۱) سعدی اگر عاشقی کنی و جوانی  
(۲) از ظلمت خود ره‌هایی‌ام ده  
(۳) تو را توش هنر می‌باید اندوخت  
(۴) به جان زنده‌دلان سعدیا، که ملک وجود  
عشق محمد ﷺ بس است و آل محمد ﷺ (تکرار)  
با نور خود آشنایی‌ام ده (تضاد)  
حدیث زندگی می‌باید آموخت (تشبیه)  
نیرزد آنکه دلی را ز خود بیازاری (تشخیص)

۷- نقش دستوری بخش مشخص‌شده، در کدام گزینه به‌درستی آمده است؟

- (۱) خدا آن ملتی را سروری داد (مفعول)  
(۲) دلم در آتش غفلت مسوزان (نهاد)  
(۳) نگردد شاخک بی‌بن، برومند (مسند)  
(۴) زنگ تفریح را که زنجیره زد (متمم)

۸- زمان فعل در کدام گزینه با بقیه متفاوت است؟

- (۱) مرا در دام‌ها بسیار بستند  
(۲) صحبت مردانت از مردان کند  
(۳) گفت با چهره‌ای پر از خنده  
(۴) برزگری پند به فرزند داد



۹- با توجه به قطعه شعر زیر کدام گزینه نادرست است؟

همه گل‌های عالم آزمودم      ندیدم چون تو و عبرت نمودم  
چو گل بشنید این گفت و شنودم      بگفتا من گلی ناچیز بودم  
ولیکن مدتی با گل نشستیم

(۱) مصراع‌های سوم و چهارم، مجموعاً پنج جمله دارد.

(۲) در کل این قطعه شعر فقط از جمله خبری استفاده شده است.

(۳) در این قطعه شعر دو ضمیر جدا و یک ضمیر پیوسته به کار رفته است.

(۴) در مصراع اول ترکیب اضافی وجود دارد.

۱۰- در کدام گزینه، واژه «غیرساده» در جایگاه قافیه قرار گرفته است؟

(۱) گرفتیم آن گل و کردم خمیری      خمیری نرم و نیکو چون حریری

(۲) آفرین، جان آفرین پاک را      آنکه جان بخشید و ایمان، خاک را

(۳) به دانش گرای و بدو شو بلند      چو خواهی که از بد نیابی گزند

(۴) مکن دورم ز نزدیکان درگاه      به راه آور مرا، کافتادم از راه

۱۱- مفهوم کنایه به کاررفته در کدام گزینه به درستی بیان شده است؟

(۱) بال‌بالی بالش را بالا برد و خیلی آهسته پایین آورد و دیگر حرکتی نکرد و نفس آخر را کشید. (آسیب دیدن)

(۲) شما آن امام بت‌شکنی هستید که مدت چهل سال است نمازهای شب‌تان ترک نشده است. (ظلم‌ستیز بودن)

(۳) نمودش بس که دور آن راه نزدیک      شدش گیتی به پیش چشم، تاریک (به اشتباه افتادن)

(۴) دوستی خوب است که گفتارش درست و پسندیده باشد و در دلش ایمان موج بزند. (زیاده‌روی کردن)

۱۲- معنای کدام گزینه نادرست است؟

(۱) به‌رغم تلاش‌های دشمنان، واقعیت عکس این است. این‌ها چرا صلاح و پاکدامنی جوانان را نمی‌بینند؟

← (مانند تلاش‌های دشمنان، واقعیت همین‌گونه است. این‌ها چرا درستی و تقوای جوانان را نمی‌بینند؟)

(۲) مدت حیات صاحبان قبور که بر روی سنگ‌ها حک شده بود، هیچ‌کدام از ده سال تجاوز نمی‌کرد.

← (مدت زندگی دفن‌شدگان در قبرها که روی سنگ‌ها تراشیده شده بود، هیچ‌کدام بیش از ده سال نبود.)

(۳) از خداوند تعالی، سلامت و سعادت و ترقی برای شما نور چشمان، آرزو می‌کنم.

← (از خدای بلندمرتبه، سلامتی و خوشبختی و پیشرفت برای شما عزیزان آرزو می‌کنم.)

(۴) سر در خانه‌اش را به این بیت سعدی آراسته بود که امروز نوازشگر دیدگان رهگذران است.

← (بالای در خانه‌اش این بیت سعدی نوشته شده بود که امروز هم، عابران آن را می‌بینند.)

۱۳- کدام گزینه کاملاً به درستی معنا شده است؟

(۱) ماه فروماند از جمال محمد ﷺ      سرو نباشد به اعتدال محمد ﷺ

← (ماه از درک زیبایی پیامبر ﷺ ناتوان است و سرو نمی‌تواند عدالت پیامبر ﷺ را داشته باشد.)

(۲) رام تو نمی‌شود زمانه؟      رام از چه شدی؟ رمیدن آموز

← (اگر روزگار با تو همراه نمی‌شود، تو چرا تسلیم روزگار می‌شوی؟ تلاش و کوشش را بیاموز.)

(۳) بر نامده و گذشته بنیاد مکن      حالی خوش باش و عمر بر باد مکن

← (برای گذشته و آینده برنامه‌ریزی نکن؛ به حس‌وحال خودت توجه داشته باش و عمرت را هدر نده.)

(۴) فتاد از پای، کرد از عجز فریاد      ز شاخی مادرش آواز در داد

← (زمین خورد و از روی ناتوانی فریاد کشید تا مادرش از روی شاخه او را صدا بزند.)

۱۴- مفهوم کلی کدام گزینه درون پرانتز نادرست ذکر شده است؟

- (۱) کنون گر دست گیری، جای آن هست
  - (۲) از دی که گذشت، هیچ از او یاد مکن
  - (۳) بیاید هر دو پا محکم نهادن
  - (۴) برگ درختان سبز، در نظر هوشیار
- ۱۵- کدام گزینه با عبارت زیر مفهوم یکسانی دارد؟

«اگر من به این پیرمرد کمک کنم، خدا هم به من کمک خواهد کرد.»

- (۱) با خَلْق، به خَلْقِ زندگانی می‌کن
- (۲) به رفتن بُود خوش، دل شاد من
- (۳) نیکی کن، ای پسر، تو که نیکی به روزگار
- (۴) دل از دِبری کار، غمگین مدار



وقت پیشنهادی

عربی  
کل کتاب

۱۶- در کدام گزینه کلمه مشخص شده، درست ترجمه شده است؟

- (۱) كَانَ نَجَّارٌ وَ صَاحِبٌ صَدِيقَيْنِ. (ساختن)
- (۲) جَاءَ صَدِيقُهُ وَ اَعْطَاهُ مِفْتَاحاً ذَهَبِيًّا. (داد)
- (۳) يَدِيمَ الصَّيَادُ مِنْ عَمَلِهِ وَ قَالَ فِي نَفْسِهِ. (پشیمان شد)
- (۴) طَلَبَ مِنَ النَّجَّارِ وَلَكِنَّ النَّجَّارَ مَا قِيلَ. (نخواست)

۱۷- در کدام گزینه، متضاد کلمات، نادرست آمده است؟

- (۱) الْأَسْوَدُ/ الْأَبْيَضُ
- (۲) شِرَاءُ/ بَائِعٌ
- (۳) فَرَحٌ/ حَزَنٌ
- (۴) أَرَادِلٌ/ أَفَاضِلٌ

۱۸- کدام ترجمه، درست است؟

- (۱) «ضَرَبَ لَنَا مَثَلًا وَ نَسِيَ خَلْقَهُ»: مثالی زد و آفرینش خود را فراموش کرد.
- (۲) ذَهَبَ عِنْدَ صَدِيقِهِ وَ قَالَ هَذَا آخِرُ عَمَلِي: پیش دوستش رفت و گفت این آخرین کارم است.
- (۳) الشَّرْطِيُّ: «هَلْ عِنْدَكَ تَأْشِيرَةٌ»: پلیس: آیا تو پاسپورت داری؟
- (۴) يَالَيْتَنِي صَنَعْتُ هَذَا الْبَيْتَ جَيِّدًا: ای کاش این خانه را به خوبی ساخته بودی.

۱۹- ترجمه صحیح عبارت «الْمُسْلِمُ مَنْ سَلِمَ النَّاسُ مِنْ لِسَانِهِ وَ يَدِهِ»:

- (۱) مسلمان کسی است که مردم از زبانش و دستش سالم بمانند.
- (۲) مسلمانان کسانی هستند که مردم از دست و زبانشان در امان بمانند.
- (۳) مسلمان کسی است که مردم از دست و زبان او دور بمانند.
- (۴) مسلمانان کسانی هستند که مردم از دست و زبانش سالم بمانند.

۲۰- بیت زیر با کدام یک از عبارات ارتباط معنایی بیشتری دارد؟

- من اگر نیکم و گر بد تو برو خود را باش
- (۱) رَجِمَ اللَّهُ امْرَأً عَمِلَ عَمَلًا فَأَنْقَهَتْهُ.
- هرکسی آن درود عاقبت کار، که کشت
- (۲) خَيْرُ الْأُمُورِ أَوْسَطُهَا.
- (۳) عَدَاوَةُ الْعَاقِلِ خَيْرٌ مِنْ صَدَاقَةِ الْجَاهِلِ.
- (۴) مَنْ زَرَعَ الْعُدْوَانَ، حَصَدَ الْخُسْرَانَ.

۲۱- کدام گزینه برای جای خالی عبارت زیر، مناسب است؟

- «أَمْسَ كَانَ يَوْمَ الثَّلَاثَاءِ وَ عَدَا يَوْمٌ .....
- (۱) الإِثْنَيْنِ
- (۲) الجُمُعَةِ
- (۳) الخَمِيسِ
- (۴) الأَرْبَعَاءِ

۲۲- کدام گزینه جاهای خالی عبارت زیر را کامل می‌کند؟

- «الْعَرَابُ ..... وَ الرُّمَّانُ ..... وَ الْبَحْرُ ..... وَ الْمَوْزُ أَصْفَرٌ.»
- (۱) أَسْوَدٌ- أَبْيَضٌ- أُرْرُقٌ
- (۲) أُرْرُقٌ- أَسْوَدٌ- أَحْمَرٌ
- (۳) أَسْوَدٌ- أُرْرُقٌ- أَبْيَضٌ
- (۴) أَسْوَدٌ- أَحْمَرٌ- أُرْرُقٌ



۲۳- فعل ماضی مناسب برای عبارت «أَيُّهَا الطُّلَابُ لِمَاذَا ..... أَبْوَابَ الصُّفُوفِ» کدام گزینه است؟

- (۱) فَتَحَتْ (۲) فَتَحْتُ (۳) فَتَحْتُمْ (۴) مَا فَتَحْتُمَا

۲۴- کدام عبارت از نظر قواعد، نادرست است؟

- (۱) خَمْسَةٌ مِنَ الرِّجَالِ قَطَعَا الشَّبَكَةَ.  
(۲) أَيُّهَا النَّسَاءُ هَلْ وَقَفْتُنَّ فِي الْبَيْتِ؟  
(۳) هُوَ لَاءِ الْفَلَاحَاتِ حَصَدَنَّ الْمُحْصُولَ.  
(۴) إِثْنَانٍ مِنْ أَصْدِقَائِي دَهَبَا إِلَى الْبَحْرِ.

۲۵- با توجه به متن پاسخ دهید.

«ذَهَبْتُ سَمِيَّةً إِلَى بَيْتِ جَدَّتِهَا مَعَ شِيَمَاءَ وَ نَرَجِسَ لِمُسَاعَدَتِهَا. جَدَّةٌ سَمِيَّةٌ سَاكِنَةٌ فِي قَرْيَةٍ وَ بَيْتُهَا مَمْلُوءٌ بِالْأَشْجَارِ. هُنَّ وَصَلْنَ فِي يَوْمِ الْخَمِيسِ وَ نَظَرْنَ إِلَيْهَا بِإِتِسَامٍ ثُمَّ رَجَعْنَ بَعْدَ يَوْمَيْنِ بِالسِّيَارَةِ مِنْ هُنَاكَ.»  
كَيْفَ رَجَعْنَ مِنْ بَيْتِ جَدَّتِهَا؟

- (۱) رَجَعْنَ فِي يَوْمِ الْخَمِيسِ (۲) رَجَعْنَ بَعْدَ يَوْمَيْنِ (۳) رَجَعْنَ بِالسِّيَارَةِ (۴) رَجَعْنَ بِإِتِسَامٍ

## پیام‌های آسمان

کل کتاب



وقت پیشنهادی

۴

کلاس

۲۶- مطابق حدیث امام صادق علیه السلام شکر نعمت چیست؟

- (۱) شکر زبانی (۲) شکر عملی  
(۳) دوری از حرام (۴) انجام واجبات و ترک گناهان  
۲۷- مطابق آیه زیر، نتیجه ..... توسط مسلمانان، یاری شدن از جانب خدا با پنج هزار فرشته است.  
﴿بَلَىٰ إِنْ تَصْبِرُوا وَ تَتَّقُوا وَ يَأْتِكُمْ مِنْ فُورِهِمْ هَذَا يُدِدْكُمْ رَبُّكُمْ بِخَمْسَةِ آلَافٍ مِنَ الْمَلَائِكَةِ مُسَوِّمِينَ﴾  
(۱) دعا (۲) شکر نعمت  
(۳) صدقه دادن و خوش اخلاقی (۴) صبر و تقوا

۲۸- وقتی امام سجاد علیه السلام در شبی سرد کیسه گندم را حمل می کرد و در جواب فردی که خواست کیسه را به جای ایشان حمل کند، فرمود: «من باری که نجات دهنده من در سفرم است، از دوش خود بر نمی دارم ...»، منظور ایشان از سفر، کدام سفر است؟

- (۱) سفر در شهر جهت کمک به نیازمندان (۲) سفر به شهری دیگر جهت کمک به نیازمندان  
(۳) سفر از خودخواهی به صدقه دادن و کمک به دیگران (۴) سفر مرگ

۲۹- همه گزینه‌های زیر درباره فداکاری و از خودگذشتگی حضرت علی علیه السلام است، به جز گزینه .....  
(۱) با صدای بلند خواندن آیات مهم سوره توبه در میان مشرکان بی رحم مکه.  
(۲) رفتار کردن مانند سایر مسلمانان با خانواده و نزدیکان خود در حقوق عمومی و مسائل اجتماعی.  
(۳) جنگیدن در کنار رسول خدا صلی الله علیه و آله در جنگ احد در شرایط سخت به شهادت رسیدن و گریختن گروهی از مسلمانان.  
(۴) خوابیدن در بستر پیامبر اکرم صلی الله علیه و آله در لیلۃ المبیت.

۳۰- خوشحال شدن حضرت فاطمه علیها السلام از اینکه پیامبر صلی الله علیه و آله کارهای بیرون از خانه را بر عهده حضرت علی علیه السلام گذاشت و کارهای داخل خانه را بر عهده ایشان گذاشت، کدام صفت ایشان را نشان می دهد؟

- (۱) حیا و عفت (۲) حضور در اجتماع  
(۳) علاقه شدید به پیامبر صلی الله علیه و آله (۴) اهمیت دادن به خانواده و خانه داری

۳۱- کدام گزینه پیام آیه زیر است؟

﴿وَ عَسَىٰ أَنْ تَكْرَهُوا شَيْئًا وَ هُوَ خَيْرٌ لَكُمْ وَ عَسَىٰ أَنْ تُحِبُّوا شَيْئًا وَ هُوَ شَرٌّ لَكُمْ وَ اللَّهُ يَعْلَمُ وَ أَنْتُمْ لَا تَعْلَمُونَ﴾

- (۱) چیزهایی که انسان دوست دارد، برایش بهتر است.  
(۲) حتماً چیزی که از آن بدمان می آید، برای ما بهتر است.  
(۳) خدا بهتر از خود ما به سود و زیان ما آگاه است.  
(۴) انسان با توجه به عقل، سود و زیانش را تشخیص می دهد.

- ۳۲- مینا دهانش خون آمد و خون دهانش روی ظرفی که در آن غذا می خورد، ریخت. او چگونه می تواند ظرف را پاک کند؟
- (۱) با آب قلیل یک مرتبه آب بکشد.
  - (۲) با آب پارچ دو مرتبه آب بکشد.
  - (۳) با آب سطل که ۸ لیتر آب دارد، دو مرتبه آب بکشد.
  - (۴) با آب شیر آشپزخانه یک مرتبه آب بکشد.
- ۳۳- مطابق فرمایش امام باقر علیه السلام ..... به صورتی درخشان به سوی صاحبش برمی گردد و می گوید: تو مرا خوب حفظ کردی، خداوند هم تو را حفظ کند.
- (۱) نمازی که به جماعت خوانده شود.
  - (۲) نمازی که در اول وقت خوانده شود.
  - (۳) حجابی که زن دارد.
  - (۴) علمی که انسان می آموزد.
- ۳۴- کدام نماز صحیح است؟
- (۱) مرضیه یادش رفت تشهد را در رکعت چهارم بگوید.
  - (۲) سارا یادش رفت «تکبیرة الاحرام» نماز را بگوید.
  - (۳) امیرحسین به دلیل خستگی، نماز مغربش را نشسته خواند.
  - (۴) مجید به اشتباه در رکعت سوم، دو بار رکوع را به جا آورد.
- ۳۵- در نماز جماعت اگر به اشتباه پیش از امام جماعت، سر از رکوع بردارید، چنانچه امام هنوز در رکوع باشد، باید .....  
  - (۱) به رکوع برگردید و به سجده بروید؛ زیرا رکوع، رکن نماز است و نباید دو بار بجا آورده شود.
  - (۲) به رکوع برگردید و به سجده بروید؛ زیرا رکوع از ارکان نماز نیست.
  - (۳) به رکوع برگردید؛ زیرا رکوع از ارکان نماز نیست.
  - (۴) به رکوع برگردید و با امام سر بردارید، در این صورت زیاد شدن رکوع که رکن نماز است، نماز را باطل نمی کند.
- ۳۶- پوشاندن تمام بدن به جز ..... برای زنان واجب است.  
  - (۱) صورت
  - (۲) صورت و دستها (از مچ تا انگشتان)
  - (۳) صورت و دستها (از مچ تا انگشتان) و پاها (از مچ تا انگشتان)
  - (۴) صورت و دستها (از مچ تا انگشتان) و موهای جلوی سر
- ۳۷- موفقیت های علمی مسلمانان همواره در چه زمان هایی روی می داد؟ در زمان های .....  
  - (۱) توجه جدی به نماز - اقامه نماز جماعت میان مسلمانان
  - (۲) کسب علم و دانش - اقامه نماز جماعت میان مسلمانان
  - (۳) توجه جدی به کسب علم و دانش - غفلت نکردن از احکام و تعالیم اسلامی
  - (۴) رعایت حجاب و عفت - غفلت نکردن از احکام و تعالیم اسلامی
- ۳۸- مطابق حدیث امیر مؤمنان علیه السلام چرا انسان پیش از آنکه کسی را به دوستی برگزیند، باید او را امتحان کند؟  
  - (۱) تا بفهمد او اوقات نماز را رعایت می کند و نیکی به هموعان می کند یا خیر.
  - (۲) تا به راست گویی و امانت داری اش مطمئن شود.
  - (۳) تا دچار خیانت در دوستی نشود.
  - (۴) تا گرفتار هم نشینی با بدان نشود.
- ۳۹- آیه زیر درباره کدام یک از ویژگی های «دوست خوب» است؟  
 ﴿وَالَّذِينَ هُمْ لِأَمَانَاتِهِمْ وَعَهْدِهِمْ رَاعُونَ﴾
- (۱) اهل نماز
  - (۲) اهل نیکی
  - (۳) وفای به عهد
  - (۴) راست گویی
- ۴۰- امام صادق علیه السلام فرمود: «از ..... و ..... به شدت پرهیز؛ زیرا که این دو، هم دنیا را از تو خواهند گرفت و هم آخرت را.»  
  - (۱) عجله - تنبلی
  - (۲) تنبلی - بی حالی
  - (۳) عجله - بی حالی
  - (۴) دروغ گویی - خیانت در امانت



48-Choose the correct item.

- گزینه درست را انتخاب کنید.

"This is the picture of a  ..... and 1390/04/05 is a ..... in English."

- 1) date - date
- 2) year - date
- 3) year - year
- 4) date - year

■ Read the text below and answer the questions.

- متن زیر را بخوانید و به پرسش‌های مربوط به آن پاسخ دهید.

"My name is Bahar. I am fourteen years old and my mother, Zahra, is forty. Today is July 29. My birthday is on July 25 and my mother's birthday is tomorrow\*. My mother is going to make a cake. She makes cakes for all birthdays in our family, but she doesn't like\* to eat them\*. I can eat cake again and I am happy."

\*tomorrow: فردا

\*doesn't like: دوست ندارد

\*them: آن‌ها را

49- Which item is true according to the given text?

- با توجه به متن داده‌شده، کدام گزینه درست است؟

A: When's Zahra's birthday?

B: .....

- 1) July 28.
- 2) July 25.
- 3) July 29.
- 4) July 30.

50- Choose the true item according to the given text.

- با توجه به متن داده‌شده، گزینه درست را انتخاب کنید.

- 1) Bahar's mother likes to eat cakes.
- 2) Bahar and her mother's birthday is in July.
- 3) Bahar is 40.
- 4) Bahar is going to make a cake.



وقت پیشنهادی

## مطالعات اجتماعی

کل کتاب

ADS

V

۵۱- در کتاب «اوستا» کدام نوع از پزشکان نام برده شده است؟

- (۱) پزشک اعصاب، روان و جان
- (۲) پزشک دعا، پزشک معمولی و جراح
- (۳) پزشک معمولی، روان و اعصاب
- (۴) پزشک دعا، جان و پزشک معمولی

۵۲- تاریخ خط در ایران باستان به چه زمانی برمی‌گردد؟

- (۱) به زمان هخامنشیان
- (۲) به زمان اشکانیان
- (۳) به قبل از مهاجرت آریایی‌ها
- (۴) به زمان بعد از حمله اسکندر مقدونی

۵۳- کدام عبارت در مورد «زمان پیدایش نوروز» صحیح است؟

- (۱) زمان پیدایش نوروز به‌درستی معلوم نیست.
- (۲) زمان پیدایش نوروز به پایه‌گذاری سلسله هخامنشی برمی‌گردد.
- (۳) زمان دقیق پیدایش نوروز به زمان تاج‌گذاری جمشید برمی‌گردد.
- (۴) این زمان مربوط به تأسیس تخت‌جمشید است و آغاز سال جدید شمسی با آن هم‌زمان است.

پایه ۷ دوره اول متوسطه (سال تحصیلی ۱۴۰۳-۱۴۰۴)



۵۴- طبق نوشته‌های «هرودوت»، ایرانیان باستان به فرزندان خود چه چیزهایی می‌آموختند؟

- (۱) راست‌گویی - چوگان‌بازی - شنا  
 (۲) شنا - تیراندازی - راست‌گویی  
 (۳) چوگان‌بازی - سوارکاری - تیراندازی  
 (۴) تیراندازی - راست‌گویی - سوارکاری

۵۵- مهم‌ترین محصولات کشاورزی در ایران باستان کدام مورد است؟

- (۱) جو - گندم  
 (۲) پنبه - جو  
 (۳) پنبه - برنج  
 (۴) گندم - برنج

۵۶- در زمان حکومت ساسانی، ارزشمندترین و پرسودترین کالای تجاری صادرات چین به ایران و دیگر سرزمین‌ها، چه کالایی بوده است؟

- (۱) کوزه‌های سفالی  
 (۲) چای  
 (۳) ابریشم  
 (۴) صندل‌های چوبی

۵۷- در کدام دوره تاریخی (ایران باستان)، شهرهای بسیاری بنا گردید، به شکلی که جمعیت شهری به‌طور چشمگیری افزایش یافت؟

- (۱) در دوره هخامنشیان  
 (۲) در دوره ساسانیان  
 (۳) در دوره اشکانیان  
 (۴) در دوره مادها

۵۸- در کدام گزینه پایتخت‌های ساسانیان به‌درستی بیان شده است؟

- (۱) بابل و صدرروازه  
 (۲) همدان و تخت‌جمشید  
 (۳) صدرروازه و تیسفون  
 (۴) تیسفون و گور

۵۹- بر اساس خط زمان، میلاد حضرت عیسی علیه‌السلام در زمان حکومت کدام سلسله ایرانی اتفاق افتاده است؟

- (۱) ساسانیان  
 (۲) اشکانیان  
 (۳) مادها  
 (۴) هخامنشیان

۶۰- کدام پیامبر بزرگ الهی در فلسطین متولد شد؟

- (۱) حضرت عیسی علیه‌السلام  
 (۲) حضرت ابراهیم علیه‌السلام  
 (۳) حضرت موسی علیه‌السلام  
 (۴) حضرت نوح علیه‌السلام

۶۱- مسجد تاریخی گوهرشاد در کدام شهر ایران قرار دارد؟

- (۱) ری  
 (۲) شیراز  
 (۳) یزد  
 (۴) مشهد

۶۲- چرا بیشتر رودهای پر آب ایران قابل کشتیرانی نیستند؟

- (۱) به سبب وجود ناهمواری‌های بسیار در کف رودخانه‌ها  
 (۲) به سبب وجود سدهای متعدد بر روی این رودها  
 (۳) به سبب جاری شدن از شیب‌های تند کوهستانی  
 (۴) به سبب پیچ‌وخم‌های متعدد در مسیر عبور این رودها

۶۳- مهم‌ترین عامل انقراض و نابودی برخی گونه‌های زیستی در ایران کدام مورد است؟

- (۱) فعالیت‌های زمین‌شناختی  
 (۲) فعالیت‌های جوی مانند طوفان  
 (۳) تغییرات اقلیمی به سبب بادهای خورشیدی  
 (۴) فعالیت‌های نادرست انسان‌ها

۶۴- بلندترین قله ایران در شمال‌غربی، کدام قله است؟

- (۱) سیلان  
 (۲) علم‌کوه  
 (۳) زردکوه  
 (۴) تفتان

۶۵- هدایت و نظارت بر عملکرد «بیمه ایران» بر عهده کدام یک از موارد زیر است؟

- (۱) سازمان خدمات اجتماعی  
 (۲) بیمه مرکزی جمهوری اسلامی ایران  
 (۳) مجلس شورای اسلامی به‌عنوان قوه مقننه  
 (۴) دولت به‌عنوان قوه مجریه



۶۶- محل برخورد هر سه سطح منشور چه نام دارد؟

- (۱) قاعده (۲) رأس (۳) یال (۴) وجه

۶۷- دمای رشت ۴ درجه بالای صفر است. دمای تبریز ۱۰ درجه سردتر از رشت و دمای شیراز ۱۴ درجه گرمتر از تبریز است. مجموع دمای ۳ شهر، کدام است؟

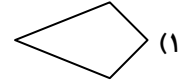
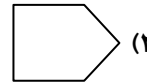

- (۱) -۶ (۲) -۲ (۳) ۶ (۴) ۸

۶۸- حاصل عبارت A کدام است؟

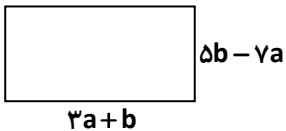
$$A = 4 \times (-3)^2 - 9 \div (-3)$$

- (۱)  $-\frac{4}{3}$  (۲) ۳۹ (۳) -۳۳ (۴) ۳۶

۶۹- کدام شکل، چندضلعی مقعر است؟



۷۰- محیط مستطیل زیر به صورت یک عبارت جبری برابر با کدام گزینه است؟



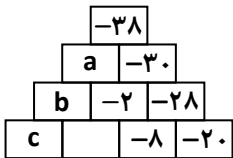
(۱)  $-4a+6b$

(۲)  $-8a+12b$

(۳)  $-4a+5b$

(۴)  $-8a+10b$

۷۱- در شکل زیر با توجه به الگوی اعداد، حاصل  $a+b+c$  برابر با کدام گزینه است؟



(۱) -۲۶

(۲) ۱۴

(۳) -۱۲

(۴) ۱۲

۷۲- مقدار عددی عبارت  $(m+n-1)(n-mn+1)$  به ازای  $m=-2$  و  $n=2$  برابر با کدام گزینه است؟

- (۱) +۱ (۲) صفر (۳) -۱ (۴) -۷

محل انجام محاسبات



۷۳- اگر به اندازه زاویه‌ای ۲۰ درجه اضافه کنیم، حاصل آن از متمم همان زاویه ۱۰ درجه کمتر می‌شود. اندازه این زاویه چند درجه است؟

- (۱) ۷۵ (۲) ۶۰ (۳) ۵۰ (۴) ۳۰

۷۴- رخ دادن کدام اتفاق، حتمی است؟

- (۱) در پرتاب سکه، «پشت» بیاید.  
 (۲) در یک روز بهاری باران بیاید.  
 (۳) در پرتاب تاس، عدد یک رقمی بیاید.  
 (۴) در پرتاب تاس، عدد اول بیاید.

۷۵- دو جعبه به شکل منشور داریم که حجم‌های برابر دارند. یکی از جعبه‌ها قاعده‌ای به شکل ۱۰ ضلعی منتظم با مساحت ۱۶۰

سانتی‌متر مربع دارد به طوری که ارتفاع این جعبه ۵ سانتی‌متر است و جعبه دیگر قاعده‌ای به شکل لوزی دارد که یکی از قطرهای لوزی ۱۶ سانتی‌متر و ارتفاع این جعبه ۱۰ سانتی‌متر است. قطر دیگر این لوزی چند سانتی‌متر است؟

- (۱) ۵ (۲) ۲ (۳) ۱۰ (۴) ۲۰

۷۶- کدام یک از عددهای زیر، فقط یک شمارنده اول دارد؟

- (۱) ۹۱ (۲) ۱۰۱ (۳) ۱۱۱ (۴) ۱۴۱

۷۷- حاصل عبارت زیر برابر با کدام گزینه است؟

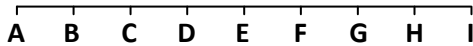
$$\frac{(24 \text{ و } 16) \times [3 \text{ و } 12]}{(4 \text{ و } 9 \text{ و } 25)}$$

- (۱) ۲۴ (۲) ۴۸ (۳) ۹۶ (۴) ۱۹۲

۷۸- جمله ۷۲ام در الگوی  $\frac{1}{4}, \frac{2}{5}, \frac{1}{2}, \frac{4}{7}, \frac{5}{8}, \dots$  برابر با کدام گزینه است؟

- (۱)  $\frac{24}{25}$  (۲)  $\frac{72}{73}$  (۳)  $\frac{72}{74}$  (۴)  $\frac{24}{27}$

۷۹- پاره خط AI به ۸ قسمت مساوی تقسیم شده است. کدام گزینه درست است؟



- (۱)  $\overline{BD} = \frac{2}{7} \overline{BH}$  (۲)  $\overline{CD} + \overline{EG} = \frac{2}{5} \overline{CH}$  (۳)  $\overline{AG} = 2\overline{FI}$  (۴)  $\overline{FG} = \frac{1}{4}(\overline{CF} + \overline{GI})$

۸۰- حاصل عبارت  $49 \times 7^{11} \times 16 \times 2^9$  به صورت عددی توان‌دار برابر با کدام گزینه است؟

- (۱)  $9^{13}$  (۲)  $9^{26}$  (۳)  $14^{26}$  (۴)  $14^{13}$

۸۱- اگر  $A = \begin{bmatrix} -2 \\ 0 \\ 4 \end{bmatrix}$  و  $B = \begin{bmatrix} 0 \\ 4 \end{bmatrix}$  و مثلث ABC متساوی‌الساقین باشد، مختصات نقطه C برابر با کدام گزینه می‌تواند باشد؟

- (۱)  $\begin{bmatrix} 4 \\ 0 \end{bmatrix}$  (۲)  $\begin{bmatrix} -4 \\ 4 \end{bmatrix}$  (۳)  $\begin{bmatrix} 0 \\ -2 \end{bmatrix}$  (۴)  $\begin{bmatrix} 4 \\ -4 \end{bmatrix}$

محل انجام محاسبات

۸۲- مجموع مجذور عدد ۵- و مکعب عدد ۰/۲ کدام است؟

- (۱) ۲۵/۰۰۸ (۲) ۰/۰۳۳ (۳) -۲۴/۹۹۲ (۴) -۰/۰۱۷

۸۳- مقدار  $x$  در عبارت  $\sqrt{\frac{9}{\sqrt{0.081}}} = 2(x+3)$  کدام است؟

- (۱) ۰/۲ (۲) ۲ (۳)  $\frac{100}{3}$  (۴) ۴۷

۸۴- اگر  $\overline{DE} = \begin{bmatrix} -4 \\ 7 \end{bmatrix}$  و مختصات نقطه  $D$  برابر با قرینه نقطه  $A = \begin{bmatrix} 6 \\ -3 \end{bmatrix}$  نسبت به محور طولها باشد، مختصات نقطه  $E$  کدام است؟

- (۱)  $\begin{bmatrix} 2 \\ 10 \end{bmatrix}$  (۲)  $\begin{bmatrix} 10 \\ -4 \end{bmatrix}$  (۳)  $\begin{bmatrix} -10 \\ 4 \end{bmatrix}$  (۴)  $\begin{bmatrix} -2 \\ -10 \end{bmatrix}$

۸۵- نقطه  $M = \begin{bmatrix} 3a+6 \\ b-11 \end{bmatrix}$  روی مبدأ مختصات قرار دارد. حاصل  $a+b$  برابر با کدام گزینه است؟

- (۱) -۱۳ (۲) -۹ (۳) ۱۱ (۴) ۹



وقت پیشنهادی

## علوم تجربی

کل کتاب

۸۶- سینا هنگام ورود به آزمایشگاه با دیدن موادی مثل گوگرد، نمک، نفت و جوهرنمک، این سؤال برایش ایجاد می‌شود: «آیا همه این مواد در آب حل می‌شوند؟» او با هم گروهی‌هایش پیش‌بینی می‌کنند که فقط بعضی از این مواد در آب حل می‌شوند. او با دوستانش در هر بشر مقدار یک قاشق از این مواد ریخته و سپس آب ریخته و هم می‌زنند. با توجه به این موقعیت، دانش‌آموزان کدام مهارت یادگیری علوم را در قسمتی که زیر آن خط کشیده شده به کار گرفته شده‌اند؟

(۱) فرضیه‌سازی (۲) طبقه‌بندی مواد

(۳) انجام آزمایش برای بررسی یک پرسش (۴) مقایسه مواد از نظر رنگ و شکل

۸۷- ترازوی دیجیتالی با دقت ۰/۰۱ گرم در اختیار داریم. این ترازو کدام مقدار زیر را نمی‌تواند اندازه‌گیری کند؟

(۱) ۲۸ گرم (۲) ۲۸ میلی‌گرم

(۳) ۲/۸ کیلوگرم (۴) ۰/۲۸ گرم

۸۸- در کدام گزینه ذرات سازنده هر سه ماده مولکول است؟

(۱) کربن‌دی‌اکسید- متان- جیوه

(۲) متان- گاز اکسیژن- گوگرد

(۳) مس- آلومینیم- جیوه (۴) طلا- نقره- آب

محل انجام محاسبات

۸۹- منبع تهیه کدام یک درست است؟

- (۱) الماس ← از ماسه  
(۲) شیشه ← از سنگ معدن  
(۳) گوگرد ← از لابه‌لای سنگ‌های رسوبی  
(۴) سیمان ← از سنگ آهک

۹۰- چرا مس برای ساختن قاشق و چنگال انتخاب مناسبی نیست؟

- (۱) استحکام کمی دارد.  
(۲) اکسید می‌شود.  
(۳) رسانای الکتریسته است.  
(۴) چگالی زیادی دارد.
- ۹۱- کدام گزینه ویژگی‌های رودهایی که در مناطق کوهستانی جریان دارند را به‌درستی بیان کرده است؟

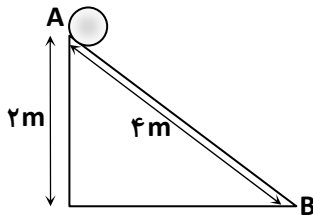
- (۱) سرعت زیاد و مسیر مستقیم  
(۲) سرعت کم و مسیر مستقیم  
(۳) سرعت زیاد و مسیر مارپیچ  
(۴) سرعت کم و مسیر مارپیچ

۹۲- در کدام منطقه احتمالاً عمق سطح ایستابی بیشتر است؟

- (۱) مناطق آبرفتی  
(۲) مناطقی که شیب زمین زیاد است.  
(۳) مناطقی که شدت بارندگی زیاد است.  
(۴) مناطقی که پوشش گیاهی مناسب وجود دارد.

۹۳- از بالای سطح شیب‌داری که تا سطح زمین ۲ متر ارتفاع دارد. گلوله‌ای به جرم ۲۵۰ گرم رها می‌شود. کار نیروی وزن در این

جابه‌جایی چند ژول است؟



- (۱) ۲/۵  
(۲) ۵  
(۳) ۵۰۰  
(۴) ۱۰

۹۴- کدام منبع انرژی از نظر سرعت جایگزین شدن با بقیه متفاوت است؟

- (۱) انرژی باد  
(۲) سوخت فسیلی  
(۳) انرژی خورشیدی  
(۴) سوخت زیستی

۹۵- برای اینکه فلاسک خلأ بهتری بسازیم کدام تغییرات کمک‌کننده نیست؟

- (۱) استفاده از داماسنج دیجیتال روی درب  
(۲) جایگزین کردن بطری شیشه‌ای دوجداره به جای تک‌جداره  
(۳) عایق‌بندی کردن درب بطری  
(۴) روشن کردن رنگ بدنه

۹۶- قالب یخی را بر روی سطح آب یک ظرف قرار می‌دهیم. کدام شکل جریان همرفتی درون آب را به‌درستی نشان می‌دهد؟



محل انجام محاسبات

۹۷- فرماندهی سلول بر عهده کدام بخش است؟

- (۱) هسته (۲) میتوکندری (۳) غشای سلولی (۴) شبکه آندوپلاسمی

۹۸- کدام یک از مواد زیر محصول اولیه فتوسنتز است؟

- (۱) نشاسته (۲) فروکتوز (۳) لاکتوز (۴) گلوکز

۹۹- وجود ید در رژیم غذایی افراد به کدام یک از موارد زیر کمک می‌کند؟

- (۱) جلوگیری از کم‌خونی (۲) فعالیت سلول‌های عصبی (۳) تنظیم فعالیت یاخته‌ها و رشد بدن (۴) استحکام دندان‌ها

۱۰۰- کدام مورد از وظایف آنزیم‌های موجود در بزاق دهان است؟

- (۱) تجزیه پروتئین (۲) تجزیه شکر (۳) تجزیه گلوکز (۴) تجزیه نشاسته

۱۰۱- اگر فردی در دوره رشد، به‌طور مداوم از برنج، نان و ماکارونی استفاده کند و فعالیت بدنی کمی داشته باشد، کدام گزینه بهترین

نتیجه احتمالی این وضعیت را نشان می‌دهد؟

- (۱) بدن او از کربوهیدرات‌ها برای ساخت عضله استفاده می‌کند و وزنش کاهش می‌یابد.  
 (۲) کبد مقدار اضافی کربوهیدرات‌ها را به چربی تبدیل می‌کند و احتمال اضافه وزن افزایش می‌یابد.  
 (۳) مصرف زیاد کربوهیدرات‌ها باعث کمبود وزن و ابتلا به پوکی استخوان می‌شود.  
 (۴) چون کربوهیدرات‌ها منبع انرژی هستند، هرچه بیشتر مصرف شوند برای سلامتی بهتر است.

۱۰۲- خون روشن ابتدا وارد کدام حفره قلب می‌شود؟

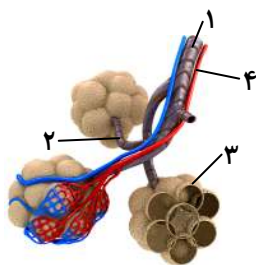
- (۱) بطن راست (۲) دهلیز راست (۳) بطن چپ (۴) دهلیز چپ

۱۰۳- کدام یاخته‌ها در هنگام خونریزی، از هدر رفتن خون جلوگیری می‌کنند؟

- (۱) گویچه‌های قرمز (۲) گرده‌ها (۳) گویچه‌های سفید (۴) یاخته‌های سفید و گرده‌ها

۱۰۴- در شکل زیر محل مبادله گازهای تنفسی با خون با کدام عدد نشان داده شده است؟

- (۱) ۱  
 (۲) ۲  
 (۳) ۳  
 (۴) ۴



۱۰۵- لوله‌های جمع‌کننده، ادرار را مستقیماً به کدام بخش می‌ریزند؟

- (۱) نفرون (۲) لوله خمیده مجاور (۳) لگنچه (۴) مثانه

محل انجام محاسبات



۱۰۶- «بندگی خدا» به چه معناست؟

- (۱) دوست داشتن خدا  
(۳) ایمان داشتن به خدا  
(۲) شناخت خدا  
(۴) اطاعت از خدا

۱۰۷- آیه مبارکه زیر درباره کدام موضوع سخن می گوید؟

﴿وَمِنَ النَّاسِ مَنْ يَشْرِي نَفْسَهُ ابْتِغَاءَ مَرْضَاتِ اللَّهِ﴾

الف) حضرت علی علیه السلام

ب) هجرت به مدینه

ج) فداکاری

(۱) «الف»- «ب» (۲) «الف»- «ج» (۳) «ب»- «ج» (۴) «الف»- «ب»- «ج»

۱۰۸- سن بلوغ برای دختران کدام است؟

- (۱) پایان پانزده سال قمری  
(۳) ابتدای پانزده سال قمری  
(۲) پایان نه سال قمری  
(۴) ابتدای نه سال قمری

۱۰۹- «عادل بودن» که از شرایط مرجع تقلید است به چه معناست؟

- (۱) در قضاوت، حق و حقوق همه را به درستی رعایت کند.  
(۲) دنیاطلب و دروغگو نباشد و حق را بگوید هرچند به ضرر خودش باشد.  
(۳) از همه داناتر باشد و از مجتهدان دیگر به دین بیشتر آشنا باشد.  
(۴) واجبات الهی را انجام داده و کارهای حرام را ترک کرده باشد.

۱۱۰- گزاره درست درباره یاد خدا و ایمان به خدا در کدام گزینه آمده است؟

- (۱) یاد خدا = آرامش + ایمان به خدا  
(۲) ایمان به خدا = آرامش + یاد خدا  
(۳) آرامش = یاد خدا + ایمان به خدا  
(۴) ذکر خدا = آرامش + ایمان به خدا

۱۱۱- قوم حضرت نوح علیه السلام به او چه نسبت های بدی می دادند؟

- (۱) گمراه- فقیر- دیوانه  
(۳) ثروت طلب- دیوانه- دروغگو  
(۲) ثروت طلب- دروغگو- گمراه  
(۴) گمراه- دیوانه- دروغگو

۱۱۲- کدام یک از آیات زیر، عاقبت ناسپاسی انسان ها را بیان می کند؟

- (۱) ﴿وَمَا خَلَقْتُ الْجِنَّ وَالْإِنْسَ إِلَّا لِيَعْبُدُونِ﴾  
(۳) ﴿لَئِنْ كَفَرْتُمْ إِنَّ عَذَابِي لَشَدِيدٌ﴾  
(۲) ﴿وَإِنْ تَعَدَّوْا نِعْمَةَ اللَّهِ لَا تُحْصَوْهَا﴾  
(۴) ﴿سَأَلْ سَائِلٌ بِعَذَابٍ وَاقِعٍ﴾

۱۱۳- گزینه نادرست را انتخاب کنید.

- (۱) کاسب دوست خداوند است.  
(۲) حق الناس اگر کم باشد، دیگر حق الناس نیست.  
(۳) قارون می گفت من ثروتم را با دانش خودم به دست آورده ام.  
(۴) شکرگزاری انسان را از خطر احساس محرومیت دور می کند.

۱۱۴- محمود تعمیرکار لوازم خانگی است، ولی هرچه کار می کند، پولش برکت ندارد و درآمد چندانی به دست نمی آورد. کدام مورد

می تواند به او کمک کند؟

- (۱) شغلش را عوض کند.  
(۳) به پدر و مادرش نیکی کند.  
(۲) با تلاش کارش را باز بیشتر کند.  
(۴) اجرت کارش را کمی بیشتر بگیرد، ولی منصفانه باشد.

۱۱۵- کدام مورد سخن امام کاظم علیه السلام را کامل می کند؟

«امام کاظم علیه السلام می فرماید: «خداوند به خاطر هیچ چیز مثل ستمی که به ..... و ..... می شود، خشمگین نمی شود.»

(۱) زنان - بچه ها

(۲) مظلومان - فقیران

(۳) فقیران - ستمدیدگان

(۴) زنان - مظلومان

۱۱۶- حکم هریک از کارهای زیر به ترتیب از راست به چپ در کدام گزینه درست آمده است؟

الف) فحش دادن

ب) دروغ گفتن

(۱) حرام - حرام

(۲) حرام - مکروه

(۳) مکروه - حرام

(۴) مکروه - مکروه

۱۱۷- آیه زیر، راه حل کدام مشکل است؟

﴿الْم تَكُنْ أَرْضُ اللَّهِ وَاسِعَةً فَتُهَاجِرُوا فِيهَا﴾

(۱) خانم علوی همسر بد اخلاقی دارد.

(۲) خانم میرزایی پدر و مادر پیر و ناتوان دارد.

(۳) آقای امیری در کار و کاسبی خود، حق الناس را رعایت نمی کند.

(۴) آقای حسینی در کشوری زندگی می کند که نمی تواند احکام الهی را مراعات کند.

۱۱۸- این جملات از زبان چه کسی به چه کسی گفته شده است؟

«از شما می خواهم درباره اسلام به صورت جدی تحقیق کنید و این نه به خاطر نیاز اسلام و مسلمین به شماسست، بلکه به جهت

ارزش های والا و جهان شمول اسلام است ...»

(۱) آیت الله خمینی <sup>(ه)</sup> - گورباچف

(۲) آیت الله خامنه ای - گورباچف

(۳) آیت الله خمینی <sup>(ه)</sup> - کارتر

(۴) آیت الله خامنه ای - کارتر

۱۱۹- امیرمحمد دستش زخم شده و روی همان زخم را پانسمان کرده است، لذا امکان رساندن آب به زیر پانسمان برای انجام وضو ندارد، بنابراین .....

(۱) باید بقیه اعضای بدن را به طور معمول وضو دهد و آن عضو پانسمانی برای وضو حذف می شود.

(۲) نیازی به وضو گرفتن ندارد و فقط باید تیمم کند.

(۳) وضوی جبیره باید بگیرد و روی پانسمان را دست خیس بکشد.

(۴) وضوی معمولی باید بگیرد و روی پانسمان را باید بشوید.

۱۲۰- چه عنوانی برای آیه زیر مناسب تر است؟

﴿لَقَدْ كَانَ فِي قَصَصِهِمْ عِبْرَةٌ لِأُولِي الْأَلْبَابِ﴾

(۱) درس های تاریخ

(۲) فرصت های زندگی

(۳) شکرگزاری

(۴) سرگذشت خردمندان

