

گزینهدو



مؤسسه آموزشی فرهنگی

پایه نهم  
دوره اول متوسطه

# \* ارزشیابی پیشرفت تحصیلی مرحله ۱۱ (۲۵ اردیبهشت ۱۴۰۴)

سال تحصیلی ۱۴۰۳-۱۴۰۴

عنوان

تعداد پرسش	از شماره	تا شماره	وقت پیشنهادی
۱۵	۱	۱۵	۱۵ دقیقه
۱۰	۱۶	۲۵	۱۰ دقیقه
۱۵	۲۶	۴۰	۱۵ دقیقه
۱۰	۴۱	۵۰	۱۰ دقیقه
۱۵	۵۱	۶۵	۱۵ دقیقه
۲۰	۶۶	۸۵	۵۰ دقیقه
۲۰	۸۶	۱۰۵	۳۵ دقیقه

مدت پاسخ گویی: ۱۵۰ دقیقه

تعداد کل پرسش ها: ۱۰۵

توجه:

\* این ارزشیابی، نمره منفی دارد.



دانش آموز گرامی، شما می توانید با اسکن تصویر روبه روبه وسیله گوشی هوشمند و یا تبلت خود، پاسخ های تشریحی را مشاهده نمایید.



۱- در کدام گزینه هر دو واژه به درستی معنا شده است؟

(۱) الوان: رنگارنگ / متفرق: پراکنده

(۳) کنام: لانه / صلوة رحم: جوانمردی

(۲) گوهری: اصیل / خرقه: پارچه

(۴) طنین: زیبا / نغمه: صدا

۲- معنا و تلفظ واژه «سرور» در کدام گزینه مشابه معنا و تلفظ این واژه در عبارت زیر است؟

«آن وقت جانم از سرور و شادمانی لبریز می‌شود و همه ستارگان آهسته به من لبخند می‌زنند.»

(۱) من چو گفتم که پادشاه شوم

(۲) سر به زیر پا درآوردیم تا سرور شدیم

(۳) بنده زده بوسه بر پای او

(۴) روز شادی و سرور است، ای بهار

سرور کُشور و سپاه شوم

پیروی کردیم، از آن پس بینوایی یافتیم

در همه جا سید و سرور شده

عیش و شادی از تو دور است، ای بهار

۳- رابطه معنایی واژه‌ها در کدام گزینه با بقیه متفاوت است؟

(۱) معاصی و معصیت

(۲) عواطف و عاطفه

(۳) در میان گروه‌واژه‌های زیر چند غلط املائی وجود دارد؟

(۱) معاصی و معصیت

(۲) عواطف و عاطفه

(۳) در میان گروه‌واژه‌های زیر چند غلط املائی وجود دارد؟

(۱) پرواز شبانه - داستان‌هایی برای فکر کردن

(۳) سیرالعباد الی‌المعاد - احیاء علوم‌الدین

(۶) با توجه به دوبیتی زیر، کدام گزینه نادرست است؟

دلا، غافل ز سبب‌حانی چه حاصل

بود قدر تو افزون از ملایک

(۱) در این دوبیتی از پرسش انکاری استفاده شده است.

(۳) آرایه‌های تضاد، تکرار و تشخیص در دوبیتی به کار رفته است.

(۷) در کدام گزینه هر سه آرایه «تضاد - تلمیح - تشبیه» به کار رفته است؟

(۱) کاش من هم عبور تو را دیده بودم

(۲) عزیز مصر، به‌رغم برادران غیور

(۳) تا کی آخر چو بنفشه، سر غفلت در پیش؟

(۴) یوسف گم‌گشته بازآید به کنعان، غم مخور

(۳) سه

(۴) چهار

(۲) کنزالحکمه - روضه خلد

(۴) مخزن‌الاسرار - چهارمقاله

مطیع نفس و شیطانی چه حاصل

تو قدر خود نمی‌دانی چه حاصل

(۲) در دوبیتی تخلص دیده می‌شود.

(۴) ردیف در این دوبیتی یک جمله است.

کوجه‌های خراسان تو را می‌شناسند

ز قعر چاه برآمد، به اوج ماه رسید

حیف باشد که تو در خوابی و نرگس، بیدار

کلبه احزان شود روزی گلستان، غم مخور

۸- با توجه به عبارت زیر، نقش دستوری کدام بخش به درستی ذکر شده است؟

«اگر آدمی را هرگز دردی نمی‌رسید، به چه چیز ترک می‌کرد گناهان را؟ نمی‌بینی حکیم علیم در هر امری، آنچه به عمل آورده، همه

موافق حکمت است و راه خطا در آن نیست.»

(۳) آنچه: نهاد

(۴) راه خطا: مسند

(۱) آدمی: مفعول

(۲) هرگز: قید

۹- کدام نوع فعل در عبارت زیر دیده نمی‌شود؟

«از خرابی هواپیمای من در صحرا هشت روز می‌گذشت و من داستان روباه را با نوشیدن آخرین قطره آب ذخیره خود گوش کرده بودم. آهی

کشیدم و به شاهزاده کوچک گفتم: خاطرات تو زیباست! ولی حیف که من هنوز هواپیمای خود را تعمیر نکرده‌ام و آب آشامیدنی هم ندارم.»

(۳) مضارع مستمر

(۴) ماضی بعید

(۲) ماضی نقلی

(۱) ماضی استمراری



۱۰- در متن زیر، کدام وابسته گروه اسمی دیده می‌شود؟

«پیرمردی که سال‌های عمرش به هفتادوهفت رسیده بود، واپسین لحظات زندگی را می‌گذراند. فقیه گفت: اکنون چه جای پرسش است؟ بیمار پاسخ داد: کدام بهتر است: بدانم و بمیرم یا نادانسته و جاهل در گذرم؟»

(۱) صفت پرسشی

(۲) صفت شمارشی

(۳) صفت تفضیلی

(۴) صفت تعجبی

۱۱- در کدام گزینه ساختار هر سه واژه یکسان است؟ (منظور از ساختار، ساده یا مشتق یا مرکب بودن واژه‌هاست.)

(۱) اشک‌آلود-آتشین- خاکستر

(۲) دارایی- خندان- آسان‌گیر

(۳) اهرمن‌خوی- شوق‌انگیز- ناخوشی

(۴) آرزومند- سحرگاہی- نادوست

۱۲- کدام گزینه نادرست معنا شده است؟

(۱) گر بماند دشمن از هر سو / خانه‌ها مان تنگ خواهد شد / نامان در دفتر تاریخ / کوچک و کم‌رنگ خواهد شد.

← (اگر دشمن از هر طرف در سرزمین ما بماند، کشور ما کوچک می‌شود و در طول تاریخ، دلیل و حقیق خواهیم شد.)

(۲) پس رابعه به خانه رفت و دایم روزه داشتی و همه شب نماز کردی و تا روز بر پای بودی.

← (پس رابعه به خانه رفت و همیشه روزه‌دار بود و تمام طول شب را به نماز می‌پرداخت و تا صبح، سر پا می‌ایستاد.)

(۳) در محاوراتی که به حضور او میان دو کس رود، خوض نماید و اگر از او پوشیده دارند، استراق‌سمع نکنند.

← (در گفت‌وگوهایی که در حضور او میان دو نفر انجام می‌گیرد، عمیق نشود و اگر آن را از او مخفی کنند، پنهانی گوش ندهد.)

(۴) و مثل تو چون مورچه‌ای است که از جمال صورت قصر و بسیاری غلامان و سریر ملک وی، هیچ خبر ندارد.

← (و داستان تو مانند مورچه‌ای است که از زیبایی ظاهر قصر و تعداد زیاد غلامان و تخت پادشاهی آن، هیچ خبری ندارد.)

۱۳- معنای کدام گزینه نادرست است؟

(۱) پرسش تشنگی را تو آبی، جوابی ریگ‌های بیابان تو را می‌شناسند

← (تو مانند آب، پاسخ تشنگی هستی؛ سنگ‌ریزه‌های بیابان با تو آشنا هستند.)

(۲) ندانی که ایران نشست من است؟ جهان، سریره‌سر، زیر دست من است؟

← (نمی‌دانی که ایران محل زندگی من است و همه جهان، فرمانبردار من هستند؟)

(۳) دور گردون گر دو روزی بر مراد ما نرفت دائماً یکسان نباشد حال دوران، غم مخور

← (اگر گردش روزگار، مدت کوتاهی مطابق میل ما نیست، غمگین نباش؛ زیرا همیشه وضع روزگار یکسان نمی‌ماند.)

(۴) عقل، حیران شود از خوشه زرین‌عنب فهم، عاجز شود از حقه یاقوت انار

← (عقل از دیدن خوشه طلایی انگور شگفت‌زده می‌شود و فهم ناتوان است از درک زیبایی یاقوت که مانند دانه‌های انار است.)

۱۴- با توجه به دو بیت زیر، منظور از کدام بخش نادرست بیان شده است؟

چون چراغ لاله سوزم در خیابان شما ای جوانان عجم، جان من و جان شما

چون چراغ لاله سوزم در خیابان شما ای جوانان عجم، جان من و جان شما

حلقه گرد من زنید، ای پیکران آب و گل آتشی در سینه دارم از نیاکان شما

حلقه گرد من زنید، ای پیکران آب و گل آتشی در سینه دارم از نیاکان شما

(۱) خیابان شما: جامعه و محل زندگی شما

(۲) من: زبان فارسی

(۳) پیکران آب و گل: بزرگان ادبیات فارسی

(۴) آتش: آثار ادبی فارسی

۱۵- مفهوم بیت زیر کدام گزینه تکرار شده است؟

بیاتا برآریم دستی ز دل

که نتوان برآورد فردا ز گل

(۱) ای که دستت می‌رسد، کاری بکن

پیش از آن کز تو نیاید هیچ کار

(۲) تا زبر خاکی، ای درخت تنومند

مگسّل از این آب‌وخاک، ریشه پیوند (زبر: روی)

(۳) امروز تو را دسترس فردا نیست

و اندیشه فردات، به جز سودا نیست (سودا: خیال)

(۴) دامن ز کفم می‌کشی و می‌روی امروز

دست من و دامان تو، فردای قیامت



۱۶- با توجه به متن زیر، چند کلمه درست ترجمه شده است؟  
 «أَرْجُو (آرزو می‌کنم) مِنْكُمْ طَلَبَ الضَّرَرِ الَّذِي (کسی که) لِحِقِّ (رسیده است) يَبْتِكُمْ. فَنَحْنُ مُسْتَعِدُونَ (آماده‌ایم) لِدَفْعِ (برای پرداختن) الثَّمَنِ (سود).»

(۱) إِنْثَان (۲) ثَلَاثَةٌ (۳) أَرْبَعَةٌ (۴) خَمْسَةٌ

۱۷- در کدام گزینه، دو کلمه داده شده، مترادف نیستند؟

(۱) نَامٌ / رَقَدَ (۲) بَعَثَهُ / جَيَّدًا (۳) حَاوَلَ / جَدَّ (۴) وَصَعَ / جَعَلَ

۱۸- در کدام گزینه، دو کلمه با یکدیگر ناهماهنگ‌اند؟

(۱) مُتَّخَفٌ / دَلِيلٌ (۲) مِشْمِشٌ / تَفَّاحٌ (۳) تَعَلَّبَ / أَسَدٌ (۴) طَيَّارٌ / طَائِرٌ

۱۹- ترجمه کدام عبارت، درست است؟

(۱) كَانَ أَحْوَانَ يَعِيشَانِ فِي مَرْزَعَةٍ قَمَحٍ، فَجَاءَهُ وَقَعَتْ عِدَاوَةٌ بَيْنَهُمَا: در مزرعه گندمی دو برادر زندگی می‌کردند، پس گاهی دشمنی میان آن دو رخ می‌داد.

(۲) ثُمَّ عَصَفَتْ رِيحٌ شَدِيدَةٌ وَ صَارَتْ مِيَاهُ الْبَحْرِ مَوَاجَةً: سپس بادهای شدیدی وزید و آب دریا مواج شد.

(۳) ظَنَّ الْكَلْبُ أَنَّ الْعُصْفُورَةَ تُشَجِّعُهُ عَلَى الْخُرُوجِ: سگ فهمید که گنجشک او را برای خارج شدن تشویق می‌کند.

(۴) الْأَتْلَامِيذُ يَمْشُونَ عَلَى الرَّصِيفِ وَيَعْبُرُونَ مَمَرًا الْمُشَاةَ: دانش‌آموزان روی پیاده‌رو راه می‌روند و از گذرگاه پیاده رد می‌شوند.

۲۰- کدام کلمه داخل پرانتز برای پر کردن جای خالی مناسب است؟

(۱) آله الطَّبَاعَةِ وَسَيْلُهُ لَ ..... الْكُتُبِ وَ الصُّحُفِ. (طَبَعَهُ)

(۲) الْأَمْطَرُ قَطَرَاتُ الْمَاءِ الَّتِي ..... مِنَ السَّحَابِ. (تَضَعَدُ)

(۳) عَجَزَتْ أَسْرَتِي عَنْ ..... نَفَقَاتِ دِرَاسَتِي. (أَخَذَ)

(۴) الدُّخَانُ الشَّيْءُ الَّذِي ..... مِنَ النَّارِ. (يَنْزِلُ)

۲۱- ترجمه کدام گزینه، درست است؟

(۱) عِنْدَمَا كَانَ أَخِي صَغِيرًا كَانَ يَكْتُبُ وَاجِبَاتِهِ بِدِقَّةٍ: هنگامی که برادرم کوچک بود، تکالیفش را با دقت می‌نوشت.

(۲) كَانَ الْعَمَالُ يَصْنَعُونَ بِيوتِنَا وَ بَعْدَ ذَلِكَ يَرْجِعُونَ إِلَى بِيوتِهِمْ: کارگران، خانه ما را می‌ساختند و بعد از آن به خانه‌هایشان برگشتند.

(۳) الْأَطْفَالُ الَّذِينَ يَتَنَاوَلُونَهُ وَحَدَهُ يَحْدُثُ لَهُمْ ضَعْفٌ فِي السَّاقَيْنِ: کودکانی که یکی از این‌ها را می‌خورند، وضعی در دو پا برای آن‌ها ایجاد می‌شود.

(۴) عِنْدَمَا نَنْظُرُ إِلَى التُّورِ الْأَحْمَرِ نَشْعُرُ بِالتَّعَبِ؛ لِأَنَّهُ يُحَرِّكُ الْأَعْصَابَ: وقتی که به نور قرمز نگاه می‌کنم، احساس ناراحتی می‌کنم؛ زیرا آن اعصاب را تحریک می‌کند.

۲۲- کدام ساعت با توجه به قواعد ساعت‌شماری، درست است؟

(۱) ۱۵' : ۳ : السَّاعَةُ الثَّلَاثَةُ وَ الرَّبْعُ (۲) ۴۵' : ۲ : السَّاعَةُ الثَّانِيَةُ إِلَّا رُبْعًا

(۳) ۳۰' : ۴ : السَّاعَةُ الرَّابِعَةُ وَ النِّصْفُ (۴) ۱۰ : ۰۰' : السَّاعَةُ الْعَشْرَةُ تَمَامًا

۲۳- کدام گزینه با توجه به نوع، شخص و یا ترجمه فعل، درست است؟

(۱) الْمُهَنْدِسُونَ هَا صَنَعُوا جِسْرًا: ماضی منفی / سوم شخص جمع مذکر / نمی‌ساختند

(۲) أَسَمِعَ كَلَامَ مُدْرِسِنَا: فعل امر / دوم شخص جمع مذکر / بشنو

(۳) لَا تَضْحَكُنْ بِصَوْتٍ مُرْتَفِعٍ: مضارع منفی / دوم شخص جمع مؤنث / نمی‌خندید

(۴) لَا تَيْأَسِي مِنْ رَحْمَةِ اللَّهِ: فعل نهی / دوم شخص مفرد مذکر / ناامید نشو

۲۴- کدام گزینه، درست است؟

(۱) حروف اصلی کلمه «مَصْنُوعٌ»، (م، ص، ن) است.

(۳) تعداد حروف زائد کلمه «تَعَلَّمَ»، یک است.

(۲) وزن کلمه «اجتهاد»، «انفعال» است.

(۴) کلمه «شهداء» جمع مکسر و بر وزن «فُعلاء» است.

۲۵- در کدام گزینه هر دو ترکیب وصفی و اضافی وجود ندارد؟

(۱) انْكَسَرَتْ إِحْدَى الرُّجَاجَاتِ فِي الْمُخْتَبَرِ الْكَبِيرِ.

(۲) أَلْسُورُ الْمَكِّيَّةِ تَدُورُ عَلَى بَيَانَ الْعَقِيدَةِ.

(۴) هُوَ قَدَّرَ عَلَى شِرَاءِ الْمَوَادِّ الْكِيمِيَاوِيَّةِ.

(۳) يَخْمِلُ فِي يَدِهِ عَدَدًا مِنَ الْأَفْلامِ.





۲۶- جمله زیر تعریف کدام گزینه است؟

«اعتماد و باور قلبی کامل به یک موضوع یا حقیقت، باوری که شوق عمل به آن حقیقت را در انسان ایجاد می‌کند.»

(۱) معرفت (۲) عزت نفس (۳) ایمان (۴) هدفمندی

۲۷- خداوند به کدام پیامبر دستور داد، زن و فرزند کوچک خود را در سرزمین مکه، که در آن زمان سرزمینی بدون آب و آبادانی بود، سکونت دهد؟

(۱) حضرت ابراهیم علیه السلام (۲) حضرت موسی علیه السلام (۳) حضرت ایوب علیه السلام (۴) حضرت یعقوب علیه السلام

۲۸- «خورشید پنهان» تعبیری است از ..... .

(۱) خداوند هستی (۲) امام زمان علیه السلام (۳) ایمان به خدا (۴) حیا و عفاف

۲۹- مفهوم کدام موارد با یکدیگر در ارتباط است؟

الف) «ما عرفناك حق معرفتك»

ب) برگ درختان سبز در نظر هوشیار

ج) نتوان وصف تو گفتن که تو در فهم ننگی

(۱) «الف»- «ب» (۲) «الف»- «ج» (۳) «ب»- «ج» (۴) «الف»- «ب»- «ج»

۳۰- امام کاظم علیه السلام «حتماً امر به معروف و نهی از منکر کنید وگرنه ..... افراد جامعه بر شما مسلط خواهند شد و در این صورت

..... شما هم اگر دعا کنند، مستجاب نخواهد شد.»

(۱) بی‌خردترین - خردمندان (۲) بی‌خردترین - بهترین‌های (۳) شرورترین - خردمندان (۴) شرورترین - بهترین‌های

۳۱- موضوع آیه زیر چیست؟

«وَ اَعَدُّوا لَهُمْ مَا اسْتَطَعْتُمْ مِنْ قُوَّةٍ وَ مِنْ رِباطِ الْخَيْلِ تُرْهِبُونَ بِهِ عَدُوَّ اللَّهِ وَ عَدُوَّكُمْ»

(۱) شهادت (۲) جنگ فرهنگی (۳) انفاق (۴) توان دفاعی

۳۲- وضو یا تیمم کدام یک از افراد زیر باطل است؟

(۱) محمدصدرا زانویس زخم شده و خون آمده، ولی بدون پاک کردن آن وضو می‌گیرد.

(۲) محمد ابراهیم آب مطلق در اختیار دارد و با همان آب وضو می‌گیرد.

(۳) محمدعلی در آخرین مرحله تیمم با کف دست راست از روی مچ دست چپ تا سر انگشتان می‌کشد.

(۴) محمدطه فراموش کرده آبی نجس است و بعد از وضو گرفتن یادش می‌آید، آب نجس بوده است.

۳۳- مطابق سخن امام رضا علیه السلام کارهای زیر وظایف چه کسانی است؟

«صبور بودن - خوش رفتاری - همسایه‌داری - ترویج کارهای نیک - خودداری از آزار و اذیت دیگران - گشاده‌رویی - خیرخواهی و مهربانی با مؤمنان»

(۱) مؤمنان حقیقی (۲) فقیهان (۳) انسان‌های عادل (۴) منتظران واقعی

۳۴- دو سجده سهو برای کدام یک از موارد زیر نیاز است؟

(۱) غیرعمدی در نماز حرف زدن (۲) غیرعمدی در نماز با صدای بلند خندیدن

(۳) شک کردن در رکعت‌های نماز سه رکعتی (۴) کم یا زیاد شدن ارکان نماز

۳۵- کدام یک از صفات مطرح شده در حدیث امام صادق علیه السلام برای فقیهان هدایت‌گر، در میان صفات زیر نیست؟

«پرهیزکار - مخالف هوای نفس خود - مطیع دستور خداوند»

(۱) اعلم بودن (۲) عادل بودن (۳) محافظ دین خود بودن (۴) خیرخواه مردم بودن

۳۶- مقدار زکات فطره چقدر است؟

(۱) سه کیلو گندم، هر کس برای خودش باید بپردازد.

(۲) یک کیلو گندم، هر کس برای خودش و نیز برای هر فرد دیگری که او هزینه زندگی را می‌دهد، باید بپردازد.

(۳) سه کیلو گندم، هر کس برای خودش و نیز برای هر فرد دیگری که او هزینه زندگی را می‌دهد، باید بپردازد.

(۴) یک کیلو گندم، هر کس برای خودش باید بپردازد.

۳۷- گزینه مرتب با آیه کدام است؟

﴿وَيَوْمَ يَعَضُّ الظَّالِمُ عَلَى يَدَيْهِ يَقُولُ يَا لَيْتَنِي اتَّخَذْتُ مَعَ الرَّسُولِ سَبِيلًا يَا وَيْلَتَى لَيْتَنِي لَمْ أَتَّخِذْ فُلَانًا خَلِيلًا لَقَدْ أَضَلَّنِي عَنِ الذِّكْرِ بَعْدَ إِذْ جَاءَنِي﴾

(۱) شبیخون فرهنگی

(۲) پشیمانی در آخرت

(۳) توقع بی‌جا از دوست

(۴) کسانی که به پیامبر ﷺ ظلم کردند.

۳۸- بالاترین پیشرفت انقلاب اسلامی، کدام مورد است؟

(۱) زنده شدن روحیه خودباوری

(۲) پیروزی در جنگ تحمیلی

(۳) خنثی کردن شبیخون فرهنگی

(۴) دست یافتن به تکنولوژی هسته‌ای

۳۹- گزینه درست را درباره انواع جهاد مشخص کنید.

(۱) جهاد ابتدایی مانند: نبرد سپاه اسلام در جنگ احد و جنگ احزاب.

(۲) جهاد ابتدایی مانند: نبرد حضرت علی (ع) با خوارج نهروان و نبرد مسلمین با روم در صدر اسلام.

(۳) جهاد با سرکشان مانند: نبرد سپاه اسلام در صدر اسلام با حکومت ایران و همچنین سپاه روم.

(۴) جهاد با سرکشان مانند: نبرد حضرت علی (ع) با خوارج نهروان و همچنین مبارزه نظام اسلامی با گروهک تروریستی منافقین.

۴۰- عبارت زیر مصداق کدام یک از گزینه‌هاست؟

پیامبر اکرم ﷺ می‌فرماید: «اگر گرسنه یا برهنه‌ای در میان مردم پیدا شود، به این دلیل است که ثروتمندان، «حقوق واجب» اموال

خود را نپرداخته‌اند.»

(۴) وقف و خمس

(۳) خمس

(۲) قرض

(۱) وقف



وقت پیشنهادی

## زبان انگلیسی

کل کتاب

41- In which item, the picture does NOT refer to the given conversation?

- در کدام گزینه، تصویر به مکالمه داده شده اشاره ندارد؟

- 1) A: Where is your dad?  
B: He's over there. He's talking to the receptionist.



- 2) A: Do you participate in an online class?  
B: No, my English course isn't online.



- 3) A: Mr. Dehghan, where's the baggage reclaim?  
B: It is over there.



- 4) A: Look at our national football players.  
B: Great! I love it when they sing the national anthem before the game .





#### 48- Which item is grammatically correct?

- کدام گزینه از نظر دستوری درست است؟

- 1) Oliver is playing in the garden every day.
- 2) Jack and James doesn't help their friends.
- 3) John hurt his hands and legs a lot.
- 4) Alexander didn't watched a quiz show last week.

#### ■ Read the text below and answer the questions.

- متن زیر را بخوانید و به پرسش‌های مربوط به آن پاسخ دهید.

"Last Friday, it was raining and I rode my bike for an hour and I got tired\*. Suddenly\*, I fell off the bike because of the rain; my bike got broken\* and I hurt my leg and head. My mother cleaned the wounds and put some plasters on them. I stayed at home for two days. Now, I'm fine, and I ride my new bike more carefully. It was a good lesson for me."

\*tired: خسته      \*suddenly: ناگهان      \*got broken: شکست

#### 49- Choose the **BEST** item according to the given text.

- با توجه به متن داده‌شده، بهترین گزینه را انتخاب کنید.

#### A: Why did you fall off the bike last week?

#### B: Because .....

- 1) it was broken
- 2) the streets were wet
- 3) I was tired
- 4) I rode my bike for an hour

#### 50- Choose the true item according to the given text.

- با توجه به متن داده‌شده، گزینه درست را انتخاب کنید.

- 1) I broke my hand last Friday.
- 2) I use my old bike now.
- 3) I am a careful bike rider now.
- 4) I went to school on Saturday.



وقت پیشنهادی

## مطالعات اجتهادی

کل کتاب

۵۱- نزدیک‌ترین و دورترین سیاره‌های درونی به خورشید به ترتیب کدام‌اند؟

- (۱) تیر - ناهید
- (۲) زمین - ناهید
- (۳) بهرام - زمین
- (۴) تیر - بهرام

۵۲- کدام گزینه دربارهٔ اختلاف ساعت درست نیست؟

- (۱) هر منطقهٔ زمانی یک قاج است.
- (۲) هر قاج یک ساعت را به خود اختصاص می‌دهد.
- (۳) هر قاج ۲۴ درجه پهنا دارد.
- (۴) همهٔ نصف‌النهارهای داخل قاج به‌طور توافقی ساعت یکسانی دارند.

۵۳- در کدام منطقهٔ زمین تغییرات فصول کمتر مشاهده می‌شود؟

- (۱) منطقهٔ قطبی
- (۲) منطقهٔ معتدل
- (۳) منطقهٔ استوایی
- (۴) منطقهٔ بین‌المدارین

۵۴- وسعت خشکی به آب در نیمکره‌ای که ایران عزیز ما در آن قرار دارد، چگونه است؟

- (۱) ۴۰٪ به ۶۰٪
- (۲) ۱۸٪ به ۷۲٪
- (۳) ۲۹٪ به ۷۱٪
- (۴) ۶۰٪ به ۴۰٪

۵۵- جریان دریایی لابرادور از کدام نوع جریان دریایی است و بر آب و هوای کدام قاره اثر می‌گذارد؟

- (۱) آب سرد - اروپا
- (۲) آب سرد - آمریکای شمالی
- (۳) آب گرم - آمریکای جنوبی
- (۴) آب گرم - آسیا

۵۶- در منطقه گرینلند کدام زیست بوم غالب است؟

- (۱) تایگا (۲) توندرا (۳) جنگل‌های پهن برگ (۴) علفزارهای منطقه معتدل
- ۵۷- شاخص توسعه انسانی طبق برآورد سال ۲۰۲۳ در کدام کشور با بقیه متفاوت است؟
- (۱) چین (۲) هند (۳) ایران (۴) عربستان

۵۸- مهم‌ترین اقدام شاه اسماعیل پس از تاج گذاری چه بود؟

- (۱) انتخاب تبریز به پایتختی (۲) شکست ازبکان
- (۳) رسمی کردن مذهب شیعه (۴) شکست حکومت‌های محلی در شمال غربی
- ۵۹- معاهده گلد اسمیت در زمان پادشاهی چه کسی به امضا رسید؟ (قرارداد میان ایران و انگلستان)

- (۱) فتحعلی شاه (۲) محمدشاه (۳) ناصرالدین شاه (۴) رضاخان

۶۰- وثوق الدوله در دستگاه کدام پادشاه ایران صاحب‌منصب بوده است؟

- (۱) رضاخان (۲) احمدشاه (۳) محمدعلی شاه (۴) مظفرالدین شاه

۶۱- کدام گزینه از مشخصات حکومت محمدرضا پهلوی در سال‌های اول سلطنت او به حساب نمی‌آید؟

- (۱) استبداد و سرکوب (۲) فعالیت درباره احزاب و مطبوعات

- (۳) رقابت شوروی، آمریکا و انگلستان در ایران (۴) نقش فعال نمایندگان مجلس

۶۲- احترام به سالمندان و همچنین شجاعت و پیروزی در مسابقات جزء ..... هستند.

- (۱) هنجارهای اجتماعی (۲) ارزش‌های اجتماعی (۳) قوانین اجتماعی (۴) روابط اجتماعی

۶۳- استفاده از کاشی در ساخت مساجد که هویت ایرانی و اسلامی دارد جزء کدام ابعاد فرهنگ می‌باشد؟

- (۱) نماد (۲) هنجار (۳) ارزش (۴) عقیده

۶۴- بهره‌وری سبز بر چه موضوعی تأکید دارد؟

- (۱) بهره‌وری در تولید محصولات کشاورزی (۲) توانایی استفاده حداکثری از منابع و امکانات

- (۳) ارتباط مؤثر میان تولید- توزیع و مصرف (۴) افزایش بهره‌وری با حفظ محیط زیست

۶۵- اعضای شورای نگهبان و دیوان عالی کشور به ترتیب در کدام قوای سه‌گانه قرار می‌گیرند؟

- (۱) مقننه - مجریه (۲) مقننه - قضائیه (۳) قضائیه - مقننه (۴) قضائیه - قضائیه



وقت پیشنهادی

ریاضی

کل کتاب

۶۶- اگر  $A$  و  $B$  دو مجموعه غیرتهی و  $n(A \cap B) = 3$ ،  $n(B - A) = 9$  و  $n(A \cup B) = 14$  باشد، آنگاه  $n(A - B)$  کدام است؟

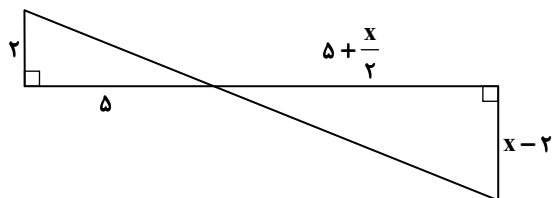
- (۱) ۵ (۲) ۲ (۳) ۳ (۴) ۶

۶۷- حاصل تقسیم عبارت  $(x^2 - 2x - 15)(x^2 + 2x - 15)$  بر عبارت  $(x^2 - 9)$  کدام گزینه است؟

- (۱)  $(x - 5)^2$  (۲)  $(x + 5)^2$  (۳)  $(x^2 - 25)$  (۴)  $(x^2 + 25)$

محل انجام محاسبات

۶۸- در شکل زیر، دو مثلث قائم‌الزاویه متشابه هستند. مقدار  $x$  کدام است؟



- ۵ (۱)
- ۶ (۲)
- ۷ (۳)
- ۸ (۴)

۶۹- قاعده هرمی به شکل مستطیل به ابعاد  $\sqrt{5}$  و ۱۲ است. اگر حجم هرم ۶۰ باشد، اندازه ارتفاع هرم کدام است؟

- ۳ $\sqrt{5}$  (۱)
- ۱۵ $\sqrt{5}$  (۲)
- ۵ $\sqrt{5}$  (۳)
- ۲ $\sqrt{5}$  (۴)

۷۰- عدد  $\sqrt[3]{1.08}$  بین کدام دو عدد صحیح متوالی قرار دارد؟

- ۱۱ و ۱۰ (۱)
- ۵ و ۴ (۲)
- ۶ و ۵ (۳)
- ۷ و ۶ (۴)

۷۱- حاصل عبارت  $A = \left(\frac{2}{\sqrt{2}}\right)^{-6} \times \left(\frac{2}{3}\right)^{-2} \times (-0.75)^{-3}$  با کدام گزینه برابر است؟

- $\frac{3}{2}$  (۱)
- ۲ (۲)
- ۳ (۳)
- $\frac{2}{3}$  (۴)

۷۲- نیمسازهای داخلی دو زاویه مجاور به یک ضلع در یک چهارضلعی محدب، یکدیگر را با زاویه  $80^\circ$  قطع می‌کنند. اگر اندازه دو

زاویه دیگر این چهارضلعی برابر  $85^\circ$  و  $x$  باشد، مقدار  $x$  کدام است؟

- $80^\circ$  (۱)
- $85^\circ$  (۲)
- $75^\circ$  (۳)
- $70^\circ$  (۴)

۷۳- ساده شده عبارت  $\frac{a^2 - b^2 - 4b - 4}{a^2 + b^2 + 2ab - 4} \div \frac{b - a + 2}{a + b - 2}$  کدام گزینه است؟

- ۱ (۱)
- ۱ (۲)
- $a + b - 2$  (۳)
- $a - b + 2$  (۴)

۷۴- اگر  $2x^2 - 2x = 8$  باشد، حاصل  $A = (x-3)(x-2)(x-1)(x)(x+1)(x+2)$  با کدام گزینه برابر است؟

- ۱۲ (۱)
- ۱۶ (۲)
- ۱۲ (۳)
- ۱۶ (۴)

۷۵- با توجه به مجموعه عددهای  $Z$ ،  $Q$ ،  $Q'$  و  $R$  کدام عبارت درست است؟

(۱)  $(\sqrt{2} - 7) \notin (R - Q)$

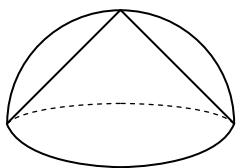
(۲)  $-\frac{3}{4} \in (Z \cup Q')$

(۴)  $\{\sqrt{1}, \sqrt{2}, \sqrt{3}, \sqrt{4}\} \subseteq Q'$

(۳)  $(0.6 + \frac{4}{5}) \in (Q \cap R)$

۷۶- مطابق شکل، مخروطی در یک نیمکره محاط شده است. نسبت حجم مخروط به حجم نیمکره کدام است؟

- $\frac{1}{4}$  (۱)
- $\frac{1}{2}$  (۲)
- $\frac{2}{3}$  (۳)
- $\frac{3}{4}$  (۴)



محل انجام محاسبات

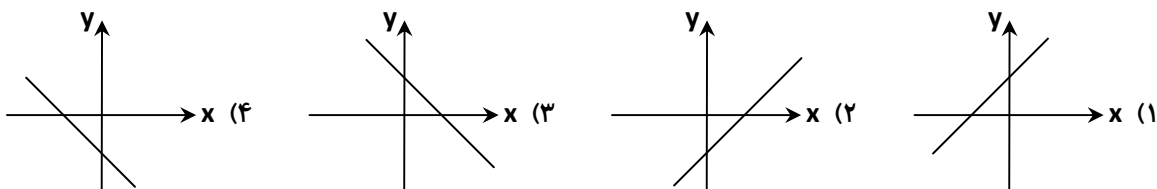
۷۷- اگر عبارت گویای  $\frac{2x-5}{x^2+ax+b}$  به ازای مقادیر  $x$  برابر  $-2$  و  $3$  تعریف نشده باشد، حاصل  $a+b$  کدام است؟

- (۱) ۱      (۲) ۵      (۳)  $-6$       (۴)  $-7$

۷۸- کدام عدد در مجموعه جواب نامعادله  $\frac{x-1}{2} \geq \frac{2}{3}(1-x)$  وجود دارد؟

- (۱)  $\sqrt{5}$       (۲)  $\frac{2}{y}$       (۳)  $-\frac{1}{2}$       (۴)  $-\sqrt{2}$

۷۹- اگر  $a > 0$  و  $b < 0$  باشد، کدام یک از نمودارهای زیر نمایش خط  $ax + y + b = 0$  است؟



۸۰- اگر  $\frac{A}{1.4} = \sqrt{0.81} \times \sqrt{0.064} \times \sqrt{0.4}$  باشد، جذر  $A$  کدام است؟

- (۱) ۱۸      (۲) ۱۲      (۳) ۱۱      (۴) ۹

۸۱- اگر  $2a^2 + fb^2 - fab - 2a + 1 = 0$  باشد، آنگاه حاصل  $a+b$  کدام است؟

- (۱) ۱      (۲) ۲      (۳)  $\frac{3}{2}$       (۴)  $\frac{1}{2}$

۸۲- خط  $d$  با خطی که از دو نقطه  $B = \begin{bmatrix} 2 \\ -3 \end{bmatrix}$  و  $A = \begin{bmatrix} 4 \\ 5 \end{bmatrix}$  می‌گذرد، موازی است. اگر خط  $d$  محور طول‌ها را در نقطه‌ای به طول  $-2$  قطع کند، معادله آن کدام است؟

- (۱)  $y = 4x + 8$       (۲)  $y = 4x - 8$       (۳)  $y = 2x + 4$       (۴)  $y = 2x - 2$

۸۳- شیب خط  $\sqrt{3}y - \sqrt{2}x + 6 = 0$  با کدام گزینه برابر است؟

- (۱)  $\sqrt{2}$       (۲) ۲      (۳)  $\frac{\sqrt{2}}{3}$       (۴)  $\frac{\sqrt{6}}{3}$

۸۴- کره‌ای داخل استوانه محاط شده است. اگر حجم فضای بین کره و استوانه  $\frac{128}{3}\pi$  باشد، حجم کره چقدر است؟

- (۱)  $\frac{64}{3}\pi$       (۲)  $\frac{128}{3}\pi$       (۳)  $\frac{256}{3}\pi$       (۴)  $\frac{512}{3}\pi$

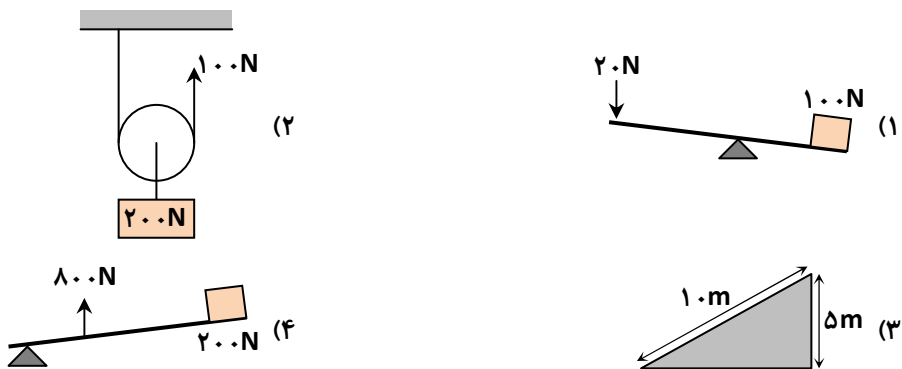
۸۵- با توجه به دستگاه زیر، حاصل  $x^2 + y^2$  با کدام گزینه برابر است؟

$$\begin{cases} 2\sqrt{2}x + \sqrt{3}y = 5 \\ \sqrt{2}x + 2\sqrt{3}y = -2 \end{cases}$$

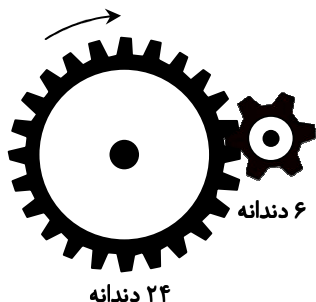
- (۱) ۱۰      (۲) ۱۱      (۳) ۱۲      (۴) ۵



۹۳- در کدام گزینه، مزیت مکانیکی بیشتر است؟ (از اتلاف انرژی صرف نظر کنید).



۹۴- در شکل زیر در صورتی که چرخ دنده کوچک تر ۸ دور بزند، چرخ دنده بزرگ تر چند دور خواهد چرخید؟



۳۲ (۱)

۲۴ (۲)

۴ (۳)

۲ (۴)

۹۵- کدام یک از موارد ذکر شده وسیع تر است؟

- (۱) کهکشان      (۲) سامانه خورشیدی      (۳) کیهان      (۴) کهکشان راه شیری

۹۶- دریای تتیس در گذشته در کدام موقعیت جغرافیایی قرار داشته است؟

- (۱) مدار استوا      (۲) شمال لورازیا      (۳) جنوب گندوانا      (۴) قطب شمال

۹۷- کدام مورد برای تبدیل یک جاندار به فسیل، نقش مهم تری را دارد؟

- (۱) دفن آهسته و داشتن بخش های نرم      (۲) دفن سریع و داشتن قطعات نرم  
(۳) دفن سریع و داشتن بخش های سخت      (۴) دفن آهسته و داشتن بخش های سخت

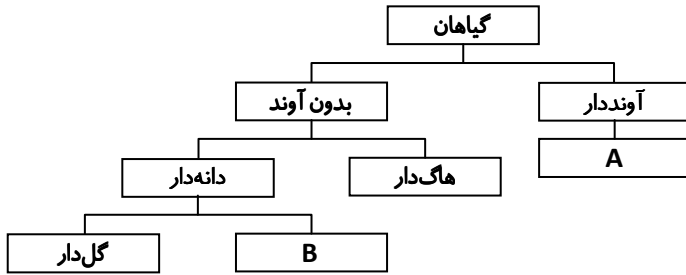
۹۸- یکی از روش هایی که ویروس شناسان برای مطالعه ویروس به کار می برند تکثیر ویروس ها در تخم مرغ های حاوی جنین است، زیرا .....

- (۱) ویروس ها، فقط در سلول های زنده علائم حیاتی از خود نشان می دهند.  
(۲) ویروس ها تکثیر نمی شوند، زیرا به خودی خود زنده نیستند.  
(۳) ویروس ها، با استفاده از مواد غذایی موجود در تخم مرغ، تکثیر می شوند.  
(۴) ویروس ها تکثیر نمی شوند، زیرا مرز موجودات زنده و غیرزنده اند.

محل انجام محاسبات

۹۹- نمودار زیر بخشی از گروه‌بندی گیاهان را نشان می‌دهد. با توجه به آن، به سؤال زیر پاسخ دهید.

«گیاهانی که در شاخه B قرار دارند دارای کدام ویژگی زیر هستند؟»



(۱) دانه‌های آن‌ها توسط کیسه‌ای بر روی پولک نگه‌داری می‌شود.

(۲) دانه‌ها در میوه محصور شده‌اند.

(۳) تخمک‌های آن‌ها درون تخمدان قرار دارند.

(۴) مواد مغذی آن‌ها در میوه ذخیره می‌شود.

۱۰۰- دانش‌آموزی جانوری ذره‌بینی را پیدا کرد و با کمک ذره‌بین صفت‌های زیر را در آن مشاهده کرد:

شکل بدن	بندبند
تعداد پا	۱۰

چه تعداد از موارد زیر درباره این جانور صحیح است؟

(الف) ممکن است بتوان از آن به‌عنوان غذای جانوران آبی بزرگ، مانند ماهی استفاده کرد.

(ب) احتمالاً نوعی سخت‌پوست است.

(پ) مانند توتیا دارای دستگاه گردش آب است.

(ت) مانند حلزون دارای بدن نرم است.

۴ (۴)

۳ (۳)

۲ (۲)

۱ (۱)

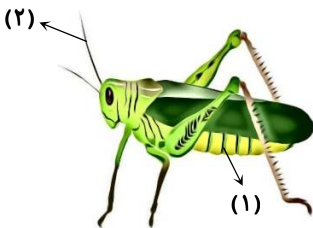
۱۰۱- در شکل زیر، شماره‌های (۱) و (۲) به ترتیب کدام موارد هستند؟

(۱) سوراخ تنفسی، دندان

(۲) سوراخ تنفسی، شاخک

(۳) خط جانبی، سینه

(۴) بال جلویی، شاخک



۱۰۲- حدود ۲۰۰ میلیون سال قبل ..... بزرگ‌ترین گروه مهره‌داران را تشکیل می‌دادند. امروزه تنوع این گروه از جانداران نسبت به گذشته ..... یافته است.

(۱) خزندگان قدیمی - افزایش

(۲) خزندگان قدیمی - کاهش

(۳) دوزیستان - کاهش

(۴) دوزیستان - افزایش

۱۰۳- کدام گزینه درباره دوزیستان صحیح است؟

(۱) وزغ همانند سمندر دوزیست بی‌دم است.

(۲) قورباغه برخلاف سمندر دوزیست دم‌دار است.

(۳) قورباغه و سمندر هر دو بی‌دم‌اند.

(۴) وزغ برخلاف سمندر دوزیست بی‌دم است.

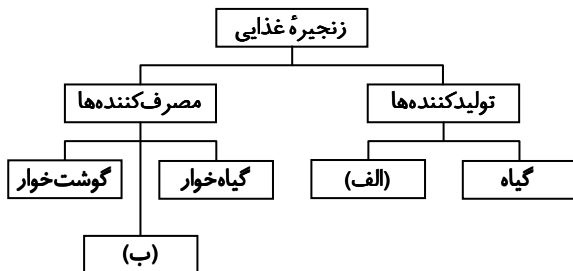
۱۰۴- در نمودار زیر که در ارتباط با نحوه کسب انرژی جانداران در زنجیره‌های غذایی است. به ترتیب به جای «الف» و «ب» کدام مورد قرار می‌گیرد؟

(۱) قارچ‌ها - شکارچی

(۲) جلبک‌های سبز - همه‌چیزخوار

(۳) قارچ‌ها - همه‌چیزخوار

(۴) آغازیان - جانوران انگل



۱۰۵- در همزیستی شیر و کرکس ..... همزیستی، مورچه و شته، .....

(۱) همانند - یکی سود می‌برد و دیگری زیان می‌کند.

(۲) برخلاف - یکی سود می‌برد و دیگری زیان می‌کند.

(۳) همانند - هر دو جاندار سود می‌برند.

(۴) برخلاف - یکی سود می‌برد و دیگری نه سود و نه زیان می‌کند.

# خدمات کامل سنجش و ارزشیابی گزینه دو

## ویژه دانش آموزان دوره اول متوسطه



### ارزشیابی پیشرفت تحصیلی

- ۱۲ مرحله آزمون تستی با سوالات استاندارد
- امکان برگزاری به صورت حضوری و آنلاین
- ارائه کارنامه جامع و تحلیلی

### ارزشیابی ویژه

- ۱۰ مرحله ارزشیابی ویژه دانش آموزان پایه نهم
- آمادگی آزمون ورودی مدارس نمونه دولتی و تیزهوشان
- سوالات تالیفی گزینه دو (استعداد تحصیلی و استعداد تحلیلی)

### ارزشیابی تشریحی

- ۴ نوبت ارزشیابی تشریحی از ۷ درس اصلی
- برگزاری و تصحیح مکانیزه با روبریک
- ارائه اطلاعات تفکیک شده از عملکرد دانش آموز

### آزمونک

- بیش از ۱۵۰ آزمونک به صورت تک درس
- تمرینی کوچک جهت حفظ آمادگی تحصیلی
- ارائه کارنامه و گزارش ها در کمتر از ۲۴ ساعت

### بانک سوال

- دسترسی به بیش از ۲۰ هزار سوال تستی
- امکان ساخت تمرین و برگزاری آزمون
- رفع نقاط ضعف تحصیلی با رفع اشکال هوشمند



نمایندگی



دوره اول متوسطه

# گزینه دو

مؤسسه آموزشی فرهنگی


راهی نو آینده‌ای روشن

۱ کارنامه‌ات را ببین ۲ عملکردت را تحلیل کن ۳ از رفع اشکال هوشمند کمک بگیر ۴ حالا برای آزمون بعدی آماده شو



# کارنامه

# فردی



پس از هر آزمون دانش‌آموزان به کارنامه خود دسترسی خواهند داشت. کارنامه آزمون‌های گزینه دو شامل اطلاعات مهمی است که به شما کمک می‌کند به سادگی آزمون خود را تحلیل نمایید. با کارنامه‌های گزینه دو و تحلیل آزمون می‌توانید نقاط ضعف خود را شناسایی و برطرف کنید.



## رفع اشکال هوشمند

با رفع اشکال هوشمند می‌توانید به سؤالات جدیدی دسترسی داشته باشید که مشابه با سؤالات نادرست و بدون پاسخ شما در آزمون است.

## تحلیل آزمون

در تحلیل آزمون به سؤالات درست، نادرست و بدون پاسخ خود همراه با محدوده، موضوع، حیطه یادگیری و پاسخ تشریحی آن دسترسی خواهید داشت.

## کارنامه درس به درس

برای هر درس در کارنامه تحلیلی مجزا وجود دارد که موارد مهمی مانند تراز هر درس، سطح علمی و ... در آن بخش قابل مشاهده است.

## کارت آزمون

در بخش کارت آزمون اطلاعات مهم و اصلی آزمون (تعداد دروس، سؤالات آزمون، رتبه و تراز شما و ...) در اختیار شما قرار می‌گیرد.

