

گزینهدو



مؤسسه آموزشی فرهنگی

پایه هفتم  
دوره اول متوسطه

# \* ارزشیابی پیشرفت تحصیلی مرحله ۱۱ (۲۵ اردیبهشت ۱۴۰۴)

سال تحصیلی ۱۴۰۳-۱۴۰۴

عنوان	تعداد پرسش	از شماره	تا شماره	وقت پیشنهادی
فارسی	۱۵	۱	۱۵	۱۵ دقیقه
عربی	۱۰	۱۶	۲۵	۱۰ دقیقه
پیام های آسمان	۱۵	۲۶	۴۰	۱۵ دقیقه
زبان انگلیسی	۱۰	۴۱	۵۰	۱۰ دقیقه
مطالعات اجتماعی	۱۵	۵۱	۶۵	۱۵ دقیقه
ریاضی	۲۰	۶۶	۸۵	۵۰ دقیقه
علوم تجربی	۲۰	۸۶	۱۰۵	۳۵ دقیقه
از من تا خدا	۱۵	۱۰۶	۱۲۰	۱۵ دقیقه

مدت پاسخ گویی: ۱۵۰ دقیقه

تعداد کل پرسش ها: ۱۰۵

توجه:

\* این ارزشیابی، نمره منفی ندارد.

\* دانش آموزان با توجه به برنامه درسی مدرسه خود فقط به یک سری از پرسش های درس «پیام های آسمان» یا «از من تا خدا» پاسخ می دهند.



دانش آموز گرامی، شما می توانید با اسکن تصویر روبه روبه وسیله گوشی هوشمند و یا تبلت خود، پاسخ های تشریحی را مشاهده نمایید.



- ۱- در کدام گزینه هر دو واژه به درستی معنا شده است؟  
 (۱) سماجت: پافشاری / رایحه: صدای خوش  
 (۲) نجوا: صدای آرام / محبوب: دوست داشتن  
 (۳) گیتی: جهان / اسوه: نمونه  
 (۴) خدشه: خطر / حک کردن: تراشیدن
- ۲- در همهٔ گزینه‌ها هر سه واژه هم‌خانواده‌اند، به جز گزینهٔ .....  
 (۱) تسهیلات - سهولت - سهل  
 (۲) رئیس - ریاست - رأس  
 (۳) سجده - سجاده - جسد  
 (۴) اعتصاب - تعصب - عصب
- ۳- در میان گروه‌واژه‌های زیر، چند غلط املایی وجود دارد؟  
 «لبخند موزیانه - بلافاصله - پیشوایی و مقتدایی - خیر و سلاح - قراعت نامه - مصاحبت دوستان - کثیف و آلوده - به‌رقم تلاش‌ها»  
 (۱) یک (۲) دو (۳) سه (۴) چهار
- ۴- در همهٔ گزینه‌ها هر دو اثر متعلق به یک نفر است، به جز گزینهٔ .....  
 (۱) گوهرنامه - گل و نوروز  
 (۲) تماشاگه راز - داستان راستان  
 (۳) دوشنبه‌های آبی ماه - رگبار کلمات  
 (۴) قصهٔ رنگ پریده - ای شب
- ۵- آرایهٔ مربوط به کدام گزینه، درون پرانتز، نادرست آمده است؟  
 (۱) نمودش بس که دور آن راه نزدیک  
 (۲) همه عالم تن است و ایران، دل  
 (۳) چه خوش گفت زالی به فرزند خویش  
 (۴) تو را خوانم به هر رازی که خوانم  
 شددش گیتی به پیش چشم، تاریک (تضاد)  
 نیست گوینده زین قیاس، خجل (تشخیص)  
 چو دیدش پلنگ افکن و پیل تن (تشبیه)  
 تو را دانم به هر چیزی که دانم (تکرار)
- ۶- تعداد جمله‌های کدام گزینه نادرست ذکر شده است؟  
 (۱) آفرین، جان آفرین پاک را  
 (۲) کنون گر دست گیری، جای آن هست  
 (۳) ماه فروماند از جمال محمد ﷺ  
 (۴) برگ درختان سبز، در نظر هوشیار  
 آنکه جان بخشید و ایمان، خاک را (سه)  
 که گر دستم نگیری، رفتم از دست (چهار)  
 سرو نباشد به اعتدال محمد ﷺ (دو)  
 هر ورقش دفتری ست، معرفت کردگار (یک)
- ۷- نوع جمله در کدام گزینه با بقیه تفاوت دارد؟  
 (۱) مثل یک شاخه گل، جوانه بزنی  
 (۲) متّصل گردان به دریاهاى خویش  
 (۳) بیا تا به درگاه مسکین نواز  
 (۴) صحبت مردانت از مردان کند
- ۸- کدام گزینه دربارهٔ واژه‌هایی که در متن زیر نقش دستوری «فعل» دارند، درست است؟  
 «اینک ما نمی‌توانم را در جایگاه ابدی‌اش به خاک سپرده‌ایم. البته یاد او در وجود خواهر و برادرهایش، یعنی می‌توانم، خواهم توانست و همین حالا شروع خواهم کرد باقی خواهد ماند.»  
 (۱) همهٔ فعل‌ها از نظر شمار، مفرد هستند.  
 (۲) فقط از فعل ماضی و آینده استفاده شده است.  
 (۳) فقط فعل اول شخص به کار رفته است.  
 (۴) دو مورد از فعل‌ها زمان آینده دارند.
- ۹- نقش دستوری بخش مشخص شده در کدام گزینه متفاوت است؟  
 (۱) خدا آن ملتیی را سروری داد  
 (۲) هجوم فتنه‌های آسمانی  
 (۳) برزگری پند به فرزند داد  
 (۴) به جان زنده‌دلان، سعیدیا، که ملک وجود  
 که تقدیرش به دست خویش بنوشت  
 مرا آموخت علم زندگانی  
 کای پسر، این پیشه پس از من، تو راست  
 نیرزد آنکه دلی را ز خود بیازاری



۱۰- با توجه به قطعه شعر زیر، کدام گزینه نادرست است؟

- «نام بعضی نفرات / رزق روحم شده است. / وقت هر دلتنگی / سوبیشان دارم دست / جرّتم می بخشد / روشنم می دارد.»
- (۱) سه ضمیر پیوسته در این قطعه شعر به کار رفته است.  
 (۲) ضمیرهای پیوسته این قطعه شعر در نقش‌های مضاف‌الیه، متمم و مفعول آمده‌اند.  
 (۳) هم از ضمیر پیوسته مفرد و هم از ضمیر پیوسته جمع در این قطعه شعر استفاده شده است.  
 (۴) هیچ ضمیر جدایی در این قطعه شعر وجود ندارد.
- ۱۱- به کدام مفهوم در قطعه شعر زیر اشاره نشده است؟

- گل اندر زیر پا گسترده پر کرد  
 مرا با هم نشینی مفتخر کرد  
 چو عمرم مدّتی با گل گذر کرد  
 کمال هم نشین در من اثر کرد  
 وگرنه من همان خاکم که هستم
- (۱) عمر طولانی (۲) تأثیر هم نشین نیک (۳) تغییر نکردن اصل و باطن (۴) پذیرایی کردن خوب

۱۲- معنای کدام گزینه نادرست است؟

- (۱) نظام شاهنشاهی واژگون و جمهوری اسلامی ایران پایه گذاری شد.  
 ← (حکومت شاهنشاهی نابود شد و جمهوری اسلامی ایران تأسیس گردید).  
 (۲) هیچ‌گاه زبانش را به دشنام نمی‌آلود و درباره کسانی که به حریم قانون تجاوز می‌کردند، گذشت و مدارا نداشت.  
 ← (هیچ‌وقت دشنام نمی‌داد و با افرادی که قانون‌شکنی می‌کردند، بخشش و مراعات نداشت).  
 (۳) وقتی دیگران در مشاعره می‌ماندند، سعید ادامه می‌داد؛ ذهن او لبریز سروده‌های زیبا بود.  
 ← (وقتی بقیه در مشاعره ناتوان می‌شدند، سعید ادامه می‌داد؛ ذهن او پر از شعرهای زیبا بود).  
 (۴) قسمت اعظم عمر به غفلت سپری می‌شود.  
 ← (مهم‌ترین بخش‌های عمر با ناآگاهی می‌گذرد).

۱۳- کدام گزینه به درستی معنا شده است؟

- (۱) مکن دورم ز نزدیکان درگاه  
 به راه آور مرا، کافتادم از راه  
 ← (مرا از جمع بندگان خوب درگاه دور نکن؛ مرا هدایت کن، زیرا به زمین افتاده‌ام).  
 (۲) آدم و نوح و خلیل و موسی و عیسی  
 آمده مجموع در ظلال محمد ﷺ  
 ← (همه پیامبران، از جمله آدم، نوح، ابراهیم، موسی و عیسی دنباله‌رو و تحت حمایت حضرت محمد ﷺ هستند).  
 (۳) نگشت آسایشم یک لحظه دمساز  
 گهی از گریه ترسیدم، گه از باز  
 ← (آسایش من تنها یک لحظه همراه نبوده؛ گاهی از گریه و گاهی از پرنده باز شکاری ترسیده‌ام).  
 (۴) زندگی بر تو می‌زند لبخند  
 هست وقت شکفتت امروز  
 ← (زندگی در بهترین شرایط برای تو قرار دارد؛ اکنون هنگام گشت‌وگذار توست).

۱۴- مفهوم کلی کدام گزینه نادرست بیان شده است؟

- (۱) به‌راستی که یکی از نوابغ ادب است  
 میان شاعرها تاکنون نظیرش نیست (مهارت در شاعری)  
 (۲) هرچه کنی کشت، همان بدروی  
 کار بد و نیک، چو کوه و صداست (لزوم تلاش برای موفقیت)  
 (۳) با زبان عریک می‌گفت عمر  
 می‌روم، بشنو صدای پای من (گذر شتابان عمر)  
 (۴) هنوزت نیست پای برزن و بام  
 هنوزت نوبت خواب است و آرام (ضعف و ناتوانی)

۱۵- کدام گزینه با بیت زیر تناسب معنایی ندارد؟

- مکن ما را از این درگاه، محروم  
 چو گنجشکان، مران ما را از این بوم  
 (۱) چو بذل تو کردم جوانی خویش  
 به هنگام پیروی مرانم ز پیش (بذل کردن: صرف کردن)  
 (۲) به لطف، آر بخوری خون من، روا باشد  
 به قهرم از نظر خویشتن مران، ای دوست  
 (۳) توفیق طاعتش ده و پرهیز معصیت  
 هرچه تو را پسند نیابد، بر او مران (معصیت: گناه)  
 (۴) به لطفم بخوان و مران از درم  
 ندارد به‌جز آستانت سرم



۱۶- در کدام گزینه معنای هر دو کلمه مشخص شده، درست است؟

- (۱) لَوْنُ السَّحَابِ، أَبْيَضٌ وَ جَمِيلٌ. (آسمان/ تمیز)
- (۲) الرَّبِيعُ، فَضْلُ الْجَمَالِ وَ الْحَيَاةِ الْجَدِيدَةِ. (بهار/ زندگی)
- (۳) أَجَابَ صَاحِبُ الْمَصْنَعِ وَ قَدَّفَ شَبَكَةً. (گفت/ گذاشت)
- (۴) عَفْوًا؛ نَسِيْتُ وَاجِبَاتِي، مَا قَرَأْتُ الْكِتَابَ. (بخشید/ تکالیفمان)

۱۷- کدام ترجمه، درست است؟

- (۱) نَحْنُ وَ قَفْنَا أَمَامَ الْمُدِيرِ لِأَخْذِ الْجَوَائِزِ: ما جلوی مدیرمان ایستادیم برای گرفتن پاداش.
  - (۲) هُوَ طَرَقَ بَابَ الْمَنْزِلِ وَلَكِنْ مَا جَاءَ صَدِيقُهُ: او در خانه را کوبید ولی دوستش نیامد.
  - (۳) هَلْ زِينَةُ الظَّاهِرِ خَيْرٌ مِنْ زِينَةِ الْبَاطِنِ?: آیا زیبایی درونی بهتر از زیبایی بیرونی است؟
  - (۴) بَيْنَهُمْ نَظِيفٌ وَ بُسْتَانُهُمْ مَمْلُوءٌ بِأَشْجَارِ الرُّمَانِ: خانه ما تمیز است و باغمان پر از درخت انار است.
- ۱۸- ترجمه عبارت «قَالَتْ فِي نَفْسِهَا. يَا لَيْتَنِي ذَهَبْتُ لِنَجَاةِ الْأَشْمَاكِ.» در کدام گزینه آمده است؟

- (۱) ای کاش با خودش گفته بود رفتم برای نجات ماهی‌ها.
- (۲) با خود گفت: ای کاش ماهی‌ها را نجات داده بود.
- (۳) با خودش گفت: ای کاش من برای نجات ماهی‌ها رفته بودم.
- (۴) با خودم گفتم: ای کاش برای نجات ماهی‌ها رفته بودم.

۱۹- در کدام گزینه از نظر معنا، کلمه **ناهماهنگ** وجود دارد؟

- (۱) السَّبْتِ - الأَحَدِ - الإِثْنَيْنِ - الخَمِيسِ
- (۲) أَحْضَرَ - أَصْفَرَ - أَسْوَدَ - أَحْمَرَ
- (۳) أَمْسَ - أَلْيَوْمَ - عَدَ - أُسْبِعَ
- (۴) الرَّبِيعِ - الصَّيْفِ - الخَرِيفِ - الشَّتَاءِ

۲۰- کدام گزینه از نظر قواعد، درست است؟

- (۱) أَنَا وَ صَدِيقَتِي صَعَدْنَا جَبَلًا مِنْ جِبَالِ إِيرَانَ.
- (۲) مَا رَجَعَ مَدْرَسَتِي مِنْ عُرْفَةِ الْمُدِيرَةِ.
- (۳) يَا مُحْسِنٌ هَلْ شَرِبْتَ الْمَاءَ أَمْ لَا؟
- (۴) يَا نَرَجِسُ! كَمْ صَيْفًا جَاءَتْ إِلَى بَيْتِكَ؟

۲۱- کدام پرسش و پاسخ، درست است؟

- (۱) إِلَى أَيْنَ نَظَرْتَ يَا عَلِيُّ؟ نَظَرْتُ إِلَى الْمَصْنَعِ.
- (۲) هَلْ يَوْجَدُ مَوْكِبٌ قَرِيبٌ مِنْ هُنَا؟ لَا، يَوْجَدُ هُنَا مَوْكِبٌ.
- (۳) كَمْ يَوْمًا بَقِيَتْ فِي مَازَنْدِرَانَ؟ بَقِيَتْ أُسْبُوعَيْنِ.
- (۴) يَا أُخْتِي هَلْ عَسَلْتَ يَدَكَ؟ نَعَمْ عَسَلْتُ.

۲۲- کدام گزینه برای جاهای خالی جمله زیر مناسب است؟

«مِهْرَدَادُ وَ أَصْدِقَاءُهُ ..... مِنَ السُّوقِ لِكَيْتَهُ مَا ..... شَيْئًا»

- (۱) رَجَعُوا/ اشْتَرَيْنَا
- (۲) رَجَعَا/ اشْتَرَيْتُ
- (۳) رَجَعُوا/ اشْتَرَى
- (۴) رَجَعَ/ اشْتَرَى

۲۳- مذكر جمله «أَيُّهَا النِّسَاءُ؟ أَأَنْتِ نَصَرْتُنَّ جَدَّتَكُنَّ؟» در کدام گزینه آمده است؟

- (۱) أَيُّهَا الرَّجَالُ. أَأَنْتُمْ نَصَرْتُمْ جَدَّتَكُمْ؟
- (۲) أَيُّهَا الرَّجُلُ. أَأَنْتِ نَصَرْتِ جَدَّتَكَ؟
- (۳) أَيُّهَا الرَّجُلُ. أَأَنْتُمْ نَصَرْتُمْ جَدَّكُمْ؟
- (۴) أَيُّهَا الرَّجَالُ. أَأَنْتِ نَصَرْتُنَّ جَدَّتَكُنَّ؟

۲۴- کاربرد ضمیر در کدام گزینه درست است؟

- (۱) أَنْتِ جَالِسٌ فِي عُرْفَتِكَ.
- (۲) هُمْ فَاعِلُونَ الْمُجْدُونَ.
- (۳) أَنْتُمْ وَاقِفَاتُ أَمَامَ فُنْدُقِكُمْ.
- (۴) أَنْتِ نَدِمْتَ مِنْ عَمَلِكَ.

۲۵- با توجه به متن پاسخ دهید.

«أَنَا وَ أُسْرَتِي ذَهَبْنَا فِي فَصْلِ الرَّبِيعِ إِلَى شِيرَازَ بِالسَّيَّارَةِ. الْجَوُّ مُعْتَدِلٌ هُنَاكَ وَ لَكِنْ فِي فَصْلِ الصَّيْفِ حَارٌّ. نَحْنُ بَقِينَا أُسْبُوعَيْنِ فِي شِيرَازَ ثُمَّ رَجَعْنَا إِلَى بَيْتِنَا فِي مَدِينَةِ يَزْدَ. مَدِينَتُنَا كَبِيرَةٌ وَ الْجَوُّ فِيهَا بَارِدٌ فِي فَصْلِ الشَّتَاءِ.»

کیف الجوّ في شيراز في فصل الربيع؟

- (۱) حارٌّ
- (۲) باردٌ
- (۳) معتدلٌ
- (۴) كَبِيرَةٌ





۲۶- کدام آیه درباره همراهی همیشگی خدا با انسان است؟

(۱) «فَاللَّهُ خَيْرٌ حَافِظًا وَهُوَ أَرْحَمُ الرَّاحِمِينَ»

(۳) «وَهُوَ مَعَكُمْ أَيْنَ مَا كُنْتُمْ»

(۲) «لئن شَكَرْتُمْ لَأَزِيدَنَّكُمْ»

(۴) «إِيَّاكَ نَعْبُدُ وَإِيَّاكَ نَسْتَعِينُ»

۲۷- مطابق سخن رسول خدا ﷺ، همه موارد زیر نتیجه دعای فرد مسلمان است، به جز گزینه ..... .

(۱) دعایش باعث افزایش صبر و تقوایش می‌شود.

(۳) در برابر آن دعا، بخشی از گناهانش آمرزیده می‌شود.

(۲) دعایش برایش در روز قیامت ذخیره می‌شود.

(۴) دعایش در همین دنیا مستجاب می‌شود.

۲۸- چرا در لحظات مرگ آن دو موجود ترسناک از پیش جوانی که مادرش را اذیت کرده بود و دلش را شکسته بود، رفتند و به جای آن‌ها

دو فرشته زیبا و خندان به سوی او آمدند؟

(۱) به دلیل توبه آن جوان و عذرخواهی از مادرش

(۳) به دلیل دعای پیامبر ﷺ و توبه آن جوان

(۲) به دلیل توبه آن جوان و رضایت دادن مادرش

(۴) به دلیل دعای پیامبر ﷺ و رضایت دادن مادرش

۲۹- «پیامبر اکرم ﷺ، وقتی لباس و کفش‌اش پاره می‌شد، خودش آن‌ها را می‌دوخت. وقتی در می‌زدند خودش در را باز می‌کرد و با

دستان خودش گندم و جو را آسیاب می‌کرد و آب می‌آورد»، این عبارات کدام ویژگی ایشان را بیان می‌کند؟

(۱) بزرگواری و محبت - ساده‌زیستی

(۳) حیا و عفت - فداکاری

(۲) عزت نفس - فداکاری

(۴) عزت نفس - ساده‌زیستی

۳۰- آیه زیر درباره چه کسی و درباره چه صفتی از اوست؟

«وَمِنَ النَّاسِ مَنْ يَشْرِي نَفْسَهُ ابْتِغَاءَ مَرْضَاتِ اللَّهِ وَاللَّهُ رَؤُوفٌ بِالْعِبَادِ»

(۱) حضرت علی عليه السلام - عدالت‌طلبی

(۳) پیامبر اکرم عليه السلام - بزرگواری و محبت

(۲) حضرت علی عليه السلام - فداکاری

(۴) پیامبر اکرم عليه السلام - اخلاق نیکو

۳۱- تمام گزینه‌های زیر از تحولات روحی و شخصیتی دوران نوجوانی است، به جز گزینه ..... .

(۱) انتظار از دیگران که به آن‌ها اهمیت دهند.

(۲) احساس اینکه می‌توانند به صورت مستقل دیدگاه‌های خود را بیان کنند.

(۳) رویدن مو در برخی قسمت‌های بدن.

(۴) تردید در دانسته‌های قبلی خود.

۳۲- کدام یک پاک است؟ (ماهی، خون جهنده ندارد.)

(۱) موی سگ

(۲) خون ماهی

(۳) ادرار موش

(۴) شراب

۳۳- مطابق فرمایش امام باقر عليه السلام، نمازی که در اول وقت خوانده شود، به صاحبش چه می‌گوید؟

(۱) بشتاب به سوی نماز. بشتاب به سوی رستگاری. بشتاب به سوی بهترین عمل.

(۲) اگر می‌دانستی مورد توجه چه کسی قرار گرفته‌ای، هرگز نماز را رها نمی‌کردی.

(۳) من قول می‌دهم در روز قیامت تو را به بهشت ببرم.

(۴) تو مرا خوب حفظ کردی، خداوند هم تو را حفظ کند.

۳۴- وحید آقا به رکعت سوم نماز جماعت می‌رسد. او پس از نیت کردن و تکبیر گفتن، در رکعت اول نمازش (که رکعت سوم امام جماعت است)

حمد و سوره را می‌خواند. سپس با امام جماعت به رکوع می‌رود و چون زودتر از امام جماعت سر از رکوع برداشت، در حالی که امام جماعت

هنوز در رکوع بود، دوباره به رکوع برمی‌گردد. او در رکعت دوم نمازش رکوع را به‌جا نیاورد. کدام گزینه درباره نماز او درست است؟

(۱) او نباید در رکعت اولش، حمد و سوره را می‌خواند، زیرا نماز جماعت برقرار است.

(۲) او وقتی سر از رکوع برداشت، نباید دوباره به رکوع برمی‌گشت. زیرا رکوع از ارکان نماز است.

(۳) او در رکعت دوم نمازش باید رکوع را به‌جا می‌آورد، که از ارکان نماز است.

(۴) او نباید پس از نیت تکبیر می‌گفت.

۳۵- کدام گزینه درباره غسل درست است؟

- ۱) غسل سه مرحله دارد، شستن سر و گردن، شستن سمت راست بدن، شستن سمت چپ بدن.
- ۲) تمام غسل‌های واجب و مستحب شبیه غسل جمعه است، حتی نیت‌هایشان هم یکسان است.
- ۳) اگر چیزی به بدن چسبیده باشد که نگذارد آب به بدن برسد، باید قبل از شروع غسل آن را برطرف کنیم.
- ۴) واجب است قبل از شرکت در نماز جمعه غسل جمعه به جا آورد.

۳۶- تمام گزینه‌ها از آیه زیر قابل برداشت است، به جز گزینه ..... .

﴿يَا أَيُّهَا النَّبِيُّ قُلْ لَلزَّوْجِ كِ وَ بَنَاتِكَ وَ نِسَاءِ الْمُؤْمِنِينَ يُدْنِينَ عَلَيْهِنَّ مِنْ جَلَابِيبِهِنَّ ذَلِكَ أَدْنَى أَنْ يُعْرَفْنَ فَلَا يُؤْذِينَ...﴾

- ۱) توصیه به رعایت حجاب توسط خانم‌ها.
- ۲) توصیه به رعایت حجاب توسط آقایان و خانم‌ها.
- ۳) حجاب باعث درامان ماندن از آزار و اذیت افراد سودجو و هوسران می‌شود.
- ۴) افراد باحجاب به عفت شناخته می‌شوند.

۳۷- پیام حدیث زیر چیست؟

«علم و دانش گنجی است، پایان‌ناپذیر»

- ۱) زندگی همیشگی
- ۲) علم آموزی برای همه
- ۳) اهمیت کشف گنج و کشف علم
- ۴) ثروت واقعی

۳۸- امام صادق علیه السلام می‌فرماید: «برای اینکه کسی را به درستی بشناسید، تنها به طولانی بودن رکوع و سجود و نمازش نگاه نکنید، بلکه به

..... و ..... او بنگرید.»

- ۱) اهل نماز و نیکی بودن - وفای به عهد
- ۲) راست گویی - امانت‌داری
- ۳) راست گویی - اهل نماز و نیکی بودن
- ۴) رعایت اوقات نماز - نیکی به هم‌نوعان در سختی و راحتی

۳۹- آیا عجله و شتاب همیشه و در همه حال ناپسند است؟

- ۱) بله، زیرا در مواقع عجله نمی‌توانیم تصمیم درستی بگیریم.
- ۲) بله، زیرا عجله باعث تصمیم نادرست و دوباره کاری می‌شود.
- ۳) بله، راه درمانش اندیشه است.
- ۴) خیر، در انجام کارهای نیک نباید تأخیر و کوتاهی کنیم.

۴۰- کدام گزینه راه درمان تبلی نیست؟

- ۱) برنامه‌ریزی
- ۲) دوستی با انسان‌های کوشا
- ۳) عجله و شتاب در کارها
- ۴) آینده‌نگری

## زبان انگلیسی

کل کتاب



وقت پیشنهادی

41- Which item completes the given chart correctly?

- کدام گزینه جدول زیر را به درستی کامل می‌کند؟

5	8
May	?

- 1) February
- 2) August
- 3) April
- 4) June

42- Which item does NOT complete the given sentence correctly?

- کدام گزینه جمله زیر را به درستی کامل نمی‌کند؟

"I am going to visit my grandmother this ....."

- 1) afternoon
- 2) today
- 3) morning
- 4) evening



■ Read the text below and answer the questions.

- متن زیر را بخوانید و به پرسش‌های مربوط به آن پاسخ دهید.

"I am Ahmad. I am 8. I like cooking. I can help my mom cooking chicken and fish. I like spaghetti, but I cannot cook it. It is hard\* for me to cook this food. I cannot make\* salad because\* I cannot work with a knife\*."

\*hard = سخت، مشکل      \*make = درست کردن      \*because = زیرا      \*knife = چاقو

49- Which item refers to the underlined part of the given text?

- کدام گزینه به قسمتی از متن که زیر آن خط کشیده شده اشاره دارد؟

- 1) chicken                      2) fish                      3) spaghetti                      4) salad

50- Which item completes the given sentence correctly according to the given text?

- با توجه به متن داده شده، کدام گزینه جمله زیر را به درستی کامل می‌کند؟

"Ahmad cannot work with a knife to make ....."

- 1) chicken                      2) fish                      3) spaghetti                      4) salad



وقت پیشنهادی

## مطالعات اجتماعی

کل کتاب

۵۱- «انجام خوب و درست وظایف» نشان دهنده کدام ویژگی انسان است؟

- (۱) متعهد بودن                      (۲) فهیم بودن                      (۳) مسئولیت پذیر بودن                      (۴) خودپسند بودن

۵۲- نیاز به «برقراری نظم و امنیت» موجب شکل گیری چه چیزی در جوامع شده است؟

- (۱) رشد اخلاقی انسان‌ها                      (۲) قوانین و مقررات                      (۳) احترام به هم‌نوع                      (۴) مراکز آموزشی منظم

۵۳- در صورت عدم توافق درباره تصویب قانون توسط ارکان قوه مقننه، تصمیم نهایی در مورد آن قانون چگونه گرفته می‌شود؟

(۱) قوه مجریه وارد عمل می‌شود و قانون را اجرا می‌کند.

(۲) برای بررسی دوباره قانون به مجلس برمی‌گردد.

(۳) قانون تصویب نشده از مسیر بررسی و تصمیم گیری خارج می‌شود.

(۴) مجمع تشخیص مصلحت نظام، تصمیم نهایی را می‌گیرد.

۵۴- مؤسسه بیمه به چه علت به وجود آمده است؟

(۱) برای جبران زیان‌های مالی و جانی

(۲) برای برطرف کردن مشکلات افراد

(۳) برای حمایت مالی و روانی افراد

(۴) برای ایجاد حسن تعهد در جامعه

۵۵- اصولاً به چه مواردی در موضوع «عوامل تولید»، سرمایه گفته می‌شود؟

(۱) هر آنچه به عنوان منابع طبیعی نامیده می‌شود و در معادن یافت می‌شود.

(۲) هر آنچه که غیر از عوامل انسانی باشد و بتواند به انباشت ثروت کمک کند.

(۳) هر آنچه به عنوان منابع مالی در بانک‌ها، صرافی‌ها و خانه‌های مردم است.

(۴) هر آنچه سبب تولید شده و مواد خام را در عرصه تولید به کالا تبدیل کند.

۵۶- روستاهای ایران چگونه اداره می‌شوند؟

(۱) توسط شهربانی و اداره حفظ محیط زیست و منابع طبیعی

(۲) توسط شهرداری نزدیک آن روستا

(۳) توسط دهیار و شورای اسلامی روستا

(۴) توسط مردم و ریش سفیدان

۵۷- چنانچه مساحت یک منطقه جغرافیایی که انسان‌ها در آن زندگی می‌کنند، کاهش پیدا کند، «تراکم جمعیت» دستخوش چه تغییری می‌شود؟

(۱) ثابت باقی می‌ماند.

(۲) افزایش پیدا می‌کند.

(۳) کاهش پیدا می‌کند.

(۴) نیازمند اطلاعات بیشتری است.



۵۸- کدام یک از موارد زیر جزو «حوزه آبریز دریای خزر» به حساب می‌آید؟

- (۱) رود اترک (۲) رود جراحی (۳) دریاچه بختگان (۴) دریاچه مهارلو

۵۹- به طور کلی در کشت پی‌درپی یک محصول در زمین، موجب چه اتفاقی می‌شود؟

- (۱) افزایش سطح تولید و رونق کشاورزی (۲) افزایش مواد غذایی و رفاه بیشتر  
(۳) از بین رفتن خاک و زایایی آن (۴) کاهش میزان تولید آن محصول

۶۰- قرآن نفیسی که با خط مبارک ائمه اطهار علیهم‌السلام روی پوست آهو نوشته شده است از جمله آثار ارزشمند کدام موزه در کشور است؟

- (۱) موزه ایران باستان (۲) موزه ملی قرآن کریم (۳) موزه دوران اسلامی (۴) موزه امام رضا علیه‌السلام

۶۱- کدام تعریف زیر به مفهوم «میراث فرهنگی» نزدیک‌تر است؟

- (۱) به همه آثار ارزشمندی که به فرهنگ، تمدن و هویت یک ملت مربوط می‌شود.  
(۲) به آثار تاریخی و قدمت‌داری گفته می‌شود که شکوه یک کشور را به یاد می‌آورند.  
(۳) به دستاوردهای فرهنگی - تاریخی یک ملت گفته می‌شوند.  
(۴) به گنجینه‌های هنری، باستانی و علمی یک کشور گفته می‌شوند.

۶۲- ضرورت اختراع خط بر چه اساسی بوده است؟

- (۱) برای ایجاد فضای گفت‌وگو (۲) رسیدگی به کارها و نوشتن و محاسبه دادوستدها  
(۳) ارتباط گرفتن با کشورهای دوست برای برقراری آرامش (۴) برای اینکه انسان‌ها نیاز به یک‌دل و یک‌زبان شدن داشتند.

۶۳- اولین فرمانروای کدام حکومت ایرانی «دهیوک» بوده است؟

- (۱) پارس‌ها (۲) سلوکی‌ها (۳) مادها (۴) پارت‌ها

۶۴- ایالت‌های ۲۳ گانه ایرانی در زمان حکمرانی کدام پادشاه ایران به‌وجود آمدند؟

- (۱) داریوش (۲) یزدگرد سوم (۳) کوروش (۴) شاپور اول

۶۵- «چوگان بازی» از جمله ورزش‌های پررونق کدام ادوار تاریخی ایران باستان بوده است؟

- (۱) سلوکیان و اشکانیان (۲) هخامنشیان و ساسانیان (۳) اشکانیان و ساسانیان (۴) دوران بعد از اسلام

## ریاضی

کل کتاب



وقت پیشنهادی

۶۶- حاصل ضرب تمام اعداد صحیح بین ۵ و ۵- برابر با کدام گزینه است؟

- (۱) -۱۴۴۰ (۲) -۵۷۶ (۳) صفر (۴) ۵۷۶

۶۷- امیرعلی سوار آسان‌بر شد. او ابتدا ۵ طبقه بالا و سپس ۴ طبقه پایین و دوباره ۳ طبقه بالا رفت. اگر الان در طبقه هفتم باشد، امیرعلی در ابتدا در چه طبقه‌ای سوار آسان‌بر شده است؟

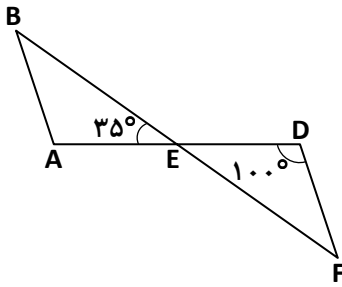
- (۱) ۹ (۲) ۱۱ (۳) ۳ (۴) ۴

۶۸- حاصل عبارت  $3 + [(-8) - (-3)] - (-7)$  برابر با کدام گزینه است؟

- (۱) -۱۹ (۲) -۵ (۳) ۲۳ (۴) ۲۵

محل انجام محاسبات

۶۹- در شکل زیر، اگر  $\triangle DEF \cong \triangle AEB$  باشد، اندازه  $\hat{A}BE$  چند درجه است؟



۳۵ (۱)

۴۵ (۲)

۵۵ (۳)

۵۰ (۴)

۷۰- مساحت مستطیلی ۱۸ سانتی متر مربع است. اگر طول و عرض مستطیل اعداد طبیعی باشند، اختلاف بیشترین مقدار و کمترین مقدار محیط مستطیل چقدر است؟

۴ (۴)

۱۰ (۳)

۱۶ (۲)

۲۰ (۱)

۷۱- محیط نیم‌دایره‌ای به شعاع  $a$  برابر با کدام گزینه است؟ ( $\pi = ۳$ )

$۷۵a^۲$  (۴)

$۲۵a^۲$  (۳)

$۵a$  (۲)

$۸a$  (۱)

۷۲-  $\frac{۲}{۵}$  پول حسن برابر ۵۰۰۰۰ تومان است. کل پول او چقدر است؟

۵۰۰۰۰۰ (۴)

۱۲۵۰۰۰ (۳)

۲۰۰۰۰۰ (۲)

۲۵۰۰۰۰ (۱)

۷۳- اگر  $a+b=-۱$  باشد، مقدار عددی عبارت  $a(a+b)^۲ - b(a+b)$  برابر با کدام گزینه است؟

صفر (۴)

-۱ (۳)

۲ (۲)

۱ (۱)

۷۴- چند مورد از عبارت‌های زیر درست است؟

الف) اگر  $\overline{AB}$  و  $\overline{CD}$  دو بردار مساوی باشند، آنگاه  $\overline{BA}$  و  $\overline{CD}$  دو بردار قرینه‌اند.

ب) دو بردار قرینه، هم‌اندازه هستند ولی هم‌جهت و هم‌راستا نیستند.

ج) مختصات قرینه  $\vec{a} = \begin{bmatrix} ۱ \\ ۲ \end{bmatrix}$  نسبت به محور طول‌ها برابر  $\begin{bmatrix} -۱ \\ ۲ \end{bmatrix}$  است.

صفر (۴)

۳ (۳)

۲ (۲)

۱ (۱)

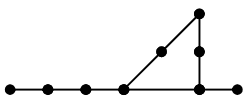
۷۵- در شکل زیر، چند پاره‌خط وجود دارد؟

۹ (۱)

۱۳ (۲)

۱۴ (۳)

۲۱ (۴)



محل انجام محاسبات

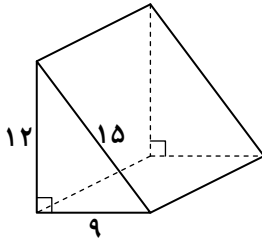
۷۶- اگر  $a$  بر  $b$  بخش پذیر باشد، حاصل عبارت  $\frac{(a+b) \times [a \text{ و } a]}{[a \text{ و } b] \times (b \text{ و } b)}$  برابر با کدام گزینه است؟

- (۱) ۱ (۲)  $\frac{a^2}{b^2}$  (۳)  $ab$  (۴)  $\frac{1}{ab}$

۷۷- ۱۶ برابر عدد  $2^{3x+1}$  برابر با کدام گزینه است؟

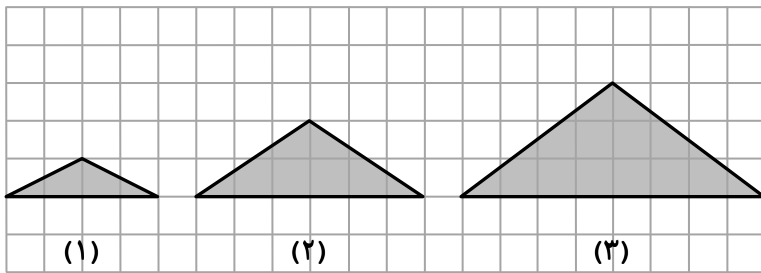
- (۱)  $2^{7x+1}$  (۲)  $2^{3x+5}$  (۳)  $3 \times 2^{3x+1}$  (۴)  $3 \times 2^{3x+2}$

۷۸- اگر مساحت جانبی منشور زیر برابر با ۳۲۴ سانتی متر مربع باشد، ارتفاع این منشور چند سانتی متر است؟



- (۱) ۱۲ (۲) ۶ (۳) ۳ (۴) ۹

۷۹- با توجه به شکل‌های الگوی زیر، اندازه هر ضلع مربع‌های کوچک یک سانتی متر است. اگر روی این شکل‌ها، منشورهایی با ارتفاع ۴ سانتی متر بسازیم، حجم منشور ساخته شده با شکل ۲۰م چند سانتی متر مکعب است؟



- (۱) ۴۲۰ (۲) ۸۴۰ (۳) ۱۶۸۰ (۴) ۳۳۶۰

۸۰- دومین مضرب ۷ که بر ۵ هم بخش پذیر باشد، کدام است؟

- (۱) ۷۰ (۲) ۱۴۰ (۳) ۲۱۰ (۴) ۲۸۰

۸۱- ریشه‌های دوم عدد  $\sqrt{(-2)^4}$  کدام است؟

- (۱) -۴ و +۴ (۲) -۸ و +۸ (۳) -۲ و +۲ (۴) -۱۶ و +۱۶

۸۲- اگر نقطه  $A = \begin{bmatrix} a-4 \\ 6 \end{bmatrix}$  در ناحیه اول دستگاه مختصات و فاصله نقطه  $A$  تا محور عرض‌ها ۳ برابر فاصله‌اش تا محور طول‌ها باشد، مقدار  $a$  کدام است؟

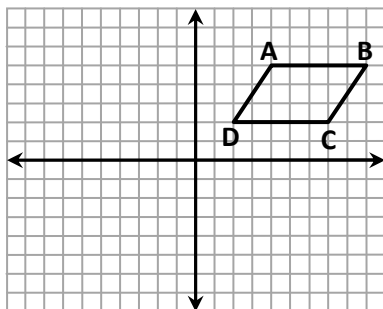
- (۱) ۱۰ (۲) ۶ (۳) ۱۴ (۴) ۲۲

محل انجام محاسبات

۸۳- حاصل عبارت  $4 \times (2 + (7 \times 2^3 - 5))$  برابر با کدام گزینه است؟

- (۱) ۳۶ (۲) ۲۰ (۳) ۱۶ (۴) ۴

۸۴- در شکل زیر متوازی‌الاضلاع ABCD را با بردار  $\begin{bmatrix} -7 \\ -5 \end{bmatrix}$  انتقال می‌دهیم. کدام رأس متوازی‌الاضلاع به نقطه‌ای روی محور عرض‌ها منتقل می‌شود؟



- (۱) A  
(۲) B  
(۳) C  
(۴) D

۸۵- در کیسه‌ای ۲۰ مهره سیاه، ۶ مهره سفید و ۱۰ مهره سبز وجود دارد. یک مهره به تصادف خارج می‌کنیم. احتمال اینکه مهره بیرون آمده سبز نباشد، کدام است؟

- (۱)  $\frac{1}{6}$  (۲)  $\frac{5}{18}$  (۳)  $\frac{5}{9}$  (۴)  $\frac{13}{18}$



وقت پیشنهادی

## علوم تجربی

کل کتاب

۸۶- کدام گزینه مثالی از علم است؟

- (۱) ساخت رایانه  
(۲) پی بردن به وجود شتاب گرانش زمین  
(۳) اختراع تلفن  
(۴) تولید دارو

۸۷- جرم کودکی ۶ کیلوگرم و ۶۳ گرم اندازه‌گیری شده است. دقت اندازه‌گیری چند گرم بوده است؟

- (۱) ۱ (۲) ۱۰۰ (۳) ۱۰ (۴) ۰/۰۱

۸۸- جنبش ذرات کدام ماده بیشتر است؟

- (۱) طلا (۲) جیوه (۳) کلر (۴) گوگرد

۸۹- در کدام گزینه علت انتخاب ماده در وسیله موردنظر درست نیست؟

- (۱) قوطی نوشابه ← شکل‌پذیری خوب و سبک بودن آلومینیم  
(۲) سیم برق ← رسانایی الکتریکی خوب مس  
(۳) ظروف آشپزخانه ← رسانایی حرارتی خوب آلومینیم  
(۴) بدنه خودرو ← مقاومت فولاد در برابر خوردگی

محل انجام محاسبات

۹۰- ماده اولیه لیوان چینی و لیوان شیشه‌ای به ترتیب کدامند؟

۱) خاک رس - ماسه      ۲) آهک - شن      ۳) ماسه - خاک رس      ۴) شن - ماسه

۹۱- چرا با وجود اینکه بیش از ۷۵ درصد سطح زمین را آب فرا گرفته است. باز هم ما با کمبود آب مواجه هستیم؟

۱) چون بیشتر آب‌ها شور هستند.

۲) چون بارندگی کم است.

۳) چون آب‌ها تبخیر می‌شوند.

۴) چون آب‌ها در زیر زمین هستند.

۹۲- درست قبل از یک مسابقه دو و بلافاصله بعد از آن، ضربان قلب و تعداد نفس‌های یکی از دوندگان اندازه‌گیری می‌شود. این دو

اندازه‌گیری چه تفاوت‌هایی با یکدیگر خواهند داشت؟

۱) ضربان قلب تغییری نمی‌کند، ولی تعداد نفس‌ها کم می‌شود.

۲) ضربان قلب زیاد می‌شود، ولی تعداد نفس‌ها فرقی نمی‌کند.

۳) ضربان قلب و تعداد نفس‌ها هر دو زیاد می‌شوند.

۴) ضربان قلب و تعداد نفس‌ها هر دو کم می‌شوند.

۹۳- چه عاملی باعث می‌شود که باریک روده سطح جذب بسیار بزرگی داشته باشد؟

۱) وجود پرزها و چین‌های باریک روده

۲) طول کوتاه باریک روده

۳) ضخامت دیواره باریک روده

۴) حرکت سریع غذا در باریک روده

۹۴- کدام عبارت در مورد صفحه‌های خورشیدی درست است؟

۱) در خارج از جو قابل استفاده است.

۲) انرژی گرمایی خورشید را به انرژی نورانی و الکتریکی تبدیل می‌کند.

۳) گرمای خورشید را جذب و به انرژی نورانی تبدیل می‌کند.

۴) ۸۰٪ انرژی نورانی خورشید را به انرژی الکتریکی تبدیل می‌کند.

۹۵- در کدام یک از روش‌های انتقال گرما، برخورد مولکول‌ها عامل اصلی انتقال گرما است؟

۱) رسانایی      ۲) همرفت      ۳) تابش      ۴) رسانایی و همرفت

۹۶- کدام گزینه در مورد یاخته درست نیست؟

۱) یاخته ساختار درونی ندارد.

۲) واحد ساختمان و عمل موجودات زنده است.

۳) یاخته را می‌توان مشابه یک کارخانه دانست.

۴) یاخته دارای هسته است.

۹۷- آبی متیل به کدام یک از بخش‌های سلول متصل می‌شود؟

۱) پروتئین‌های غشا

۲) لیپیدهای غشا

۳) کربوهیدرات‌های غشا

۴) مواد درون هسته

۹۸- بدن انسان قادر به ساخت کدام یک نیست؟

۱) پروتئین و آمینواسیدهای ضروری

۲) فقط آمینواسیدهای ضروری

۳) چربی و پروتئین

۴) فقط چربی

۹۹- کدام یک از موارد زیر بهترین عایق گرما است؟

۱) فلز

۲) آب

۳) پشم شیشه

۴) سنگ

۱۰۰- هنگامی که یک سیب از درخت جدا می‌شود و به زمین سقوط می‌کند، هر چه به سطح زمین نزدیک‌تر می‌شود، انرژی جنبشی آن ..... :

۱) کم می‌شود.

۲) زیاد می‌شود.

۳) تغییر نمی‌کند.

۴) ابتدا کم شده و نزدیک سطح زمین زیاد می‌شود.

۱۰۱- کدام یک از تبدیلات زیر در کبد انجام می‌شود؟

۱) چربی ← پروتئین

۲) آمینواسید ← چربی

۳) کربوهیدرات ← پروتئین

۴) کربوهیدرات ← چربی

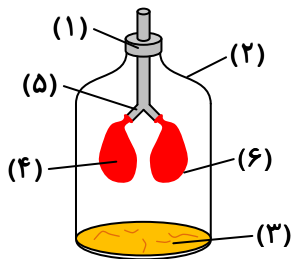
۱۰۲- کدام گزینه ضخامت دیواره رگ‌ها را به درستی مقایسه می‌کند؟

- (۱) سرخرگ > سیاهرگ < مویرگ
- (۲) سیاهرگ < سرخرگ < مویرگ
- (۳) سرخرگ > سیاهرگ > مویرگ
- (۴) سیاهرگ > سرخرگ < مویرگ

۱۰۳- نقش خون در ایمن‌سازی بدن به کدام بخش خون مربوط است؟

- (۱) پلاسما
  - (۲) ویتامین‌ها
  - (۳) یاخته‌های قرمز
  - (۴) یاخته‌های سفید
- ۱۰۴- با توجه به شکل با انجام دادن کدام کار بادکنک‌های درون بطری بزرگ می‌شوند؟

- (۱) مکیدن هوا از لوله (۱)
- (۲) پایین کشیدن پلاستیک (۳)
- (۳) فشار دادن پلاستیک (۳) به سمت بالا
- (۴) فشار دادن نقطه (۲)



۱۰۵- در دستگاه دفع ادرار به ترتیب چه تعداد میزنای، کلیه، لگنچه و مثانه وجود دارد؟

- (۱) ۱، ۲، ۲، ۱
- (۲) ۱، ۲، ۱، ۲
- (۳) ۲، ۲، ۲، ۲
- (۴) ۱، ۲، ۲، ۲

## از من تا خدا

کل کتاب



وقت پیشنهادی

۱۰۶- برای «شهید رضا پناهی» جبهه مثل چه چیزی بود؟ و سرانجام محل شهادتش کجا بود؟

- (۱) تفریح‌گاه - دو کوهه
- (۲) دانشگاه - قصرشیرین
- (۳) تفریح‌گاه - قصرشیرین
- (۴) دانشگاه - دو کوهه

۱۰۷- کدام آیه عبارت زیر را تأیید می‌کند؟

«اگر حرف خدا با دیگران فرق دارد، باید فقط به حرف خدا گوش داد.»

- (۱) «عَسَىٰ اَنْ تَكْرَهُوا شَيْئًا وَّ هُوَ خَيْرٌ لِّكُمْ»
- (۲) «اَجِيبْ دَعْوَةَ الدَّاعِ اِذَا دَعَا»
- (۳) «اَفَمَنْ يَخْلُقُ كَمَنْ لَا يَخْلُقُ»
- (۴) «هُوَ الَّذِي خَلَقَ لَكُمْ مَا فِي الْاَرْضِ جَمِيعًا»

۱۰۸- بعضی کلمه‌های عربی و قرآنی را نمی‌شود به فارسی ترجمه کرد؛ مثلاً.....

- (۱) کلمه «الله» چون اسم خاص است.
- (۲) کلمه «الله» چون معنای پیچیده و مفصلی دارد.
- (۳) کلمه «رحیم» چون اسم خاص است.
- (۴) کلمه «رحیم» چون معنای پیچیده و مفصلی دارد.

۱۰۹- «عادل بودن» که از شرایط مرجع تقلید است یعنی.....

- (۱) در میان مردم انصاف را رعایت کند.
- (۲) در میان مردم عدالت را اجرا کند.
- (۳) واجبات را انجام دهد و محرمات را ترک کند.
- (۴) از موقعیت خود سوء استفاده نکند.

۱۱۰- علی‌آقا، مرد باخدا و خانواده‌داری است. با اینکه حقوق او با اجاره‌اش مطابقت دارد. دوستش از او سؤال می‌کند باقی مخارج را چه می‌کند؟ او پاسخ می‌دهد: «درست نمی‌دانم اما هر بار به دلیلی کمک‌خرجی اضافه می‌شود و خدا را شکر، لنگ نمی‌مانم.» کدام آیه مربوط به این موضوع است؟

- (۱) «اِذَا قِيلَ لَكُمْ فِي سَبِيلِ اللّٰهِ»
- (۲) «اَلَا بِذِكْرِ اللّٰهِ تَتَمُنَّ الْقُلُوْبُ»
- (۳) «اِنَّ اللّٰهَ مَعَ الصّٰبِرِيْنَ»
- (۴) «وَيَرْزُقْهُ مِنْ حَيْثُ لَا يَحْتَسِبُ»



- ۱۱۱- آقای تهرانی فروشندهٔ پردرآمدی در بازار بزرگ است. هر روز قرآن می‌خواند و ذکر خدا از لب‌های او قطع نمی‌شود؛ ولی جنس تقلبی به مشتریان خود می‌فروشد. کدام مورد رفتار او را به‌درستی تحلیل می‌کند؟
- (۱) حتماً به یاد خداوند نیست. (۲) قرآن و ذکرها را اشتباه تلفظ می‌کند.
- (۳) درآمد زیاد موجب انجام کارهای حرام می‌شود. (۴) به خاطر قرآن و ذکر خدا بخشیده می‌شود.
- ۱۱۲- «دست‌کم هزار میلیون خورشید در کهکشان راه شیری وجود دارد و هر کدام از این خورشیدها مرکز یک سامانهٔ مستقل دیگر هستند.» با شناخت این عبارات، به کدام یک از موارد زیر نزدیک‌تر می‌شویم؟
- (۱) به یاد مهربانی خدا می‌افتیم. (۲) به یاد عظمت خداوند در همهٔ ابعاد می‌افتیم.
- (۳) صبر و امیدواری پیدا می‌کنیم. (۴) صبور می‌شویم و شکرگزاری می‌کنیم.
- ۱۱۳- «رجیم» کیست؟ و نشانهٔ موفقیت خود را چه می‌داند؟
- (۱) انسان امیدوار به خدا- راضی بودن خداوند از او (۲) انسان امیدوار به خدا- سپاسگزار بودن از خداوند
- (۳) شیطان- ناسپاسی انسان (۴) شیطان- نارضایتی انسان
- ۱۱۴- متن زیر سرانجام چه کسی بوده است؟
- «هرقدر فریاد زده و کمک خواسته، کسی نتوانسته به فریادش برسد. او و ثروتش در دل زمین فرورفته و از دیده‌ها پنهان شده‌اند.»
- (۱) هارون (۲) قارون (۳) مُطَفِّفین (۴) نمرود
- ۱۱۵- با توجه به قصهٔ «صورت‌م را بخارن» در درس نهم، کدام یک از موارد زیر نادرست است؟
- (۱) جانباز موردنظر برای عید به خانه پیش مادرش برده شده بود.
- (۲) جانباز موردنظر این قصه، سال‌ها به شکم روی تخت دراز کشیده بود.
- (۳) آن جانباز به خاطر بمباران صدام در خرمشهر، قطع نخاع شده بود.
- (۴) آن جانباز چون بدنش حس نداشت، درد بیماری را احساس نمی‌کرد.
- ۱۱۶- بزرگ‌ترین نعمت معنوی که خداوند به انسان عطا کرده است، چیست؟
- (۱) فرزند صالح (۲) محبت و همدلی (۳) آرامش (۴) دین اسلام
- ۱۱۷- موضوع آیهٔ زیر کدام است؟
- ﴿وَ إِذَا بَشَّرَ أَحَدَهُمْ بِالْأُنثَىٰ ظَلَّ وَجْهَهُ مُسْوَدًّا وَ هُوَ كَاطِمٌ﴾
- (۱) بشارت به کسانی که دختردار می‌شوند. (۲) وعدهٔ جهنم
- (۳) ناراحتی کسانی که دختردار می‌شدند. (۴) بشارت به بهشت
- ۱۱۸- برای «زهرها خانم» پوشاندن پاها تا مچ، در برابر نامحرم، چه حکمی دارد؟
- (۱) اگر احتمال به گناه افتادن نباشد واجب نیست آن قسمت را بپوشاند.
- (۲) اگر زینت و یا زیبایی خاصی داشته باشد، واجب است آن را بپوشاند.
- (۳) در هر صورت پوشاندن آن قسمت در برابر نامحرم واجب است.
- (۴) در هر صورت پوشاندن آن قسمت در برابر نامحرم واجب نیست.
- ۱۱۹- کدام یک از افراد زیر باید وضوی جبیره بگیرند؟
- (۱) احمد آب کمی برای وضو گرفتن دارد و ممکن است از تشنگی اذیت شود.
- (۲) افشین در انجام اعمال وضو بسیار شک می‌کند.
- (۳) دست ارشیا زخمی شده و نمی‌تواند موقتاً پانسمان خود را باز کند.
- (۴) امیر در هوای بسیار سرد و یخبندان می‌خواهد وضو بگیرد.
- ۱۲۰- کشور نفت‌خیز بحرین در کدام زمان از ایران جدا شد؟
- (۱) هشت سال جنگ تحمیلی عراق با ایران
- (۲) پسر رضاشاه پهلوی
- (۳) هنگام ورود انگلیسی‌ها به ایران در زمان احمدشاه قاجار
- (۴) جنگ جهانی اول

گزینه دو



مؤسسه آموزشی فرهنگی


راهی نو آینده‌ای روشن

۱ کارنامه‌ات را ببین ۲ عملکردت را تحلیل کن ۳ از رفع اشکال هوشمند کمک بگیر ۴ حالا برای آزمون بعدی آماده شو



# کارنامه

# فردی



پس از هر آزمون دانش‌آموزان به کارنامه خود دسترسی خواهند داشت. کارنامه آزمون‌های گزینه دو شامل اطلاعات مهمی است که به شما کمک می‌کند به سادگی آزمون خود را تحلیل نمایید. با کارنامه‌های گزینه دو و تحلیل آزمون می‌توانید نقاط ضعف خود را شناسایی و برطرف کنید.



## رفع اشکال هوشمند

با رفع اشکال هوشمند می‌توانید به سؤالات جدیدی دسترسی داشته باشید که مشابه با سؤالات نادرست و بدون پاسخ شما در آزمون است.

## تحلیل آزمون

در تحلیل آزمون به سؤالات درست، نادرست و بدون پاسخ خود همراه با محدوده، موضوع، حیطه یادگیری و پاسخ تشریحی آن دسترسی خواهید داشت.

## کارنامه درس به درس

برای هر درس در کارنامه تحلیلی مجزا وجود دارد که موارد مهمی مانند تراز هر درس، سطح علمی و ... در آن بخش قابل مشاهده است.

## کارت آزمون

در بخش کارت آزمون اطلاعات مهم و اصلی آزمون (تعداد دروس، سؤالات آزمون، رتبه و تراز شما و ...) در اختیار شما قرار می‌گیرد.

