

گزینهدو



مؤسسه آموزشی فرهنگی

پایه نهم
دوره اول متوسطه

* ارزشیابی پیشرفت تحصیلی

مرحله ۱۲ (۲۲ خرداد ۱۴۰۴)

سال تحصیلی ۱۴۰۳-۱۴۰۴

عنوان

تعداد پرسش	از شماره	تا شماره	وقت پیشنهادی
۱۵	۱	۱۵	۱۵ دقیقه
۱۰	۱۶	۲۵	۱۰ دقیقه
۱۵	۲۶	۴۰	۱۵ دقیقه
۱۰	۴۱	۵۰	۱۰ دقیقه
۱۵	۵۱	۶۵	۱۵ دقیقه
۲۰	۶۶	۸۵	۵۰ دقیقه
۲۰	۸۶	۱۰۵	۳۵ دقیقه

مدت پاسخ گویی: ۱۵۰ دقیقه

تعداد کل پرسش ها: ۱۰۵

توجه:

* این ارزشیابی، نمره منفی دارد.



دانش آموز گرامی، شما می توانید با اسکن تصویر روبه روبه وسیله گوشی هوشمند و یا تبلت خود، پاسخ های تشریحی را مشاهده نمایید.



۱- معنای واژه‌های «قندیل - فراغت - آبخشور - تل» به ترتیب در کدام گزینه به درستی آمده است؟

- (۱) چراغ‌دان - جدایی - سرچشمه - بلندی
(۲) چراغ آویز - آسایش - سرچشمه - تپه
(۳) چراغ‌دان - جدا شدن - منبع آب - کوه
(۴) چراغ آویز - آسودگی - رودخانه - بلندی

۲- در کدام گزینه غلط املایی وجود ندارد؟

- (۱) سنگین‌ترین مصاعب - حقه و یا قوت - تائی و آهستگی - صومعه و عبادتگاه
(۲) محاورات و گفت‌وگوها - مصاعی و تلاش‌ها - ملازم و همراه - واقف و آگاه
(۳) مهد و گهواره - رخست و جواز - مایه‌ور و سرشار - متانت و وقار
(۴) ترجیح و برتری - غره و مفتون - سریر و اورنگ - توبره کاه

۳- در کدام گزینه به ترتیب جفت‌واژه‌های «مترادف، متضاد و هم‌خانواده» آمده است؟

- (۱) فراست و زیرک - قریب و بعید - وصایا و توصیه
(۲) فقیه و دانشمند - دنیا و عقبی - فوق و توفیق
(۳) مفتون و شیفته - ستایش و هجو - عزیمت و عازم
(۴) انعام و چهارپایان - تف و حرارت - صنع و صنایع
۴- در کدام گزینه به ترتیب نام اثر دیگری از پدیدآورندگان «آثارالباقیه - هفت‌اورنگ - شازده کوچولو - حق‌الیقین» آمده است؟
(۱) تحقیق ماللهند - بهارستان - پرواز شبانه - گلشن راز
(۲) التفهیم - پریشان - زمین انسان‌ها - شاهدنامه
(۳) اخلاق ناصری - بهارستان - پرواز شبانه - توحید مفضل
(۴) التفهیم - روضه خلد - بینویان - شاهدنامه

۵- در همه گزینه‌ها هر سه آرایه درون پرانتز به کار رفته است، به جز گزینه

- (۱) خبرت هست که مرغان سحر می‌گویند
(۲) آخر ای خفته، سر از خواب جهالت بردار؟ (واج‌آرایی - تشبیه - مراعات‌نظیر)
(۳) ای دل ار سیل فنا بنیاد هستی برکنند
(۴) هم تو گل‌های این باغ را می‌شناسی
(۱) چون تو را نوح است کشتیمان، ز طوفان غم مخور (تضاد - تلمیح - تشبیه)
(۲) هم تمام شهیدان تو را می‌شناسند (تکرار - مراعات‌نظیر - تشخیص)
(۳) مار بد جانی ستاند از سلیم
(۴) یار بد آرد سوی نار مقیم (تکرار - جناس - واج‌آرایی)

۶- با توجه به بیت زیر، کدام گزینه نادرست است؟

- سعدی از سرزنش خلق ترسد، هیهات
(۱) «سعدی» تخلص شاعر است و در جایگاه منادا قرار گرفته است.
(۲) «چه» وابسته پیشین از نوع صفت پرسشی است.
(۳) «را» در معنای حرف اضافه به کار رفته است.
(۴) نوع پرسش مطرح‌شده در بیت، انکاری است.

۷- متن زیر، به ترتیب چند وابسته گروه اسمی از نوع صفت اشاره و چند جمله دارد؟

- «اگر در خانه‌ای شوی که به نقش و گچ، کنده کرده باشند، روزگاری دراز، صفت آن گویی و تعجب کنی و همیشه در خانه خدایی هیچ تعجب نکنی! و این عالم، خانه خداست و فرش وی زمین است و لکن سقفی بی‌ستون و این، عجب‌تر است.»
(۱) ۱۰ - ۱
(۲) ۳ - ۱۰
(۳) ۲ - ۹
(۴) ۲ - ۸

۸- در کدام گزینه، یک واژه «مشتق» در جایگاه قید قرار گرفته است؟

- (۱) علی دومرتبه به نقاشی‌ها نگاه کرد.
(۲) قطعاً این دانش‌آموز باهوش کوشا است.
(۳) معلم، گویا سخن می‌گفت.
(۴) کودک گاه‌گاه لبخندی می‌زد.

۹- اگر زمان‌های «ماضی نقلی، مضارع مستمر، ماضی بعید» را به ترتیب از فعل‌های «می‌نگاریم، گریخته است، می‌شناسی» بسازیم، فعل‌های کدام گزینه به دست می‌آید؟

- (۱) می‌نگاشته‌ایم - دارد می‌گریزد - شناخته باشی
(۲) نگاشته‌ایم - دارد می‌گریزد - شناخته بودی
(۳) نگاشته‌ایم - می‌گریزد - شناخته باشی
(۴) نگاشته‌ام - می‌گریزد - شناخته بودی



۱۰- در همهٔ گزینه‌ها نقش دستوری بخش‌های مشخص شده، به ترتیب درون پرانتز به درستی آمده است، به جز گزینهٔ

- (۱) آینه چون نقش تو بنمود راست
 خود شکن، آینه شکستن خطاست (مسند- نهاد)
 (۲) چو ایران نباشد، تن من مباد
 در این بوم و بوم، زنده یک تن مباد (نهاد- مسند)
 (۳) به لطفم بخوان و مران از درم
 ندارد به جز آستانت سرم (مفعول- مضاف‌الیه)
 (۴) دلا غافل ز سبحانی، چه حاصل؟
 مطیع نفس و شیطانی، چه حاصل؟ (منادا- متمم)

۱۱- معنای کدام گزینه درون پرانتز نادرست بیان شده است؟

- (۱) به سه وجه این کار را از برای خودم کردم، نه از بهر تو؛ هیچ اندیشه مدار! (به سه دلیل این کار را به خاطر خودم انجام دادم، نه به خاطر تو؛ پس اصلاً نگران نباش.)
 (۲) در زمین نگاه کن که چگونه بساط تو ساخته است و جوانب وی فراخ گسترانیده. (به زمین نگاه کن که چگونه اسباب آسایش تو را فراهم کرده است و فضاهای نزدیک به تو را گسترش داده است.)
 (۳) اسکندر، یکی از کاردانا را از عملی شریف، عزل کرد و عملی خسیس به وی داد. (اسکندر یکی از افراد کارآزموده را از کاری ارزشمند برکنار کرد و شغلی کم‌ارزش به او داد.)
 (۴) ایرانیان پشت‌به‌پشت هم بر بیگانه تاخته‌اند و دشمنان را انگشت‌به‌دهان گذاشته‌اند. (ایرانیان متحد با یکدیگر بر دشمن حمله برده‌اند و آنان را حیرت‌زده کرده‌اند.)

۱۲- معنی کدام گزینه درست و کامل نیست؟

- (۱) بیا تا برآریم دسستی ز دل
 که نتوان برآورد فردا ز گل
 ← (بیا تا خالصانه به درگاه خداوند دعا کنیم؛ زیرا در قبر، دیگر چنین کاری در توان ما نیست.)
 (۲) کمال است در نفس انسان، سخن
 تو خود را به گفتار، ناقص مکن
 ← (سخن گفتن نشانهٔ برتری در وجود انسان است؛ پس خود را با سخنان نادرست و بیهوده، خوار نکن.)
 (۳) سگ اصحاب کهف، روزی چند
 پی نیکان گرفت و مردم شد
 ← (سگ اصحاب کهف مدتی همراه و دنباله‌رو انسان‌های خداشناس و خوب شد و به مقام و مرتبهٔ انسانی دست یافت.)
 (۴) که تواند که دهد میوهٔ الوان از چوب؟
 یا که داند که برآرد گل صدبرگ از خار؟
 ← (هیچ کسی توانایی ندارد که از چوب درختان، میوهٔ رنگارنگ پدید آورد و هیچ کسی نمی‌داند که چگونه از خار، گل صدبرگ به وجود می‌آید.)

۱۳- منظور از بخش مشخص شده، در کدام گزینه نادرست بیان شده است؟

- (۱) دریغ است ایران که ویران شود
 کنام پلنگان و شیران شود (دشمنان ایران)
 (۲) چو فردا نامه خوانان نامه خوانند
 تو وینسی نامهٔ خود، ننگت آید (فرشتگان)
 (۳) اینک ای خوب، فصل غریبی سرآمد
 چون تمام غریبان تو را می‌شناسند (امام زمان علیه السلام)
 (۴) همه کار ایام، درس است و پند
 دریغا که شاگرد هشیار نیست (انسان)

۱۴- مفهوم کدام گزینه به درستی ذکر شده است؟

- (۱) امیدوارم که دانه‌ای هم بر خاک بیفشانی و با رویدنش همراه شوی تا دریایی چقدر زندگی در یک درخت جریان دارد. (طبیعت‌گردی)
 (۲) اگر مردم را با گوهر اصل، گوهر هنر نباشد، صحبت هیچ کس را به کار نیاید. (کارآمدی اصل و نسب به شرط وجود دانش)
 (۳) تو خود را مرنجان ای طرّار! اگر یک دوست خفته است، دوست دیگر بیدار است. (شب‌زنده‌داری رابعه)
 (۴) آن طرف، نصف جهان با تانک‌های آتشین در راه؛ این طرف ایرانیان، تنها. (برابری قوای نظامی)

۱۵- مفهوم کدام گزینه از عبارت زیر دورتر است؟

- «ای ابوذر، خداوند متعال به گفته‌هایتان نمی‌نگرد، بلکه به دل‌ها و کردارتان می‌نگرد.»
 (۱) ما برون را ننگ‌ریم و قال را
 ما درون را بنگ‌ریم و حال را (قال: سخن)
 (۲) شرط خوبی نیست تنها، جان من، گفتار خوب
 خوبی گفتار داری، بایدت رفتار خوب
 (۳) بزرگی، سراسر به گفتار نیست
 دوصد گفته چون نیم‌کردار نیست
 (۴) نه من ز بی‌عملی در جهان، ملولم و بس
 ملالت علما هم ز علم بی‌عمل است (ملول: خسته)



۱۶- در کدام گزینه ترجمه واژه مشخص شده، درست است؟

- (۱) بَعَثَهُ وَقَعَتْ غَزَالَهُ فِي الْحُفْرَةِ الْعَمِيقَةِ. (ناگهان)
 (۲) يَوْجُدُ فِي الْمُتَحَفِ آثَارُ يَتْرُ زَمَرَمَ. (چشمه)
 (۳) أَنَا مُسْتَعِدٌّ لِحِفْظِ الْكُتُبِ الْعِلْمِيَّةِ. (باهوش)
 (۴) كَمْ مَرَّةً سَافَرْتُ إِلَى مَكَّةَ الْمُكْرَمَةِ؟ (یک باره)

۱۷- در کدام گزینه، مترادف و یا متضاد کلمه داده شده، وجود ندارد؟

- (۱) أَفْضَلَ النَّاسِ أَنْفَعُهُمْ لِلنَّاسِ. (أَحْسَنَ)
 (۲) أَحَبُّ الطَّعَامِ إِلَى اللَّهِ مَا كَثُرَتْ عَلَيْهِ الْأَيْدِي. (قَلَّتْ)
 (۳) نَهَضَ أَخِي صَبَاحًا فِي السَّاعَةِ السَّادِسَةِ كُلِّ يَوْمٍ. (نَامَ)
 (۴) أَنَا أَعْرِفُ اللُّغَةَ الْعَرَبِيَّةَ جَيِّدًا. (رَجَاءً)

۱۸- در کدام گزینه از نظر معنایی، کلمه ناهماهنگ وجود دارد؟

- (۱) شَهْرٌ / بِلَادٌ / مُحَافَظَةٌ
 (۲) أَرْزَقُ / بَنَفْسَجِي / أَخْضَرُ
 (۳) كَبْرٌ / صِغَرٌ / طُفُولِيَّةٌ
 (۴) شُرْطِي / حَلَوَانِي / رِيَاضِي

۱۹- ترجمه کدام عبارت، درست است؟

- (۱) نَحْنُ نَطْنُ أَنَّهُ جَرَحَ بَدَنَهُ لِلْخُرُوجِ مِنَ الْحُفْرَةِ: ما فهمیدیم قطعاً او بدنش را برای خارج شدن از گودال مجروح کرده است.
 (۲) مَا سَرَّ الصَّيَادُونَ الشَّبَكَةَ فِي الْغَابَةِ وَلَكِنْ وَقَعَ التُّعَلُّبُ فِيهَا: شکارچی‌ها تور را در جنگل نپوشاندند ولی روباه در آن افتاد.
 (۳) إِسْتَلَمَ سَائِقِي سَيَّارَةَ الْأُجْرَةِ النَّقُودَ مِنَ الْمَسَافِرِينَ: راننده اتوبوس پول‌ها را از مسافران دریافت کرد.
 (۴) يَا شَبَابُ عَلَيْنَكُمْ بِالْمُحَاوَلَةِ كَأَنَّ مَا حَدَثَ شَيْءٌ: ای جوانان! ما باید تلاش کنیم، گویی که چیزی اتفاق نیفتاده است.

۲۰- ترجمه درست عبارت زیر کدام است؟

«مَنْ طَلَبَ شَيْئًا وَجَدَهُ، وَجَدَهُ، وَمَنْ قَرَعَ بَابًا وَلَجَّ، وَلَجَّ»

- (۱) کسی که چیزی را می‌خواهد و می‌یابد، کوشش می‌کند و کسی که درمی‌زند و اصرار می‌کند، وارد می‌شود.
 (۲) کسی که درخواست کرد برای چیزی، آن را به دست آورد و کسی که درمی‌زند، داخل شد.
 (۳) هرکس چیزی را خواست و تلاش نمود، دست یافت و هرکس درمی‌زند و پافشاری کرد، وارد شد.
 (۴) هرکس چیزی را طلب کرد و یافت، تلاش کرد و هرکس درمی‌زند و پافشاری کرد، پافشاری کرد.

۲۱- کدام عبارت از نظر معنایی با کلمه داخل پرانتز، کامل می‌شود؟

- (۱) هَلْ بَابَ الْحَرَمِ هَذِهِ اللَّيْلَةَ؟ (يَسُدُّونَ)
 (۲) الْجَوْ حَارٌّ. رَجَاءٌ شَغْلِي (الْمُسْجَلُ)
 (۳) اشْتَرَيْتُ شَاخِنَ الْجَوَالِ مِنْ ذَلِكَ (الْمَحَلَّ)
 (۴) إِلَى أَيِّ مَدْنٍ تُرِيدُونَ؟ (الدَّهَابُ)

۲۲- کدام گزینه، درست است؟

- (۱) ۴: ۴۵' : السَّاعَةُ الرَّابِعَةُ إِلَّا رُبْعًا.
 (۲) ۱: ۳۰' : السَّاعَةُ الْأُولَى وَ النَّصْفُ.
 (۳) ۹: ۱۵' : السَّاعَةُ التَّاسِعَةُ وَالرُّبْعُ.
 (۴) ۷: ۴۵' : السَّاعَةُ السَّادِسَةُ إِلَّا رُبْعًا.

۲۳- در کدام گزینه بیشترین تعداد صفت آمده است؟

- (۱) يَعْمَلُ أَخُوكَ الْأَكْبَرَ فِي مَنْظَمَةِ الْأُمَمِ الْمُتَّحِدَةِ وَ هُوَ مُوظَّفٌ نَاجِحٌ.
 (۲) الْكَهْرِبَاءُ طَاقَةٌ تَشْتَعِلُ بِهَا الْأَلَاتُ وَ الْأَدَوَاتُ الصَّنَاعِيَّةُ.
 (۳) فِي الْمُتَحَفِ آثَارٌ تَارِيخِيَّةٌ لِلْحَرَمَيْنِ الشَّرِيفَيْنِ وَ لَا يُمَكِّنُ شِرَاءَهَا.
 (۴) كَمَلُ إِدِيسُونُ أَكْثَرُ مِنْ أَلْفِ إِخْتِرَاعٍ مُهِمٍّ مِنْهَا بَطَارِيئَةُ السَّيَّارَةِ.

۲۴- در کدام گزینه، فعل امر یا نهی وجود ندارد؟

- (۱) يَا صَدِيقِي لَا تَصْرُخْ فِي الصَّفِّ وَ اكْتُبْ وَاجِبَاتِكَ.
 (۲) إِزْرَعِي الصَّدَاقَةَ وَ لَا تَزْرَعِي الْعِدَاوَةَ بَيْنَ النَّاسِ يَا أَخِي.
 (۳) قَالَ رَسُولُ اللَّهِ ﷺ: إِذَا غَضِبْتَ فَاسْكُتْ.
 (۴) اعْتَذِرْ مِنْ أَبِي وَ أَقْبَلْهُ وَ مَا أَفْعَلْ هَذَا الْعَمَلِ مَرَّةً أُخْرَى.

۲۵- کدام گزینه برای جای خالی، مناسب است؟

«يَا أَيُّهَا الْإِخْوَانُ هُدَيْنِ الصَّدِيقِينَ وَ لَا فِي الْمَشَاكِلِ، فَهَمَا أَيضًا.»

- (۱) انصروا / تتركاها / سوف يساعدا انكما
 (۲) انصروا / تتركوها / يساعدا انكما
 (۳) انصروا / تتركوها / سوف يساعدونكم
 (۴) انصروا / تتركاها / يساعدونكم





۲۶- موارد زیر در چه صورت اتفاق می‌افتد؟

«مردم نسبت به سرنوشت دیگران بی‌تفاوت می‌شوند. کارهای ناپسند در جامعه رواج می‌یابد و زشتی بسیاری از این کارها از بین می‌رود تا آنجا که حتی برخی زشتی‌ها به‌عنوان کار خوب شناخته می‌شود.»

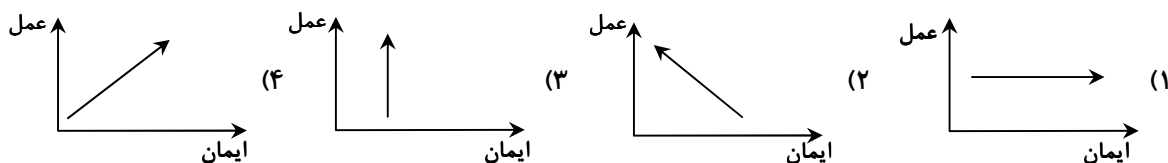
(۱) ترک جهاد در راه خدا

(۲) ترک انفاق

(۳) ترک امر به معروف و نهی از منکر

(۴) نداشتن روحیه خودباوری

۲۷- کدام یک از نمودارهای زیر رابطه «ایمان به خدا» و «عمل صالح» را به‌درستی نشان می‌دهد؟



۲۸- مطابق حدیث رسول خدا ﷺ، چگونه انسان می‌تواند بستر خواب خود را تبدیل به مسجد و خواب خود را تبدیل به نماز کند؟

(۱) با خواندن نماز شب

(۲) با وضو خوابیدن

(۳) با خوابیدن رو به سمت قبله

(۴) با خواندن قرآن قبل از خواب

۲۹- دلیل پذیرش صلح توسط امام حسن علیه السلام چه بود؟

(۱) امام به دنبال تسلط بر جامعه و حکومت کردن نبودند.

(۲) وقتی امام می‌دید به حکومت رسیدنشان باعث بدبینی مردم به دین می‌شود، از آن کناره گرفتند.

(۳) مردم از حاکمان ترس داشتند و به دنیا دل بسته بودند، در نتیجه از امام پیروی و حمایت نمی‌کردند.

(۴) دشمنان با حکومت کردن به امور دنیا مشغول می‌شدند و کمتر به دین آسیب وارد می‌کردند.

۳۰- حضرت محمد صلی الله علیه و آله از کسانی که انتظار ظهور امام مهدی علیه السلام را دارند، به چه تعبیری یاد فرمودند؟

(۱) از بهترین کارهای امت خود می‌داند.

(۲) جزء یاران حضرت مهدی علیه السلام قلمداد می‌شوند.

(۳) پاداش کسانی را دارند که زمین را آکنده از عدل و داد می‌کنند.

(۴) جزء شیعیان واقعی و اثرگذار در طول تاریخ خواهند بود.

۳۱- جمله درست درباره پیامبران الهی و ویژگی‌های ایشان کدام است؟

(۱) حضرت نوح علیه السلام سال‌های بسیار طولانی نه تنها مردم عادی بلکه طاغوت زمانش نمرود را به خداپرستی دعوت کرد.

(۲) حضرت ابراهیم علیه السلام بارها عموی خود ایوب را به خداپرستی دعوت کرد و از بت‌پرستی باز می‌داشت.

(۳) حضرت ابراهیم علیه السلام به دستور خدا فرزند کوچک خود را از مادرش جدا کرد و در سرزمین خشک مکه رها کرد.

(۴) حضرت موسی علاوه بر دعوت فرعون به خداپرستی، خواستار آزادی بنی‌اسرائیل شد.

۳۲- کدام مورد در ادامه حدیث زیر ذکر نشده است؟

پیامبر صلی الله علیه و آله: «هنگامی که انسان مؤمن از دنیا می‌رود، تمامی اعمال او قطع می‌شود؛ به جز سه عمل:

(۱) اخلاق خوش و خاطرات نیکی که مردم از او دارند.

(۲) صدقه جاریه

(۳) فرزند صالحی که برایش دعا می‌کند.

(۴) علمی که از خود به یادگار گذاشته است.

۳۳- هر کدام از نبردهای زیر به ترتیب جزء کدام یک از جهادها به شمار می آید؟

«نبرد سپاه اسلام با حکومت ایران در صدر اسلام- جهاد مأموران نیروی انتظامی با اشرار و قاچاقچیان مسلح در کشورمان- جنگ احزاب توسط مسلمانان در صدر اسلام»

(۱) جهاد ابتدایی- جهاد ابتدایی- جهاد دفاعی

(۲) جهاد ابتدایی- جهاد با سرکشان- جهاد دفاعی

(۳) جهاد دفاعی- جهاد با سرکشان- جهاد ابتدایی

(۴) جهاد دفاعی- جهاد ابتدایی- جهاد دفاعی

۳۴- نام دو ورزش و مهارتی که پیامبر ﷺ به فراگیری آن توصیه کردند، چیست؟

(۱) کشتی و تیراندازی

(۲) کشتی و سوارکاری

(۳) تیراندازی و سوارکاری

(۴) دویدن و شنا

۳۵- کدام گزینه با دیگر گزینهها متمایز است؟

(۱) وقف

(۲) خمس

(۳) انفاق واجب

(۴) سال مالی

۳۶- گزینه مرتب با ابیات زیر را انتخاب کنید.

بری از رنج و گدازی، بری از درد و نیازی

همه عزّی و جلالی، همه علمی و یقینی

بری از بیم و امیدی، بری از عیب و خطایی

همه نوری و سروری، همه جودی و سخایی

(۱) تسبیح- تسبیح (۲) تسبیح- حمد (۳) حمد- حمد (۴) حمد- تسبیح

۳۷- در ادامه آیه، اولین موردی که جای خالی را پر می کند کدام است؟

﴿الَّذِينَ آمَنُوا وَ تَطْمَئِنُّ قُلُوبُهُمْ بِذِكْرِ اللَّهِ أَلَا﴾

(۱) ﴿تَطْمَئِنُّ﴾ (۲) ﴿الْقُلُوبُ﴾ (۳) ﴿بِذِكْرِ اللَّهِ﴾ (۴) ﴿قُلُوبِ الْمُؤْمِنِينَ﴾

۳۸- محمدرضا غیرعمدی و از روی فراموشی در نماز مرتکب عملی شده است و در نتیجه به خاطر آن باید بعد از پایان نماز دو سجده سهو

به جا بیاورد. آن عملی که مرتکب شده چیست؟

(۱) خنده با صدای بلند

(۲) روی برگرداندن از قبله

(۳) حرف زدن با دیگری

(۴) انجام ندادن دو سجده در یک رکعت که از ارکان می باشد.

۳۹- چرا خداوند به مؤمنان می فرماید: ﴿سست نشوید و غمگین نباشید﴾؟

(۱) ﴿انْتُمْ الْأَعْلَوْنَ﴾ (۲) ﴿لَا تَهِنُوا﴾ (۳) ﴿إِنْ اسْتَطَعُوا﴾ (۴) ﴿لَا تَحْزَنُوا﴾

۴۰- هانیه خوبی های زیادی دارد، ولی یکی از اشکالات او، آن است که در حجاب مقداری سهل انگار است. دوستش محدّثه در این زمینه

با روشی پسندیده به او تذکر می دهد. از نظر حضرت امام صادق علیه السلام محدّثه چگونه دوستی به حساب می آید؟

(۱) عامل زنده شدن روح و روان انسان

(۲) بهترین دوستان

(۳) نزدیک تر از خویشاوند

(۴) محبوب ترین دوستان



وقت پیشنهادی

زبان انگلیسی

کل کتاب

41- Choose the correct item.

- گزینه درست را انتخاب کنید.

A: Is Peyman a boy?

B: Yes, he always helps the charity.

1) patient

2) serious

3) generous

4) nervous



42- Choose the **BEST** item.

- بهترین گزینه را انتخاب کنید.

"..... live in a small house in Istanbul; house is in the center of the city."

- 1) We - our
2) They - your
3) They - them
4) We - my

43- How many **grammatical** mistakes are there in the given text?

- در متن زیر چند اشتباه دستوری (گرامری) وجود دارد؟

"Last Saturday, something happens to one of the firefighters. He hurt his hand. At first, his friends were upset. But, he asked him to put out the fire and save people's lives."

- 1) 1
2) 2
3) 3
4) 4

44- In which item, the given sentence has a "falling intonation"?

- در کدام گزینه، جمله داده شده آهنگ «falling» دارد؟

- 1) How old are you?
2) It's amazing!
3) Do you tell stories?
4) Is it a beautiful country?

45- Which item shows the correct order for the given conversation?

- کدام گزینه ترتیب درست برای مکالمه زیر را نشان می‌دهد؟

- a) I'll put it on the wound.
b) And it also hurts a lot.
c) I think I have one. It's in my bag.
d) Oh, I cut my finger.
e) Do you have a plaster?
f) Let me see. Oh, it's bleeding.

- 1) d - e - c - b - a - f
2) d - f - b - e - c - a
3) e - c - a - f - b - d
4) e - f - c - b - d - a

46- Choose the **BEST** item.

- بهترین گزینه را انتخاب کنید.

"Mozhdeh in some online classes this term."

- 1) downloads
2) connects
3) participates
4) updates

47- In which item, there is a meaningful conversation?

- در کدام گزینه، مکالمه معناداری وجود دارد؟

- 1) A: Is Jane a sad girl?
B: No, she is always upset.
2) A: What does your cousin like?
B: He is a selfish man.
3) A: How are they traveling?
B: They are traveling with their aunt.
4) A: What is your dad doing?
B: He is checking in at the hotel.

48- Which item is **grammatically** correct?

- کدام گزینه از نظر دستوری درست است؟

"..... is on Shahrn Street."

- 1) Saman's school
2) The school of Saman
3) Saman's sons school
4) The school of Saman's sons

■ Read the text below and answer the questions.

- متن زیر را بخوانید و به پرسش‌های مربوط به آن پاسخ دهید.

“Last weekend, I traveled to Isfahan with my family. We visited many old places. My favorite place was Naqsh-e Jahan Square*. It was very big and beautiful. We took many pictures there. Then, we went to a traditional* restaurant. I ate kebab and yoghurt drink. Then, we walked around and bought some souvenirs. I really enjoyed this trip. I want to visit Isfahan again soon.”

*square: میدان *traditional: سنتی

49- Which item refers to the underlined word according to the given text?

- با توجه به متن داده‌شده، کدام گزینه به واژه‌ای که زیر آن خط کشیده شده اشاره دارد؟

- | | |
|------------------|-----------------------------|
| 1) Isfahan | 2) Naqsh-e Jahan Square |
| 3) The old place | 4) A traditional restaurant |

50- Choose the **BEST** item according to the given text.

- با توجه به متن داده‌شده، بهترین گزینه را انتخاب کنید.

A: When did they buy some souvenirs?

B: After

- | | |
|----------------------------------|---------------------------------------|
| 1) visiting old places | 2) visiting Naqsh-e Jahan Square |
| 3) taking a lot of nice pictures | 4) eating in a traditional restaurant |



وقت پیشنهادی

مطالعات اجتماعی

کل کتاب

۵۱- کدام یک از موارد زیر بیشترین تأکید آیات قرآن دربارهٔ آفرینش زمین و آسمان را نشان می‌دهد؟

- | | |
|---|---|
| ۱) ارزش علمی پدیده‌های طبیعی | ۲) نظم شگفت‌انگیز در خلقت و دعوت به تفکر |
| ۳) زیبایی‌های طبیعت برای لذت بردن انسان | ۴) تشویق به سفر در زمین برای شناخت اقلیم‌ها |

۵۲- علت اصلی تفاوت فصل‌ها در مناطق مختلف زمین چیست؟

- | | |
|------------------------------|---|
| ۱) اختلاف ارتفاع از سطح دریا | ۲) مایل بودن محور زمین هنگام حرکت انتقالی |
| ۳) چرخش زمین به دور خودش | ۴) نزدیکی یا دوری از خط استوا |

۵۳- کدام یک از موارد زیر نمونه‌ای از تأثیر سه محیط اصلی در ایجاد زیست کره است؟

- | | |
|--|---|
| ۱) ذوب شدن یخ‌ها در قطب جنوب | ۲) آتشفشان‌های فعال در رشته‌کوه‌ها |
| ۳) رشد گیاهان در خاک حاصلخیز با رطوبت و دمای مناسب | ۴) تغییر مسیر رودخانه‌ها در فصل بارندگی |

۵۴- علی‌رغم پوشش گستردهٔ آب روی کرهٔ زمین، چرا بحران آب یکی از مهم‌ترین چالش‌های جهانی است؟

- | | |
|---|---|
| ۱) چون بیشتر آب‌ها شور و غیرقابل استفاده هستند. | ۲) چون بارندگی در همهٔ نقاط مساوی نیست. |
| ۳) چون میزان تبخیر بیشتر از مقدار بارش است. | ۴) چون جمعیت کرهٔ زمین بیش از ظرفیت آبی آن است. |

۵۵- کدام عامل نقش بیشتری در تعیین نوع زیست‌بوم‌ها در مناطق مختلف زمین دارد؟

- | | |
|-----------------------|-----------------------------|
| ۱) ارتفاع از سطح دریا | ۲) دمای هوا و میزان بارندگی |
| ۳) نوع خاک منطقه | ۴) فاصله از منابع آب |

۵۶- چرا زیست‌بوم‌های طبیعی در معرض نابودی قرار دارند؟

- | | |
|------------------------------------|--|
| ۱) به دلیل کاهش بارندگی | ۲) به دلیل استفادهٔ کنترل‌نشدهٔ انسان از منابع و آلودگی محیط |
| ۳) به دلیل افزایش ناگهانی زلزله‌ها | ۴) عدم توان سازگاری با اقلیم جدید در گیاهان |

۵۷- چرا دوره صفوی را نقطه عطفی در وحدت سیاسی و مذهبی ایران می‌دانند؟

(۱) چون در آن زمان مرزهای ایران ثابت شد.

(۲) چون حاکمان محلی استقلال پیدا کردند.

(۳) چون مذهب تشیع رسمی شد و حکومت مرکزی قدرتمند شکل گرفت.

(۴) چون با اروپایی‌ها پیمان‌نامه‌های نظامی امضاء شد.

۵۸- کدام یک از موارد زیر نشان‌دهنده شکوفایی فرهنگی ایران در عصر صفوی است؟

(۱) توسعه صنایع نفتی و معدنی

(۲) گسترش مدارس، معماری اسلام و مراکز علمی

(۳) اجرای برنامه‌های اصلاحات ارضی

(۴) افزایش تعاملات سیاسی با غرب

۵۹- چرا نادرشاه افشار توانست پس از سقوط صفویه، وحدت سیاسی ایران را احیاء کند؟

(۱) چون پایتخت را به تهران منتقل کرد.

(۲) چون با تکیه بر قدرت نظامی، دشمنان داخلی و خارجی را شکست داد.

(۳) چون به تشویق اروپائیان حکومت را به دست گرفت.

(۴) چون با عثمانی‌ها پیمان‌نامه صلح امضاء کرد.

۶۰- اعتراض به امتیاز تالبوت نشانه‌ای از کدام رویکرد مردم ایران در دوره قاجار بود؟

(۱) تلاش برای ارتباط با غرب

(۲) علاقه به تغییر نظام سلطنتی

(۳) حفظ استقلال اقتصادی کشور در برابر بیگانگان

(۴) نارضایتی از تولید داخلی

۶۱- چرا انقلاب مشروطه در ایران رخ داد؟

(۱) برای حذف پادشاهی و ایجاد دموکراسی

(۲) برای ایجاد مجلس و قانون و محدود کردن قدرت شاه

(۳) برای تقسیم اراضی بین مردم

(۴) برای قطع رابطه با دولت‌های اروپایی

۶۲- کدام یک از موارد زیر نمونه‌ای از یک «هنجار» در فرهنگ ایرانی است؟

(۱) اعتقاد به یگانگی خداوند

(۲) احترام به بزرگ‌ترها

(۳) برگزاری مراسم عاشورا

(۴) زبان فارسی

۶۳- کدام یک از موارد زیر با مفهوم «بهره‌وری» در زندگی فردی و اجتماعی مطابقت دارد؟

(۱) استفاده از منابع طبیعی بدون محدودیت برای رفاه بیشتر

(۲) افزایش تولید به هر قیمتی حتی با تخریب محیط زیست

(۳) استفاده هوشمندانه از امکانات و مهارت برای افزایش کیفیت زندگی

(۴) مصرف بیشتر نشان‌دهنده رشد اقتصادی جامعه است.

۶۴- چرا در نظام جمهوری اسلامی ایران، قدرت رهبری اهمیت ویژه‌ای دارد؟

(۱) چون رهبر مسئول اجرای احکام قضایی است.

(۲) چون رهبر تنها فرد منتخب مردم است.

(۳) چون رهبر بالاترین مقام کشور و ناظر بر سه قوه است.

(۴) چون رهبر در تدوین قانون اساسی نقش دارد.

۶۵- چرا مشارکت مردم در انتخابات شوراهای اسلامی شهر و روستا اهمیت دارد؟

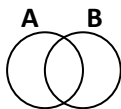
(۱) چون بودجه کشور توسط شوراها تعیین می‌شود.

(۲) چون آن‌ها قوانین اساسی کشور را تغییر می‌دهند.

(۳) چون شوراها با تصمیم‌گیری محلی، به حل مشکلات نزدیک‌تر کمک می‌کنند.

(۴) چون شورای شهر نقش نظارتی بر دولت مرکزی دارد.





۷۲- حاصل عبارت $\sqrt[3]{(-x)^3} + \sqrt{x^2} + \sqrt{(-2)^2}$ وقتی $x < 0$ باشد، کدام است؟

- (۱) $-2x - 2$ (۲) -2 (۳) $-2x + 2$ (۴) 2

۷۳- با توجه به مجموعه‌های A و B در شکل زیر، کدام مجموعه با بقیه متفاوت است؟

- (۱) $A - B$
 (۲) $A - (A \cap B)$
 (۳) $(A \cup B) - B$
 (۴) $(A \cup B) - A$

۷۴- در تجزیه عبارت $a(a-3)(a-4) - 12a + 36$ کدام عبارت وجود ندارد؟

- (۱) $a - 6$ (۲) $a - 3$ (۳) $a - 2$ (۴) $a + 2$

۷۵- اگر $a = \sqrt{2} - \sqrt{3}$ و $b = \sqrt{2} + \sqrt{3}$ باشد، مقدار عددی عبارت $a^2 + b^2 - 2ab$ کدام است؟

- (۱) 12 (۲) 8 (۳) 6 (۴) 4

۷۶- اگر خطی که از دو نقطه $A = \begin{bmatrix} -a \\ a-3 \end{bmatrix}$ و $B = \begin{bmatrix} 1 \\ 2 \end{bmatrix}$ می‌گذرد با خطی که محور x را در نقطه‌ای به طول -3 و محور y را در نقطه‌ای

به عرض -1 قطع می‌کند موازی باشد، مقدار a کدام است؟

- (۱) -8 (۲) $-3/5$ (۳) 8 (۴) $3/5$

۷۷- مساحت مثلثی که از برخورد خطوط $2x + 3y = 6$ و $-2x + 2y = 4$ و محور طول‌ها به دست می‌آید، کدام است؟

- (۱) 5 (۲) 2 (۳) $2/5$ (۴) 4

۷۸- اگر دو خط d و d' به معادله‌های $d: y - 5 = 0$ و $d': (a+2)x + (a+3)y = a+4$ با هم موازی باشند، مقدار a کدام است؟

- (۱) 2 (۲) -2 (۳) 3 (۴) -3

۷۹- ساده شده عبارت $\frac{y^5 - y^3 - 12y}{y^2 + 2y}$ کدام گزینه است؟

- (۱) $\frac{y^2 + 4}{y + 2}$ (۲) $y^2 + 3$ (۳) $(y^2 - 2)(y^2 + 3)$ (۴) $(y - 2)(y^2 + 3)$

۸۰- حاصل عبارت $(x + \frac{2}{x-3}) \times (1 - \frac{1}{x-2})$ با کدام گزینه برابر است؟

- (۱) $x - 1$ (۲) $x - 2$ (۳) $x + 2$ (۴) $x + 1$

۸۱- مجموع دو عدد ۳ و حاصل ضرب همان دو عدد برابر $\frac{54}{49}$ است. مجموع معکوس‌های آن دو عدد کدام است؟

- (۱) $\frac{201}{49}$ (۲) $\frac{49}{18}$ (۳) $\frac{47}{49}$ (۴) $\frac{1}{49}$

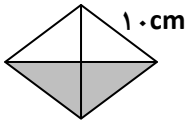
محل انجام محاسبات

۸۲- یک لوزی به قطرهای ۴ و ۸ را حول قطر بزرگش دوران می‌دهیم. حجم حاصل از این دوران کدام است؟

- (۱) $\frac{4}{3}\pi$ (۲) $\frac{8}{9}\pi$ (۳) $\frac{16}{9}\pi$ (۴) $\frac{32}{3}\pi$

۸۳- چهاروجهی منتظم، یک هرم منتظم است که چهار وجه آن از ۴ مثلث متساوی‌الاضلاع هم‌نهشت تشکیل شده است. مساحت کل

چهاروجهی منتظم به ضلع ۱۰ سانتی‌متر برابر با چند سانتی‌متر مربع است؟



- (۱) $20\sqrt{3}$ (۲) $40\sqrt{3}$

- (۳) $100\sqrt{3}$ (۴) $25\sqrt{3}$

۸۴- در پرتاب دو تاس، احتمال کدام پیشامد بیشتر از بقیه است؟

- (۱) هر دو مضرب ۳ بیاید. (۲) هر دو عدد ۶ بیاید.

- (۳) هر دو عدد زوج بیاید. (۴) مجموع اعداد روشده، ۷ بیاید.

۸۵- دایره‌ای به قطر ۸ سانتی‌متر را به اندازه 270° حول قطرش دوران می‌دهیم. حجم شکل حاصل از دوران کدام است؟

- (۱) 216π (۲) 64π (۳) 128π (۴) 256π

علوم تجربی

کل کتاب



وقت پیشنهادی

۸۶- کدام گزینه در واکنش مقابل، جای خالی را به درستی پر می‌کند؟

گاز آمونیاک \rightarrow + گاز نیتروژن

- (۱) گاز اکسیژن (۲) گوگرد (۳) گاز هیدروژن (۴) کربن دی‌اکسید

۸۷- از واکنش فلز سدیم با گاز فلوئور، سدیم فلوئورید به دست می‌آید. کدام گزینه، جمله زیر را کامل می‌کند؟ (۹ F و ۱۱ Na)

«در یک مولکول سدیم فلوئورید، هر اتم فلوئور الکترون و به تبدیل می‌شود.»

- (۱) دو- می‌دهد- آنیون (۲) یک- می‌گیرد- کاتیون

- (۳) دو- می‌دهد- کاتیون (۴) یک- می‌گیرد- آنیون

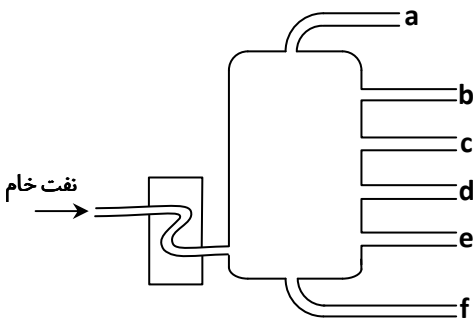
۸۸- شکل داده‌شده مربوط به نمایی از یک برج تقطیر نفت خام و برش‌های آن است. با توجه به آن، کدام جمله نادرست است؟

- (۱) رنگ هیدروکربن‌های موجود در برش d تیره‌تر از هیدروکربن‌های موجود در برش b است.

- (۲) نقطه جوش هیدروکربن‌های برش e بیشتر از نقطه جوش هیدروکربن‌های برش f است.

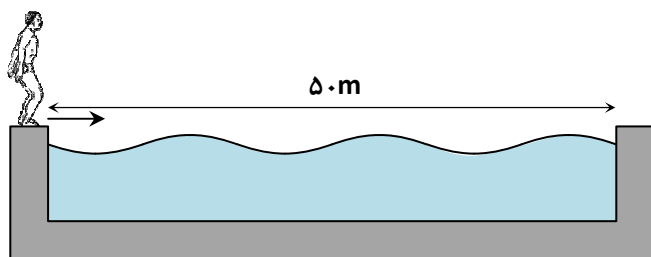
- (۳) تعداد کربن‌های هیدروکربن‌های برش b کمتر از تعداد کربن‌های هیدروکربن‌های برش d است.

- (۴) هیدروکربن‌های برش f سخت‌تر از هیدروکربن‌های برش c جاری می‌شوند.



محل انجام محاسبات

۸۹- شناگری طول یک استخر ۵۰ متری مطابق شکل را در مدت ۱۰ ثانیه رفته و بازمی‌گردد. کدام جمله در مورد حرکت شناگر نادرست است؟



(۱) جابه‌جایی آن در کل حرکت صفر است.

(۲) تندی متوسط آن در کل حرکت $5 \frac{m}{s}$ است.

(۳) سرعت متوسط آن در کل حرکت صفر است.

(۴) مسافت طی‌شده در کل حرکت ۱۰۰m بوده است.

۹۰- توپی محکم به یک دیوار برخورد می‌کند. در لحظه برخورد بر طبق قانون نیوتون مقدار نیرویی که توپ به دیوار وارد می‌کند با نیرویی است که دیوار به توپ وارد می‌کند.

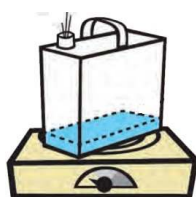
(۴) دوم - بیشتر

(۳) سوم - بیشتر

(۲) دوم - برابر

(۱) سوم - برابر

۹۱- کدام آزمایش به کمک اصل پاسکال قابل توجیه است؟



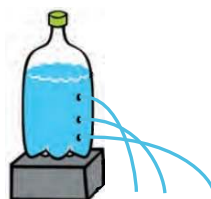
(۱) مچاله شدن قوطی حلبی بعد از خالی کردن آب داغ و بستن در قوطی



(۲) ورود راحت آب به داخل ظرف در صورتی که درپوش ۲ عدد سوراخ داشته باشد.



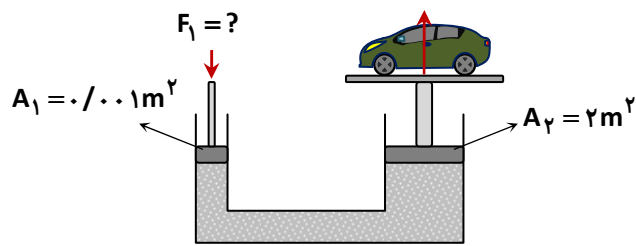
(۳) خروج آب از نی در صورت فوت کردن در بالای بطری



(۴) خروج آب با فشار بیشتر از سوراخ پایین

محل انجام محاسبات

۹۲- شکل زیر طرحی از یک بالابر هیدرولیکی را نشان می‌دهد. اگر وزن اتومبیل 10000 N باشد، بر پیستون کوچک چند نیوتون وارد شود تا اتومبیل بالا نگه داشته شود؟



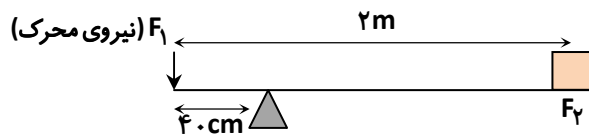
۲ (۱)

۱ (۲)

۵ (۳)

۱۰ (۴)

۹۳- در شکل زیر، مزیت مکانیکی اهرم چند است؟ (ماشین در حالت تعادل است و از اتلاف نیرو صرف نظر شود.)



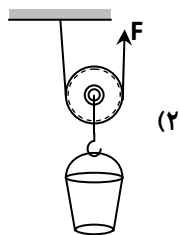
۴ (۱)

۵ (۲)

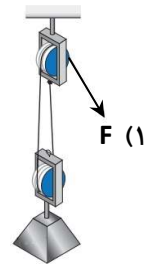
$\frac{1}{5}$ (۳)

$\frac{1}{4}$ (۴)

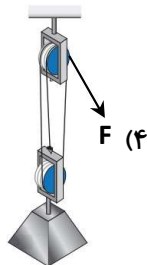
۹۴- اگر نیروی یکسان F به هر یک از سامانه‌ها وارد شود، کدام سامانه می‌تواند وزنه سنگین‌تری را بالا ببرد؟



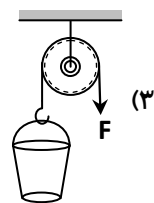
(۲)



(۱)



(۴)



(۳)

۹۵- کدام گزینه باعث آلودگی نوری آسمان می‌شود؟

(۱) آلودگی هوا به علت دود

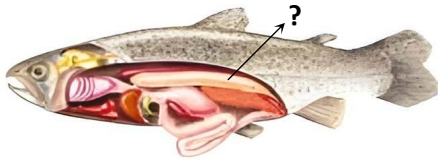
(۳) وجود ابرها در آسمان

(۲) روشنایی آسمان شهر ناشی از نور فراوان لامپ‌ها

(۴) روشنایی آسمان ناشی از قرص کامل ماه

محل انجام محاسبات

۱۰۲- با توجه به شکل زیر، علامت (؟) معرف کدام اندام ماهی می‌باشد؟



(۱) کلیه

(۲) معده

(۳) بادکنک شنا

(۴) کبد

۱۰۳- در کروکودیل‌ها وجود چشم‌ها بر روی سر و سوراخ بینی در پوزه سبب شده است که

(۱) به‌خوبی در آب نفس بکشند.

(۲) بدون اینکه دیده شوند در آب شنا کنند.

(۳) بتوانند در آب‌های عمیق شنا کنند.

(۴) بتوانند در آب‌های عمیق و کم‌عمق شنا کنند.

۱۰۴- کدام عبارت در مورد بوم‌سازگان درست است؟

(الف) در هر بوم‌سازگان انتقال انرژی صورت می‌گیرد.

(ب) در هر بوم‌سازگان مواد منتقل می‌شوند.

(پ) تعداد جانداران در محیط با تنوع زیستی محیط رابطه مستقیم دارد.

(۱) فقط «الف»

(۲) فقط «ب»

(۳) «الف» و «ب»

(۴) «الف»، «ب» و «پ»

۱۰۵- رابطه غذایی در کدام زنجیره غذایی صحیح نیست؟

(۱) کوسه → ماهی کوچک → جلبک سبز رشته‌ای

(۲) مورچه‌خوار → مورچه → گندم

(۳) روباه → دانه → مرغ

(۴) انسان → گوسفند → یونجه