

گزینهدو



مؤسسه آموزشی فرهنگی

پایه هفتم
دوره اول متوسطه

* ارزشیابی پیشرفت تحصیلی

مرحله ۱۲ (۲۲ خرداد ۱۴۰۴)

سال تحصیلی ۱۴۰۳-۱۴۰۴

عنوان تعداد پرسش از شماره تا شماره وقت پیشنهادی

فارسی	۱۵	۱	۱۵	۱۵ دقیقه
عربی	۱۰	۱۶	۲۵	۱۰ دقیقه
پیام های آسمان	۱۵	۲۶	۴۰	۱۵ دقیقه
زبان انگلیسی	۱۰	۴۱	۵۰	۱۰ دقیقه
مطالعات اجتماعی	۱۵	۵۱	۶۵	۱۵ دقیقه
ریاضی	۲۰	۶۶	۸۵	۵۰ دقیقه
علوم تجربی	۲۰	۸۶	۱۰۵	۳۵ دقیقه
از من تا خدا	۱۵	۱۰۶	۱۲۰	۱۵ دقیقه

مدت پاسخ گویی: ۱۵۰ دقیقه

تعداد کل پرسش ها: ۱۰۵

توجه:

* این ارزشیابی، نمره منفی ندارد.

* دانش آموزان با توجه به برنامه درسی مدرسه خود فقط به یک سری از پرسش های درس «پیام های آسمان» یا «از من تا خدا» پاسخ می دهند.



دانش آموز گرامی، شما می توانید با اسکن تصویر روبه روبه وسیله گوشی هوشمند و یا تبلت خود، پاسخ های تشریحی را مشاهده نمایید.



- ۱- در کدام گزینه همه واژه‌ها به‌درستی معنا شده است؟
 (۱) افق: کرانه آسمان / اعجاز: معجزه / تجمل: خودخواهی
 (۲) در همه گزینه‌ها واژه اول و دوم «هم‌خانواده» هستند و واژه دوم و سوم «مفرد و جمع»؛ به‌جز گزینه
 (۳) درازدستی: زیاده‌جو / اخلاص: پاکدلی / خدشه: خراش
 (۴) مظاهر: نشانه‌ها / بوم: سرزمین / نجوا: صدای آرام
- ۲- (۱) تحوّل - حال - احوال (۲) تمایل - ملت - ملل (۳) مؤدّب - ادیب - ادبا (۴) عرفان - عارف - عرفا
- ۳- در کدام گزینه هر سه واژه هم‌خانواده هستند؟
 (۱) اعتدال - معدّل - تعادل
 (۲) سعید - سعی - سعادت
 (۳) ترحیم - مرحوم - احترام
 (۴) خصلت - خلاصه - تلخیص
- ۴- تعداد غلط‌های املائی در کدام گزینه بیشتر است؟
 (۱) چه بسیارند آنانی که وقت خود را بیهوده تلف می‌کنند و با خوشگذرانی عمر خود را سپری می‌کنند.
 (۲) با صماجت عجیبی به‌عنوان بازرس در کلاس‌ها شرکت می‌کردم تا تسهیلاتی را در امر آموزش فراهم کنم.
 (۳) معلم با لهن گرمش ادامه داد: خیلی عالی است، نظامی در آرایش صحنه‌های شعرش استاد بی‌نظیری است.
 (۴) او به ترز مرموزی به‌دست مأموران شاه، به‌دلیل اعتراض و حمایت از نهضت مردم به شهادت رسید.
- ۵- در کدام گزینه نام اثر مربوط به هر دو شخصیت، به‌درستی نوشته شده است؟
 (۱) خواجه کرمانی: گل و نوروز / نظامی: الهی‌نامه
 (۲) محمدرضا کاتب: قصه‌های مجید / مولوی: مثنوی معنوی
 (۳) چیک مورمان: نغمه عشق / جامی: بهارستان
 (۴) قیصر امین‌پور: دو کلمه حرف حساب / علی شریعتی: کویر
- ۶- در کدام گزینه هر دو آرایه درون پرانتز به‌کار رفته است؟
 (۱) نمودش بس که دور آن راه نزدیک
 (۲) چو گل بشنید این گفت‌وشنودم
 (۳) دلم در آتش غفلت مسوزان
 (۴) ای کارگشای هرچه هستند
 (۱) شددش گیتی به پیش چشم، تاریک (کنایه - تضاد)
 (۲) بگفتا من گلی ناچیز بودم (تشبیه - تکرار)
 (۳) به معنی، شمع جانم برفروزان (تشبیه - تشخیص)
 (۴) نام تو کلید هر چه هستند (مبالغه - تشبیه)
- ۷- در کدام گزینه بخش‌های مشخص‌شده، نقش دستوری یکسان دارند؟
 (۱) به‌شدت کنجکاو بودم. همه کاغذها پر از نمی‌توانم‌ها بود که بچه‌ها با اصرار نوشته بودند.
 (۲) یکی از شب‌ها، شاپرکی از پنجره به داخل نمایشگاه آمد و بالش را بر چشم شیشه‌ای تروم کشید.
 (۳) می‌فرمود: فرزندان ما پاره جگر ما هستند. به همین دلیل، کودکان به آغوشش می‌رفتند و او بر صورتشان بوسه می‌زد.
 (۴) آفرینش سرشار از درس‌ها و اندرزهاست. مهارت‌های هنری زندگی را پر از امید به آینده می‌کند.
- ۸- کدام گزینه درباره فعل‌های متن زیر درست است؟
 «چرا به زبان فارسی عشق می‌ورزم؟ زیرا زبان فارسی من را به فارسی‌زبانان پیوند می‌دهد و با آنچه دوست داشتند، آشنا می‌کند و این‌گونه دلم را به خاک میهن وابسته خواهد کرد.»
 (۱) فقط یک فعل مفرد در متن به‌کار رفته است.
 (۲) در این متن، هیچ فعل آینده‌ای دیده نمی‌شود.
 (۳) چهار فعل سوم‌شخص در متن وجود دارد.
 (۴) زمان دو فعل این متن، ماضی است.
- ۹- در کدام گزینه تعداد جملات و نوع جمله پایانی، به‌ترتیب درون پرانتز به‌درستی ذکر شده است؟ (نشانه پایانی همه گزینه‌ها حذف شده است).
 (۱) تا این حرف را زدم، عصبانی شد و گفت: بیا پایین، به خدا شیرم را حرامت می‌کنم (شش جمله / خبری)
 (۲) اینک ما او را به خاک سپرده‌ایم، البته می‌دانیم که او زنده خواهد ماند؛ خدا او را رحمت کند، آمین (چهار جمله / امری)
 (۳) پدر او را دلداری داد و با نگرانی پرسید: چه اتفاقی افتاده و چه بدبختی تازه‌ای سرمان آمده (چهار جمله / عاطفی)
 (۴) کزال به موهایش چنگ زد؛ روناک... روناک، دایه‌ات بمیره، روله (چهار جمله / پرسشی)

۱۰- در کدام گزینه همهٔ واژه‌ها غیرساده هستند؟

- (۱) زندگی - گیتی - رها
(۲) کنجکاو - آهین - تخته
(۳) آهسته - ورزش - ملافه
(۴) پردازنده - دیدار - گوش

۱۱- با توجه به قطعه شعر زیر کدام گزینه درست است؟

«نام بعضی نفرات / رزق روحم شده است. / وقت هر دلتنگی / سویشان دارم دست / جرئتم می‌بخشد / روشنم می‌دارد.»

- (۱) منظور از «رزق روح» تقویت کننده و ضروری برای روح است.
(۲) مرجع ضمیر پیوسته «شان»، واژه «دلتنگی» است.
(۳) منظور از «سویشان دارم دست»، «کمک رساندن» است.
(۴) ضمیر «م» به «دوستان شاعر (نیما)» اشاره دارد.

۱۲- کدام گزینه نادرست معنا شده است؟

- (۱) با احساسات سرشار از عظمت و صفای این طبیعت معصوم وداع کردم.
← (با احساس‌های پر از بزرگی و پاکی این طبیعت بی‌گناه خداحافظی کردم).
(۲) دیدن اعجاب آفرینش، جزء زندگی است؛ مخصوصاً اگر با تأمل و عبرت همراه باشد.
← (نگاه کردن به شگفتی خلقت بخشی از زندگی است؛ به‌ویژه اگر با اندیشه کردن و پند گرفتن همراه باشد).
(۳) ایران در پرتو گرایش به اسلام، همدوش با سایر ملت‌های اسلامی، مشعل دار تمدنی باشکوه شد.
← (ایران به‌واسطه ایمان به اسلام، همراه با بقیهٔ مسلمانان، آغازگر تمدنی عظیم شد).
(۴) گفت: چراغ از بهر کوردلان تاریک‌اندیش است تا به من تنه نزنند و سبوی من را نشکنند.
← (گفت: چراغ برای نابینایان بداندیش است که به من برخورد نکنند و شیشهٔ مرا نشکنند).

۱۳- معنای کدام بیت درست بیان شده است؟

- (۱) صد هزاران دام و دانه است، ای خدا
ما چو مرغان حریصی بی‌نوا
← (مشکلات و گرفتاری‌های بسیاری در راه ما وجود دارد، ما هم مثل پرندگان طمع‌کار و آواره‌ای هستیم).
(۲) بر نامده و گذشته بنیاد مکن
حالی خوش باش و عمر، بر باد مکن
← (به آنچه که گذشته و طی شده است، اعتماد نکن؛ الآن خوشحال باش و عمرت را هدر نده).
(۳) به جان زنده‌دلان، سعديا، که ملک وجود
نیرزد آن‌که دلی را ز خود بیازاری
← (به جان عاشقان سوگند که فرمانروایی بر جهان ارزش آن را ندارد که کسی را ناراحت و اذیت کنی).
(۴) اگر چشم داری به دیگر سرای
به نزد نبی و وصی گیر جای
← (اگر هدف تو داشتن جایگاهی وسیع است، تلاش کن تا نزد پیامبر ﷺ و جانشینش جای بگیری).

۱۴- در همهٔ گزینه‌ها هر دو مفهوم درون پرانتز دیده می‌شود، به جز گزینهٔ

- (۱) چو شاخ برهنه برآریم دست
که بی‌برگ از این بیش، نتوان نشست (دعا کردن / فراهم کردن توشهٔ آخرت)
(۲) تو را خوانم به هر رازی که خوانم
تو را دانم به هر چیزی که دانم (کسب معرفت / رازداری)
(۳) کمال همنشین در من اثر کرد
وگرنه من همان خاکم که هستم (تأثیر مصاحبت / ثابت ماندن اصل خود)
(۴) خدا آن ملتی را سروری داد
که تقدیرش به دست خویش بنوشت (کسب استقلال / تعیین سرنوشت)

۱۵- کدام گزینه با بیت زیر قرابت معنایی دارد؟

- خداوند ا به حق نیک‌مردان
که احوال بدم را نیک گردان
(۱) من اگر نیکم و گر بد، تو برو خود را باش
هر کسی آن درود عاقبت کار، که کشت
(۲) یا رب تو نکو کن که تبه‌کار شدم
دانم که کنی، اگرچه بدکردارم
(۳) نیک‌نامی خواهی، ای دل، با بدان صحبت مدار
خودپسندی، جان من، برهان نادانی بود (برهان: دلیل)
(۴) پی نیک‌مردان بیاید شتافت
که هر کاین سعادت طلب کرد، یافت (کاین: که این)



۱۶- ترجمه کلمه‌های مشخص شده در کدام گزینه، نادرست است؟

- ۱) نَحْنُ مَا عَيْرِنَا الْخُدُودَ. (عبرت نگرفتیم/ مرز)
- ۲) أَيْنَ الْقَمِيصِ وَالسَّرْوَالِ؟ (پیراهن/ شلوار)
- ۳) بَيْتُهُمْ نَظِيفٌ وَبُسْتَانُهُمْ مَمْلُوءٌ بِالْأَشْجَارِ. (پاکیزه/ پر از)
- ۴) بَدَأْتُ بِجَمْعِ الْمَحْصُولِ مُسَاعِدَةً أَصْدِقَائِي. (شروع کردم/ با یاری)

۱۷- ترجمه کدام عبارت، درست است؟

- ۱) الْخَرِيفُ لِحَارًا وَ لَا بَارِدٌ وَ الشَّتَاءُ بَارِدٌ: بهار نه گرم است و نه سرد و زمستان سرد است.
- ۲) نَحْنُ كَتَبْنَا وَاجِبَاتِنَا ثُمَّ دَهَبْنَا إِلَى بَيْتِ جَدِّي: ما درس‌هایمان را نوشتیم و سپس به خانه مادر بزرگم رفتیم.
- ۳) فَوَقَعَتِ السَّمَكَةُ الْحَجْرِيَّةُ فِي الشَّبَكَةِ وَ الصَّيَادُونَ أَخَذُوهَا: سنگ ماهی وارد تور شد و صیادان آن را گرفتند.
- ۴) جَاءَ صَاحِبُ الْمَصْنَعِ وَ أَعْطَاهُ مِفْتَاحًا ذَهَبِيًّا: صاحب کارخانه آمد و به او کلیدی طلایی داد.

۱۸- ترجمه درست عبارت داده شده، کدام است؟

- «طَلَبَ مِنَ النَّجَّارِ صَنْعَ بَيْتٍ خَشَبِيٍّ قَبْلَ تَقَاعِدِهِ كَأَخْرِ عَمَلِهِ.»
- ۱) از نجار خواست تا خانه چوبی قبل از نشستنش مانند آخرین کارش بسازد.
 - ۲) از نجار درخواست ساختن خانه‌ای چوبی قبل از بازنشستگی‌اش به‌عنوان آخرین کارش را کرد.
 - ۳) درخواست کرد از نجاری تا خانه‌ای پیش از بازنشستگی‌اش به‌عنوان آخرین کارش بسازد.
 - ۴) خواست از نجار تا قبل از اینکه بازنشسته شود به‌عنوان آخرین پاداشش خانه‌ای چوبی بسازد.

۱۹- بیت زیر با کدام گزینه داده شده، ارتباط معنایی بیشتری دارد؟

- ارزش انسان ز علم و معرفت پیدا شود
- بی‌هنر گر دعوی بی‌جا کند، رسوا شود
- ۱) أَدَبُ الْمَرْءِ خَيْرٌ مِنْ ذَهَبِهِ.
 - ۲) آفَةُ الْعِلْمِ النَّسِيَانُ.
 - ۳) قِيمَةُ الْإِنْسَانِ بِالْعِلْمِ وَ الْإِيمَانِ.
 - ۴) الْعِلْمُ فِي الصَّغَرِ كَالنَّفْسِ فِي الْحَجَرِ.

۲۰- کدام گزینه از نظر حقیقت و واقعیت، نادرست است؟

- ۱) أَمْسَ كَانَ يَوْمَ الثَّلَاثَاءِ وَ عَدَا يَوْمَ الْأَرْبَعَاءِ.
- ۲) الْأَغْرَابُ أَسْوَدٌ وَ السَّحَابُ أَبْيَضٌ وَ الرُّمَانُ أَحْمَرٌ.
- ۳) عَدَدُ أَيَّامِ الْأُسْبُوعِ سَبْعَةٌ وَ عَدَدُ الشُّهُورِ فِي السَّنَةِ اثْنَا عَشَرَ شَهْرًا.
- ۴) الْفَصْلُ الثَّلَاثُ فِي السَّنَةِ فَصْلُ الْخَرِيفِ.

۲۱- کدام گزینه برای پر کردن جاهای خالی در عبارت زیر، مناسب است؟

- «هُؤُلَاءِ الْفُلَّاحُونَ الْمَحْصُولَ وَ أَنَا وَ أَصْدِقَائِي إِلَى مُسَاعِدَتِهِمْ.»
- ۱) حَصَدْتُمْ/ دَهَبْنَا
 - ۲) حَصَدُوا/ دَهَبْنَا
 - ۳) حَصَدُوا/ دَهَبَا
 - ۴) حَصَدْتُمْ/ دَهَبَا

۲۲- در کدام گزینه تغییر عبارت زیر به شکل جمع مؤنث به‌درستی انجام شده است؟

- «أَيُّهَا الطَّالِبُ أَنْتَ نَاجِحٌ. كَيْفَ فَعَلْتَ وَاجِبَكَ؟»
- ۱) أَيُّهَا الطَّالِبَاتُ أَنْتُنَّ نَاجِحَاتٌ. كَيْفَ فَعَلْتُنَّ وَاجِبَكُنَّ؟
 - ۲) أَيُّهَا الطَّالِبَةُ أَنْتِ نَاجِحَةٌ. كَيْفَ فَعَلْتِ وَاجِبَكِ؟
 - ۳) أَيُّهَا الطَّالِبَاتِ، أَنْتُمْ نَاجِحَاتِنَ. كَيْفَ فَعَلْتُمْ وَاجِبَكُمَا؟
 - ۴) أَيُّهَا الطَّالِبَاتُ، أَنْتُنَّ نَاجِحَةٌ. كَيْفَ فَعَلْتِ وَاجِبَكُنَّ؟

۲۳- کدام گزینه از نظر قواعد، درست است؟

- ۱) إِثْنَانٍ مِنَ أَصْدِقَائِي خَرَجُوا مِنَ الْمَدْرَسَةِ.
- ۲) خَمْسَةٌ مِنَ الرِّجَالِ قَطَعَتُمُ الشَّبَكَةَ.
- ۳) أَيُّهَا النِّسَاءُ هَلْ وَقَفْنَ لِاسْتِقْبَالِ صُيُوفِكُنَّ؟
- ۴) هَاتَانِ الْمُعَلِّمَتَانِ دَهَبْنَا إِلَى الْمَكْتَبَةِ.

۲۴- کاربرد ضمیر در کدام گزینه درست است؟

- ۱) هُوَ لَاءِ الطَّلَابِ نَاجِحُونَ. هُمْ كَتَبْتُمْ وَاجِبَهُمَا.
- ۲) أَيُّهَا الْمُجَاهِدُ أَنْتَ صَابِرٌ. كَيْفَ نَصَرْتَ وَطَنَكُمْ؟
- ۳) أَيُّهَا الطَّالِبَاتُ أَنْتُمْ لَعِبْتُنَّ فِي الْمَدْرَسَةِ.
- ۴) نَجَّارٌ وَ صَدِيقُهُ دَهَبَا إِلَى السُّوقِ.

۲۵- در کدام گزینه، فعل ماضی وجود دارد؟

- ۱) أَيْنَ أُسْرْتُكَ؟ هُمْ جَالِسُونَ هُنَاكَ؟
- ۲) بَيْتُهُمْ نَظِيفٌ وَ بُسْتَانُهُمْ مَمْلُوءٌ بِالْأَشْجَارِ.
- ۳) الْمُسْلِمُ مَنْ سَلِمَ النَّاسُ مِنْ لِسَانِهِ وَيَدِهِ.
- ۴) أَيُّ طَرِيقٍ أَقْرَبُ إِلَى كَرْبَلَاءِ؟





- ۲۶- زهرا در کارهای خانه به مادرش کمک می‌کند. ظرف‌ها را می‌شوید و خانه را جارو می‌کند. کدام گزینه در مورد او درست است؟
- (۱) او ساده‌ترین نوع تشکر را از مادرش می‌کند.
 (۲) او شکر زبانی می‌کند.
 (۳) او شکر عملی به‌جا می‌آورد.
 (۴) او از مصادیق این مصراع است: کُفِرَ نِعْمَتٌ مِنْ رَبِّكَ بِمَنْ كَفَرَ بِهِ كَافِرًا تَعْتَبُ
- ۲۷- کدام گزینه از آیه زیر برداشت نمی‌شود؟
 ﴿الَّذِينَ تَتَوَفَّاهُمُ الْمَلَائِكَةُ طَيِّبِينَ يَقُولُونَ سَلَامٌ عَلَيْكُمْ ادْخُلُوا الْجَنَّةَ بِمَا كُنْتُمْ تَعْمَلُونَ﴾
- (۱) دعوت فرشتگان از پاکان برای ورود به بهشت.
 (۲) بهشت نتیجه اعمال انسان در دنیاست.
 (۳) سلام و درود فرستادن فرشتگان به پاکان.
 (۴) حاضر کردن نعمت‌های بهشتی برای پاکان توسط فرشتگان.
- ۲۸- این جملات پیامبر اکرم صلی الله علیه و آله پس از فتح مکه به مردم مکه، نشان‌دهنده کدام ویژگی ایشان است؟
 «امروز دیگر نکوهش بر شما نیست. خداوند از گناهان شما درگذرد. او مهربان‌ترین مهربانان است. بروید که شما آزاد شدگانید.»
- (۱) عزت نفس
 (۲) بزرگواری و محبت
 (۳) امانت‌داری
 (۴) حیا و عفت
- ۲۹- تمام گزینه‌های زیر دلیل پذیرفتن حکومت توسط حضرت علی علیه السلام است، به‌جز گزینه
 (۱) گرفتن حق مظلوم از ظالم
 (۲) سکوت نکردن در برابر زیاده‌خواهی ستمگران و گرسنگی مظلومان
 (۳) گسترش اسلام به سرزمین‌های دیگر
 (۴) ایجاد عدالت
- ۳۰- تمام گزینه‌های زیر درباره یک ویژگی حضرت زهرا علیها السلام است، به‌جز گزینه که درباره ویژگی دیگر ایشان است.
 (۱) آرد کردن گندم با دستاس (آسیاب‌سنگی کوچک) و پختن نان و گاهی تاول زدن دستانش
 (۲) نان پختن به هنگام جنگ و فرستادن برای رزمندگان
 (۳) آموختن معارف و احکام دین به زنان
 (۴) سخنان و خطبه‌های حضرت زهرا علیها السلام در مسجد مدینه
- ۳۱- در چه صورتی ممکن است که در دوران بلوغ برای نوجوان گمراهی ایجاد شود؟
 (۱) انتظار داشتن از دیگران که به حرف‌های آن‌ها توجه کنند.
 (۲) افزایش حس استقلال‌طلبی.
 (۳) دچار تردید شدن در دانسته‌های قبلی خود و تلاش برای نظم دادن به دانسته‌های خود براساس منطقی جدید
 (۴) مراجعه به افراد ناآگاه یا کسانی که اعتقادات صحیح ندارند، برای یافتن پاسخ سؤالات مهم دینی
- ۳۲- در منبع آبی به حجم ۱۲۵ لیتر، قطره‌ای خون می‌افتد، اما رنگ آب عوض نمی‌شود. آب منبع
 (۱) پاک است، زیرا آب کر در صورتی نجس می‌شود که در برخورد با نجاست، رنگ یا بویش تغییر کند.
 (۲) پاک است، زیرا آب قلیل در صورتی نجس می‌شود که در برخورد با نجاست، رنگ یا بویش تغییر کند.
 (۳) نجس است، زیرا اگر آب کر با چیز نجس برخورد کند، نجس می‌شود.
 (۴) نجس است، زیرا اگر آب قلیل با چیز نجس برخورد کند، نجس می‌شود.
- ۳۳- جمله زیر را چه کسی و خطاب به چه کسی می‌گوید؟
 «تو مرا خوب حفظ کردی، خداوند هم تو را حفظ کند.»
 (۱) فرشته به کسی که نماز می‌خواند، می‌گوید.
 (۲) نمازی که در اول وقت خوانده شود به صاحبش می‌گوید.
 (۳) نمازی که به جماعت خوانده می‌شود به صاحبش می‌گوید.
 (۴) نماز جمعه به صاحبش می‌گوید.

۳۴- در کدام گزینه، نماز فرد نمازگزار باطل است؟

- ۱) زهرا در رکعت سوم نمازش یک سوره حمد خواند.
 - ۲) صغری خانم به دلیل درد پا نتوانست ایستاده نماز بخواند و نشسته نماز خواند.
 - ۳) آقای حمیدی یادش رفت تکبیرة الاحرام نماز را بگوید.
 - ۴) امیرحسین در رکعت چهارم فراموش کرد تشهد را بخواند.
- ۳۵- سجّاد موقعی که امام جماعت در رکوع بود، به نماز جماعت رسید. او باید کدام کار را برای اقامه نماز جماعت انجام دهد؟
- ۱) باید صبر کند تا امام جماعت رکعت بعد را شروع کند و آن موقع تکبیرة الاحرام بگوید.
 - ۲) باید صبر کند تا امام جماعت به سجده برود و آن موقع تکبیرة الاحرام بگوید و به سجده برود.
 - ۳) باید تکبیرة الاحرام بگوید و به رکوع برود.
 - ۴) باید تکبیرة الاحرام بگوید و سریع سوره حمد را بخواند و به رکوع برود.

۳۶- مطابق آیه زیر فایده حجاب چیست؟

﴿يَا أَيُّهَا النَّبِيُّ لَأَزْوَاجِكَ وَبَنَاتِكَ وَنِسَاءِ الْمُؤْمِنِينَ يُدْنِينَ عَلَيْهِنَّ مِنْ جَلَابِيبِهِنَّ ذَلِكَ أَدْنَى أَنْ يُعْرَفْنَ فَلَا يُؤْذَيْنَ وَكَانَ اللَّهُ غَفُورًا رَحِيمًا﴾

- ۱) نگاه نکردن نامحرم به فرد باحجاب
- ۲) حفظ پاکی
- ۳) رضایت پیامبر ﷺ و مؤمنان
- ۴) درامان ماندن از آزار و اذیت

۳۷- موضوع آیه زیر چیست؟

﴿وَقُلْ رَبِّ زِدْنِي عِلْمًا﴾

- ۱) تواضع نسبت به معلم
- ۲) زندگی همیشگی
- ۳) دعا برای افزایش علم
- ۴) کمال هم نشین

۳۸- مطابق فرمایش امام صادق علیه السلام، دو ویژگی که باید دوستان خود را در داشتن آن بیازماییم و اگر در آنها نبود، حتماً از آنان دوری کنیم، چیست؟

- ۱) رعایت اوقات نماز - وفای به عهد
- ۲) رعایت اوقات نماز - نیکی به هم نوعان در سختی و راحتی
- ۳) اهل نماز و نیکی - راست گویی
- ۴) راست گویی - امانت داری

۳۹- شهید مصطفی چمران، مطابق قولی که در مراسم خواستگاری به مادر همسرش داده بود، هر روز صبح برای همسرش قهوه درست می کرد. این مطلب کدام ویژگی دوست خوب را در شهید چمران نشان می دهد؟

- ۱) اهل نماز و نیکی
- ۲) وفای به عهد
- ۳) راست گویی
- ۴) دوری از تنبلی

۴۰- این حدیث امیرمؤمنان علیه السلام کدام راه درمان تنبلی را نشان می دهد؟

«هر کس امروز در کارش کوتاهی و سستی کند، در آینده به غم و اندوه مبتلا می شود.»

- ۱) آینده نگری
- ۲) اندیشه
- ۳) تصمیم قاطع
- ۴) برنامه ریزی

زبان انگلیسی

کل کتاب



وقت پیشنهادی

41- The picture in which item relates to the given conversation?

- تصویر داده شده در کدام گزینه به مکالمه زیر مرتبط است؟

A: How can I help you?

B: Can I have my library card, please?

A: Sure.



42- Choose the correct item.

- گزینه درست را انتخاب کنید.

A: Where do you live?

B:

- 1) 15, Yousef Abad, Jahan Ara Street.
- 2) 15, Jahan Ara Street, Yousef Abad.
- 3) Yousef Abad, Jahan Ara Street, 15.
- 4) Jahan Ara Street, Yousef Abad, 15.

43- Which item does NOT complete the given conversation correctly?

- کدام گزینه مکالمه زیر را به درستی کامل نمی کند؟

A: I'm hungry.

B:

- 1) How about some cake and milk?
- 2) Let's have something to eat.
- 3) But I'd like some cake.
- 4) Let's take something to eat.

44- Choose the correct item.

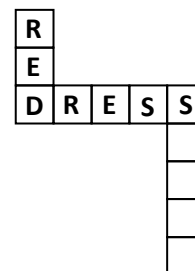
- گزینه درست را انتخاب کنید.

"Coconut, quince, and pineapple are"

- 1) fruits
- 2) juice
- 3) drinks
- 4) bread

45- The word related to which item, does NOT complete the crossword puzzle correctly?

- واژه مرتبط با کدام گزینه، جدول زیر را به درستی کامل نمی کند؟



46- Which item shows the correct order for the given conversation?

- کدام گزینه ترتیب درست برای مکالمه زیر را نشان می دهد؟

- a) When are you going?
- b) I am not well today; I'm going to the doctor; please come with me.
- c) After lunch, around 3 in the afternoon.
- d) OK. Call me before you go.

- 1) a - c - b - d
- 2) b - a - c - d
- 3) b - d - a - c
- 4) a - d - b - c

47- Choose the BEST item to complete the given conversation.

- بهترین گزینه برای کامل کردن مکالمه زیر را انتخاب کنید.

A: Mom, where's Amin?

B: He's playing football in the

- 1) living room
- 2) bedroom
- 3) apartment
- 4) yard

48- Which item does NOT complete the given conversation correctly?

- کدام گزینه مکالمهٔ زیر را به درستی کامل نمی‌کند؟

A: Who's he?

B: He's my grandfather's son.

A: Is he your father?

B: My father! No, he's my

- 1) uncle 2) brother 3) mother's brother 4) father's brother

■ Read the text below and answer the questions.

- متن زیر را بخوانید و به پرسش‌های مربوط به آن پاسخ دهید.

"I am Samira and I am thirteen. I go to school from Saturday to Wednesday. Today is Monday and I am going to study for the math test* we'll have on the last weekday*. I'm going to eat breakfast before going to the library. I am going there at 8:30 to study. I'm sure I can get* a good mark*."

*test : آزمون * the last weekday : آخرین روز کاری هفته

*get : گرفتن *mark : نمره

49- Choose the true item according to the given text.

- با توجه به متن داده‌شده، گزینهٔ درست را انتخاب کنید.

"What day is Samira going to have math test?"

- 1) Saturday 2) Sunday 3) Thursday 4) Wednesday

50- Choose the true item according to the given text.

- با توجه به متن داده‌شده، گزینهٔ درست را انتخاب کنید.

"When is Samira going to eat breakfast?"

- 1) at 8:30 a.m. 2) at 8:30 p.m.
3) before 8:30 a.m. 4) before 8:30 p.m.



وقت پیشنهادی

مطالعات اجتماعی

کل کتاب

۵۱- «ضمانت» برای چه نوع کالاهایی در نظر گرفته می‌شود؟

- (۱) کالاهای ساخت شرکت‌های داخلی (۲) کالاهایی با کارکرد طولانی مدت
(۳) کالاهایی با فروشندگان داخلی (۴) کالاهایی با استاندارد مشخص

۵۲- شرکت‌های بزرگ لبنیاتی که محصولاتی نظیر شیر و پنیر تولید می‌کنند، برای اینکه بتوانند محصولات خود را به دست مصرف‌کنندگان برسانند، معمولاً چه روشی را انتخاب می‌کنند؟

- (۱) ابتدا بازار مصرف‌کنندگان را پیدا می‌کنند و بعد از آن کالاها را به دست توزیع‌کنندگان می‌سپارند.
(۲) برای اینکه هزینه‌ها پایین بیاید، خودشان به شکل مستقیم وارد عمل می‌شوند و کالا را به دست مشتری می‌رسانند.
(۳) بسته به مقدار تولید، بازار را ارزیابی می‌کنند و کالای خود را به دست توزیع‌کنندگان می‌سپارند.

(۴) ابتدا مقدار کمی از کالا را به دست مصرف‌کنندگان می‌رسانند، چنانچه بازار مخاطبین جوابگو بود، خودشان مستقیماً کالا را به فروش می‌رسانند.

۵۳- شرکت‌های بیمه بر چه اساسی تقسیم‌بندی می‌شوند؟

- (۱) بر اساس میزان پولی که از مشتریان خود دریافت می‌کنند.
(۲) بر اساس قانون اساسی کشور این تقسیم‌بندی صورت می‌گیرد.
(۳) بر اساس خواسته‌های جامعه و وظایفشان مشخص می‌شود.
(۴) بر اساس خدماتی که ارائه می‌کنند.

۵۴- عبارت‌ها و واژه‌های زیر مربوط به کدام گزینه است؟

«امدادگران- کمک‌های اولیه- حفظ محیط‌زیست- خدماتی برای صلح و دوستی»

- (۱) نیروی انتظامی
(۲) آتش‌نشانی
(۳) جمعیت هلال‌احمر
(۴) فوریت‌های پزشکی

۵۵- قانون اساسی جمهوری اسلامی ایران دارای چند اصل است؟

- (۱) یکصد و هفتاد و هفت اصل
(۲) یکصد و بیست و سه اصل
(۳) یکصد و نود اصل
(۴) یکصد و پنجاه و پنج اصل

۵۶- انسان‌ها همراه با داشتن حق، چه چیزهای دیگری باید داشته باشند که بنا به اهمیت، این موارد به منزلهٔ دو کفهٔ ترازو است؟

- (۱) امنیت و آرامش
(۲) رفاه و آسایش
(۳) مسئولیت و تکلیف
(۴) تکلیف و امنیت

۵۷- کدام گزینه از نظر مفهوم و کارکردهای جغرافیایی با دیگر گزینه‌ها تناسبی ندارد؟

- (۱) تعداد جمعیت
(۲) نوع آب‌وهوا
(۳) آثار تاریخی
(۴) فعالیت‌های اقتصادی

۵۸- «نظارت بر ساخت و سازها» برعهدهٔ کدام ارگان کشور است؟

- (۱) سازمان اراضی ملی
(۲) شورای اسلامی شهر
(۳) سازمان‌های مردم‌نهاد
(۴) شهرداری

۵۹- به‌طور کلی نمودارهای آب‌وهوایی چه عناصری را به ما نشان می‌دهند؟

- (۱) میزان رطوبت و سرما
(۲) میزان دما و بارش
(۳) میزان حرارت نقطه‌ای

(۴) میزان تغییرات دمایی در سطوح بالایی جو

۶۰- مفهوم «زنجیرهٔ غذایی» به کدام گزینه نزدیک‌تر است؟

- (۱) حق حیات داشتن
(۲) فواید گیاهان و جانوران
(۳) وابستگی موجودات زنده به یکدیگر
(۴) حفاظت از محیط‌های جنگلی

۶۱- به کدام ردهٔ سنی «بزرگ‌سالان» می‌گویند؟

- (۱) ردهٔ سنی ۶۵-۲۶ سال
(۲) ردهٔ سنی ۲۶-۱۸ سال
(۳) ردهٔ سنی ۶۵-۴۵ سال
(۴) ردهٔ سنی ۴۵-۱۸ سال

۶۲- وظیفهٔ «حفاظت از خاک» برعهدهٔ کدام سازمان کشور است؟

- (۱) سازمان حفاظت محیط‌زیست
(۲) سازمان پارک‌ها و فضای سبز
(۳) سازمان جنگل‌ها، مراتع و آب‌خیزداری
(۴) شهرداری‌ها و دهیاری‌ها

۶۳- «بابل» در زمان حکومت کدام سلسلهٔ ایرانی به‌عنوان پایتخت در نظر گرفته شد؟

- (۱) اشکانیان
(۲) مادها
(۳) ساسانیان
(۴) هخامنشیان

۶۴- سکهٔ «دریک» در زمان کدام پادشاه در ایران ضرب شد؟

- (۱) اردشیر بابکان
(۲) داریوش اول
(۳) شاپور اول
(۴) مهرداد دوم

۶۵- زبان ایرانیان در زمان هخامنشیان، چه بوده است؟

- (۱) پارسی میانه
(۲) پهلوی
(۳) فارسی دری
(۴) پارسی باستان



۶۶- کدام عدد فقط سه شمارنده دارد؟

- ۱۶ (۱) ۱۲ (۲) ۲۳ (۳) ۲۵ (۴)

۶۷- با انگشتان دو دست، به چند طریق می‌توان عدد ۹ را نشان داد؟

- ۹ (۱) ۱۰ (۲) ۱۸ (۳) ۲۰ (۴)

۶۸- در یک بازی رایانه‌ای خرگوشی روی عدد ۸۰ از محور اعداد صحیح قرار دارد. اگر خرگوش با ۲۰ بار حرکت به نقطه نظیر عدد

۱۲۰- برسد و در هر بار تعداد واحد مساوی طی کند، کدام عدد حرکت خرگوش را نشان می‌دهد؟

- ۱۰ (۱) ۶ (۲) -۶ (۳) -۱۰ (۴)

۶۹- می‌خواهیم با مقوا مکعبی به یال ۵ cm درست کنیم. حداقل چند سانتی‌متر مربع مقوا نیاز است؟

- ۱۰۰ (۱) ۱۲۰ (۲) ۱۲۵ (۳) ۱۵۰ (۴)

۷۰- حاصل ضرب دو عدد صحیح ۴۸ است. کمترین مقدار حاصل جمع این دو عدد کدام است؟

- ۴۹ (۱) -۱۴ (۲) ۱۴ (۳) ۴۹ (۴)

۷۱- اگر $M = 7 - 2^2 \times 11$ و $N = -15 \div 3^3$ باشد، حاصل $M + 9N$ کدام گزینه است؟

- ۴۲ (۱) -۳۲ (۲) ۲۸ (۳) ۳۲ (۴)

۷۲- جمله n ام الگوی $15, 26, 37, 48, \dots$ برابر با کدام گزینه است؟

- $11(n+4)$ (۱) $11n+4$ (۲) $n+11$ (۳) $11n$ (۴)

۷۳- مقدار عددی عبارت $(b-a-1) - 3 - 6 - 4a + 4b - 4$ به‌ازای $a = 1404$ و $b = 1403$ برابر با کدام گزینه است؟

- ۱۰ (۱) -۸ (۲) -۴ (۳) -۲ (۴)

۷۴- کدام گزینه درست است؟

- $\sqrt{28} = 14$ (۱) $\sqrt{-\frac{25}{36}} = -\frac{5}{6}$ (۲) $\sqrt{81} = \pm 9$ (۳) $-\sqrt{\frac{4}{9}} = -\frac{2}{3}$ (۴)

۷۵- می‌دانیم دوزنقه متساوی‌الساقین دارای دو ساق برابر است. اگر در شکل زیر، اندازه محیط دوزنقه متساوی‌الساقین برابر با ۳۵

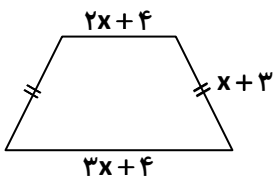
سانتی‌متر باشد، مقدار x چقدر است؟

- ۷ (۱)

- ۲ (۲)

- ۳ (۳)

- ۵ (۴)



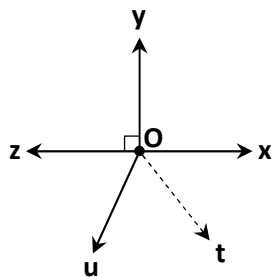
محل انجام محاسبات



۷۶- اگر هر ۴ ضلع متوازی‌الاضلاعی را از دو طرف ادامه دهیم، چند نیم‌خط تشکیل می‌شود؟

- ۱۶ (۱) ۱۲ (۲) ۸ (۳) ۴ (۴)
- ۷۷- اگر ب.م.م دو عدد $15x$ و $6x$ برابر با 33 باشد، ک.م.م دو عدد $5x$ و $10x$ برابر با کدام گزینه است؟
- ۱۰ (۱) ۱۱ (۲) ۵۵ (۳) ۱۱۰ (۴)

۷۸- در شکل زیر اگر Ot نیمساز $\angle xOu$ باشد و $\angle yOt = 155^\circ$ باشد، اندازه $\angle zOu$ چند درجه است؟

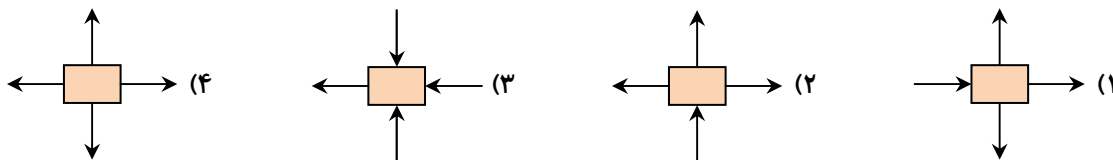


- ۵۰ (۱)
- ۵۵ (۲)
- ۶۰ (۳)
- ۶۵ (۴)

۷۹- حجم استوانه‌ای به ارتفاع ۲۰ سانتی‌متر برابر با ۹۶۰ سانتی‌متر مکعب است. مساحت جانبی این استوانه چند سانتی‌متر مربع است؟ ($\pi = 3$)

- ۶۱۶ (۴) ۴۸۰ (۳) ۳۳۶ (۲) ۲۴۰ (۱)

۸۰- با توجه به نیروهایی که به هر جسم وارد می‌شود، کدام جسم حرکت نمی‌کند؟



۸۱- در عبارت $(-1)^8$ داخل \square و \square به ترتیب کدام علامت را قرار دهیم تا حاصل عبارت برابر با ۷۵ شود؟

- $\square + \square$ (۱) $\square - \square$ (۲) $\square + \square$ (۳) $\square - \square$ (۴)

۸۲- حاصل عبارت $0.01 \times 10^5 \times 0.1 \times 10^6$ برابر با کدام گزینه است؟

- 0.1^7 (۱) 0.1^{10} (۲) 0.1^4 (۳) 0.1^6 (۴)

۸۳- اگر نقطه $A = \begin{bmatrix} -5 \\ 3 \end{bmatrix}$ را ابتدا با بردار \overline{AB} و سپس با بردار $\overline{BC} = \begin{bmatrix} 4 \\ -6 \end{bmatrix}$ انتقال دهیم به نقطه $C = \begin{bmatrix} 3 \\ -7 \end{bmatrix}$ می‌رسیم. مختصات بردار \overline{AB} برابر با کدام گزینه است؟

- $\begin{bmatrix} 1 \\ 1 \end{bmatrix}$ (۱) $\begin{bmatrix} -1 \\ -1 \end{bmatrix}$ (۲) $\begin{bmatrix} 4 \\ -4 \end{bmatrix}$ (۳) $\begin{bmatrix} -4 \\ 4 \end{bmatrix}$ (۴)

محل انجام محاسبات

۸۴- اگر نقطه $D = \begin{bmatrix} -7+a \\ a-5 \end{bmatrix}$ روی محور عرض‌ها باشد، مختصات نقطه D برابر با کدام گزینه است؟

- (۱) $\begin{bmatrix} 0 \\ 2 \end{bmatrix}$ (۲) $\begin{bmatrix} 0 \\ -2 \end{bmatrix}$ (۳) $\begin{bmatrix} 2 \\ 0 \end{bmatrix}$ (۴) $\begin{bmatrix} -2 \\ 0 \end{bmatrix}$

۸۵- در یک کلاس ۲۰ نفری یک دانش‌آموز را به‌طور تصادفی انتخاب می‌کنیم. احتمال اینکه اندازه قد این دانش‌آموز بیشتر از ۱۸۰ cm باشد برابر $\frac{1}{2}$ است. قد چند نفر از دانش‌آموزان این کلاس بیشتر از ۱۸۰ سانتی‌متر است؟

- (۱) ۱ (۲) ۲ (۳) ۵ (۴) ۴

علوم تجربی

کل کتاب



وقت پیشنهادی

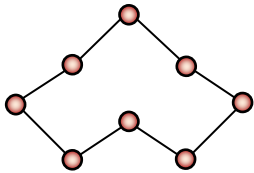
۸۶- کدام مورد مثالی از فناوری محسوب نمی‌شود؟

- (۱) ساخت داروهای فشارخون (۲) کشف اثر مصرف نمک بر فشارخون
(۳) تولید هورمون‌های انسانی با کمک باکتری‌ها (۴) ساخت خودروهایی خورشیدی

۸۷- چگالی آلومینیم ۲۷۰۰ کیلوگرم بر مترمکعب است. حجم یک مکعب آلومینیومی 20 cm^3 است. جرم آن چند گرم است؟

- (۱) ۵۴ (۲) $13/5$ (۳) ۱۳۵ (۴) $5/4$

۸۸- شکل زیر، مدلی از ذرات سازنده کدام ماده است؟



- (۱) گوگرد (۲) گاز کلر
(۳) آب (۴) طلا

۸۹- کدام گزینه جزء ویژگی‌های مس نیست؟

- (۱) شفاف (۲) رسانای گرما (۳) رسانای جریان برق (۴) چکش‌خوار

۹۰- در واکنش شیمیایی زیر از چپ به راست، کدام مواد قرار گیرند تا واکنش انجام شده در کارخانه ذوب آهن به‌درستی نشان داده شود؟

فلز آهن + ... (۲) ... $\xrightarrow{\text{حرارت}}$... (۱) ... + اکسیدهای آهن

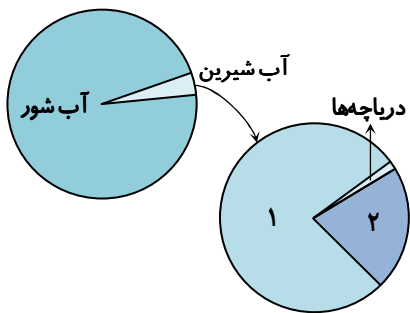
- (۱) کروم- فولاد (۲) کربن- موناوکسید
(۳) فولاد- کربن (۴) کربن- کربن دی‌اکسید

۹۱- اصلی‌ترین دلیل آبتاز کدام است؟

- (۱) اختلاف چگالی آب (۲) وزش باد شدید
(۳) وقوع زمین‌لرزه (۴) جریان‌های دریایی

محل انجام محاسبات

۹۲- با توجه به نمودار زیر در بخش‌های (۱) و (۲) به ترتیب از چپ به راست چه ذخایری قرار می‌گیرند؟



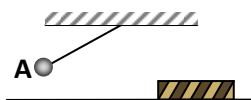
(۱) آب‌های زیرزمینی - یخچال‌ها

(۲) یخچال‌ها - آب‌های زیرزمینی

(۳) یخچال‌ها - رودها

(۴) رودها - یخچال‌ها

۹۳- اگر آونگ شکل زیر، از نقطه A رها شود با برخورد به قطعه چوب آن را ۲۰cm به جلو هل می‌دهد. اگر گلوله آونگ را از همان نقطه پرتاب کنیم، چوب حدوداً چند متر جابه‌جا می‌شود؟



۰/۳۵ (۱)

۰/۱ (۲)

۰/۱۵ (۳)

۰/۲ (۴)

۹۴- فتوستنتز در تولید کدام یک از منابع انرژی زیر نقش ندارد؟

(۱) نفت (۲) زغال‌سنگ (۳) زیست‌توده (۴) زمین‌گرایی

۹۵- تیره بودن رنگ قابلمه‌ها چه کمکی به عملکرد آن‌ها می‌کند؟

(۱) گرما را کمتر جذب می‌کنند و خنک می‌مانند.
 (۲) سرما را بهتر انتقال می‌دهد و گرم می‌مانند.
 (۳) گرما را راحت‌تر از دست می‌دهند و خنک می‌شوند.
 (۴) گرما را بیشتر جذب کرده و غذا سریع‌تر می‌پزد.

۹۶- کدام بخش را می‌توان در سلول‌های برگ چنار و دیواره معدۀ خرگوش مشاهده کرد؟

(۱) میتوکندری (۲) واکوئل مرکزی (۳) دیواره سلولی (۴) کلروپلاست

۹۷- وجود لبه‌های گرد در سلول‌های قرمز خون چه کمکی به آن‌ها می‌کند؟

(۱) انتقال بهتر مواد
 (۲) عبور آسان‌تر از مسیر عبور
 (۳) فعالیت ترشحی بیشتر
 (۴) تقسیم سلولی آسان‌تر

۹۸- شخصی با علائم «خستگی زیاد، رنگ‌پریدگی و بی‌اشتهایی» به پزشک مراجعه نموده و پزشک برای او آزمایش خون تجویز کرده است. به نظر شما کدام یک از نتایج زیر در نتیجه آزمایش این شخص دیده می‌شود؟

(۱) کمبود کلسیم (۲) زیاد بودن سدیم (۳) کمبود آهن (۴) کمبود پتاسیم

۹۹- در صورت مصرف بیش از نیاز روزانه از طریق قرص، مقدار اضافی کدام ویتامین از طریق ادرار دفع می‌شود؟

(۱) D (۲) E (۳) C (۴) A

محل انجام محاسبات

۱۰۰- باکتری‌های ساکن فراخ‌روده از کدام مواد تغذیه می‌کنند؟

- (۱) از برخی مواد دفعی
(۲) از مواد جذبی روده
(۳) از آب و ویتامین‌ها
(۴) از مواد ساخته‌شده توسط فراخ‌روده

۱۰۱- کدام یک از موارد زیر در هضم غذا نقش ندارد؟

- (۱) بزاق
(۲) اسید معده
(۳) آنزیم‌های لوزالمعده
(۴) خون
۱۰۲- عبارت‌های زیر مراحل ضربان قلب را نشان می‌دهد. کدام گزینه ترتیب وقوع را به‌درستی نشان می‌دهد؟

- (الف) خون وارد سرخرگ می‌شود.
(ب) بطن‌ها منبسط می‌شوند.
(پ) بطن‌ها منقبض می‌شوند.
(ت) خون وارد بطن‌ها می‌شود.
(ث) دهلیزها منقبض می‌شوند.

- (۱) «الف»-«ب»-«پ»-«ت»-«ث»
(۲) «ث»-«ت»-«پ»-«الف»-«ب»
(۳) «الف»-«ت»-«پ»-«ث»-«ب»
(۴) «ث»-«پ»-«ت»-«ب»-«الف»

۱۰۳- در خصوص دستگاه گردش خون در انسان سالم، چند مورد از عبارت‌های زیر صحیح است؟

- (الف) تعداد سیاهرگ‌های متصل به دهلیز چپ، چهار برابر سرخرگ‌های متصل به بطن چپ است.
(ب) حفره‌های نیمه چپ قلب در انسان همواره خون روشن دریافت می‌کنند.
(پ) به‌طورمعمول ضخامت لایه ماهیچه‌ای در مویرگ‌ها از سایر رگ‌ها کمتر است.
(ت) بخشی از خون که حاوی قند، نمک و پروتئین است، حجم بیشتری از بخش یاخته‌ای خون دارد.

- (۱) ۱
(۲) ۲
(۳) ۳
(۴) ۴

۱۰۴- کدام گزینه مسیر هوای دم را به‌درستی نشان می‌دهد؟

- (۱) شش ← نایزک ← نایزه ← نای ← حلق ← حنجره ← بینی
(۲) کیسه‌های هوایی ← نایزک ← نایزه ← نای ← حنجره ← حلق ← بینی
(۳) بینی ← حلق ← حنجره ← نای ← نایزک ← کیسه‌های هوایی
(۴) بینی ← حنجره ← حلق ← نای ← نایزک ← نایزه ← کیسه‌های هوایی

۱۰۵- رگ‌های ورودی به کلیه‌ها انشعاب کدام رگ هستند؟

- (۱) بزرگ سیاهرگ زیرین (۲) آئورت (۳) سرخرگ پا (۴) سرخرگ روده

از من تا خدا

کل کتاب



وقت پیشنهادی

۱۰۶- کدام یک از کارهای زیر واجب است؟

- (۱) وضو داشتن برای دست زدن به این عبارت قرآنی که ترجمه آن این است: «ما را به راه راست هدایت کن.»
(۲) پناه بردن به خدا وقتی می‌خواهیم قرآن بخوانیم.
(۳) ساکت شدن و گوش کردن به کسی که دارد با صدای بلند قرآن می‌خواند.
(۴) وضو داشتن برای دست زدن به اسم خداوند به زبان انگلیسی

۱۰۷- برای آیه زیر کدام عنوان مناسب است؟

- «عَسَىٰ أَنْ تَكْرَهُوا شَيْئًا وَهُوَ خَيْرٌ لَّكُمْ وَعَسَىٰ أَنْ تُحِبُّوا شَيْئًا وَهُوَ شَرٌّ لَّكُمْ وَاللَّهُ يَعْلَمُ وَأَنْتُمْ لَا تَعْلَمُونَ»
(۱) سختی‌های زندگی مقدمه خوشی‌ها
(۲) خیر و شر به‌دست ماست
(۳) عبادت، هدف خلقت
(۴) تویی که می‌شناسی‌ام!

۱۰۸- کدام جمله نادرست است؟

- ۱) سنّ بلوغ برای دختران پایان نه سال قمری است.
- ۲) بلوغ شرعی نشانه‌هایی دارد که اگر کسی فقط یکی از آن‌ها را داشته باشد، معلوم می‌شود به بلوغ رسیده است.
- ۳) تمام مراجع تقلید می‌گویند هنگام غسل بعد از شستن سر و گردن باید ابتدا طرف راست و سپس طرف چپ بدن را شست.
- ۴) هر کسی با رسیدن به سنّ بلوغ، باید یک مرجع تقلید برای خود انتخاب کند.

۱۰۹- او کیست؟

«کسی که با توکل به خدا و توسّل به اهل بیت علیهم‌السلام و با علم و پشتکار، ایران را به قلّه برترین قدرت‌های موشکی دنیا رساند.»

۱) شهید حسن تهرانی مقدم

۲) شهید مجید شهریاری

۳) شهید رحیم ارباب

۴) شهید رضا پناهی

۱۱۰- حضرت علی علیه‌السلام چه چیزی را به عنوان «سر در پیکر» برای کارها تشبیه کرده‌اند؟

۱) صبر

۲) نیت

۳) آرامش

۴) تلاش

۱۱۱- کدام یک از افراد زیر به یاد خدا نیستند؟

۱) حمیده به‌خاطر دستور خدا حجابش را رعایت می‌کند، ولی نمازهای مستحبی‌اش را نمی‌خواند.

۲) راضیه نام‌هایی را به زبان می‌گوید، در حالی که روبه‌روی تلویزیون نشسته است و به آن نگاه می‌کند.

۳) مرضیه می‌داند خداوند در مشکلات کمکش می‌کند، ولی به زبانش ذکر خدا را نمی‌گوید.

۴) سعیده به دوستش می‌گوید: الان خداوند شاهد است من چه می‌گویم و به دوستش تهمت می‌زند.

۱۱۲- با توجه به آیات و عبارات زیر مواردی را که با هم هماهنگ هستند، در کدام گزینه به‌صورت درست کنار هم نوشته شده‌اند؟

الف) «اجْتَنِبُوا كَثِيرًا مِّنَ الظَّنِّ»

ب) «لَا تَيْأَسُوا مِن رَّوْحِ اللَّهِ»

ج) فکر بد نسبت به دیگران نداشتن

۱) «الف» و «ب»

۲) «الف» و «ج»

۳) «ب» و «ج»

۴) «الف»، «ب» و «ج»

۱۱۳- کدام گزینه مناسب‌ترین هدف از متن زیر است؟

«قلب انسان در طول شبانه‌روز چندین هزار لیتر خون را به بدن پمپاژ می‌کند که برای حمل آن ده‌ها تانکر لازم است. قلب برای این کار در هر دقیقه به‌طور میانگین ۷۵ بار می‌تپد.»

۱) پزشکی مفیدترین علم برای انسان

۲) سلامتی برای انسان شناخته‌شده نیست

۳) بزرگ شمردن خداوند و قدرت او

۴) حرام بودن آسیب زدن به بدن خود

۱۱۴- من چیستم؟

«طبق فرموده امام سجاد علیه‌السلام اگر نباشم انسان‌ها از مرزهای انسان بودن بیرون می‌رفتند و پا به دنیای حیوان بودن می‌گذاشتند و بلکه

از چهارپایان گمراه‌تر»

۱) عقل

۲) رعایت حق‌الناس

۳) شکرگزاری

۴) یاد خدا

۱۱۵- کدام یک از عبارات زیر را خداوند به داوود نبی علیه‌السلام فرمود؟

۱) خلقم را محبوب من کن

۲) نعمت‌هایی که به خلقم داده‌ام را یاد کن.

۳) خلقم را با همدیگر محبوب کن.

۴) خلقم را به یاد نعمت‌هایی که به آن‌ها داده‌ام بینداز.

۱۱۶- مرجع تقلید «خمس» را چگونه مصرف می‌کند؟

۱) یک پنجم آن را به سادات فقیر می‌دهد و بقیه آن را خرج امور دینی می‌کند.

۲) همه آن را به سادات فقیر می‌دهد.

۳) همه آن را خرج امور دینی می‌کند.

۴) نصف آن را خرج امور دینی می‌کند و نصف دیگرش را به سادات فقیر می‌دهد.

۱۱۷- مناسب‌ترین گزینه برای متن زیر کدام است؟

«اگر ابروها نبودند سایبان چشم کم می‌شد و نور شدید وارد آن می‌گردید و به آن آسیب می‌زد؛ از طرفی این ابروها زیبایی به‌صورت داده که بدون آن انسان زشت و بدمنظر می‌گردید.»

(۱) جزئی بودن خلقت هر عضوی از بدن، فایده‌های بسیاری دارد که به آن توجه نمی‌شود.

(۲) انسان از همهٔ خلقت پیچیده‌تر و بااهمیت‌تر است.

(۳) سلامتی و بدن سالم برای انسان بزرگ‌ترین نعمت خداوند است و انسان باید شکرگزار آن باشد.

(۴) خداوند شناخت قلبی نعمت‌ها را به‌عنوان شکرگزاری قبول می‌کند.

۱۱۸- در قصه «از بودا تا محمد» آتسوکو به این نتیجه رسید که زن با به آزادی می‌رسد، چون

(۱) حجاب- بدون حجاب برای دیگران زندگی می‌کند، نه برای خودش.

(۲) حجاب- قانون را مراعات کرده و به دادگاه و زندان نمی‌رود.

(۳) بی‌حجابی- بدون حجاب انسان راحت‌تر به کارهایش می‌رسد.

(۴) بی‌حجابی- مانند مردها از زحمت پوشاندن موهای خود رها می‌شوند.

۱۱۹- مطابق سخن رسول خدا ﷺ، چه سؤالی دربارهٔ دو کلمهٔ «امنیت» و «سلامتی» می‌توان طرح کرد؟

(۱) دو نعمت که شناخته نمی‌شوند را نام ببرید.

(۲) دو نعمت که مورد ناسپاسی قرار می‌گیرند را نام ببرید.

(۳) بالاترین نعمت‌ها کدام است؟

(۴) ضروری‌ترین نعمت‌ها کدام است؟

۱۲۰- از متون زیر کدام گزینه برداشت می‌شود؟

الف) ﴿لَقَدْ كَانَ فِي قَصَصِهِمْ عِبْرَةً لِّأُولِي الْأَلْبَابِ﴾

ب) «پسرم! هرچند من به اندازهٔ تمام آنان که پیش از من بوده‌اند زندگی نکرده‌ام، اما در کارهایشان دقت و در سرگذشت‌های آن‌ها

تفکر و در آثارشان سیر کرده‌ام ...»

(۱) زندگی ما تاریخی است برای آیندگان.

(۲) آینده برای خردمندان همان سرگذشت پیشینیان است.

(۳) حضرت علی علیه السلام دلسوز انسان‌های گذشته و آینده است.

(۴) حضرت علی علیه السلام جزء گروه خردمندان است.

