

گزینهدو

مؤسسه آموزشی فرهنگی

پایه هفتم
دوره اول متوسطه

* ارزشیابی پیشرفت تحصیلی

مرحله ۱۲ (۲۴ اردیبهشت ۱۴۰۵)

سال تحصیلی ۱۴۰۴-۱۴۰۵

| عنوان | تعداد پرسش | از شماره | تا شماره | وقت پیشنهادی |
|------------------|------------|----------|----------|--------------|
| فارسی | ۱۵ | ۱ | ۱۵ | ۱۵ دقیقه |
| عربی | ۱۰ | ۱۶ | ۲۵ | ۱۰ دقیقه |
| * پیام های آسمان | ۱۵ | ۲۶ | ۴۰ | ۱۵ دقیقه |
| زبان انگلیسی | ۱۰ | ۴۱ | ۵۰ | ۱۰ دقیقه |
| مطالعات اجتماعی | ۱۵ | ۵۱ | ۶۵ | ۱۵ دقیقه |
| ریاضی | ۲۰ | ۶۶ | ۸۵ | ۵۰ دقیقه |
| علوم تجربی | ۲۰ | ۸۶ | ۱۰۵ | ۳۵ دقیقه |
| * از من تا خدا | ۱۵ | ۱۰۶ | ۱۲۰ | ۱۵ دقیقه |

مدت پاسخ گویی: ۱۵۰ دقیقه

تعداد کل پرسش ها: ۱۰۵

توجه:

* این ارزشیابی، نمره منفی ندارد.

* دانش آموزان با توجه به برنامه درسی مدرسه خود فقط به یک سری از پرسش های درس «پیام های آسمان» یا «از من تا خدا» پاسخ می دهند.



دانش آموز گرامی، شما می توانید با اسکن تصویر روبه روبه وسیله گوشی هوشمند و یا تبلت خود، پاسخ های تشریحی را مشاهده نمایید.



- ۱- در همهٔ گزینه‌ها، تمام واژه‌ها هم‌خانواده هستند، به جز گزینهٔ
- (۱) مونس - انیس - مأنوس - أنس
(۲) موافق - توافق - فوق - توفیق
(۳) ظالم - مظلوم - تظلم - ظلم
(۴) اعجاز - معجزه - عجز - عاجز
- ۲- در گروه واژگان زیر چند «گروه کلمه» از نظر املايي نادرست است؟
«چشمک موزیانه - رایهٔ گل‌ها - گرین رحمت - ایام طفولیت - قرعۀ شکوه - روح مذاب - انحراف نسل جوان»
- (۱) ۱
(۲) ۲
(۳) ۳
(۴) ۴
- ۳- کدام گزینه از آثار عطار و جامی نیست؟
(۱) تذکره الاولیا - نفحات الانس
(۲) منطق الطیر - بهارستان
(۳) تذکره الاولیا - هفت پیکر
(۴) منطق الطیر - هفت اورنگ
- ۴- معنی واژگان «توش - مصاحبت - تقلا - اثنا» در کدام گزینه آمده است؟
(۱) اندوخته - هم‌نشینی - تلاش - میانه‌ها
(۲) خوراک - گفت‌وگو - کوشش - ثانیه‌ها
(۳) تلاش - صحبت - تقلید - پایان
(۴) باطن - مصاحبه - دشوار - دوتادوتا
- ۵- در کدام گزینه مفعول به کار رفته است؟
(۱) بر درختی شکوفه‌ای خندید
(۲) با زبان سبز و با دست دراز
(۳) گورخانه راز تو چون دل شود
(۴) آدم و نوح و خلیل و موسی و عیسی
- ۶- در این عبارت چند فعل گذشته و چند فعل حال دیده می‌شود؟
«فرزندان عزیزم، نامهٔ محبت‌آمیز شما را قرائت کردم. با نشاط و خرمی درس‌هایتان را خوب بخوانید و در همان حال، به وظایف اسلامی که انسان‌ها را می‌سازد، عمل کنید و اخلاق خود را نیکو کنید.»
- (۱) یک - سه
(۲) یک - چهار
(۳) دو - سه
(۴) دو - چهار
- ۷- تعداد جملات کدام گزینه بیشتر است؟
(۱) غنچه هم گفت: گرچه دلتنگم
(۲) بچه‌ها گرم گفت‌وگو بودند
(۳) کاش روزی به کام خود برسید
(۴) ذره ذره به آسمان بروم
- ۸- عبارت زیر چند جمله است؟
«جان پدر! تو نیز اگر بختی به از آن که در پوستین خلق افتی.»
- (۱) یک
(۲) دو
(۳) سه
(۴) چهار
- ۹- در کدام گزینه «نهاد، مفعول و متمم» به کار رفته است؟
(۱) تو را دانش و دین رهاند درست
(۲) همه عالم تن است و ایران دل
(۳) نگشت آسایشم یک لحظه دمساز
(۴) هجوم فتنه‌های آسمانی
- در رستگاری بیایدت جست
نیست گوینده زین قیاس خجل
گهی از گریه ترسیدم گه از باز
مرا آموخت علم زندگانی

۱۰- آرایه‌های «تشبیه و تشخیص» در کدام گزینه‌ها دیده می‌شود؟

- (الف) احساس می‌کردم هم‌اکنون چشمه‌های معرفت از درون من سر باز خواهند کرد.
 (ب) آب، تازه‌نفس، جوان، زلال، امیدوار و شتابان می‌رفت.
 (ج) درختان سرسبز باغ و صحرا شاخه‌های دست‌های خویش را به آسمان برافراشته بودند.
 (د) نسیم مانند مادری مهربان و آداب‌دان به کودکان خویش حق‌شناسی و ادب می‌آموزد.
- (۱) «ب» و «د»
 (۲) «الف» و «ج»
 (۳) «الف» و «ب»
 (۴) «ج» و «د»

۱۱- در کدام گزینه از آرایه‌ی تشخیص (شخصیت‌بخشی) استفاده شده است؟

- (۱) دمی بعد، کژال صدای نفس‌های تلخ گرگ را شنید.
 (۲) روناک مثل بره‌ای، دست‌هایش را در هوا تکان می‌داد.
 (۳) سنگ‌های اطراف چشمه، زیر گالش‌های کژال، تکان می‌خوردند و بیدار می‌شدند.
 (۴) دشت را یک پارچه، صدای نفس‌های زدن‌های گرگ و آزاد پر کرده بود.

۱۲- کدام گزینه با عبارت زیر هم‌مفهوم نیست؟

«آینده با حرف ساخته نمی‌شود، با کار هوشمندانه ساخته می‌شود.»

- (۱) سعدیا، گرچه سخندان و مصالح‌گویی
 (۲) گفته بی‌عمل، چو باد هواست
 (۳) بزرگی، سراسر به گفتار نیست
 (۴) بی‌علم و عمل، راه سلامت نتوان رفت
- به عمل کار برآید، به سخندانی نیست
 ابره را محکمی ز آستر است (ابره: رویه لباس)
 دوصد گفته چون نیم‌کردار نیست
 بی‌بال و پر از دام پریدن، چه خیال است؟

۱۳- کدام گزینه به مفهوم «تجربه‌اندوزی» اشاره دارد؟

- (۱) شدش گیتی به پیش چشم، تاریک
 (۲) تو را آسودگی باید مرا رنج
 (۳) تو را توش هنر می‌باید اندوخت
 (۴) حالی خوش باش و عمر بر باد مکن

۱۴- مفهوم کلی کدام گزینه با بقیه متفاوت است؟

- (۱) نگشت آسایشم یک لحظه دمساز
 (۲) هنوزت نیست پای برزن و بام
 (۳) فتاد از پای کرد از عجز فریاد
 (۴) ز رنج خستگی درماند در راه

۱۵- معنی بیت زیر در کدام گزینه آمده است؟

هجو م فتنه‌های آسمانی مرا آموخت علم زندگانی

- (۱) حوادث و اتفاقات زندگی به من راه و رسم زندگی کردن را یاد داد.
 (۲) باید از طریق علم، راه جلوگیری از تکرار شکست و مشکلات را در زندگی آموخت.
 (۳) فتنه‌ها و سختی‌های زندگی راه کسب علم و دانش را به من آموخت.
 (۴) با کسب علم می‌توان از وقوع سختی‌ها و مشکلات زندگی جلوگیری کرد.



وقت پیشنهادی

عربی
کل کتاب

۱۶- در کدام گزینه، کلمه داخل پرانتز برای جای خالی، مناسب است؟

- (۱) عَدَدُ الْمَسَافِرِينَ فِي الْفُنْدُقِ (كثِيرٌ)
 (۲) الْخَيْرُ كَثِيرٌ وَ فَاعِلُهُ (قَصِيرٌ)
 (۳) سَلَامَةُ الْعَيْشِ فِي (الْعَدَاوَةِ)
 (۴) جَائِزَةٌ ذَهَبِيَّةٌ لِلْفَائِزِ (الثَّانِي)

۱۷- در کدام عبارت، کلمات مترادف و یا متضاد وجود ندارد؟

- (۱) زِينَةُ الْبَاطِنِ خَيْرٌ مِنْ زِينَةِ الظَّاهِرِ.
 (۲) فَرِحْنَ جَمِيعاً وَ نَظَرْنَ إِلَيْهَا بِاتِّسَامٍ.
 (۳) عَلِيٌّ أَكْبَرُ مِنَ الْأَحْوَيْنِ وَ مَرِيْمٌ أَصْغَرُ مِنْهُمْ.
 (۴) إِذَا مَلَكَ الْأَرَادُؤُ هَلَكَ الْأَفْاضُ.

۱۸- در کدام گزینه، همه کلمات با یکدیگر هماهنگ هستند؟

- (۱) قَمِيصٌ / جَوَالٌ / فُسْتَانٌ
(۲) أَرْضٌ / نَهَارٌ / شَمْسٌ
(۳) قَصِيرٌ / لِسَانٌ / وَجْهٌ
(۴) بَابٌ / غُرْفَةٌ / نَافِذَةٌ

۱۹- ترجمه کدام عبارت، درست است؟

- (۱) أَفْضَلُ النَّاسِ أَنْفَعُهُمْ لِلنَّاسِ: برترین مردم، سودمندترین آنها برای مردم هستند.
(۲) كَيْفَ كَانَتْ قِيَمَةُ الْمَلَائِكِ؛ رَحِيصَةً أَمْ غَالِيَةً؟: قیمت‌های لباس چگونه است، ارزان یا گران؟
(۳) أَرَبَعَةٌ قَلِيلٌهَا كَثِيرٌ: «الْفَقْرُ وَالْوَجْعُ وَالْعَدَاوَةُ وَالنَّارُ»: چهار چیز اندکش زیاد است: تهی‌دستی و ناراحتی و دشمنی و آتش.
(۴) الْمُسْلِمُ مَنْ سَلِمَ النَّاسُ مِنْ لِسَانِهِ وَ يَدِهِ: مردم از دست و زبان مسلمان در امانند.

۲۰- کدام جمله از نظر حقیقت و واقعیت، نادرست است؟

- (۱) عَدَدُ أَيَّامِ الْأُسْبُوعِ سَبْعَةٌ وَ عَدَدُ الْفُصُولِ أَرْبَعَةٌ.
(۲) أَلْوَانُ عِلْمِ الْجُمْهُورِيَّةِ الْإِسْلَامِيَّةِ الْإِيرَانِيَّةِ، الْأَخْضَرُ وَالْأَبْيَضُ وَالْأَحْمَرُ.
(۳) الْيَوْمُ يَوْمُ السَّبْتِ وَ غَدًا يَوْمُ الْأَحَدِ.
(۴) الْجَوْ فِي الْخَرِيفِ مُعْتَدِلٌ وَ هُوَ فَضْلُ الْجَمَالِ وَالْحَيَاةِ الْجَدِيدَةِ.

۲۱- کدام پرسش و پاسخ، درست است؟

- (۱) أَمْ كَانَتْ الْفَوَاكِهُ رَحِيصَةً أَمْ غَالِيَةً؟ نَعَمْ، رَحِيصَةً.
(۲) أَيَّنَ الْوَالِدُ الصَّغِيرُ؟ هُوَ مِنْ مَدِينَةِ أَهْوَاَزَ.
(۳) كَمْ عَدَدُ الْمَسَافِرِينَ فِي الشُّنْدُقِ؟ قَلِيلٌ.
(۴) لِمَنْ هَذِهِ السَّيَّارَةُ؟ لِحَمَلِ الْمَسَافِرِينَ.

۲۲- کدام شناسه، مناسب عبارت داده شده نیست؟

- (۱) هَذَا وَ لَدَانٍ. هُمَا رَفَعٌ الْعَلَمُ. (L)
(۲) هِيَ سَلِمَتْ مِنَ الْخَطَرِ. (ت)
(۳) أَمْ أَنْتُمْ كُنْتُمْ وَاجِبَانِكُمْ. (كَمَا)
(۴) هُمْ سَمَحَ لِي بِالْكَلَامِ. (وَا)

۲۳- کدام عبارت از نظر قواعد، درست است؟

- (۱) أَمْ رَجَعْتُ مِنَ السَّفَرِ أَتَيْتُهَا النَّسَاءَ؟
(۲) أَنَا سَأَلْتُ مُعَلِّمَتِي حَوْلَ الدَّرْسِ.
(۳) أَوْلَيْتُكَ الْبَنَاتُ جَلَسَتْ هُنَاكَ.
(۴) هُوَ لِإِذَا الرِّجَالُ دَهَبْتُمْ إِلَى الْقَرْيَةِ.

■ متن زیر را به دقت بخوانید و به سؤال‌های مربوط به آن پاسخ دهید.

«اسم صديقتي سميرة. هي طالبةٌ مجدةٌ و ناجحةٌ في الصفِّ السَّابعِ. بيئتها في شارعٍ «شهيد سليمانی» و مدرستها بعيدةٌ عن بيتها. والداها شريطي و والدتها أستاذةٌ. لسميرة أخوان: حسنٌ و حسينٌ. حسنٌ سائقُ السَّيَّارَةِ و حسينٌ مدرِّسُ الكيمياءِ. هذه الأُسرةُ من مدينةِ شيراز.»

۲۴- برای کدام کلمه پرسشی در متن جوابی وجود ندارد؟

- (۱) مِنْ أَيَّنَ (۲) لِمَنْ (۳) كَمْ (۴) لِمَاذَا

۲۵- کدام عبارت براساس متن، نادرست است؟

- (۱) مَدْرَسَةُ سَمِيرَةَ بَعِيدَةٌ عَنِ بَيْتِهَا.
(۲) حَسَنٌ سَائِقُ السَّيَّارَةِ وَ وَالِدُهُ أَسْتَاذٌ.
(۳) لِأُمِّ سَمِيرَةَ ثَلَاثَةٌ أَوْلَادٍ.
(۴) هَذِهِ الْأُسْرَةُ حَمْسَةٌ أَشْخَاصٍ.

پیام‌های آسمان

کل کتاب



وقت پیشنهادی

۲۶- آیه شریفه زیر، با کدام یک از ویژگی‌های حضرت زهرا (س) مطابقت بیشتری دارد؟

﴿لَنْ تَنَالُوا الْبِرَّ حَتَّى تُنْفِقُوا مِمَّا تُحِبُّونَ﴾

- (۱) حضور در اجتماع (۲) ساده‌زیستی (۳) اهمیت دادن به خانواده (۴) ایثار و بخشندگی

۲۷- چرا عمل به تکالیف دینی بر ما واجب است؟

- (الف) زیرا باید توان مقابله با شیطان را پیدا کنیم.
(ب) زیرا باید توان رسیدن به پاداش الهی را داشته باشیم.
(ج) زیرا انجام این تکالیف، سخت و دشوار است.

- (۱) «الف» و «ج» (۲) «الف» و «ب» (۳) «ب» (۴) «ب» و «ج»



۲۸- به ترتیب، مدفوع و خون چه حیواناتی نجس است؟

- (۱) خون جهنده‌دار - حرام گوشت و خون جهنده‌دار
(۲) حرام گوشت - خون جهنده‌دار
(۳) حرام گوشت و خون جهنده‌دار - خون جهنده‌دار
(۴) خون جهنده‌دار - حرام گوشت

۲۹- کدام یک از ترتیب‌های زیر، برای رکعت اول نماز درست است؟

- (۱) قرائت - نیت - تکبیرة الاحرام
(۲) نیت - قرائت - تکبیرة الاحرام
(۳) قیام - تکبیرة الاحرام - قرائت
(۴) تکبیرة الاحرام - نیت - قرائت

۳۰- کدام گزینه در مورد غسل درست نیست؟

- (۱) سومین مرحله در غسل، شستن تمام طرف چپ بدن است.
(۲) برای اینکه مطمئن شویم هر طرف را کاملاً شسته‌ایم، لازم است مقداری از طرف دیگر را نیز در هر مرحله بشویم.
(۳) غسل جمعه یکی از کارهای مستحبی است که قبل از ظهر روز جمعه انجام می‌شود.
(۴) اگر چیزی به بدن چسبیده باشد که نگذارد آب به بدن برسد، غسل درست نیست.

۳۱- با توجه به آیه زیر، مهم‌ترین فایده حجاب چیست؟

﴿يَا أَيُّهَا النَّبِيُّ قُلْ لِمَ أَرَاكُمْ وَنِسَاءَ الْمُؤْمِنِينَ يُدْنِينَ عَلَيْهِنَّ مِنْ جَلَابِيبِهِنَّ ذَلِكَ أَدْنَى أَنْ يُعْرَفْنَ فَلَا يُؤْذَيْنَ وَكَانَ اللَّهُ غَفُورًا رَحِيمًا﴾

- (۱) جلوگیری از به تباهی کشیده شدن جامعه
(۲) در امان ماندن از آزار و اذیت
(۳) رشد و پیشرفت جامعه
(۴) خشنودی خدا و پیامبران و امامان

۳۲- با توجه به فرمایش پیامبر ﷺ، علم چیست؟

- (۱) سکوت کردن - گوش فرا دادن - نوشتن - آموزش آن به دیگران - عمل کردن به آن
(۲) گوش فرا دادن - به‌خاطر سپردن - نوشتن - عمل کردن به آن - آموزش آن به دیگران
(۳) سکوت کردن - گوش فرا دادن - به‌خاطر سپردن - عمل کردن به آن - آموزش آن به دیگران
(۴) گوش فرا دادن - نوشتن - به‌خاطر سپردن - آموزش آن به دیگران - عمل کردن به آن
۳۳- کدام ویژگی یا ویژگی‌هاست که اگر در کسی نبود، امام صادق علیه السلام سه بار بر دوری کردن از او تأکید کرده‌اند؟

- (الف) رعایت نماز اول وقت (ب) نیکی به هم‌نوعان (ج) وفای به عهد
(۱) «الف» (۲) «الف» و «ب» (۳) «ب» و «ج» (۴) «ج»

۳۴- کدام یک از موارد زیر به ترتیب درمان «تنبلی» و «عجله» است؟

- (۱) آینده‌نگری - دوستی با انسان‌های کوشا
(۲) تصمیم قاطع - اندیشه به عاقبت و نتیجه کار
(۳) اندیشه به عاقبت و نتیجه کار - تصمیم قاطع
(۴) دوستی با انسان‌های کوشا - دوستی با انسان‌ها کوشا

۳۵- در کدام گزینه ارتباط بین موارد درست نیست؟

- (۱) شتاب‌زدگی ← خوب فکر نکردن ← تصمیم‌گیری اشتباه
(۲) همراهی با انسان‌های کوشا ← ایجاد انگیزه ← کار و فعالیت مفید
(۳) عجله کردن ← کار بدون دقت ← دوباره کاری
(۴) تصمیم قاطع ← خیال‌پردازی ← نوآوری و ابتکار

۳۶- دبیر هندسه اعلام کرد می‌خواهد تکالیف را ببیند. محبوبه با عجله دنبال دفترش گشت، اما آن را پیدا نکرد و شروع به گریه کرد.

دوست محبوبه با آرامش کیف او را گشت و دفتر هندسه‌اش را پیدا کرد. چرا دفتر محبوبه از دید او پنهان مانده بود؟

- (الف) دچار شتاب‌زدگی شده بود.
(ب) نتوانسته بود به اندازه کافی توجه کند.
(ج) دچار ترس و ناامیدی شده بود.
(۱) «الف» و «ج» (۲) «الف» و «ب» (۳) «ب» و «ج» (۴) «الف»، «ب» و «ج»

۳۷- در کدام یک از درخواست‌های زیر فقط می‌توانیم از خداوند کمک بخواهیم و از دیگران کاری بر نمی‌آید؟

- الف) باران (ب) مال و ثروت فراوان (ج) سلامتی (د) بخشش گناهان (ه) علم و دانش
- ۱) «الف» - «ج» - «د» ۲) «الف» - «د» - «ه» ۳) «ب» - «ه» ۴) «الف» - «د»

۳۸- کدام مورد صدقه نیست؟

- ۱) علی، تکالیف دوستش را به جایش انجام می‌دهد. ۲) محمد، دست نابینایی را می‌گیرد و از خیابان عبور می‌دهد. ۳) رضا، خریدهای مادرش را برایش انجام می‌دهد. ۴) حسین، برادر کوچکترش را به مدرسه می‌رساند.

۳۹- عبارت زیر به کدام یک از ویژگی‌های اخلاقی اشاره دارد؟

- «با اینکه شروین بیشتر اوقات، دوستش مبین را اذیت می‌کرد اما مبین هر وقت او را می‌دید، با او سلام و احوال‌پرسی می‌کرد.»
- ۱) عزت‌نفس ۲) شجاعت ۳) بزرگواری و محبت ۴) فداکاری

۴۰- حضرت علی علیه السلام بی‌ارزش‌ترین چیز را در نزد خود، چه می‌دانست؟

- ۱) حکومت بر مردم ۲) مقام‌های دنیایی ۳) رعایت عدالت ۴) برقراری نظم میان مردم

زبان انگلیسی

کل کتاب



وقت پیشنهادی

41- Choose the correct item to complete this conversation.

- گزینه درست برای کامل کردن این مکالمه را انتخاب کنید.


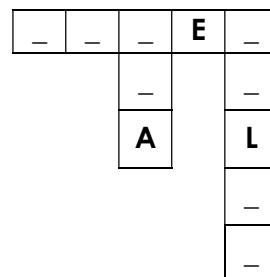
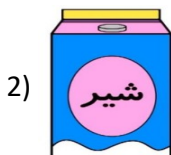
A: Who is that

B: She is my wife, Alavi.

- 1) girl - Miss 2) woman - Mrs.
3) man - Mr. 4) boy - Mr.

42- The word related to which item does **NOT** complete the crossword puzzle correctly?

- واژه مرتبط با کدام گزینه، جدول زیر را به درستی کامل نمی‌کند؟



43- Choose the **BEST** item.

- بهترین گزینه را انتخاب کنید.

A: I'm Samira Mirzaei.

B:, what's your last name again?

A: Mirzaei.

- 1) I see 2) Sure
3) Sorry 4) Here

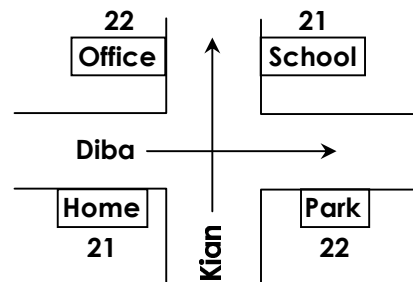
44- Choose the correct item according to the given picture.

- با توجه به تصویر داده شده، گزینه درست را انتخاب کنید.

A: Where do you work?

B: At ; I'm a teacher.

- 1) 22 Kian Street
- 2) 21 Diba Street
- 3) 21 Kian Street
- 4) 22 Diba Street



45- Choose the correct order for the given conversation.

- ترتیب درست برای مکالمه زیر را انتخاب کنید.

- a) Yes, she is.
- b) Can you say her name, please?
- c) Nice picture! Is that your aunt?
- d) Yes, sure.

- 1) c, d, b, a
- 2) b, d, c, a
- 3) c, a, b, d
- 4) b, a, d, c

46- Which item is correct according to the meaning?

- کدام گزینه از نظر معنی درست است؟

- 1) Your aunt is your mother's sister.
- 2) My uncle is my father's son.
- 3) Your father's mother is your grandfather.
- 4) My mother's father is my grandmother.

47- Which item does NOT complete the sentence correctly?

- کدام گزینه جمله زیر را به درستی کامل نمی کند؟

"Vahid, please before you go to the office."

- 1) see your mother
- 2) try your mother
- 3) visit your mother
- 4) call your mother

48- Which item completes the conversation correctly?

- کدام گزینه مکالمه زیر را به درستی کامل می کند؟

A: I feel hungry.

B: Let's have some to

- 1) cake - eat
- 2) milk - drink
- 3) cake - drink
- 4) milk - eat

■ Read the text below and answer the questions.

- متن زیر را بخوانید و به پرسش های مربوط به آن پاسخ دهید.

"My name is Amin Nouri. My family and I live in a nice house. Our neighbors*, Mr. and Mrs. Lotfi, have two sons, Kasra and Kaveh. Kasra is thirty-two and Kaveh is twenty-eight. Kasra is a dentist and works in an office. Kaveh works in a bank. He wears a gray suit, but his older* brother wears a white shirt. He wears glasses, too."

* neighbor = همسایه

* older = بزرگ تر

49- Which item is NOT true according to the given text?

- با توجه به متن داده شده، کدام گزینه نادرست است؟

- 1) Kaveh is an employee.
- 2) Kaveh wears a suit.
- 3) Kasra works in a bank.
- 4) Kasra is the older brother.

50- Which item is true according to the given text?

- 1) Kasra wears a white shirt.
- 3) Mrs. Lotfi is Amin's aunt.

- با توجه به متن داده شده، کدام گزینه درست است؟
- 2) Mr. Nouri is Mr. Lotfi's dentist.
- 4) Kaveh wears glasses.



وقت پیشنهادی

مطالعات اجتماعی

کل کتاب

- ۵۱- ما انسان‌ها، چگونه می‌توانیم در بهره‌برداری از طبیعت و رفع نیازهای خود، عملکرد درست‌تری داشته باشیم؟
- (۱) با برنامه‌ریزی، کلیه نیازهای خود را در حد توان رفع نماییم.
 - (۲) با برنامه‌ریزی، طبیعت را به تصرف خود دریاوریم.
 - (۳) با برنامه‌ریزی، کم‌ترین آسیب را به محیط‌زیست وارد کنیم.
 - (۴) با برنامه‌ریزی، از تمام گیاهان و جانوران برای رفع نیازهای خود استفاده نماییم.

۵۲- قلّه هزار مسجد جزو کدام یک از گزینه‌های زیر می‌باشد؟

- (۱) رشته‌کوه آذربایجان
- (۲) رشته‌کوه زاگرس
- (۳) کوه‌های خراسان
- (۴) رشته‌کوه البرز

۵۳- پرهیز فروشندگان از چه عواملی، موجب کسب حلال در فروش کالایشان به مشتریان می‌شود؟

- (۱) عرضه کالای بی کیفیت - عرضه کالای گران قیمت
- (۲) کم فروشی - گران فروشی
- (۳) عرضه کالای با کیفیت - کم فروشی
- (۴) ارزان فروشی - عرضه کالای گران قیمت

۵۴- استفاده از کدام پرسش، نوع متفاوتی از اطلاعات تاریخی را به دست می‌دهد؟

- (۱) چه چیزی روی داده است؟
- (۲) واقعه در چه زمانی رخ داده است؟
- (۳) علت یا علل این رویداد چه بوده است؟
- (۴) در چه مکانی این اتفاق رخ داده است؟

۵۵- کدام عامل زیر به امپراتوری بودن حکومت هخامنشی اشاره می‌کند؟

- (۱) تسلط هخامنشیان بر تمام مناطق آسیا
- (۲) در بر گرفتن کشورهای اصلی پیرامون خود
- (۳) مقابله آن‌ها با شورش‌های محلی و حکومت‌ها
- (۴) رونق اقتصادی ایران در دوران هخامنشی

۵۶- چه صنعتی در گذشته در کارگاه‌های مرو، ری، اهواز و شوشتر، رواج داشت؟

- (۱) شال‌بافی
- (۲) قالی‌بافی
- (۳) ساخت ابزارهای کشاورزی
- (۴) ساخت ابزارهای جنگی

۵۷- کدام مورد زیر از دیدگاه زمانی، مطابقت کاملی با دوران گردآوری خوراک دارد؟

- (۱) پیشرفت در کشاورزی
- (۲) زندگی در غارها
- (۳) اختراع خط
- (۴) استفاده از ظروف سفالی

۵۸- فرمانروای اولین حکومت قدرتمند ایران، چه کسی بود؟

- (۱) دهبوک
- (۲) کوروش
- (۳) هخامنش
- (۴) ارشک

۵۹- کدام گزینه جمله را به درستی تکمیل می‌کند؟

«نسبت یزد گرد سوم به اعراب مسلمان، مانند نسبت»

- (۱) هخامنشیان است به مادها
- (۲) اردشیر بابکان است به اشکانیان
- (۳) سلوکوس است به یونانیان
- (۴) والریانوس است به ساسانیان

۶۰- کدام دو شهر زیر، در دوره چهار سلسله اصلی ایران باستان، پایتخت سرزمین ایران بوده‌اند؟

- (۱) شوش - گور
- (۲) صد دروازه - بابل
- (۳) بابل - تخت جمشید (پارسه)
- (۴) هگمتانه - تیسفون

۶۱- حکومت‌های آریایی با توجه به ترتیب شکل‌گیری، با کدام قدرت‌های خارجی در نبرد بودند؟

- (۱) آشور - یونان - روم - روم
(۲) یونان - روم - یونان - روم
(۳) غرب - آشور - یونان - روم
(۴) آشور - روم - روم - غرب

۶۲- زرتشت، پیامبر ایران باستان در چه زمانی می‌زیست؟

- (۱) قبل از مادها (۲) بعد از ساسانیان (۳) قبل از هخامنشیان (۴) بعد از اشکانیان

۶۳- خداوند و را در سرشت همه ما انسان‌ها قرار داده است.

- (۱) همیاری و کمک به دیگران (۲) کمک به مظلوم و حس انسان‌دوستی
(۳) همدردی و همیاری (۴) همدلی و انسان‌دوستی

۶۴- کدام گزینه در مورد بیمه درست نیست؟

- (۱) بیمه قراردادی است بین بیمه‌شونده و بیمه‌گذار که متعهد می‌شود به قرارداد خود تا یک سال عمل کند.
(۲) در قبال دریافت حق بیمه از بیمه‌گذار، خسارت ناشی از حوادث را مؤسسه بیمه جبران می‌کند.
(۳) طبق قانون کلیه سازمان‌ها، شرکت‌ها و کارفرمایان وظیفه دارند که همه کارگران خود را بیمه کنند.
(۴) طبق قانون، همه صاحبان وسایل نقلیه موتوری باید خودروی خود را در مقابل حوادث مالی و جانی بیمه نمایند.

۶۵- کدام عامل در حقوق متقابل، به منزله دو کفه ترازو است؟

- (۱) روابط با دیگران - داشتن حق (۲) مسئولیت‌ها - تکالیف
(۳) داشتن حق - مسئولیت (۴) تکالیف - روابط با دیگران

ریاضی

کل کتاب



وقت پیشنهادی

۶۶- چند مورد از مطالب زیر نادرست است؟

- (الف) برای تغییرها در بازارهای مالی و قیمت طلا از نمودار خط شکسته استفاده می‌کنیم.
(ب) برای رسم نمودار دایره‌ای معمولاً به جای داده‌های واقعی از مقدار تقریبی داده‌ها استفاده می‌کنیم.
(ج) در نمودار دایره‌ای معمولاً نسبت و سهم هر بخش را به صورت درصد محاسبه می‌کنیم.
(د) برای مقایسه تعداد و پیدا کردن بیشترین و کمترین داده از نمودار میله‌ای استفاده می‌کنیم.
- (۱) ۱ (۲) ۲ (۳) ۳ (۴) ۴

۶۷- انتهای بردار $\vec{d} = \begin{bmatrix} x \\ y \end{bmatrix}$ نقطه $M = \begin{bmatrix} a \\ b \end{bmatrix}$ است. اگر از ابتدای این بردار قرینه بردار d را رسم کنیم، نقطه انتها کدام گزینه است؟

- (۱) $\begin{bmatrix} a-2x \\ b-2y \end{bmatrix}$ (۲) $\begin{bmatrix} a-x \\ b-y \end{bmatrix}$ (۳) $\begin{bmatrix} a+x \\ b+y \end{bmatrix}$ (۴) $\begin{bmatrix} a+2x \\ b+2y \end{bmatrix}$

۶۸- حاصل عبارت $A = \frac{a^2 - 3ab^2 + 4}{3a^2}$ به‌ازای $a=2$ و $b=-\sqrt{4}$ کدام است؟

- (۱) $\frac{26}{12}$ (۲) $\frac{-16}{12}$ (۳) $\frac{10}{12}$ (۴) $\frac{-18}{12}$

محل انجام محاسبات

۶۹- هتلی دارای ۵ طبقه است که در هر طبقه ۵ اتاق و در هر اتاق ۵ گلدان دارد. اگر هتلدار هر روز برای هر گلدان ۵ شاخه گل نرگس خریداری کند، پس از گذشت یک ماه ۳۰ روزه چند شاخه گل نرگس خریداری کرده است؟

- (۱) 3×5^4 (۲) 5^{12} (۳) 3×5^4 (۴) 5^{34}

۷۰- با ۱۲۵ چینه (مکعب‌های کوچک)، یک مکعب به ضلع ۵ درست کرده‌ایم. این مکعب ابتدا رنگ می‌شود و پس از آن، چینه‌ها از هم جدا می‌شوند. چند چینه حداقل یک وجه رنگ شده دارد؟

- (۱) ۲۷ (۲) ۱۰۰ (۳) ۹۸ (۴) ۹۵

۷۱- کوچک‌ترین شمارندهٔ مشترک دو عدد $2a$ و $7a$ بعد از ۱، عدد b است. اگر a زوج باشد، b کدام است؟

- (۱) a (۲) ۲ (۳) ۷ (۴) $14a$

۷۲- کدام عبارت درست است؟

- (۱) $3^2 < (-4)^3$ (۲) $m \times m \times \dots \times m = 1 \cdot m^m$ (۱۰ بار)

(۳) $3 = 1^{100} + 4^0 + (-1)^2$ (۴) مکعب عدد (-2) ، دو برابر مجذور عدد (-2) است.

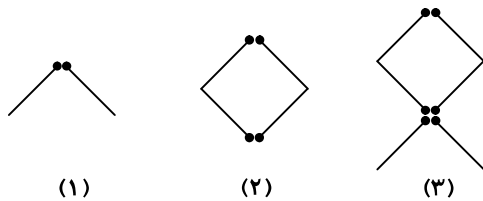
۷۳- در یک مسابقهٔ تیراندازی امتیازهای روی صفحهٔ هدف به ترتیب ۳، ۶، ۹ و ۱۲ است. حال اگر علی در این مسابقه از ۵ تیر بعضی از تیرهایش را به صفحهٔ هدف زده باشد، کدام یک از گزینه‌ها امتیاز علی می‌تواند باشد؟

- (۱) ۲۰ (۲) ۳۰ (۳) ۵۳ (۴) ۱۴

۷۴- حاصل عبارت $(27-30) \times (27-22) \times \dots \times (27-21) \times (27-20)$ برابر کدام گزینه است؟

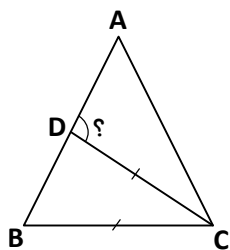
- (۱) -630 (۲) صفر (۳) ۱ (۴) 630

۷۵- با تعدادی چوب کبریت مطابق الگوی زیر شکل‌هایی را ساخته‌ایم. جملهٔ n ام این الگو کدام است؟



- (۱) $2n - 2$
(۲) $2n + 2$
(۳) $2n$
(۴) $2n + 4$

۷۶- در مثلث متساوی‌الساقین ABC ($AB = AC$)، نیمساز زاویهٔ C رسم شده است که اندازهٔ نیمساز CD با قاعدهٔ BC برابر است. \hat{ADC} چند درجه است؟



- (۱) ۷۲
(۲) ۹۰
(۳) ۱۰۸
(۴) ۱۲۰

محل انجام محاسبات

۷۷- منشوری دارای ۱۵ یال و ۱۰ رأس است. قاعده این منشور کدام یک از شکل‌های زیر می‌تواند باشد؟
 (۱) مربع (۲) پنج‌ضلعی (۳) شش‌ضلعی (۴) مثلث

۷۸- چند عدد سه‌رقمی با ارقام ۳، ۵، ۶ و ۸ می‌توان نوشت در صورتی که تکرار ارقام مجاز نباشد؟

(۱) ۱۲ (۲) ۱۸ (۳) ۲۰ (۴) ۲۴

۷۹- اگر نقطه C وسط پاره‌خط AB، نقطه D وسط پاره‌خط AC و نقطه E وسط پاره‌خط AD باشد، کدام گزینه نادرست است؟

(۱) $\overline{ED} = \frac{1}{8} \overline{AB}$ (۲) $\overline{AD} = \frac{2}{3} \overline{BA}$ (۳) $\overline{EC} = \frac{3}{4} \overline{CB}$ (۴) $\overline{DC} = \frac{2}{4} \overline{BC}$

۸۰- کدام عبارت نادرست است؟

الف) نقطه $A = \begin{bmatrix} -5 \\ 1 \end{bmatrix}$ با بردار $\vec{a} = \begin{bmatrix} 8 \\ -5 \end{bmatrix}$ به نقطه $A' = \begin{bmatrix} 3 \\ -4 \end{bmatrix}$ منتقل می‌شود.

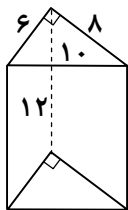
ب) اگر انتهای بردار $\overline{MN} = \begin{bmatrix} 5 \\ 3 \end{bmatrix}$ روی مبدأ مختصات باشد، ابتدای آن در ناحیه اول است.

ج) اگر نقطه $A = \begin{bmatrix} -5 \\ 2 \end{bmatrix}$ به‌طور متوالی با بردارهای $\overline{AB} = \begin{bmatrix} 6 \\ -3 \end{bmatrix}$ و $\overline{BC} = \begin{bmatrix} 2 \\ -1 \end{bmatrix}$ و $\overline{CD} = \begin{bmatrix} 1 \\ 7 \end{bmatrix}$ به نقطه D منتقل شده باشد، عرض نقطه D، ۵ است.

(۱) «الف» (۲) «ب» (۳) «ج» (۴) همه عبارت‌ها درست هستند.

۸۱- مساحت جانبی شکل روبه‌رو کدام است؟

(۱) ۲۴ (۲) ۲۸۸ (۳) ۱۴۴ (۴) ۳۶



۸۲- عبارت توصیفی عبارت $\frac{5-x}{y}$ در کدام گزینه آمده است؟

(۱) ۵ واحد بیشتر از قرینه نصف عددی (۲) ۵ واحد کمتر از نصف عددی
 (۳) نصف ۵ واحد کمتر از عددی (۴) نصف ۵ واحد بیشتر از قرینه عددی

۸۳- حاصل کدام گزینه با بقیه متفاوت است؟

(۱) $2 \times (7+7) \div 7$ (۲) $2 \times 7 \div 7 \times 2$ (۳) $2 \div 7 + 7 \div 2$ (۴) $2 \times (7 \div 7) \times 2$

۸۴- کوچک‌ترین مضرب مشترک دو عدد $A = 2^3 \times 5^2 \times 6^2$ و $B = 7^2 \times 3 \times 2^5$ کدام است؟

(۱) $2^3 \times 3 \times 5^2$ (۲) $2^5 \times 3 \times 5^2 \times 7^2$ (۳) $2^5 \times 3$ (۴) $2^5 \times 10 \cdot 5^2$

۸۵- هنگام تولد نرگس پدرش ۲۹ سال داشت. در سال ۱۳۹۶ مجموع سن آن‌ها ۵۳ است. نرگس در چه سالی متولد شده است؟

(۱) ۱۳۷۲ (۲) ۱۳۷۴ (۳) ۱۳۸۲ (۴) ۱۳۸۴

محل انجام محاسبات



۸۶- چه تعداد از جملات زیر در مورد علم صحیح است؟

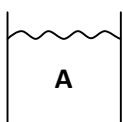
الف) تلاش برای یافتن جواب به ما در یادگیری کمک نمی‌کند.

ب) بهترین راه مطالعهٔ درستی یا نادرستی یک مسئله، مشاهده و نتیجه‌گیری است.

پ) طراحی، آزمایش و بررسی نتایج آن بهترین راه مطالعهٔ درستی یا نادرستی یک پیش‌بینی است.

- ۱ (۱) ۲ (۲) ۳ (۳) ۴ (۴) صفر

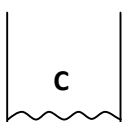
۸۷- با توجه به حجم و جرم داده شده برای مایعات مقابل، کدام ماده کمترین چگالی را دارد؟



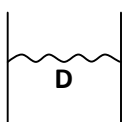
۴Kg
۲lit



۴gr
۲۰cm^۳



۱۰۰gr
۱۰cc



۱۰۰۰gr
۱lit

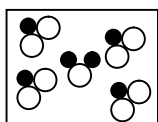
A (۱)

B (۲)

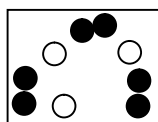
C (۳)

D (۴)

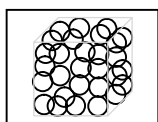
۸۸- در کدام شکل زیر، یک عنصر و یک ترکیب وجود دارد؟



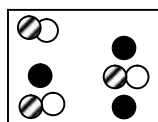
A



B



C



D

D (۴)

C (۳)

B (۲)

A (۱)

۸۹- مادهٔ اولیه ظروف زیر به ترتیب از چیست؟

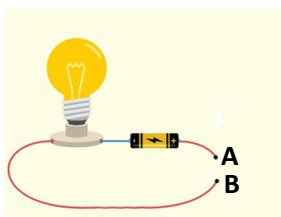
«گلدان شیشه‌ای - کوزهٔ سفالی - بشقاب چینی»

- ۱) رس - ماسه - رس ۲) رس - ماسه - ماسه ۳) ماسه - رس - ماسه ۴) ماسه - رس - رس

۹۰- توصیف زیر مربوط به کدام ماده است؟

«این ماده در آب حل نمی‌شود، به صورت عنصر، مستقیماً از طبیعت استخراج شده و در دمای اتاق جامد است. هرگاه این ماده را در

مدار زیر بین دو نقطهٔ A و B قرار دهیم، لامپ روشن نخواهد شد.»



۱) نمک خوراکی

۲) طلا

۳) گوگرد

۴) شیشه

محل انجام محاسبات

۹۱- شکل زیر یکی از مراحل استخراج فلز آهن را نشان می‌دهد. هدف از انجام این مرحله چیست؟



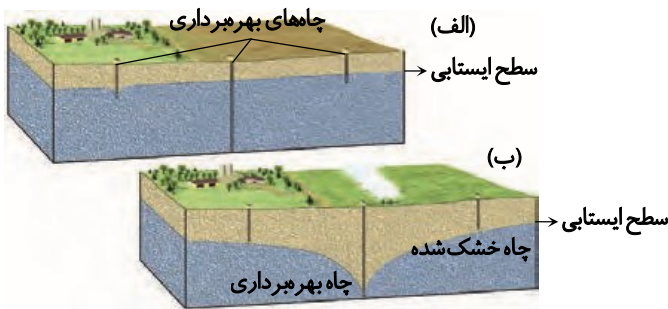
گرما دادن مخلوط سنگ آهن، کربن و سنگ آهک در کوره

(۱) قالب‌ریزی فلز مایع

(۲) ذوب کردن سنگ معدن

(۳) جدا کردن اتم اکسیژن از آهن

(۴) تولید ورقه‌های فلز آهن



۹۲- با توجه به شکل‌های زیر کدام گزینه درست است؟

(۱) در شکل «الف» عمق منطقه اشباع کمتر است.

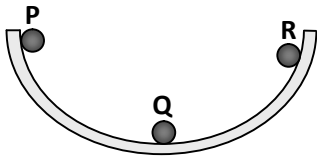
(۲) در شکل «ب» عمق سطح ایستابی بیشتر است.

(۳) در شکل «الف» به دلیل زیاد بودن عمق سطح ایستابی دسترسی به آب راحت‌تر است.

(۴) در شکل «ب» به دلیل زیاد بودن عمق سطح ایستابی دسترسی به آب راحت‌تر است.

۹۳- در شکل زیر یک کاسه شیشه‌ای را می‌بینیم. گلوله فلزی را از نقطه P رها می‌کنیم. گلوله به پایین می‌آید و تا نقطه R بالا می‌رود و سپس به پایین برمی‌گردد و بعد از مدتی می‌ایستد.

با توجه به جدول زیر بگویید، کدام گزینه در مورد انرژی گلوله فلزی از نقطه P به R درست است؟



(۱) الف

(۲) ب

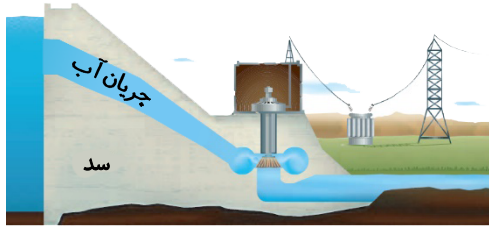
(۳) پ

(۴) ت

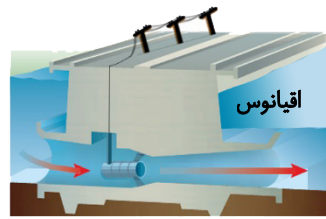
| انرژی پتانسیل گرانشی | | انرژی جنبشی | | |
|----------------------|-----------|-------------|-----------|-------|
| از Q تا R | از P تا Q | از Q تا R | از P تا Q | |
| افزایش | کاهش | افزایش | افزایش | (الف) |
| افزایش | کاهش | کاهش | افزایش | (ب) |
| کاهش | کاهش | افزایش | افزایش | (پ) |
| کاهش | افزایش | کاهش | کاهش | (ت) |

محل انجام محاسبات

۹۴- تصاویر زیر دو سازه تولیدکننده انرژی از طریق جریان آب را نشان می‌دهند. کدام گزینه در مورد این دو تصویر درست نیست؟
 (۱) سازه تولید انرژی الکتریکی از طریق امواج دریا و سازه (۲) تولید انرژی الکتریکی از طریق آب پشت سد را نشان می‌دهد.

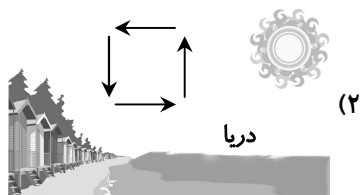


(۲)

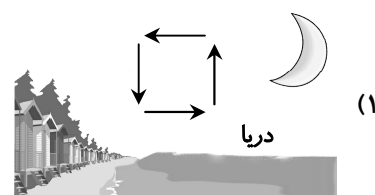


(۱)

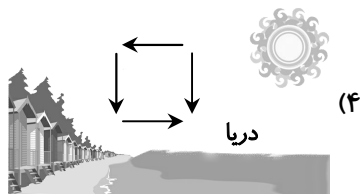
۹۵- کدام شکل حرکت هوا را در ساحل به هنگام شب و یا روز به درستی نشان می‌دهد؟
 (۱) در سازه (۱) انرژی نورانی خورشید منبع اصلی انرژی نیست.
 (۲) در سازه شماره (۱) همانند سازه شماره (۲)، انرژی حرکتی به انرژی الکتریکی تبدیل می‌شود.
 (۳) هر دو سازه از انرژی‌های تجدیدپذیر برای تولید انرژی الکتریکی استفاده می‌کنند.
 (۴) در سازه شماره (۲)، آب موجود در پشت سد، انرژی پتانسیل گرانشی دارد.



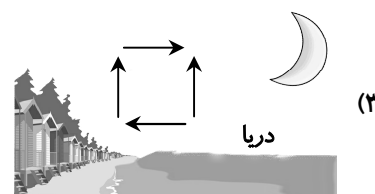
(۲)



(۱)

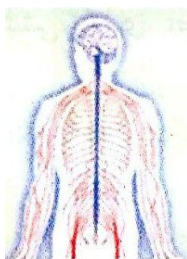


(۴)

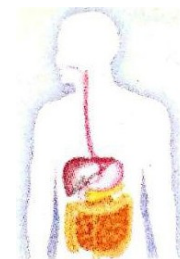


(۳)

۹۶- کدام دستگاه گستردگی بیشتری در بدن انسان دارد؟



(۲) دستگاه عصبی



(۱) دستگاه گوارش



(۴) دستگاه تنفس



(۳) دستگاه اسکلتی

محل انجام محاسبات

۹۷- با توجه به متن زیر، به سؤال پاسخ دهید:

«یکی از انواع لیپیدهایی که در جانوران یافت می‌شود، کلسترول نام دارد که در بدن به ویتامین D تبدیل می‌شود. پزشکان دریافته‌اند که کلسترول به دو شکل در بدن انسان وجود دارد؛ یکی HDL که به کلسترول خوب و دیگری LDL که به کلسترول بد شهرت دارد. پزشکان همچنین دریافته‌اند که بالا بودن میزان LDL و پایین بودن میزان HDL، خطر سکتته‌های قلبی و مغزی را افزایش می‌دهد.»
در چه صورت، فرد، کمتر در معرض سکتته‌های قلبی و مغزی قرار دارد؟

- (۱) بالا بودن نسبت $\frac{HDL}{LDL}$
- (۲) پایین بودن میزان HDL
- (۳) پایین بودن نسبت $\frac{HDL}{LDL}$
- (۴) بالا بودن میزان LDL

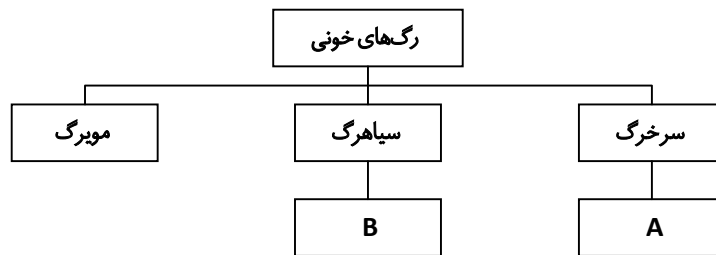
۹۸- شیره گوارشی در معده حاوی است و از سلول‌های معده ترشح می‌شود.

- (۱) آب و اسید - پیوندی
- (۲) آب و اسید - ماهیچه‌ای
- (۳) اسید و آنزیم - پوششی
- (۴) اسید و آنزیم - عصبی

۹۹- کدام گزینه درباره مویرگ‌ها نادرست است؟

- (۱) مویرگ‌ها دیواره ضخیم و قابل ارتجاع دارند.
- (۲) دیواره مویرگ‌ها از یک لایه سلول تشکیل شده است.
- (۳) تبادل مواد با سلول‌ها توسط مویرگ‌ها انجام می‌شود.
- (۴) مویرگ‌ها با اتصال به همدیگر سیاهرگ را به وجود می‌آورند.
- ۱۰۰- کدام یک از جمله‌های زیر درباره خون انسان نادرست است؟
- (۱) خون از یک بخش مایع و یک بخش یاخته‌ای ساخته شده است.
- (۲) حداکثر ۵۵ درصد از حجم خون سالم را پلاسما تشکیل می‌دهد.
- (۳) خون در تنظیم دمای بدن نقش اساسی دارد.
- (۴) گلبول‌های قرمز مسئول دفاع از بدن در برابر بیگانه هستند.

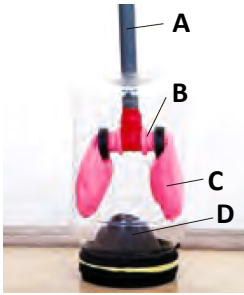
۱۰۱- کدام گزینه نقشه مفهومی زیر را در رابطه با رگ‌های خونی، به درستی کامل می‌کند؟



- (۱) A: خون را به اندام می‌برد. B: خون را از اندام خارج می‌کند.
- (۲) A: خون را به قلب برمی‌گرداند. B: خون را از قلب خارج می‌کند.
- (۳) A: به دهلیزها متصل است. B: به بطن‌ها متصل است.
- (۴) A: خون تیره دارد. B: خون روشن دارد.

محل انجام محاسبات

۱۰۲- در شکل زیر، کدام گزینه نقش دیافراگم را نشان می‌دهد؟



A (۱)

B (۲)

C (۳)

D (۴)

۱۰۳- «اجسام با رنگ روشن، نسبت به اجسام تیره، تابش گرمایی کمتری دارند». کدام گزینه تأییدی بر این موضوع نیست؟

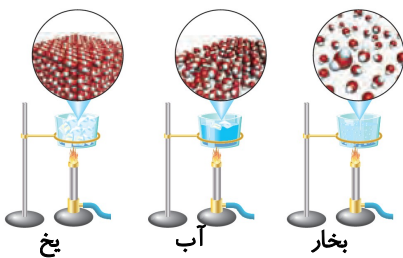
(۱) سفید بودن خرس قطبی

(۲) استفاده از لباس سفید در تابستان

(۳) استفاده از قوری سفید برای نگهداری چای

(۴) استفاده از رنگ تیره در بخاری‌ها

۱۰۴- در شکل زیر سه حالت آب مشاهده می‌شود. اگر تعداد مولکول‌های آب یکسان فرض شود، کدام حالت چگالی کمتری دارد؟



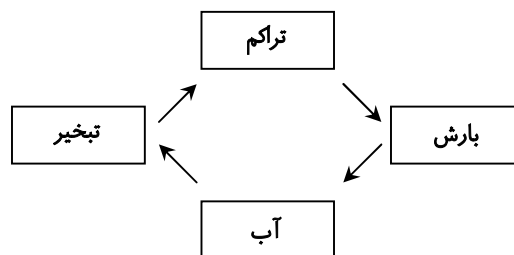
(۱) یخ

(۲) آب

(۳) بخار آب

(۴) نوع مولکول‌ها یکسان است، پس چگالی آن‌ها یکسان است.

۱۰۵- شکل زیر طرحی از چرخه آب را نشان می‌دهد. منبع انرژی چرخه آب چیست؟



(۲) جزر و مد

(۴) باد

(۱) ماه

(۳) خورشید

محل انجام محاسبات



وقت پیشنهادی

۱۰۶- حضرت علی علیه السلام می فرماید: «صبر در کارها مانند در بدن است و اگر نباشد، بدن تباه و نابود می شود.»

(۱) قلب (۲) سر (۳) چشم (۴) دست

۱۰۷- گزینه درست را درباره مرجع تقلید مشخص کنید.

- (۱) اختلاف نظر بین علماء و مراجع دینی وجود ندارد و همه آنها در مسائل شرعی نظر یکسانی دارند.
- (۲) مراجعه به یک مجتهد و فقیه برای احکام شرعی کافی است.
- (۳) برای انتخاب مرجع تقلید می توان از دو عالم دین مشورت گرفت.
- (۴) کلیه دانشمندان و طلاب علوم دینی مرجع تقلید هستند.

۱۰۸- مفهوم کدام یک از عبارات، با آیه زیر مرتبط است؟

﴿عَسَىٰ أَنْ تَكْرَهُوا شَيْئًا وَهُوَ خَيْرٌ لَّكُمْ وَعَسَىٰ أَنْ تُحِبُّوا شَيْئًا وَهُوَ شَرٌّ لَّكُمْ وَاللَّهُ يَعْلَمُ وَأَنْتُمْ لَا تَعْلَمُونَ﴾

- (۱) از رحمت خداوند ناامید و مأیوس نشوید.
- (۲) سستی نکنید و ناراحت نباشید که شما برتر هستید اگر ایمان داشته باشید.
- (۳) خدا می داند چه چیزی برایتان خوب است و چه چیزهایی بد و شما نمی دانید.
- (۴) زمانی که بشارت داده می شد که صاحب دختر شده اند، سیاه و خشمگین می شدند.

۱۰۹- سینا امسال به سن تکلیف می رسد. او درباره شرایط مرجع تقلید تحقیق می کرد. پدرش گفت: یکی از شرایط این است که مرجع باشد، یعنی واجبات الهی را انجام دهد و از کارهای حرام دوری کند. پدر سینا به کدام یک از شرایط مرجع تقلید اشاره کرده است؟

(۱) اعلم (۲) باتجربه (۳) متخصص احکام دین (۴) عادل

۱۱۰- یکی از حرام ترین کارها در زمان جنگ چیست؟

- (۱) به دوستان اطلاع رسانی نکنیم.
- (۲) در مبارزه شرکت نکنیم.
- (۳) اطلاعات نظامی کشور را به دشمن بدهیم.
- (۴) در صحنه جنگ و میدان نبرد با دشمنان روبه رو نشویم.

۱۱۱- گزینه نادرست را مشخص کنید.

- (۱) هنگامی که شیطان از درگاه الهی رانده شد، قسم خورد دیگر با انسان ها کاری نداشته باشد.
- (۲) عظمت جهان هستی، انسان را به یاد عظمت و بزرگی خالق آن می اندازد.
- (۳) حضرت علی علیه السلام می فرماید: «اگر بدگمانی بر دل کسی چیره شود، بین او و دوستش صلح و صفایی باقی نمی ماند.»
- (۴) خداوند در قرآن می فرماید: از بسیاری از گمان ها دوری کنید، همانا بعضی از آنها گناه است.

۱۱۲- آیه ای که یک بخش آن مزده و بخش دیگرش هشدار است، کدام است؟

(۱) ﴿ثُمَّ لَا يَتَّبِعُهُمُ مِنَ بَيْنِ أَيْدِيهِمْ وَمِنْ خَلْفِهِمْ﴾

(۲) ﴿فَاذْكُرُونِي أَذْكُرْكُمْ﴾

(۳) ﴿لَئِنْ شَكَرْتُمْ لَأَزِيدَنَّكُمْ وَلَئِنْ كَفَرْتُمْ إِنَّ عَذَابِي لَشَدِيدٌ﴾

(۴) ﴿يَا أَيُّهَا الَّذِينَ آمَنُوا اجْتَنِبُوا كَثِيرًا مِّنَ الظَّنِّ إِنَّ بَعْضَ الظَّنِّ إِثْمٌ﴾

۱۱۳- کدام گزینه با متن زیر مرتبط است و حکم آن درست گفته شده است؟

«چند روز قبل تولد آیناز بود و او تمام دوستان و فامیل های خودش را به خانه دعوت کرده بود، چون آنجا نامحرمی نبود، عکس ها بدون پوشش گرفته شده بود. دخترخاله آیناز هم دو روز بعد دید که عکس ها در فضای مجازی در گروه فامیل گذاشته شده است. او ناراحت شد و به آیناز گفت»

- (۱) چرا بقیه دوستان سال قبل را دعوت نکرده بودی. این کار تو دور از اخلاق است.
- (۲) من دوست نداشتم کادویی را که برات آوردم را به دیگران نشان دهی.
- (۳) خیلی از فامیل ها من را می شناختند و به آن عکس ها اگر نگاه کنند کار حرامی انجام می شود.
- (۴) خیلی دوست ندارم در میهمانی افراد غریبه شرکت کنم.

۱۱۴- متن زیر را بخوانید، سپس مشخص کنید موضوع آن با معنای کدام یک از سوره‌های زیر مرتبط است؟

«پدر فرهاد در اداره‌ای کار می‌کند که ساعت حضور و کارشان را خودشان ثبت می‌کنند. یک روز فرهاد به پدرش گفت: الان با هم برویم و وسایل و لوازم ورزشی را بخریم. پدرش گفت: الان مشغول کار اداری هستم و در این ساعت امکانش نیست چون بابت آن حقوق دریافت می‌کنم. فرهاد ناراحت شد و گفت: پدر عزیز من کسی که متوجه نمی‌شود، حالا مگر چند ساعت کم کاری چه مشکلی ایجاد می‌کند»

(۱) اخلاص (۲) حمد (۳) فلق (۴) مطففین

۱۱۵- خداوند مهربان به تمام انسان‌ها نعمت‌های فراوانی داده است و باید شکرگزار او باشیم، آیا می‌دانید بزرگترین نعمت معنوی که خدا به انسان‌ها عطا کرده، چیست؟

(۱) سلامتی جسمی (۲) جهان هستی

(۳) پیامبر اکرم ﷺ (۴) اعتقاد به جهان آخرت

۱۱۶- احادیث زیر را بخوانید و مشخص کنید هر جای خالی با کدام یک از کلمات تکمیل می‌شود؟

الف) پیامبر اکرم ﷺ می‌فرماید: «دو نعمت و سلامتی است که مورد ناسپاسی قرار می‌گیرد.»

ب) حضرت علی رضی الله عنه می‌فرماید: «..... هر نعمتی پرهیز از چیزی است که خداوند آن را حرام کرده است.»

(۱) امانتداری - پاداش (۲) عاق والدین - نتیجه

(۳) امنیت - شکر (۴) روزه - ناسپاسی

۱۱۷- کدام یک از انواع اذکار با نمونه آمده، مطابقت ندارد؟

(۱) ذکر زبانی یعنی این که در مقابل نعمت‌های خداوند الحمدلله بگوییم.

(۲) وقتی به خواندن نماز پای‌بند می‌شویم، در واقع ذکر عملی خداوند را به‌جا می‌آوریم.

(۳) زمانی که در جهان آفرینش می‌نگریم و عظمت خداوند را باور می‌کنیم، ذکر قلبی را به‌جا آورده‌ایم.

(۴) کمک کردن به نیازمندان و فقیران نوعی ذکر زبانی است.

۱۱۸- در کدام گزینه تعریف رساله درست بیان شده است؟

(۱) مراجع دینی با تلاش چندین ساله خود در زمینه آیات قرآن و احادیث تحقیق و مطالعه کرده‌اند و احکام را با نام رساله نوشته‌اند.

(۲) نظر مراجع تقلید در مسائل شرعی شبیه هم است. فقط در برخی موارد تفاوت‌هایی وجود دارد.

(۳) هر نوجوان با رسیدن به سن بلوغ، باید به یک مرجع تقلید مراجعه کند و به رساله او مراجعه کند.

(۴) هر فرد بالغی برای به‌دست آوردن احکام شرعی به مرجع تقلید خود اعتماد می‌کند و به کتاب او مراجعه می‌کند.

۱۱۹- حکم کدام یک از موارد زیر درست است؟

(۱) برای دست زدن به کلماتی که بیان‌کننده صفات خداوند هستند مانند «بخشنده - دانا» داشتن وضو واجب است.

(۲) کتک زدن هم مانند دزدی حرام است.

(۳) خون یکی از نجاسات است ولی اگر یک قطره آن روی لباسمان بریزد می‌توان آن را با دستمال پاک کرد.

(۴) برای استفاده از نرم‌افزارهای قرآنی واجب است، وضو داشته باشیم.

۱۲۰- خداوند در قرآن کریم می‌فرماید: ﴿من جن و انسان را نیافریدم جز برای آن که من را بندگی کنند﴾ در کدام یک از موارد زیر به

این موضوع اشاره شده است؟

(۱) ﴿لَا تَأْسُوا مِنْ رَوْحِ اللَّهِ﴾

(۲) ﴿أَلَا بِذِكْرِ اللَّهِ تَطْمَئِنُّ الْقُلُوبُ﴾

(۳) ﴿وَمَا خَلَقْتُ الْجِنَّ وَالْإِنْسَ إِلَّا لِيَعْبُدُونِ﴾

(۴) ﴿وَإِذَا بَشَّرَ أَحَدَهُم بِالْأُنثَىٰ ظَلَّ وَجْهَهُ مُسْوَدًّا وَهُوَ كَظِيمٌ﴾

تَرْيِيبَهُ دُو



مؤسسہ آموزشی فرهنگی