

گزینهدو

مؤسسه آموزشی فرهنگی

پایه هشتم
دوره اول متوسطه

* ارزشیابی پیشرفت تحصیلی

مرحله ۱۲ (۲۴ اردیبهشت ۱۴۰۵)

سال تحصیلی ۱۴۰۴-۱۴۰۵

عنوان	تعداد پرسش	از شماره	تا شماره	وقت پیشنهادی
فارسی	۱۵	۱	۱۵	۱۵ دقیقه
عربی	۱۰	۱۶	۲۵	۱۰ دقیقه
* پیام های آسمان	۱۵	۲۶	۴۰	۱۵ دقیقه
زبان انگلیسی	۱۰	۴۱	۵۰	۱۰ دقیقه
مطالعات اجتماعی	۱۵	۵۱	۶۵	۱۵ دقیقه
ریاضی	۲۰	۶۶	۸۵	۵۰ دقیقه
علوم تجربی	۲۰	۸۶	۱۰۵	۳۵ دقیقه
* از من تا خدا	۱۵	۱۰۶	۱۲۰	۱۵ دقیقه

مدت پاسخ گویی: ۱۵۰ دقیقه

تعداد کل پرسش ها: ۱۰۵

توجه:

* این ارزشیابی، نمره منفی ندارد.

* دانش آموزان با توجه به برنامه درسی مدرسه خود فقط به یک سری از پرسش های درس «پیام های آسمان» یا «از من تا خدا» پاسخ می دهند.



دانش آموز گرامی، شما می توانید با اسکن تصویر روبه روبه وسیله گوشی هوشمند و یا تبلت خود، پاسخ های تشریحی را مشاهده نمایید.



۱- در کدام گزینه هر دو اثر متعلق به یک شخص است؟

- (۱) هفت اورنگ - نفعات الانس
(۲) اسرار التوحید - حدیقة الحقیقه
(۳) فیه مافیه - کارنامه بلخ
(۴) در کوچه آفتاب - سرود سپیده

۲- معنی واژگان «دغل - غزا - طرار - انسجام» به ترتیب در کدام گزینه آمده است؟

- (۱) جنگ - اتفاقاً - خز فروش - تجسم
(۲) حيله - جنگ - دزد - هماهنگی
(۳) فریبکاری - پیکار - دزد - همدردی
(۴) احمق - طعام - راهزن - هماهنگی

۳- در کدام گزینه غلط املائی بیشتری وجود دارد؟

- (۱) نباید بدون تعمل و تفکر به کاری اقدام کنید، ولی همین که تصمیم گرفتید تعلل روا مدارید.
(۲) اکنون ایران را به گذشته پرفروغ آن می پیوندد. تو از آن آزاداندیشانی هستی که نستوح چون کوه می کوشند.
(۳) هان! خویشان را خار مدار و گمان درباره خیش پاک ساز که فرزند ایران و پیشه فرهنگ و ادب هستی.
(۴) امیر کبیر با صدای رثا خطاب به اطرافیان گفت: مسئول جهل مردم، ما هستیم.

۴- در کدام گزینه تعداد واژه های جمع، بیشتر است؟

- (۱) سایبان - طوفان - اسرار - اطراف - خزان
(۲) حواس - شکاف - دلایل - تمایل - حیران
(۳) اندام - حدقه - طاووس - خفاشان - گیاهان
(۴) تابان - تصاویر - ارمغان - حضور - ذرات

۵- در همه گزینه ها، تمام ضمیرهای «ش» به «خداوند» اشاره دارد، به جز

- (۱) بشیر ماورای جلالش نیافت
(۲) پایه های برجش از عاج و بلور
(۳) به درگاه لطف و بزرگیش بر
(۴) گفتمش: پس آن خدای خشمگین
بصر منتهای جمالش نیافت
بر سر تختی نشسته با غرور
بزرگان نهاده بزرگی ز سر
خانه اش اینجاست؟ اینجا، در زمین

۶- با توجه به شعر زیر، همه گزینه ها درست است، به جز

- «وطن من / ای تواناترین مظلوم / در دورهای کویر طبس / آن آفاق / یادت هست؟ / نه من بودم و نه هیچ کس / خدا بود و گردباد»
(۱) «گردباد، کویر، وطن» هسته به شمار می آیند.
(۲) شعر دارای ۹ گروه اسمی می باشد.
(۳) شعر ۳ وابسته پیشین دارد.
(۴) طبس، من در «وطن من» و «ت» در «یادت» وابسته پسین هستند.

۷- آرایه به کار رفته در کدام گزینه نادرست است؟

- (۱) در دولت به رخم بگشادی
(۲) سر به هم آورده دیدم برگ های غنچه را
(۳) حد من نیست ثنابت گفتن
(۴) برق از شوق که می خندد بدین سان قاه قاه
تاج عزت به سرم بنهادی (تشبیه - کنایه)
اجتماع دوستان یکدم آمد به یاد (تشخیص - تناسب)
گوهر شکر عطایست سفتن (تشبیه - کنایه)
ابر از هجر که می گرید بدین سان زار زار (تشبیه - تشخیص)

۸- معنای «را» در کدام گزینه متفاوت است؟

- (۱) راستی را کس نمی داند که در فصل بهار
(۲) نار خندان باغ را خندان کند
(۳) طاووس را به نقش و نگاری که هست، خلق
(۴) سر به هم آورده دیدم، برگ های غنچه را
از کجا گردد پدیدار، این همه نقش و نگار
صحبت مردانست، از مردان کند
تحسین کنند و او خجل از پای زشت خویش
اجتماع دوستان یکدم آمد به یاد

۹- در همه ابیات زیر هر سه آرایه «واج آرایی، جناس، تشخیص» به کار رفته است به جز گزینه

- ۱) سروچمان من چرا میل چمن نمی کند
 ۲) ای هدهد صبا به سبا می فرستمت
 ۳) خیزید و خز آرید که هنگام خزان است
 ۴) ز بر و بحر و دشت و جنگل و کوه

۱۰- در کدام گزینه «صفت پرسشی» به کار نرفته است؟

- ۱) چه روزها که یک به یک غروب شد، نیامدی
 ۲) به کدام مذهب است این، به کدام ملت است این
 ۳) چند روز دگر مانده که از در به دریایی
 ۴) چه کسی بود صدا زد سهراب

۱۱- در همه گزینه‌های زیر «وابسته پیشین» به کار رفته است به جز
 ۱) گفت اینجا می شود یک لحظه ماند ...
 ۲) مُرده زان خوب تر به باور من
 ۳) دو صد گفته چون نیم کردار نیست.
 ۴) تازه فهمیدم خدایم این خداست.

۱۲- مفهوم بیت زیر در کدام گزینه آمده است؟

- نام نیکو گر بماند ز آدمی
 به کز و ماند سـرای زرنگار
 ۱) اگر از انسان خانه زرانددو پرزرق و برق باقی بماند، بهتر است.
 ۲) اگر نام و یاد خوبی از انسان باقی نماند، ثروتش به درد نمی خورد.
 ۳) اسم و رسم خوب در گرو ثروت و دارایی انسان است.
 ۴) اگر از انسان نام و یاد خوب باقی بماند، بهتر است تا خانه طلاکاری شده.

۱۳- مفهوم بخش مشخص شده، در کدام گزینه نادرست بیان شده است؟

- ۱) میهنی که از گستاخی دشمن خون دل خورده است. (رنج و عذاب کشیدن)
 ۲) تیغ را دیدم نهان کردن سزا (رها کردن جنگ)
 ۳) بیش از آن که من خوف تبر را نگرانم، تو ایستاده‌ای. (مقاومت کردن)
 ۴) ایران سرافراز هرگز رنگ نباخت و بر خود نلرزید. (تسلیم نشدن)

۱۴- معنی و مفهوم بیت زیر در کدام گزینه آمده است؟

- ستاره‌ای بدرخشید و ماه مجلس شد
 دل رمیده ما را انیس و مونس شد
 ۱) شب شد و ماه مثل ستاره‌ای آشکار شد و موجب آرامش دل‌های ناآرام ما شد.
 ۲) به هنگام شب دوست ما در گوشه‌ای از مجلس نشست و با بودنش به ما آرامش داد.
 ۳) به هنگام شب ستاره‌ای طلوع کرد و ما را از ترس و وحشت نجات داد.
 ۴) یار همچون ستاره‌ای درخشان وارد مجلس شد و مورد توجه همگان قرار گرفت و موجب آرامش دل بی‌قرار و ناآرام ما شد.

۱۵- مفهوم کدام بیت با دیگر گزینه‌ها تفاوت دارد؟

- ۱) ای نام نکوی تو سر دفتر دیوان‌ها
 ۲) مفرح نامه جان‌هاست نامش
 ۳) ای نام تو بهترین سرآغاز
 ۴) ملکا ذکر تو گویم که تو پاکی و خدایی
 وی طلعت روی تو، زینت‌ده عنوان‌ها
 سر فهرست دیوان‌هاست نامش
 بی‌نام تو نامه کی کنم باز؟
 نروم جز به همان ره که توام راه نمایی



وقت پیشنهادی

عربی
کل کتاب

۱۶- ترجمه کدام عبارت با توجه به جمله درست است؟

- ۱) تَطْبِخُ النِّسَاءِ طَعَامَ السَّفَرِ. (می‌پزد)
 ۲) الْأَمَانَةُ تَجْلِبُ الرِّزْقَ. (می‌آوری)
 ۳) أَلَا، تَجْمَعُونَ الْفَوَاكِهِ لِلبَّيْعِ. (آیا جمع نمی‌کنید)
 ۴) إِلَهِي، مَاذَا نَفَعَلُ؟ (چه کار کنیم)



۱۷- ترجمه کدام گزینه درست است؟

- (۱) ﴿أَلَا إِنَّ أَوْلِيَاءَ اللَّهِ لَا خَوْفَ عَلَيْهِمْ وَ لَا هُمْ يَحْزَنُونَ﴾: آگاه باشید قطعاً دوستان خدا نه ترسی بر آنهاست و نه آنها غمگین می‌شوند.
 (۲) ﴿الَّذِينَ يَجْعَلُونَ مَعَ اللَّهِ إِلَهًا آخَرَ فَسَوْفَ يَعْلَمُونَ﴾: کسانی که همراه خداوند، خدای دیگری قرار می‌دهند، در پایان خواهند فهمید.
 (۳) ﴿إِنَّ اللَّهَ يَغْفِرُ الذُّنُوبَ جَمِيعًا﴾: قطعاً خداوند گناهان همه مردم را می‌آمرزد.
 (۴) ﴿قَالُوا مَنْ فَعَلَ هَذَا بِآلِهَتِنَا﴾: گفتند: کسی که این کار را انجام داده، با خدایان ماست.

۱۸- در کدام گزینه، همه کلمات با هم ارتباط دارند؟

- (۱) مَنْ، مِنْ، أَيُّ (۲) هَذَا، هُوَ، هُنَّ (۳) وَرَاءَ، هُنَاكَ، عِنْدَ (۴) رَبِّ، مِنْ، أَيْنَ

۱۹- کدام ترجمه درست است؟

- (۱) کَمَا تَعْرِفُونَ أَنَا أَطْلُبُ صَلَاحَكُمْ دَائِمًا، فَعَلَيْنَا بِالْمُهَاجِرَةِ: همان‌طور که من را می‌شناسید، همیشه صلاح شما را خواستارم، پس باید مهاجرت کنیم.
 (۲) صَعِدَ الْفَرْخُ الْجَبَلِ وَ وَصَلَ فَوْقَهُ فَشَاهَدَ غَابَةَ وَسِيعَةً: گنجشک از کوه بالا رفت و زمانی که به بالای رسید، جنگل بزرگی را دید.
 (۳) وَ قَالَتْ لِأُمَّهَاتِ الْغَزَلَانِ «أَتَعْرِفْنَ أَنَّ خَلْفَ الْجِبَالِ عَالَمًا آخَرَ؟»: و به مادر آهوها گفت: آیا فهمیدی که پشت کوه، جهانی دیگر است؟
 (۴) صَعِدَ الْجَمِيعُ الْجَبَلِ وَ وَجَدُوا عَالَمًا جَدِيدًا وَ قَرَحُوا كَثِيرًا: همگی از کوه بالا رفتند و جهان جدیدی را یافتند و بسیار خوشحال شدند.
 ۲۰- کدام گزینه مفهوم عبارت مقابل را بیان می‌کند؟ «عِنْدَمَا يَعْتَمِدُ الْإِنْسَانُ عَلَى غَيْرِهِ، لَا يَفْعَلُ شَيْئًا مُهِمًّا»
 (۱) أَلَوْحَدَهُ خَيْرٌ مِنَ الْإِعْتِمَادِ عَلَى الْآخَرِينَ.
 (۲) عِنْدَمَا تَطْلُبُ شَيْئًا مُهِمًّا عَلَيْكَ بِالْإِعْتِمَادِ عَلَى نَفْسِكَ.
 (۳) عِنْدَمَا تَعْتَمِدُ عَلَى غَيْرِكَ، تَقْدِرُ عَلَى كُلِّ شَيْءٍ.
 (۴) عِنْدَمَا أُعْتِمِدُ عَلَى غَيْرِي، أَنْجِحُ.

۲۱- کدام گزینه، سؤال مناسبی برای پاسخ داده شده، نیست؟

«.....؟ - لا، أَنَا أَذْكَرُ كُلَّ الْكَلِمَاتِ.»

- (۱) هَلْ نَسِيتَ كُلَّ الْكَلِمَاتِ؟ (۲) هَلْ نَسِيتَ كُلَّ الْكَلِمَاتِ؟ (۳) هَلْ نَسِيتَ كُلَّ الْكَلِمَاتِ؟ (۴) هَلْ يَذْكَرُ صَدِيقُكَ كُلَّ الْكَلِمَاتِ؟

۲۲- کدام گزینه از نظر قواعد، نادرست است؟

- (۱) يَا أَيُّهَا الْفَلَّاحُ، هَلْ تَزْرَعِينَ الْمَحْصُولَ فِي الرَّبِيعِ؟
 (۲) أَنَا أَخْذِمُ أُمِّي وَ أَبِي دَائِمًا.
 (۳) أَنْتِ تَبْحَثُ عَنْ مَفَاتِيحِ الْمَصْنَعِ.
 (۴) يَا وَالِدِي، هَلْ تَعْلَمُ أَهْمِيَّةَ اللَّغَةِ الْعَرَبِيَّةِ؟

۲۳- کدام جمله پاسخ مناسبی برای پرسش مقابل است؟ «أَيْنَ تَجْعَلُ قَمِيصَكَ؟.....»

- (۱) جَعَلْتُهُ عَلَى الْمِنْصَدَةِ. (۲) أَجْعَلُهُ خَلْفَ الْكُرْسِيِّ. (۳) جَعَلْتُهَا جَنْبَ النَّافِذَةِ. (۴) أَجْعَلُهَا فِي حَقِيئَتِي.

۲۴- در کدام گزینه «ما» برای منفی کردن به کار نرفته است؟

- (۱) لِمَاذَا مَا رَجَعْتُ إِلَى بَيْتِهَا؟
 (۲) أ هُوَ مَا بَقِيَ فِي الْمَصْنَعِ؟
 (۳) مَتَى مَا ذَهَبْتُ إِلَى الْمَدْرَسَةِ؟
 (۴) يَا أَخِي، مَا رَأَيْتَ فِي هَذِهِ الْمَسْأَلَةِ؟

■ درک مطلب:

«فِي السَّنَوَاتِ الْمَاضِيَةِ بَدَأَ الْعِرَاقِيُّ بِالْهُجُومِ عَلَيْنَا وَ عَبَّرَتِ الْجُنُودُ الْعِرَاقِيَّةُ حُدُودَنَا وَ دَخَلَتْ فِي بِلَادِنَا، لَكِنَّ آبَاءَنَا وَ قَفُوا أَمَامَهَا وَ مَا يَتَسَوَّوْا وَ حَفِظُوا بِلَادَنَا الْوَاسِعَةَ وَ مَدُنَهَا وَ جِبَالَهَا وَ غَابَاتِهَا وَ جَلَبُوا لَنَا الْأَمْنَ وَ الرَّاحَةَ وَ الْفَرَجَ.»

۲۵- پاسخ کدام پرسش در متن نیست؟

- (۱) لِمَاذَا عَبَّرَتِ الْجُنُودُ الْعِرَاقِيَّةُ حُدُودَنَا؟
 (۲) أَنَجَحَ رِجَالُ بِلَادِنَا فِي حِفْظِ الْوَطَنِ؟
 (۳) مَنْ بَدَأَ بِالْهُجُومِ؟
 (۴) لِمَنْ جَلَبَ آبَاءُنَا الْأَمْنَ وَ الرَّاحَةَ؟

پیام‌های آسمان

کل کتاب



وقت پیشنهادی

۲۶- در ارتباط با فواید روزه، کدام گزینه به‌طور درست تنظیم شده است؟

- (الف) ﴿صُومُوا تَصِحُّوا﴾ (ب) حفظ سلامتی (ج) دوری از گناه
 (د) شنیدن کی بود مانند دیدن (ه) تقویت صبر و تقوا (و) توجه به محرومان
 (۱) الف = ب / ج = د / ه = و
 (۲) الف = د / ب = ه / ج = و
 (۳) الف = ب / ج = ه / د = و
 (۴) الف = ج / ب = د / ه = و



۲۷- حفظ پوشش مناسب در جامعه مختص چه کسانی است؟

- (۱) زنان - زیرا نوع آفرینش متفاوتی دارند.
 (۲) همه افراد جامعه - مقدار آن در زنان و مردان متفاوت است.
 (۳) زنان - زیرا بیشتر در معرض نگاه هستند.
 (۴) جوانان - زیرا آن‌ها گوهر پاک‌تری دارند.

۲۸- همه گزینه‌ها، مرتبط با آیه شریفه زیر هستند، به جز

﴿وَكُلُوا وَاشْرَبُوا وَلَا تُسْرِفُوا إِنَّهُ لَا يُحِبُّ الْمُسْرِفِينَ﴾

- (۱) امیر بیش از نیاز بدنش غذا می‌خورد.
 (۲) متین همیشه باقی‌مانده غذای خود را دور می‌ریزد.
 (۳) پارسا اجازه نمی‌دهد کسی از لوازم‌التحریر و سایر وسایل شخصی او استفاده کند.
 (۴) علیرضا از وسایل خود به خوبی نگهداری نمی‌کند و باعث از بین رفتن آن‌ها می‌شود.

۲۹- اولین سرمایه انسان برای خوشبختی در دنیا و آخرت چیست؟

- (۱) قدرت تفکر و اندیشه (۲) سلامتی و تندرستی (۳) عمر و زندگی (۴) ولایت اهل بیت علیهم‌السلام

۳۰- عبارت قرآنی زیر با کدام حدیث بیشتر در ارتباط است؟

﴿وَيْلٌ لِّلْمُطَفِّفِينَ الَّذِينَ إِذَا أَكْتَالُوا عَلَى النَّاسِ يَسْتَوْفُونَ وَإِذَا كَالُوهُمْ أَوْ وُزَنُوا لَهُمْ يُخْسِرُونَ﴾

- (۱) کسی که در پیمان‌ها و وزن خیانت کند فردا او را به قعر دوزخ در می‌آورند.
 (۲) مالی که از راه حرام به دست می‌آید زیاد نخواهد شد و اگر هم زیاد شود برکتی نخواهد داشت.
 (۳) کسی که اموالش را از راه نادرست به دست آورد در جای نادرست هم آن را از دست می‌دهد.
 (۴) آنچه گناهان را پاک می‌کند کارهای نیک است اما کار حرام نمی‌تواند حرام دیگر را پاک کند.
 ۳۱- آیه زیر به کدام یک از فرزندان نامۀ حضرت امیرالمؤمنین علیه‌السلام به امام حسن علیه‌السلام اشاره بیشتری دارد؟

﴿وَقَالَ رَبُّكُمْ ادْعُونِي أَسْتَجِبْ لَكُمْ﴾

- (۱) تو را فرمان داده است از او بخواهی تا ببخشد و رحمت طلب کنی تا عطا کند.
 (۲) چون با او راز دل گویی، راز تو را می‌داند، پس نیاز خود را با او بگو.
 (۳) از گنجینه‌های رحمتش چیزهایی بخواه که جز او کسی نمی‌تواند عطا کند.
 (۴) هرگاه خواستی می‌توانی با دعا درهای نعمتش را بگشایی و رحمتش را بر خود نازل کنی.

۳۲- طبق آیه زیر، خداوند در قرآن مؤمنان را یکدیگر معرفی کرده است.

﴿إِنَّمَا الْمُؤْمِنُونَ إِخْوَةٌ﴾

- (۱) دوست (۲) برادر (۳) برابر (۴) خویشاوند

۳۳- تشکیل فرقه‌هایی با شعار و ظواهر اسلامی اما همسو و هم‌جهت با اهداف دشمنان، مربوط به کدام یک از اقدامات دشمنان اسلام است؟

(الف) ایجاد جنگ‌های فرسایشی

(ب) ارائه چهره زشت از اسلام

(ج) جلوگیری از گرایش مردم به اسلام

- (۱) «الف» و «ب» (۲) «الف» و «ج» (۳) «ب» و «ج» (۴) «الف»، «ب» و «ج»

۳۴- کدام یک از گزینه‌های زیر به ترتیب ضایع کردن حق‌النفس، حق‌الناس و حق‌الله است؟

- (۱) نماز نخواندن - تهمت زدن - روزه نگرفتن
 (۲) تهمت زدن - غیبت کردن - حج نرفتن
 (۳) پرخوری کردن - تهمت زدن - روزه نگرفتن
 (۴) مسواک نزدن - پرخوری کردن - نماز نخواندن

۳۵- کدام گزینه نمونه‌ای برای حدیث زیر نیست؟

پیامبر اکرم صلی‌الله‌علیه‌وآله‌وسلم: «از رحمت خدا دور است کسی که توقف‌گاه‌ها و استراحت‌گاه‌های عمومی را آلوده کند و [همچنین] کسی که راه عبور مردم را سد کند.»

(۱) کامران بعد از استفاده از دستشویی مدرسه آن‌جا را نمی‌شوید.

(۲) ماهان ماشین خود را جلوی پارکینگ دیگران پارک می‌کند.

(۳) شایان نوبت را در صف رعایت نمی‌کند و از دیگران جلو می‌زند.

(۴) مهران در قطار سیگار می‌کشد.

۳۶- با توجه به سخن حضرت علی علیه السلام هدف از آفرینش جهان شگفت‌انگیز چیست؟

(۱) ناظم جهان، خداوند دانا و مهربان است.

(۲) از خلقت این انسان باید تعجب کرد که با تکه‌ای چربی نگاه می‌کند، با پاره‌ای گوشت سخن می‌گوید و با چند استخوان ریز می‌شنود.

(۳) خداوند تمام آنچه را که در زمین است برای انسان‌ها آفریده است تا درباره آن‌ها بیندیشند و با استفاده از آن‌ها به بهشت راه یابند و خودشان را از عذاب دوزخ نجات دهند.

(۴) خداوند مهربان که از هر کس بهتر نیازهای ما را می‌داند این جهان را آفریده تا با دقت به نشانه‌های علم و قدرتش نگاه کنیم و درس خلقت‌شناسی بگیریم.

۳۷- محسن به خاطر اشتباهی که دوستش انجام داده بود، از او دلخور و ناراحت بود، ولی از اشتباه او چشم‌پوشی کرد و او را بخشید. رفتار نیکوی محسن با کدام آیه قرآنی تناسب دارد؟

- (۱) «وَلْيَعْفُوا وَلْيَصْفَحُوا»
(۲) «وَإِلَى السَّمَاءِ كَيْفَ رُفِعَتْ»
(۳) «إِنَّ اللَّهَ يَغْفِرُ الذَّنُوبَ جَمِيعًا»
(۴) «فَذَكِّرْ إِنَّمَا أَنْتَ مُذَكِّرٌ»

۳۸- کدام گزینه، پیام حدیث ثقلین است؟

(۱) هر کس که پیامبر صلی الله علیه و آله، ولی و صاحب اختیار اوست، علی علیه السلام سرپرست و ولی اوست.

(۲) تنها راه رسیدن به سعادت، پناه بردن به اهل بیت پیامبر علیهم السلام است و راه‌های دیگر نتیجه‌اش گمراهی است.

(۳) پیامبر صلی الله علیه و آله هر روز دری از علم به روی حضرت علی علیه السلام می‌گشود و اخلاق و آداب نیک را برای ایشان آشکار می‌ساخت.

(۴) تنها راه رسیدن به سعادت، پناه بردن به قرآن و اهل بیت پیامبر علیهم السلام است و رها کردن هر یک از آن‌ها، نتیجه‌ای جز گمراهی نخواهد داشت.

۳۹- مشرکان و منافقان چه امیدی داشتند که غدیرخم باعث شد تمام آرزوهای آنان از بین برود؟

(۱) امید داشتند که پیامبر صلی الله علیه و آله پسری نداشته باشد.

(۲) امید داشتند بعد از پیامبر صلی الله علیه و آله بتوانند به اسلام حمله کنند.

(۳) امید جانشینی خودشان بعد از پیامبر صلی الله علیه و آله را داشتند.

(۴) امید فراموشی دین اسلام بعد از پیامبر صلی الله علیه و آله را داشتند.

۴۰- در کدام یک از موارد زیر نماز باطل است؟

(الف) نماز خواندن با زیورات طلا برای زنان

(ب) سجده کردن بر اشیای نجس خشک

(ج) نماز خواندن در حالی که همراه شخص، کیف پولی از چرم حیوان حرام گوشت است.

(۱) فقط «الف» (۲) فقط «ب» (۳) «ب» و «ج» (۴) «الف» و «ج»

زبان انگلیسی

کل کتاب



وقت پیشنهادی

41- According to the picture, choose the correct item.

- با توجه به تصویر، گزینه درست را انتخاب کنید.

“Alen is good at”

- 1) swimming
- 2) cooking
- 3) playing
- 4) drawing



42- Choose the correct item.

- گزینه درست را انتخاب کنید.

A: What do you do in the afternoons, Reza?

B: I stay at home and

- 1) climb a mountain
- 2) go to school
- 3) study my lessons
- 4) go to the gym



43- Which item shows the correct order for the given conversation?

- کدام گزینه ترتیب درست برای مکالمه زیر را نشان می‌دهد؟

- a) Well, I like watching movies. b) Where do you usually watch movies?
 c) Do you have any free time activities? d) Interesting!
 e) Actually, I go to the movies.
- 1) c- e- b- a- d 2) b- e- d- c- a 3) b- a- d- e- c 4) c- a- b- e- d

44- Which item completes the conversation correctly?

- کدام گزینه مکالمه زیر را به درستی کامل می‌کند؟

- A: Can you search something for me on the Net?
 B: Yes, I'm good at working with a computer and usually the internet in my free time.
- 1) play 2) browse 3) type 4) take

45- Choose the correct item according to the given picture.

- با توجه به تصویر داده شده، گزینه درست را انتخاب کنید.

- A: Are you OK, Ali?
 B: No, I'm not. I have
- 1) measles
 2) sore eyes
 3) mumps
 4) a temperature



46- Choose the correct item.

- گزینه درست را انتخاب کنید.

- "I'm from , but I live in"
- 1) British - German 2) Chinese - Spain 3) Turkey - Greece 4) France - Italian

47- Which item completes the conversation correctly?

- کدام گزینه مکالمه زیر را به درستی کامل می‌کند؟

- A: are you doing in the library?
 B: I am studying my lessons.
- 1) Where 2) What 3) When 4) How

48- Which item is correct according to the given conversation?

- با توجه به مکالمه داده شده، کدام گزینه درست است؟

- Hossein: I don't feel well today. I have a sore throat.
 Soheil: Why don't you get some rest?
- 1) Hossein is talking about his abilities. 2) Soheil is giving health advice.
 3) Soheil is talking about health problems. 4) Hossein is talking about his activities.

■ Read the text below and answer the questions.

- متن زیر را بخوانید و به پرسش‌های مربوط به آن پاسخ دهید.

"I live in Barg-e-Jahan. It is a big village in the north-east of Tehran province*. It is famous for its clean air* and beautiful gardens. The weather is snowy in winter and average* in summer. There is a river near this mountain village. Imam Zadeh Ismail's shrine is in our village."

* province = استان * air = هوا * average = معتدل

49- Which item is NOT true according to the given text?

- با توجه به متن داده شده، کدام گزینه نادرست است؟

- 1) There are mountains around the village. 2) It is hot in summer in the village.
 3) You can go fishing in the village. 4) Tehran is in the south-west of the village.

50- Choose the BEST item according to the given text.

- با توجه به متن داده شده، بهترین گزینه را انتخاب کنید.

"Barg-e-Jahan is famous for its"

- 1) shrine 2) weather 3) seasons 4) mountains



وقت پیشنهادی

مطالعات اجتماعی

کل کتاب

۵۱- مردم سبزواری بر اثر تعلیمات چه افرادی، آماده مقابله با ظلم و ستم مغولان شدند؟

- (۱) شیخ خلیفه - خواجه نظام الملک توسی
(۲) شیخ حسن جوری - عمیدالملک کندری
(۳) رشیدالدین فضل الله - شیخ حسن جوری
(۴) شیخ خلیفه - شیخ حسن جوری

۵۲- رود دانوب در کدام قسمت قاره اروپا قرار دارد؟

- (۱) شمال غربی (۲) جنوب شرقی (۳) جنوب غربی (۴) شمال شرقی

۵۳- مراحل انتخاب وزیران، در کدام گزینه به ترتیب درست تر بیان شده است؟

(۱) انتخاب توسط رئیس جمهور - رأی اعتماد به وزیران توسط نمایندگان مجلس شورای اسلامی - اظهارنظر نمایندگان مجلس شورای اسلامی

(۲) اظهارنظر نمایندگان مجلس - انتخاب توسط رئیس جمهور - رأی اعتماد به وزیران توسط نمایندگان مجلس شورای اسلامی

(۳) انتخاب توسط نمایندگان مجلس شورای اسلامی - رأی گیری توسط نمایندگان مجلس شورای اسلامی - تأیید توسط رئیس جمهور

(۴) انتخاب توسط رئیس جمهور - اظهارنظر نمایندگان مجلس شورای اسلامی - رأی اعتماد به وزیران توسط نمایندگان مجلس شورای اسلامی

۵۴- اعضای خانواده چه زمانی در محیط خانه احساس مفید بودن می کنند؟

- (۱) کسب موفقیت های علمی
(۲) تقسیم وظایف و مسئولیت ها
(۳) شرکت در دید و بازدید اقوام
(۴) حضور در مسافرت های خانواده

۵۵- در قاره اروپا، مرکز و شرق (لهستان)، جنوب (اسپانیا و ایتالیا) و مناطق مجاور اقیانوس اطلس (انگلستان، ایرلند)، به ترتیب دارای چه نوع آب و هوایی هستند؟

- (۱) آب و هوای مدیترانه ای - آب و هوای بَرّی - آب و هوای سرد
(۲) آب و هوای گرم و خشک - آب و هوای معتدل - آب و هوای سرد
(۳) آب و هوای بَرّی - آب و هوای مدیترانه ای - آب و هوای اقیانوسی
(۴) آب و هوای قاره ای - آب و هوای معتدل - آب و هوای اقیانوسی

۵۶- کدام مورد از اقدامات غازان خان است؟

- (۱) اصلاح امور مالی و قضایی
(۲) شکوفا کردن هنر نگارگری
(۳) ساخت رصدخانه
(۴) ساخت مسجد گوهرشاد

۵۷- در کدام گزینه به ترتیب از راست به چپ میزان و مقدار وسعت، زادوولد و تراکم جمعیت در قاره اروپا به درستی بیان شده است؟

- (۱) زیاد - متوسط - زیاد (۲) متوسط - متوسط - کم
(۳) کم - کم - زیاد (۴) کم - متوسط - متوسط

۵۸- کدام گزینه پیامد اجتماعی حکومت مغولان بر ایران را بهتر نشان می دهد؟

- (۱) رواج ترس و وحشت از مغولان
(۲) میل به گوشه گیری و انزوا
(۳) ویرانی کتابخانه ها و سوزاندن کتاب ها
(۴) از دست رفتن یکپارچگی و اتحاد سیاسی

۵۹- کدام استدلال بیانگر تفاوت بنیادین در رویکرد حکومت داری شاهرخ نسبت به تیمور است؟

- (۱) تسلط سیاسی و نظامی بر ایران
(۲) جنگ و ستیز گسترده در قلمرو خود
(۳) به کارگیری وزرای اندیشمند ایرانی
(۴) پرهیز از به کارگیری روش های نظامی

۶۰- کدام یک از صحراها و بیابان‌های زیر در جنوب خط استوا واقع شده است؟

- (۱) بیابان کلاهای در آفریقا و آتاکاما در آمریکا
 (۲) بیابان گبی و ربع‌الخالی در آسیا
 (۳) صحرای بزرگ در آفریقا و بیابان نوادا در آمریکا
 (۴) صحرای سینا در آسیا و بیابان ویکتوریا در استرالیا

۶۱- رابطه محل زندگی مغولان نسبت به سیبری، همانند رابطه محل زندگی است.

- (۱) سلجوقیان به آسیای صغیر
 (۲) غزنویان به ایران
 (۳) خوارزمشاهیان به دریای خوارزم
 (۴) تیموریان به دریای خزر

۶۲- کدام یک از گزینه‌های زیر از ویژگی‌های مشترک بین مردم انگلستان و استرالیا نیست؟

- (۱) دین (۲) نژاد (۳) زبان (۴) تاریخ

۶۳- تحت استعمار بودن و داشتن حکومت‌های وابسته به بیگانه و استبدادی، ویژگی مشترک کدام مناطق است؟

- (۱) آمریکای لاتین و آفریقا
 (۲) جنوب‌غربی آسیا و آفریقا
 (۳) جنوب‌شرقی آسیا و آمریکای مرکزی
 (۴) آمریکای لاتین و آسیا

۶۴- در شرق استرالیا، جزایر بسیاری قرار دارند. کشوری که در یکی از مهم‌ترین و بزرگ‌ترین جزایر اقیانوسیه قرار گرفته است، چگونه

ناهمواری‌هایی دارد؟

- (۱) کوهستانی (۲) جلگه‌ای (۳) بیابانی (۴) آتشفشانی

۶۵- اعلام رسمی تأسیس حکومت اسلامی به رهبری پیامبر در شهر مدینه بعد از کدام اتفاق، به وقوع پیوست؟

- (۱) تأسیس مسجد قبا
 (۲) بعد از پیروزی مسلمانان در غزوه بدر
 (۳) پیمان برادری با مسلمانان مدینه
 (۴) پیمان‌نامه سیاسی با یهودیان مدینه

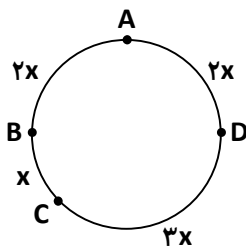
ریاضی

کل کتاب



وقت پیشنهادی

۶۶- در دایره روبه‌رو، کمان \widehat{BCD} چند درجه است؟



(۱) ۴۵

(۲) ۹۰

(۳) ۱۳۵

(۴) ۱۸۰

۶۷- دو تاس را می‌اندازیم. احتمال اینکه مجموع اعداد دو تاس از ۵ کوچک‌تر باشد، چقدر است؟

(۴) $\frac{13}{18}$

(۳) $\frac{5}{18}$

(۲) $\frac{5}{6}$

(۱) $\frac{1}{6}$

۶۸- حاصل $A = 27 \times 81^5 \times (-9)^2 \times 3^{20}$ کدام است؟

(۴) -3^{46}

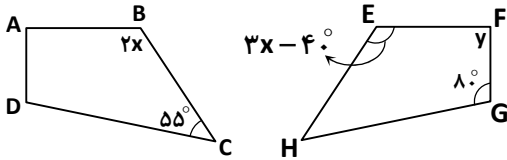
(۳) 3^{46}

(۲) 3^{47}

(۱) -3^{47}

محل انجام محاسبات

۶۹- چهارضلعی EFGH حاصل تقارن چهارضلعی ABCD نسبت به خطی عمود است. زاویه F چند درجه است؟



۸۰ (۱)

۱۳۵ (۲)

۱۴۵ (۳)

۲۱۵ (۴)

۷۰- اگر بردارهای $\vec{a} = 5\vec{i} - (m+3)\vec{j}$ و $\vec{b} = (7-n)\vec{i} - 4\vec{j}$ هم اندازه، هم راستا و در خلاف جهت هم باشند، $m+n$ کدام است؟

۱۱ (۴)

۵ (۳)

۳ (۲)

-۱۳ (۱)

۷۱- اگر $3x-1=5$ و $y = \frac{1}{2}x^2 - 1$ باشد. x^y کدام است؟

۸ (۴)

۴ (۳)

۲ (۲)

۱ (۱)

۷۲- در یک سری داده‌های جمع‌آوری شده، کمترین داده ۱۵۲ و بیشترین داده ۱۷۲ است. اگر بخواهیم داده‌ها را به ۵ دسته با فاصله‌های مساوی تقسیم کنیم، طول دسته‌ها چقدر است؟

۴ (۴)

۸ (۳)

۱۰ (۲)

۲۰ (۱)

۷۳- در تعیین اعداد اول از ۱ تا ۱۴۰ به روش غربال، عدد ۲۷، چندمین عددی است که خط می‌خورد؟

۴ هفتاد و ششمین (۴)

۳ هفتاد و پنجمین (۳)

۲ هفتاد و چهارمین (۲)

۱ هفتاد و سومین (۱)

۷۴- چند مورد از عبارت‌های زیر همواره درست است؟ (a و b اعداد طبیعی هستند).

(ب) $\sqrt{a^4} = a^2$

(الف) $\sqrt{\frac{a}{b}} = \frac{\sqrt{a}}{\sqrt{b}}$

(د) $\sqrt{a-b} = \sqrt{a} - \sqrt{b}$

(ج) $(\sqrt{a})^2 = \sqrt{a^2}$

۴ (۴)

۳ (۳)

۲ (۲)

۱ (۱)

۷۵- حاصل عبارت $1\frac{1}{2} + 2\frac{2}{2} + 3\frac{3}{2} + \dots + 22\frac{22}{2}$ کدام است؟

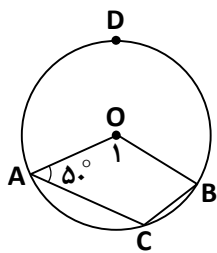
۲۳۱/۵۵ (۴)

۱۱/۵۵ (۳)

۲۶۵/۶۵ (۲)

۲۴۳ (۱)

۷۶- در شکل زیر، O مرکز دایره است و کمان ACB برابر با 140° است. اندازه زاویه B چند درجه است؟



۴۰ (۱)

۵۰ (۲)

۶۰ (۳)

۷۰ (۴)

۷۷- چهل عدد فرد متوالی را نوشته‌ایم. اگر میانگین عدد اول و آخر ۵۲ باشد، مجموع عدد ششم و عدد سی و پنجم کدام است؟

۱۰۴ (۴)

۱۰۲ (۳)

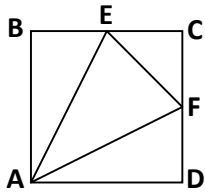
۹۶ (۲)

۹۲ (۱)

محل انجام محاسبات

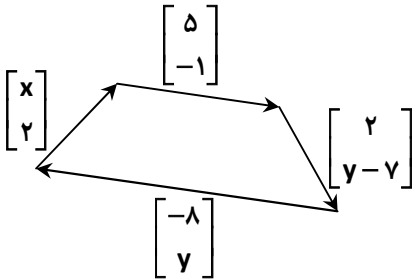


۷۸- مثلث AEF متساوی الساقین و چهارضلعی ABCD مربع است. طبق کدام حالت دو مثلث ABE و ADF با یکدیگر هم‌نهشت هستند؟



- (۱) ض ز ض
- (۲) و ز
- (۳) ز ض ز
- (۴) و ض

۷۹- با توجه به شکل، مقدار $x + y$ کدام است؟

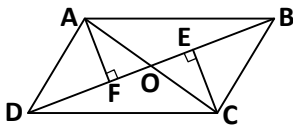


- (۱) -۲
- (۲) ۴
- (۳) -۱
- (۴) ۶

۸۰- در یک ساختمان اداری تعدادی اتاق است. به تعداد اتاق‌ها، در هر اتاق قفسه وجود دارد. در هر قفسه به تعداد اتاق‌ها، پوشه و در هر

پوشه به تعداد اتاق‌ها برگه قرار دارد. اگر تعداد برگه‌ها $۱۶^۲ \times ۹^۲$ باشد، تعداد اتاق‌ها چندتا است؟

- (۱) ۸۱
- (۲) ۱۲۷
- (۳) ۳۲
- (۴) ۱۲

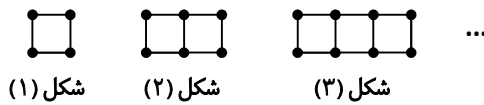


۸۱- ABCD یک متوازی‌الاضلاع است. از نقاط A و C دو عمود بر قطر BD رسم کرده‌ایم.

دو مثلث OEC و OFA بنا به کدام حالت هم‌نهشت هستند؟

- (۱) ض ض ز
- (۲) وتر و یک ضلع
- (۳) وتر و زاویه تند
- (۴) ض ض ض

۸۲- با توجه به شکل‌های زیر، تعداد چوب‌کبریت‌ها در شکل ۵۰ام کدام است؟



- (۱) ۱۴۹
- (۲) ۱۵۰
- (۳) ۱۵۱
- (۴) ۲۰۰

۸۳- چند عدد اول کوچک‌تر از $\sqrt{۲۸۳}$ وجود دارد که دورقمی هستند؟

- (۱) ۱
- (۲) ۲
- (۳) ۳
- (۴) صفر

۸۴- حاصل کسر $A = \frac{-۲-۴-۶-۸-\dots-۹۸-۱۰۰}{۱+۳+۵+۷+\dots+۹۷+۹۹}$ کدام است؟

- (۱) $-\frac{۴۹}{۵۰}$
- (۲) $-\frac{۱۷}{۶۶}$
- (۳) $-\frac{۵۱}{۵۰}$
- (۴) $-\frac{۱۷}{۳۳}$

۸۵- در دایره‌ای وتر کمان ۶۰° را رسم می‌کنیم، سپس دو سر این وتر را به مرکز دایره، وصل می‌کنیم. مثلث به‌دست آمده چه نوع مثلثی است؟

- (۱) متساوی‌الاضلاع
- (۲) قائم‌الزاویه متساوی‌الساقین
- (۳) قائم‌الزاویه
- (۴) مختلف‌الاضلاع

محل انجام محاسبات



۸۶- برای هریک از مخلوط‌های زیر به ترتیب از کدام روش جداسازی می‌توان استفاده کرد؟

«آب و روغن - آب و نمک - جدا کردن پلاسما از خون - آب و نشاسته»

(۱) تبلور - تقطیر - قیف جداکننده - صاف کردن

(۲) قیف جداکننده - تقطیر - سانتریفیوژ - صاف کردن

(۳) قیف جداکننده - تقطیر - سانتریفیوژ - قیف جداکننده

(۴) تبلور - تبلور - سانتریفیوژ - قیف جداکننده

۸۷- کدام یک تغییر شیمیایی محسوب نمی‌شود؟

(۱) تولید انرژی الکتریکی توسط باتری

(۲) سیاه شدن قند روی شعله

(۳) تشکیل حباب هنگام جوشیدن آب

(۴) پیر شدن پوست دست

۸۸- در یون $^{23}_{11}\text{Na}^+$ مجموع ذرات باردار آن چندتا است؟

(۴) ۱۸

(۳) ۲۱

(۲) ۱۹

(۱) ۲۰

۸۹- ایزوتوپ سنگین‌تر از $^{12}_6\text{X}$ که تعداد پروتون و نوترون‌هایش یک عدد اختلاف دارد، کدام است؟

(۴) $^{13}_6\text{X}$

(۳) $^{13}_7\text{X}$

(۲) $^{11}_7\text{X}$

(۱) $^{11}_6\text{X}$

۹۰- کدام گزینه در مورد تفاوت بین مخ و نخاع درست نیست؟

(۱) ظاهر مخ چین خورده و نخاع ظاهری صاف دارد.

(۲) مخ درون جمجمه و نخاع درون ستون مهره‌ها محافظت می‌شود.

(۳) نخاع برخلاف مغز، مرکز تمام انعکاس‌های بدن است.

(۴) قشر مخ خاکستری‌رنگ، ولی بخش بیرونی نخاع سفیدرنگ است.

۹۱- دربارهٔ دستگاه حرکتی کدام گزینه به‌درستی بیان نشده است؟

(۱) به‌جز دستگاه عصبی و ماهیچه‌ای، وجود استخوان‌ها نیز برای حرکت کردن لازم است.

(۲) بیشتر غضروف‌ها در ابتدا استخوان بوده‌اند، اگر چه هر دو بافت پیوندی محسوب می‌شوند.

(۳) بافت استخوانی شامل استخوان متراکم و حفره‌دار بوده و اسکلت بخش زنده و فعالی است.

(۴) یکی از وظایف استخوان‌ها، ساختن سلول‌های خونی در مغز استخوان‌های پهن است.

۹۲- کدام گزینه از اثرات هورمون تیروئید نیست؟

(۱) رشد بهتر اندام‌ها به ویژه مغز در دوران کودکی

(۲) افزایش هوشیاری در بزرگسالی

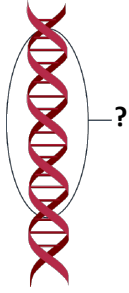
(۳) تأمین انرژی موردنیاز سلول‌های بدن

(۴) افزایش تولید سلول‌های خون در استخوان‌ها

محل انجام محاسبات



۹۳- قسمت مشخص شده در شکل روبه‌رو چه چیزی را نشان می‌دهد؟



(۱) کروموزوم

(۲) ژن

(۳) DNA

(۴) مادهٔ وراثتی

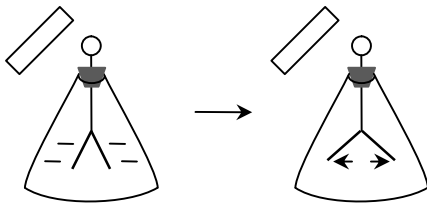
۹۴- این جانداران به ترتیب از راست به چپ به چه روشی تولیدمثل می‌کنند؟

«باکتری - کبک - مخمر - هیدر»

(۱) هاگ‌زایی - هاگ‌زایی - جوانه زدن - دو نیم شدن

(۲) دو نیم شدن - هاگ‌زایی - جوانه زدن - جوانه زدن

۹۵- در شکل زیر، الکتروسکوپ دارای بار منفی است. میله‌ای را به کلاهک نزدیک می‌کنیم. ورقه‌های الکتروسکوپ از هم دورتر می‌شوند.



کدام گزینه در مورد میله قطعاً درست است؟

(۱) میلهٔ شیشه‌ای دارای بار مثبت است.

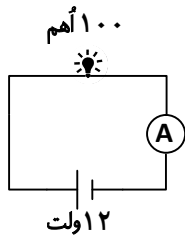
(۲) میلهٔ پلاستیکی و خنثی است.

(۳) میلهٔ شیشه‌ای است و با پارچهٔ پشمی مالش داده شده است.

(۴) میلهٔ پلاستیکی است که با پارچهٔ پشمی مالش داده شده است.

۹۶- در مدار زیر، اگر در کنار لامپ ۱۰۰ اهمی، یک مقاومت ۱۵۰ اهمی دیگر اضافه کنیم، جریانی که آمپرسنج نشان می‌دهد چه

تغییری می‌کند؟



(۱) ۰/۰۴۸ افزایش

(۲) ۰/۰۷۲ افزایش

(۳) ۰/۰۷۲ کاهش

(۴) ۰/۰۴۸ کاهش

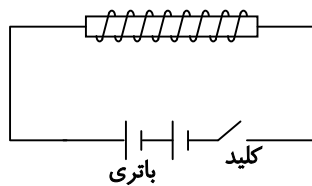
۹۷- قدرت آهنربای الکتریکی زیر در چه صورت بیشتر می‌شود؟

(۱) تعداد دور سیم‌پیچ را کم کنیم.

(۲) جهت باتری‌ها را در مدار عوض کنیم.

(۳) مدار را برای مدت بیشتری روشن نگه داریم.

(۴) تعداد باتری‌ها را زیاد کنیم.



محل انجام محاسبات

۹۸- در چراغ‌های قدیمی از یک نوع کانی به عنوان طلق نسوز استفاده می‌شده است. این کانی چه نام دارد؟
 (۱) همتایت (۲) کوارتز (۳) مسکوویت (۴) فلوئوریت


۹۹- در کدام گزینه نحوه تشکیل سنگ رسوبی به‌درستی بیان شده است؟
 (۱) زغال سنگ ← سنگ رسوبی آواری (۲) سنگ نمک ← فشرده شدن لایه‌ها
 (۳) کنگلومرا ← سنگ رسوبی تبخیری (۴) تراورتن ← سنگ رسوبی شیمیایی

۱۰۰- در مورد تصویر زیر کدام گزینه نمی‌تواند درست باشد؟

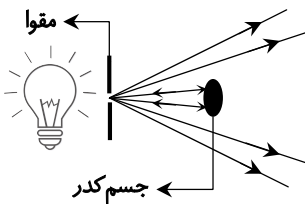


- (۱) ترکیب شیمیایی برخی سنگ‌ها در این منطقه تغییر کرده است.
- (۲) تغییرات در این منطقه تنها حاصل هوازدگی فیزیکی بوده است.
- (۳) سنگ‌های این منطقه حتماً دچار هوازدگی شده‌اند.
- (۴) احتمال پیدا شدن سنگ‌های آهکی در این منطقه وجود دارد.

۱۰۱- اگر آینه کوژ در کادر قرار گیرد، کدام شکل پرتوها را به‌درستی نشان می‌دهد؟

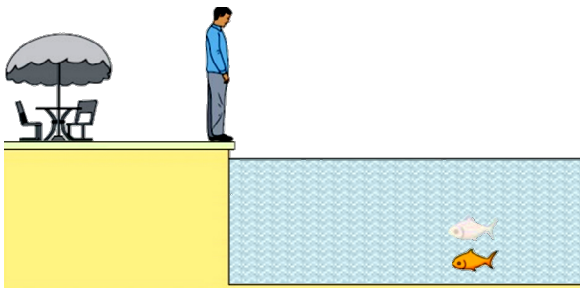


۱۰۲- کدام گزینه تصویر روبه‌رو را تایید می‌کند؟



- (۱) پرتوهای نور از یک منبع در تمام جهات منتشر نمی‌شوند.
- (۲) پرتوهای نور عبوری از یک روزنه نسبت به هم همگرا هستند.
- (۳) جسم کدر مقداری از نور را بازتاب می‌کند.
- (۴) از یک چشمه نور نقطه‌ای تنها یک پرتو نور خارج می‌شود.

۱۰۳- مطابق شکل، از کنار یک استخر پر از آب به ماهی درون آب نگاه می‌کنیم. به‌طور معمول کدام عبارت در این خصوص نادرست است؟



- (۱) عمق ظاهری ماهی از عمق واقعی آن کمتر خواهد بود.
- (۲) پرتوهای نوری که از ماهی به چشم ناظر می‌رسد در سطح آب شکست پیدا می‌کنند.
- (۳) زاویه پرتو تابش از زاویه پرتو شکست بیشتر است.
- (۴) اساس این پدیده مشابه چگونگی کارکرد عدسی‌ها و منشور است.

محل انجام محاسبات

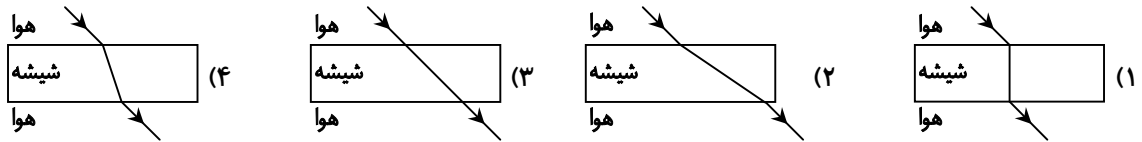


وقت پیشنهادی

از من تا خدا

درس‌های ۲ و ۱

۱۰۴- در کدام تصویر پرتوهای شکست به درستی رسم شده‌اند؟



۱۰۵- در مورد صفات ارثی کدام گزینه درست است؟

- (۱) صفات ارثی تعیین کننده نوع ژن‌ها هستند.
 (۲) هر صفت ارثی حاصل وجود یک ژن است.
 (۳) صفات ارثی در تمام نسل‌های یک جاندار ثابت‌اند.
 (۴) صفات ارثی گاهی تحت تأثیر محیط قرار می‌گیرند.

۱۰۶- مجموع ذکرهای «الله اکبر»، «الحمد لله» و «سبحان الله» در تسبیحات حضرت زهرا (س) چند مرتبه است؟

- (۱) ۳۴ مرتبه
 (۲) ۳۳ مرتبه
 (۳) ۱۰۰ مرتبه
 (۴) ۹۹ مرتبه

۱۰۷- عبارت زیر را کامل کرده و بگویید پیام آن کدام است؟

«دنيا مزرعة..... است.»

- (۱) کافران- انسان بی‌ایمان دنیاخواه و دنیاپرست است.
 (۲) آخرت- انسان باید هم دنیا و هم آخرت، برایش مهم باشد.
 (۳) آخرت- زندگی ابدی ما، بستگی به زندگی دنیایی ما دارد.
 (۴) کافران- زندگی بدون ایمان محصولاتی موقتی دارد.

۱۰۸- امام صادق (ع) صبر انسان‌ها را به خاطر کوتاهی دنیا در برابر آخرت، چگونه شرح دادند؟

- (۱) باعث اندک شدن بی‌تابی معرفی کردند.
 (۲) باعث سرعت در کسب ثواب معرفی کردند.
 (۳) به اندازه ایمان آن‌ها حساب کردند.
 (۴) اندک حساب کردند.

۱۰۹- عبارت درست را درباره زندگی اصحاب کهف، ایمان به خدا و عقل مشخص کنید.

- (۱) اصحاب کهف از وزیران امام زمان (ع) خواهند بود.
 (۲) خداوند در قرآن از اصحاب کهف به پیرانی تعبیر کرده که به خدا ایمان آوردند.
 (۳) افرادی که به خالق بودن خدا ایمان دارند به رب بودن او هم ایمان دارند.
 (۴) با وجود عقل، نیاز به چیز دیگری برای فهمیدن برنامه زندگی نمی‌باشد.

۱۱۰- مریم یک ناخنش را لاک زده، با توجه به اینکه آن ناخن ممکن است انگشت پا یا دستش باشد، وضوی او چگونه است؟

انگشت پا	انگشت دست
صحیح	صحیح

(۲)

انگشت پا	انگشت دست
باطل	باطل

(۱)

انگشت پا	انگشت دست
باطل	صحیح

(۴)

انگشت پا	انگشت دست
باطل	صحیح

(۳)

محل انجام محاسبات

۱۱۱- جمله زیر چه درسی از اصحاب کهف به ما می آموزد؟

«تلمیخا و دوستانش، بعد از وداع با خانواده هایشان، مخفیانه از شهر خارج شدند.»

(۱) در خانواده ای که فقر بیاید دین و ایمان هم می رود.

(۲) گاهی به خاطر خدا باید از خواسته دیگرمان بگذریم.

(۳) افراد سرشناس مشهور، راحت نمی توانند در هر جا زندگی کنند.

(۴) همراه بودن با دوستان الهی و مؤمن، انسان را از خانواده بی نیاز می کند.

۱۱۲- مطابق حدیث پیامبر خدا ﷺ چه کاری به ساختن خانه ای بر شن روان، تشبیه شده است؟

(۱) تحصیل علم بدون عقل و اندیشه

(۲) عبادت بدون عقل و اندیشه

(۳) تحصیل علم با خوردن حرام

(۴) عبادت همراه با خوردن حرام

۱۱۳- وقتی تلمیخا برای تهیه نان به شهر رفت متوجه شد که
الف) مردم شهر خداپرست شده اند.
ب) آن ها سالهاست که مرده بودند.
ج) قیمت نان بسیار گران شده است.
د) نان ها بسیار گران شده است.

(۱) «الف» (۲) «ب» (۳) «الف» و «ج» (۴) «ب» و «ج»

۱۱۴- کدام گزینه درباره مطابقت نماز و روابط بین الملل با دشمنان ابرقدرت و زورگوی دنیا درست است؟

(۱) مطابق «الله اکبر» در نماز، ما باید با آن ها از سر دوستی و سازش در آییم تا ضربه نخوریم.

(۲) مطابق «الرحمن الرحیم» در نماز، ما باید با آن ها از سر دوستی و سازش در آییم تا ضربه نخوریم.

(۳) مطابق «الرحمن الرحیم» در نماز، ما باید خدا را از آن قدرت ها بزرگ تر بدانیم و محکم در مقابلشان بایستیم.

(۴) مطابق «الله اکبر» در نماز، ما باید خدا را از آن قدرت ها بزرگ تر بدانیم و محکم در مقابلشان بایستیم.

۱۱۵- اگر خداوند به کافران مهربانی کند به خاطر کدام صفتش است؟

(۱) رحمان بودن (۲) رحیم بودن (۳) رحمان و رحیم بودن (۴) خداوند به کافران مهربانی نمی کند.

۱۱۶- گزینه ای که با اصطلاح «بقیة الله» مطابق است را مشخص کنید.

(۱) امام زمان که جانشین خداست.

(۲) خداوندی که باقی و برقرار است.

(۳) هر مؤمنی که معتقد به قیامت است.

(۴) پیامبران و امامان همه «بقیة الله» هستند.

۱۱۷- محمداً در وقتی در رکعت سوم نماز ظهر می ایستد، متوجه می شود تشهد را در رکعت دوم نخوانده است. او باید چه کاری انجام بدهد؟

(۱) نمازش صحیح است و باید ادامه رکعت سوم را بخواند.

(۲) باید بنشیند و تشهد را بخواند و نماز را ادامه دهد بعد از پایان نماز هم دو سجده سهو به جا آورد.

(۳) باید بنشیند و تشهد را بخواند و سپس بایستد و نماز را ادامه دهد.

(۴) از همان جا نماز را ادامه می دهد و در پایان نماز، تشهد و دو سجده سهو را به جا می آورد.

۱۱۸- کدام بیت با آیه زیر هماهنگی بیشتری دارد؟

﴿رَبُّ السَّمَاوَاتِ وَالْأَرْضِ وَمَا بَيْنَهُمَا فَاعْبُدْهُ﴾

(۱) هر آنکه جانب اهل خدا نگه دارد

(۲) برگ درختان سبز در نظر هوشیار

(۳) خدایا جهان پادشاهی تو راست

(۴) ای همه هستی ز تو پیدا شده

خدش در همه حال از بلا نگه دارد

هر ورقش دفترست معرفت کردگار

ز ما خدمت آید خدایی تو راست

خاک ضعیف از تو توانا شده

۱۱۹- نماز صبح کدام یک از افراد زیر صحیح است؟

الف) پارسا از روی فراموشی یکی از رکوع ها نمازش را انجام نداده است.

ب) طاهرا سهواً پیش از تمام شدن ذکر رکوع، از رکوع بلند می شود.

ج) ایلیا از روی فراموشی در یکی از رکعت های نماز، دو بار رکوع را انجام می دهد.

(۱) «الف» (۲) «ب» (۳) «ب» و «ج» (۴) «الف» و «ج»

۱۲۰- پیام «مراقب نماز بودن» از کدام عبارت قرآنی زیر برداشت می شود؟

(۱) ﴿وَالَّذِينَ بَشَّاهَدَانِهِمْ قَائِمُونَ﴾

(۲) ﴿وَالَّذِينَ عَلَى صَلَاتِهِمْ يُحَافِظُونَ﴾

(۳) ﴿وَالَّذِينَ هُمْ لِأَمَانَاتِهِمْ وَعَهْدِهِمْ رَاعُونَ﴾

(۴) ﴿يَا أَيُّهَا الَّذِينَ آمَنُوا كُتِبَ عَلَيْكُمُ الصِّيَامُ﴾

