


# ارزشیابی ویژه

(آمادگی آزمون ورودی مدارس تیزهوشان) مرحله ۱۰ (۲۵ اردیبهشت ۱۴۰۵)



دفترچه شماره ۲



عنوان	تعداد پرسش	از شماره	تا شماره	مدت پاسخ‌گویی
استعداد تحلیلی	۶۰	۶۱	۱۲۰	۲۵ دقیقه

سؤالات این دفترچه ضریب ۱ دارد، ساده هستند و با هدف سنجش سرعت و دقت شما طراحی شده‌اند. از ۲۵ دقیقه زمان خود برای پاسخ‌گویی به ۶۰ پرسش، به درستی استفاده کنید.

**توجه:**

به ازای هر پاسخ صحیح، «۳» نمره مثبت و به ازای هر پاسخ غلط، «۱» نمره منفی برای دانش‌آموز در نظر گرفته می‌شود. برای پرسش‌های بدون پاسخ، نمره ای در نظر گرفته نمی‌شود. چنانچه دانش‌آموز در هر پرسش بیش از یک گزینه را علامت زده باشد، «۱» نمره منفی برای او در نظر گرفته می‌شود.



دانش‌آموزان گرامی، شما می‌توانید با اسکن تصویر زیر به وسیله گوشی هوشمند یا تبلت خود، پاسخ‌های تشریحی را مشاهده نمایید.





■ در سؤال‌های ۶۱ تا ۶۴ مقلوب کدام کلمه در فارسی، کلمه‌ای معنادار نمی‌باشد؟ (به‌طور مثال مقلوب کلمه‌ی کباب، بابک می‌شود).

-۶۱

- |         |         |         |         |
|---------|---------|---------|---------|
| موش (۱) | گوش (۲) | مرگ (۳) | نان (۴) |
|---------|---------|---------|---------|

-۶۲

- |         |           |         |         |
|---------|-----------|---------|---------|
| لال (۱) | تاریخ (۲) | خرس (۳) | کفش (۴) |
|---------|-----------|---------|---------|

-۶۳

- |         |         |          |         |
|---------|---------|----------|---------|
| غاز (۱) | داد (۲) | ناخن (۳) | درد (۴) |
|---------|---------|----------|---------|

-۶۴

- |          |           |           |         |
|----------|-----------|-----------|---------|
| لاله (۱) | نادان (۲) | انسان (۳) | کشک (۴) |
|----------|-----------|-----------|---------|

■ با توجه به جدول داده‌شده به سؤال‌های ۶۵ تا ۷۰ پاسخ دهید.

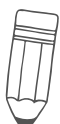
ردیف

ستون


۶۵- در جدول داده‌شده چند شکل وجود دارد؟

- |        |        |        |        |
|--------|--------|--------|--------|
| ۱۸ (۱) | ۱۹ (۲) | ۱۷ (۳) | ۲۰ (۴) |
|--------|--------|--------|--------|





۶۶- نسبت تعداد به برابر کدام گزینه است؟

- (۱)  $\frac{8}{15}$       (۲)  $\frac{7}{17}$       (۳)  $\frac{8}{16}$       (۴)  $\frac{7}{16}$

۶۷- اختلاف تعداد و برابر کدام گزینه است؟

- (۱) ۳      (۲) ۵      (۳) ۴      (۴) ۸

۶۸- در ردیف چهارم از بالا و ردیف پنجم از پایین به ترتیب چند شکل بیش از یک قسمت رنگی دارند؟

- (۱) ۶-۵      (۲) ۵-۶      (۳) ۷-۵      (۴) ۵-۷

۶۹- کدام یک از گزینه‌های زیر شکل را نمایش نمی‌دهد؟

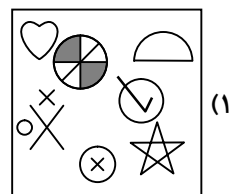
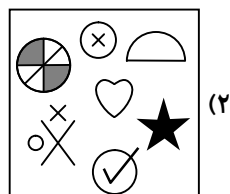
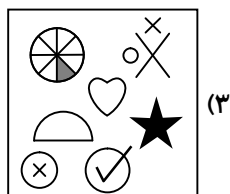
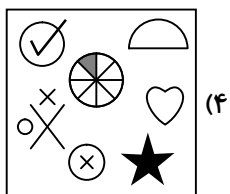
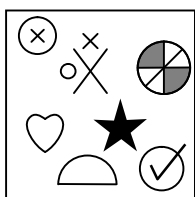
- (۱) ستون دوم از چپ و سطر سوم از پایین  
(۲) ستون پنجم از راست و سطر هشتم از پایین  
(۳) ستون ششم از راست و سطر ششم از بالا  
(۴) ستون هفتم از چپ و سطر هفتم از پایین

۷۰- در کدام یک از گزینه‌های زیر، شکل تکراری وجود ندارد؟

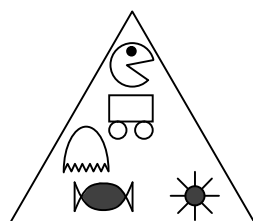




- (۱) ستون سوم از چپ      (۲) سطر سوم از بالا      (۳) سطر سوم از پایین      (۴) ستون پنجم از راست

■ در سؤال‌های ۷۱ تا ۷۶ کدام گزینه همه‌ی اجزاء شکل سمت چپ را دارد؟

-۷۱


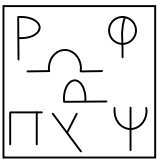


-۷۲

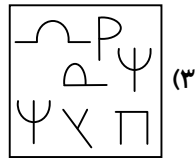




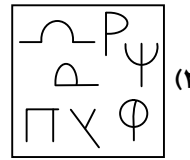
-۷۳



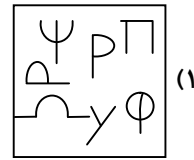
(۴)



(۳)

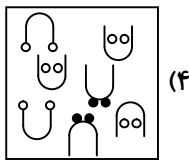
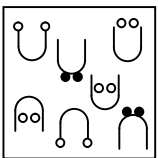


(۲)

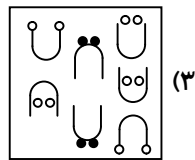


(۱)

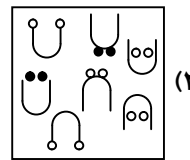
-۷۴



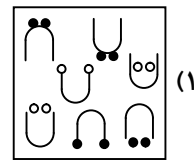
(۴)



(۳)




(۲)




(۱)

-۷۵



(۴)



(۳)

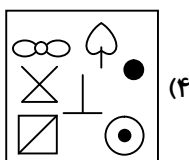
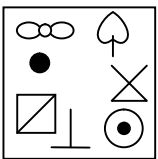


(۲)

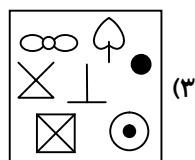


(۱)


-۷۶




(۴)



(۳)



(۲)



(۱)

■ در سوالات ۷۷ تا ۸۱ با استفاده از ارقام داده شده، بزرگ‌ترین و کوچک‌ترین عدد ممکن را می‌سازیم. اختلاف آن دو عدد در کدام گزینه آمده است؟ (از تمام ارقام باید استفاده کنیم و مجاز به استفاده از یک رقم بیش از تعداد داده شده در صورت سؤال نیستیم.)

-۷۷

۰, ۵, ۹, ۱, ۴

۸۴۵۱ (۴)

۸۴۹۵ (۳)

۸۴۵۱۹ (۲)

۸۴۹۵۱ (۱)



# ارزشیابی ویژه مرحله ۱۰

(آمادگی آزمون ورودی مدارس تیزهوشان)



۲, ۱, ۵, ۴, ۶

۵۶۹۶۵ (۴)

۵۲۹۶۵ (۳)

۵۲۹۵۶ (۲)

۵۶۹۲۵ (۱)

-۷۸

۱, ۰, ۸, ۷, ۸

هیچ کدام (۴)

۷۷۲۹۲ (۳)

۷۹۷۲۲ (۲)

۷۷۹۲۰ (۱)

-۷۹

۵, ۰, ۰, ۲, ۲

۲۱۳۷۵ (۴)

۲۳۱۷۵ (۳)

۳۲۱۷۵ (۲)

۳۱۲۷۵ (۱)

-۸۰

۳, ۰, ۰, ۵, ۶, ۳

۳۲۵۴۸۹ (۴)

۳۲۵۹۴۸ (۳)

۳۵۲۹۴۶ (۲)

۳۵۲۹۴۴ (۱)

-۸۱

■ در سؤالات ۸۲ تا ۸۶ داخل سه مربع، یکی از ارقام ۸، ۶ و ۴ را دقیقاً یک مرتبه قرار می‌دهیم تا تساوی برقرار شود. مشخص کنید که به جای علامت سؤال کدام رقم قرار می‌گیرد؟

-۸۲

$$\square\square + \square = ۹۰$$

گزینه‌های ۱ و ۳ (۴)

۴ (۳)

۸ (۲)

۶ (۱)

-۸۳

$$\square\square - \square = ۵۶$$

جواب ندارد. (۴)

۴ (۳)

۶ (۲)

۸ (۱)

-۸۴

$$\square\square \times \square = ۲۸۸$$

جواب ندارد. (۴)

۸ (۳)

۶ (۲)

۴ (۱)

-۸۵

$$\square\square \div \square = ۸$$

۸ (۴)

۴ (۳)

۶ (۲)

جواب ندارد. (۱)

-۸۶

$$\square\square \div \square = ۱۷$$

۶ (۴)

۸ (۳)

جواب ندارد. (۲)

۴ (۱)

■ در سؤال‌های ۸۷ تا ۸۹، گزینه‌ی صحیح را انتخاب کنید.

-۸۷

(۱) ۲ ساعت و ۳ دقیقه قبل از ساعت ۴ عصر  $\odot$  ۱۶:۳۰'  $\odot$  ۲۲:۴۰'  $\odot$  ۳ ساعت و ۵۸ دقیقه بعد از ساعت ۶ عصر  
(۳) یک ربع مانده به ۵ صبح  $\odot$  ۴:۵۷'  $\odot$  ۸ ساعت و ۲۳۵ دقیقه  $\odot$  ۱۱ ساعت و ۵۰ دقیقه

-۸۸

(۲) ثلث عدد ۱۴۶  $\odot$  ربع عدد ۵۴۱  $\odot$  ۵۹۳  $\odot$  ربع عدد ۹۸۷  $\odot$  ۴۸۳  $\odot$  ثلث عدد ۲۹۷

(۴) نصف عدد ۱۵۰  $\odot$  خمس عدد ۸۳۴  $\odot$



۸۹-

- (۱)  $7834921 < 7835631$   
 (۲)  $999999 < 71389014$   
 (۳)  $93186015 < 93860511$   
 (۴)  $22279954 > 31278954$

■ در سؤال‌های ۹۰ و ۹۱، کدام گزینه کلمه‌ی جمع است؟

۹۰-

- (۱) شکلات (۲) مجازات (۳) ادبیات (۴) سوغات

۹۱-

- (۱) کوهان (۲) بهاران (۳) سوهان (۴) ارکان

■ در سؤال‌های ۹۲ تا ۹۴ کدام گزینه هیچ حرف مشترکی با سایر گزینه‌ها ندارد؟

۹۲-

- (۱) ماست (۲) سمنو (۳) خبر (۴) نمکدان

۹۳-

- (۱) گل‌دان (۲) طبیب (۳) خجسته (۴) گمراه

۹۴-

- (۱) آسیاب (۲) پشمک (۳) نبات (۴) زنبور

■ در سؤال‌های ۹۵ تا ۹۷، کلمات کدام گزینه به ترتیب حروف الفبا مرتب شده‌اند؟

۹۵-

- (۱) جارو، روباه، لیوان، دندان (۲) زنبور، ساعت، صادق، جهان (۳) تیل، فندق، پلنگ، میوه (۴) خرداد، رایانه، شامپو، عنکبوت

۹۶-

- (۱) توت، حیوان، زبان، چانه (۲) هوا، شامپانزه، خمیر، دندان (۳) سرو، غذا، کتاب، نان (۴) تاج، عینک، گرگ، صابون

۹۷-

- (۱) برنج، کره، مرغ، آش (۲) سوسک، موش، گربه، عقرب (۳) لیوان، میز، نیمکت، سینی (۴) تمشک، خیار، سیب، هویج

■ در سؤالات ۹۸ تا ۱۰۱ کدام گزینه بزرگ‌تر از بقیه می‌باشد؟

۹۸-

- (۱) ثلث عدد ۴۵۰ (۲) ۱۵ برابر عدد ۴۸/۵ (۳) نصف خمس عدد ۹۰ (۴) خمس ۹۶۰

۹۹-

- (۱) ۴۰ درصد نصف ۲۰۰۰ (۲) ۶۰ درصد خمس ۱۶۰۰۰ (۳) ۳۰ درصد ثلث ۹۰۰۰ (۴) ۴۵ درصد ثلث ۸۷۰۰

۱۰۰-

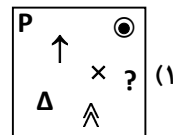
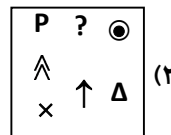
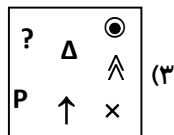
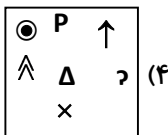
- (۱)  $968 \times 124$  (۲)  $283 \times 876$  (۳)  $564 \times 523$  (۴)  $236 \times 479$

۱۰۱-

- (۱) ۳۱۴۹۸۶۱۴۳۱ (۲) ۳۱۴۹۸۶۲۴۳۱ (۳) ۳۱۴۹۸۶۱۴۴۱ (۴) ۳۱۴۹۸۶۱۴۳۵

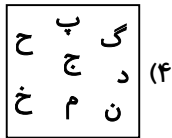
■ در سؤالات ۱۰۲ تا ۱۰۶ کدام گزینه با بقیه متفاوت است؟

۱۰۲-




# ارزشیابی ویژه مرحله ۱۰


(آمادگی آزمون ورودی مدارس تیزهوشان)




(۴)



(۳)

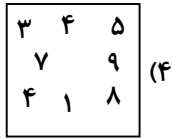


(۲)

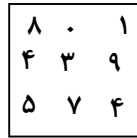


(۱)

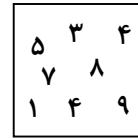
-۱۰۳



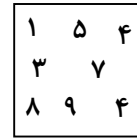
(۴)



(۳)

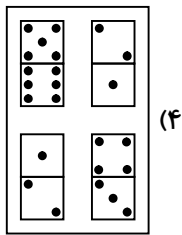


(۲)

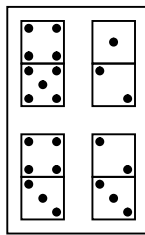


(۱)

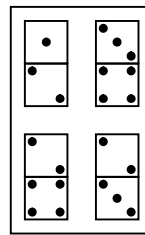
-۱۰۴



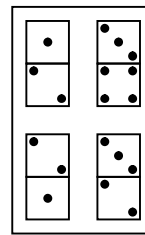
(۴)



(۳)

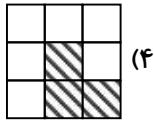


(۲)

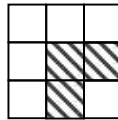


(۱)

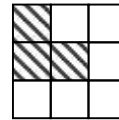
-۱۰۵



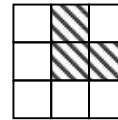
(۴)



(۳)



(۲)



(۱)

-۱۰۶

■ در سؤال‌های ۱۰۷ تا ۱۱۲ مناسب‌ترین گزینه به جای علامت «؟» را انتخاب کنید.

-۱۰۷

۰, ۲, ۶, ۱۲, ?

۳۵ (۴)

۳۰ (۳)

۲۰ (۲)

۲۵ (۱)

-۱۰۸

۱۱, ۱۹, ۱۶, ۲۴, ۲۱, ?

۲۴ (۴)

۲۹ (۳)

۲۳ (۲)

۱۸ (۱)

-۱۰۹

۶, ۲۴, ۲۰, ۸۰, ۷۶, ?

۳۰۴ (۴)

۸۰ (۳)

۷۲ (۲)

۳۰۶ (۱)

-۱۱۰

۱, ۸, ۲۷, ۶۴, ۱۲۵, ۲۱۶, ?

۳۰۷ (۴)

۵۱۲ (۳)

۳۴۳ (۲)

۳۴۲ (۱)

-۱۱۱


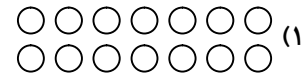
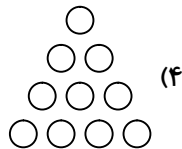

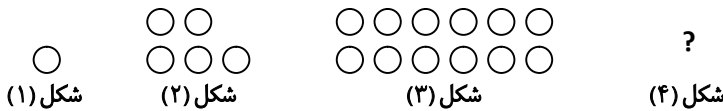
۲, ۷, ۱۴, ۲۳, ?

۳۷ (۴)

۳۴ (۳)

۳۶ (۲)

۳۵ (۱)



با توجه به متن داده شده به سؤال‌های ۱۱۳ تا ۱۱۷ پاسخ دهید.

مرد خسیسی، خربزه‌ای خرید که به خانه ببرد. در راه به وسوسه افتاد که قدری از آن را بخورد، ولی شرم داشت که دست خالی به خانه رود. عاقبت فریب نفس، بر وی چیره شد و با خود گفت: قاچی را به رسم خانزاده‌ها می‌خورم و باقی را در راه می‌گذارم تا عابران گمان کنند که خانی از اینجا گذشته است و چنین کرد. البته به این اندک، آتش آز او کم نشد و گفت: گوشت خربزه را نیز می‌خورم که گویند خان را چاکرانی نیز در ملازمت بوده است و باقی خربزه را چاکران خورده‌اند. سپس آهنگ خوردن پوست آن کرد و گفت: این نیز می‌خورم که گویند خان اسبی نیز داشته است و در آخر تخم خربزه و هرآن چیزی که مانده بود را یکجا بلعید و گفت: اکنون نه خانی آمده و نه خانی رفته است.

۱۱۳- در کل متن بالا چند بار حرف «ت» آمده است؟

- ۲۳ (۱)      ۲۱ (۲)      ۲۴ (۳)      ۲۲ (۴)

۱۱۴- در متن بالا چند کلمه با حرف «خ» شروع شده است؟ (کلمات تکراری هم محاسبه شود.)

- ۲۰ (۱)      ۱۰ (۲)      ۱۹ (۳)      ۱۸ (۴)

۱۱۵- در متن بالا چند کلمه وجود دارد که فقط در بالای آن نقطه وجود دارد؟ (کلمات تکراری هم محاسبه شود.)

- ۳۵ (۱)      ۴۶ (۲)      ۵۲ (۳)      ۶۰ (۴)

۱۱۶- با توجه به متن داده شده، مرد خسیس کدام قسمت از خربزه را خورد؟

- پوست خربزه (۱)      گوشت خربزه (۲)      تخم خربزه (۳)      هر سه گزینه (۴)

۱۱۷- کدام یک از کلمات زیر بیشتر از سایر گزینه‌ها در متن تکرار شده است؟

- خانه (۱)      گفت (۲)      راه (۳)      مرد (۴)

۱۱۸- کدام گزینه حروف به هم ریخته‌ی یک شغل را نشان می‌دهد؟

- ز خ ز ا (۱)      خ پ ط ر (۲)      ط خ ا ی (۳)      ب ا ز ژ (۴)

در سؤال‌های ۱۱۹ و ۱۲۰ تعداد شکل‌های کدام گزینه با سایر گزینه‌ها متفاوت می‌باشد؟

