

آزمون آزمایشی ۸ خرداد ۱۴۰۵

گروه آزمایشی علوم انسانی

ویژه داوطلبان آزمون سراسری ۱۴۰۵

A

دفترچه شماره ۲

وقت پیشنهادی	تا شماره	از شماره	تعداد پرسش	مواد امتحانی
۲۰ دقیقه	۱۰۰	۸۱	۲۰	زبان عربی (ویژه انسانی)
۱۰ دقیقه	۱۱۳	۱۰۱	۱۳	تاریخ (ویژه انسانی)
۱۰ دقیقه	۱۲۵	۱۱۴	۱۲	جغرافیا
۲۰ دقیقه	۱۴۵	۱۲۶	۲۰	فلسفه و منطق
۱۵ دقیقه	۱۶۰	۱۴۶	۱۵	اقتصاد
مدت پاسخ‌گویی: ۷۵ دقیقه		تعداد کل پرسش‌ها: ۸۰		

دفترچه پاسخ تشریحی



داوطلب گرامی، جهت استفاده از خدمات اختصاصی خود مانند کارنامه هوشمند بعد از آزمون، بانک سؤال گزیده دو، آزمونک‌ها، رفع اشکال هوشمند و ... با استفاده از نام کاربری و رمز عبور وارد سایت gozine2.ir شوید. در ثبت نام اینترنتی نام کاربری کد ملی شماست و رمز عبور توسط خودتان تعیین شده است. در ثبت نام انفرادی و مدرسه‌ای، نام کاربری و رمز عبور خود را از مدرسه یا نمایندگی شهر خود دریافت نمایید.

پاسخ تشریحی تصویری



■ عَيْنُ الْأَنْسَبِ لِلْجَوَابِ عَنِ التَّرْجُمَةِ أَوْ الْمَفْهُومِ مِنْ أَوْ إِلَى الْعَرَبِيَّةِ (۸۹-۸۱):

۸۱- ﴿وَلَا تَصْعَرَ حَذَكِ لِلنَّاسِ وَلَا تَمْشِ فِي الْأَرْضِ مَرَحًا إِنَّ اللَّهَ لَا يُحِبُّ كُلَّ مُخْتَالٍ فَخُورٍ﴾:

- ۱) با تکبر از مردم رویت را برنگردان و در زمین شادمانه راه نرو، بی شک خداوند هیچ خودپسند فخرفروشی را دوست ندارد.
 - ۲) هرگز از مردم رخ برمتاب و در زمین با شادی راه نرو، الله دوست دارنده هیچ خودستاینده خودپسندی نمی باشد.
 - ۳) نه از مردم رخ بتاب و نه با ناز بر زمین قدم بگذار، چون که پروردگار هر فخر فروش مغروری را دوست نمی دارد.
 - ۴) با بی اعتنایی گونه هایت را از مردم برنگردان و خرامان بر زمین قدم مگذار، چراکه خداوند هر مغرور خودپسندی را دوست نمی دارد.
- ۸۲- «مِنَ النَّاسِ مَنْ يَتَّخِذُ دِينَ اللَّهِ لَعِبًا؛ فَلَا يَحْزُنُكَ قَوْلُهُ لِأَنَّهُ لَا فَوْزَ لَهُ!»:

- ۱) بعضی از مردم دین خدا را به مسخره می گیرند؛ پس سخنان آنان تو را غمگین نسازد؛ چراکه هیچ موقفتی برای آنان نخواهد بود!
 - ۲) از میان مردم کسی است که دین را بازیچه می داند؛ پس نباید از سخن او غمگین شوی؛ زیرا او موفق نخواهد شد!
 - ۳) بعضی از مردم هستند که دین خدا را بازیچه می گیرند؛ پس از حرف آن ها ناراحت نشو؛ زیرا هیچ رستگاری ای برایشان نخواهد بود!
 - ۴) از مردم کسی است که دین خدا را به بازی می گیرد؛ پس حرف او نباید تو را غمگین کند؛ چراکه او هیچ موقفتی ندارد!
- ۸۳- «السَّابِحَةُ فِي الْبَحْرِ الَّذِي لَهُ أَمْوَاجٌ مَرْتَفَعَةٌ صَعْبَةٌ وَ إِنْقَاذُ الْإِنْسَانِ الْغَرِيقِ فِي هَذِهِ الْحَالَةِ أَصْعَبُ كَثِيرًا!»:

- ۱) در دریایی که دارای موج بلند است، شنا کردن سخت و نجات انسان های در حال غرق شدن در این حالت، خیلی سخت تر است!
 - ۲) شنا کردن در دریای با امواج بلند سختی زیادی دارد، ولی نجات دادن انسان در حال غرق شدن در این حالت، سخت تر است!
 - ۳) شنا کردن در دریاهایی که امواج بلندی دارند، سخت و نجات دادن انسان غریق نیز در این حالت، خیلی سخت است!
 - ۴) در دریایی که امواج بلندی دارد، شنا کردن سخت و نجات دادن انسان غریق در این حالت، خیلی سخت تر است!
- ۸۴- «لَا يَجُوزُ أَنْ تُعْطَى جَوَائِزُ التَّوْبِلِ لِكُلِّ شَخْصٍ بَلْ لِيُتَمَنَّحَ مَنْ هُوَ أَهْلٌ لِذَلِكَ!»:

- ۱) نباید جوایز نوبل به هر شخص داده شود، بلکه باید به هر کس که او شایسته تر است، داده شود!
- ۲) جایز نیست به هر شخصی جایزه های نوبل داده شود، بلکه باید به کسی که او شایسته آنست، داده شود!
- ۳) واجب نیست که جایزه نوبل را به هر کسی بدهند، برای اینکه او باید شایستگی آن را داشته باشد!
- ۴) برای این جوایز نوبل را به همه اشخاص نمی دهند که آن ها به فردی شایسته داده شوند!

۸۵- «أَيُّ خَلَلٍ يَحْدُثُ فِي نِظَامِ الطَّبِيعَةِ يُوَدِّي إِلَى تَخْرِيْبِهَا وَ مَوْتِهَا فَلْتَجْتَنِبْ عَنْهُ!»:

- ۱) هر خلل که در نظام طبیعی رخ دهد، سبب خرابی و مردن آن می شود، پس از آن اجتناب می کنیم!
- ۲) در نظام طبیعت هر کاستی ای که رخ می دهد، منجر به تخریب و مرگ آن می گردد، پس باید از خودداری کنیم!
- ۳) در نظام طبیعی، همه کاستی ها سبب تخریب و مرگش خواهند شد، پس ما از آن ها باید اجتناب کنیم!
- ۴) هر خللی که در نظام طبیعت رخ می دهد و منجر به خرابی و مرگش می شود، پس ما از آن خودداری می کنیم!

۸۶- عَيْنُ الصَّحِيحِ:

- ۱) رَبِّ عَلَّمَنِي مَا يَنْفَعُنِي!؛ پروردگارا، من آموختم آنچه را که به من سود می رساند!
- ۲) إِنَّهَا تُعْغِي كَالطَّيُورِ وَ تَصْفُرُ كَالْأَطْفَالِ!؛ همانا او مانند پرندگان بی نیاز می باشد و مانند کودکان سوت می زند!
- ۳) بِلَادُنَا أَنْجَحُ دَوْلَةٍ فِي مَدِّ خُطُوطِ أَنْيَابِ الْغَازِ وَ تَصْدِرُهُ!؛ سرزمین ما کشوری است که در لوله کشی گاز و صادرات آن موفق شده است!
- ۴) يَلْعَقُ جُرْحَهُ عِدَّةَ مَرَاتٍ حَتَّى يَلْتَمَّ!؛ زخم خود را چند بار می لیسد تا بهبود یابد!

۸۷- عَيْنُ الصَّحِيحِ:

- ۱) قَعَدَ الْعَجُوزُ فِي الْمَسْجِدِ وَ هُوَ يَدْعُو رَبَّهُ!؛ پیرمرد در مسجد نشسته است در حالی که پروردگارش را عبادت می کند!
- ۲) أَمْرٌ أَنْوَشِرُوَانُ أَنْ يُعْطَى لِلرَّجُلِ الدِّيْنَارِ الْآخِرَ!؛ انوشیروان فرمان داد که به مرد دو هزار دینار دیگر داده شود!
- ۳) أَعْجَبْتُ أَمْسَ بِكَلَامِ الْمُتَحَدِّثِ إِعْجَابًا كَثِيرًا!؛ دیروز از سخن یک سخنران بسیار تعجب کردم!
- ۴) هَلْ تَعْلَمُ أَنَّهَا لَا تُثْمِرُ إِلَّا بَعْدَ عَشْرِ سِنَوَاتٍ!؛ آیا می دانی که آن ها فقط ده ها سال بعد میوه می دهند!

۸۸- «دِرْبَارَةُ أَنْجَحُ فِي زَنْدِغِي خُودِ بِي دَسْتِ آوْرْدِه آي، غَفْلَتِ مَكْن!»:

- ۱) لَا تَكُنْ غَافِلًا عَمَّا حَصَلَتْ فِي حَيَاتِكَ!
- ۲) لَا تَغْفُلْ عَمَّا تَحْصُلُ فِي حَيَاتِكَ!
- ۳) لَا تَغْفُلْ عَمَّا حَصَلَتْ فِي حَيَاتِكَ!
- ۴) عَمَّا قَدْ حَصَلَتْ فِي الْحَيَاةِ لَا تَكُنْ غَافِلًا!

۸۹- عین الصحیح فی المفهوم: «سَلِ الْمَصْنَعِ رَكِبًا تَهِيمٌ فِي الْقَلَوَاتِ!»

- (۱) روز من با تو به شب آمد و شب با تو به روز
(۲) نعمت آن راست زیاده که همه شکر بود
(۳) روان تشنه بر آساید از وجود فرات
(۴) شب تاریک و بیم موج و گردابی چنین هائل

■ ■ ■ إقرأ النَّصَّ التَّالِيَّ ثُمَّ أَجِبْ عَنِ الْأَسْئَلَةِ بِمَا يُنَاسِبُ النَّصَّ (٩٤- ٩٠):

«تُعْتَبَرُ مَدِينَةُ يَزْدٍ أَكْبَرَ مَدِينَةٍ تَارِيخِيَّةٍ فِي إِيرَانَ وَ ثَانِي أَقْدَمِ مُدُنِ الْعَالَمِ، الَّتِي تَقَعُ بَيْنَ سِلْسِلَتَيْ جِبَالِ شِيرِكُوهِ وَ خَارَانِيْقِ وَ حَدَدَتْهَا سَهْوُلُ «لُوت» وَ هِيَ أَكْبَرُ صَحْرَاءٍ فِي إِيرَانَ فَيُنْصَحُ بِزِيَارَتِهَا فِي فَصْلِ الْخَرِيفِ وَ الشِّتَاءِ لِتَجَنُّبِ حَرَارَتِهَا الشَّدِيدَةِ! تَضُمُّ مَدِينَةُ يَزْدٍ الْعَدِيدَ مِنَ الْمَعَالِمِ الْأَثَرِيَّةِ وَ الثَّقَافِيَّةِ الَّتِي تَجْذِبُ السِّيَّاحَ مِنْ مُخْتَلَفِ أُنْحَاءِ الْعَالَمِ، مِنْ أَشْهَرِهَا بِنَاءُ أَمِيرِ شَخْمَاقِ وَ الْأَسْوَاقِ الْمَسْقُفَّةِ وَ مَعْبَدِ النَّارِ وَ هُوَ مَعْبَدٌ لِلزَّرَادَشْتِيِّينَ فِيهِ نَارٌ مُشْتَعِلَةٌ مِنْذُ أَكْثَرِ مِنْ أَلْفِ عَامٍ وَ حَدِيقَةُ دَوْلَتِ آبَادِ وَ هِيَ حَدِيقَةٌ تَارِيخِيَّةٌ جَمِيلَةٌ بُنِيَ فِيهَا أُطُولُ مِصْدَاتِ الرِّيحِ (بَادِغِيرَهَا) فِي إِيرَانَ لِتَبْرِيدِ الْهَوَاءِ وَ الْمَسْجِدُ الْجَامِعُ الَّذِي يَعُودُ تَارِيخُ بِنَائِهِ إِلَى الْقَرْنِ السَّادِسِ الْهَجْرِيِّ! كَانِ سَكَّانُ مَدِينَةِ يَزْدٍ الْقَدَمَاءُ يَعْوِضُونَ نَقْصَهُمْ فِي مَوَارِدِ الْمِيَاهِ بِسُقِّ الْقَنَوَاتِ وَ حَفْرِ الْأَنْفَاقِ دُونَ تَفْجِيرِ الْأَرْضِ دَوَّابِينَ فِي اسْتِخْرَاجِ الْمَاءِ مِنَ الْجِبَالِ وَ تَوْصِيلِهِ إِلَى الْأَرْضِ الصَّالِحَةِ لِلزَّرَاعَةِ فَقَدْ تَمَّ حَفْرُ أُطُولِ قَنَاةٍ مَائِيَّةٍ قَبْلَ ثَلَاثَةِ آلَافِ سَنَةٍ فِي إِيرَانَ تُسَمَّى قَنَاةَ زَارِجِ الَّتِي تَمْتَدُّ حَوَالِي مِئَةِ كِيلُومِتْرٍ مِنْ مَنطِقَةِ زَارِجِ إِلَى مَدِينَةِ يَزْدٍ وَ تَعْبُرُ فِي طَرِيقِهَا الْمَسْجِدَ الْجَامِعَ وَ هِيَ شَاهِدَةٌ عَلَى حِكْمَةِ وَ فَنِّ وَ ثِقَافَةِ وَ حَضَارَةِ وَ نَمُودَجِّ لِلتَّعَامُلِ مَعَ الطَّبِيعَةِ الْخَشْنَةِ!»

۹۰- عَيِّنِ الصَّحِيحَ حَسَبَ النَّصِّ:

- (۱) لقد اهتمَّ اليزديونَ القدماءُ باستخراج المياه الصالحة للشرب و الزراعة بتفجير الأرض و حفر القنوات!
(۲) من أشهر معالم مدينة يزد الأثرية و أقدمها المسجد الجامع و معبد النار الذين تمَّ بناءهما قبل مئة عام!
(۳) قناة زارج هي أطول قناة مائية في العالم تبدأ من جبل زارج و تنتهي إلى المسجد الجامع وسط مدينة يزد!
(۴) قام المعمارون في مدينة يزد ببناء أطول مصدِّ الرِّيح في حديقة دولت آباد لتطوير الهواء و تبريده كمكثف!

۹۱- عَيِّنِ مَا لَا يُنَاسِبُ لِمَدِينَةِ يَزْدٍ حَسَبَ النَّصِّ:

- (۱) مدينة مصدات الرياح و قنوات المياه
(۲) أسوة للتعايش السلمي بين المسلمين و غيرهم
(۳) نموذج لتعامل الإنسان و الطبيعة الخشنة
(۴) أكبر المدن التاريخية و أقدمها في العالم

۹۲- عَيِّنِ السُّؤَالَ الَّذِي لَا يُوَجِّدُ جَوَابَهُ فِي النَّصِّ:

- (۱) متى الموعد المناسب لزيارة مدينة يزد و معالمها الأثرية؟
(۲) ما هي أطول قناة مائية في إيران و كم يبلغ طوله بالتقريب؟
(۳) إلى متى تشتعل نار معبد الزرادشتيين في مدينة يزد؟
(۴) كيف استطاع اليزديونَ القدماء توصيل الماء إلى يزد؟

■ عَيِّنِ الْخَطَأَ فِي الْإِعْرَابِ وَ التَّحْلِيلِ الصَّرْفِيِّ لِلْكَلِمَاتِ الْمَعْيِنَةِ فِي النَّصِّ (٩٤ وَ ٩٣):

۹۳- «يُعْوِضُونَ- شَاهِدَةٌ- حَدَدَتْ- تَجَنَّبَ»:

- (۱) يُعْوِضُونَ: فعل مضارع- للغائبين- مزيد ثلاثي من باب «تفعيل»- حروفه الأصلية «ع و ض»/ خبر للفعل الناقص
(۲) شَاهِدَةٌ: اسم الفاعل من مجرد ثلاثي من «شَهِدَ يَشْهَدُ»- مفرد- مؤنث- مُعْرَب- نكرة/ خبر و مرفوع بالضمة
(۳) حَدَدَتْ: فعل ماضٍ- للغائبة- مزيد ثلاثي بزيادة حرفٍ- متعدّد- معلوم/ فعل و فاعله «سهول» و مفعوله «ها»
(۴) تَجَنَّبَ: فعل ماضٍ- للغائب- مزيد ثلاثي من باب «تفعّل» بزيادة حرفين- معلوم/ فعل و فاعل و الجملة فعلية

۹۴- «تَمْتَدُّ- السِّيَّاحُ- تَعَامَلُ- مُشْتَعِلَةٌ»:

- (۱) تَمْتَدُّ: فعلٌ مضارعٌ- مزيد ثلاثي من باب «افتعال» بزيادة حرفين- مصدره «امتداد»- معلوم/ فعل و فاعل
(۲) السِّيَّاحُ: اسم الفاعل من مجرد ثلاثي- جمع التذكير- معرّف بأل- مُعْرَب/ مفعول و منصوب بالفتحة
(۳) التَّعَامَلُ: مصدر مزيد ثلاثي من باب «تفاعل»- مفرد- مذكّر- معرفة/ مجرور بحرف جارٍ و مجرور بالكسرة
(۴) مُشْتَعِلَةٌ: اسم المفعول من مزيد ثلاثي- مفرد- مؤنث- حروفه الأصلية «ش ع ل»/ خبرٌ و مرفوع

■ ■ ■ أَجِبْ عَنِ الْأَسْئَلَةِ التَّالِيَةِ (١٠٠- ٩٥):

۹۵- عَيِّنِ الْخَطَأَ فِي ضَبْطِ الْحَرَكَاتِ:

- (۱) وَ أَمَلًا الصَّدْرَ أَنْشَرَا حَا وَ قَمِي بِالْبِسْمَاتِ!
(۲) وَ أَنْرَ عَقْلِي وَ قَلْبِي بِالْعُلُومِ النَّافِعَاتِ!
(۳) وَ أَمَلًا الدُّنْيَا سَلَامًا شَامِلًا كُلَّ الْجِهَاتِ!
(۴) وَ أَحْمِنِي وَ أَحْمِ بِلَادِي مِنْ شُرُورِ الْحَادِثَاتِ!

۹۶- عین الفاعل مضافاً:

- (۱) عَلَّمَ أَمْسٍ أَحَدَ أَصْدِقَائِي رَجُلًا فِي الصَّفِّ كَيْفِيَّةَ تَلَاوَةِ الْقُرْآنِ بِشَكْلِ صَحِيحٍ!
- (۲) لِلغَرَابِ صَوْتٌ يُحَدَّرُ بِهِ بَقِيَّةَ الْحَيَوَانَاتِ حَتَّى تَبْتَعِدَ سَرِيعًا عَنِ مَنطِقَةِ الْخَطَرِ!
- (۳) عَلَيْكُمْ بِحُسْنِ الْخُلُقِ، لِأَنَّهُ يَرْفَعُ قَدْرَ الْإِنْسَانِ عِنْدَ الْآخَرِينَ وَ غَيْرِهِ!
- (۴) قَدْ كَتَبَ الرَّمَيْلُ الذَّكِيُّ أَحْيَرًا مَقَالَةً عِلْمِيَّةً عَنِ دَوْرِ الْمُعَلِّمِ فِي تَرْبِيَةِ الطُّلَابِ!

۹۷- عین ما یدل علی أن المفعول يقوم بالعمل كثيراً:

- (۱) أَلَّفَ الْعَلَّامَةُ الطَّبَّاطِبَائِي تَفْسِيرَ الْمِيزَانِ بِدَقَّةٍ!
- (۲) أَلَّا تَعَلَّمَ أَنَّ اللَّهَ تَعَالَى هُوَ الْخَلَّاقُ الْعَلِيمُ!
- (۳) شَاهَدُنَا تَلَامِيذَ الْمَدْرَسَةِ فَعَالِينَ فِي آدَاءِ الْوَاجِبَاتِ!
- (۴) إِنَّ الْأَمَّهَاتِ يَجْتَهِدْنَ فِي تَرْبِيَةِ الْأَوْلَادِ مُشْفَقَاتٍ!

۹۸- عین عبارة یترجم بالمضارع الإلزامي:

- (۱) إِنَّ الْمُتَأَمِّلُونَ يَنْتَخِبُونَ الْأَعْمَالَ الْحَسَنَةَ لِأَنَّهُمْ مُؤْمِنُونَ بِرَبِّهِمْ!
- (۲) لَيْتَ هَذَا الطَّالِبُ يَفُوزَ فِي إِمْتِحَانَاتِ آخِرِ السَّنَةِ!
- (۳) لَعَلَّ هَؤُلَاءِ التُّجَّارِ تَعَامَلُوا مَعَ سَائِرِ الْبِلَادِ الْبِضَاعِ الْمُنْتَوَعَةِ!
- (۴) كَأَنَّ أَصْدِقَائِي عَازَمُوا عَلَيَّ مُوَاصِلَةَ الْعَمَلِ لَكِنِّي أَحَدَهُمْ لَمْ يَسْتَطِعْ!

۹۹- عین فعلاً تحقّق كاملاً:

- (۱) وَ مَا عَسَى أَنْ يَفُوزَ الْأَعْبُ فِي الْمُبَارَاةِ؟!
- (۲) أَخَذْتُ أُعْتَذِرُ إِلَى أَخِي مِنْ عَمَلِي الْقَبِيحِ!
- (۳) الْوَلَدُ كَادَ يَهْرَبُ مِنْ شِدَّةِ الْخَوْفِ مِنَ الصَّوْتِ!
- (۴) صَارَ الطَّالِبُ عَالِمًا بَعْدَ تَخْرُجِهِ مِنَ الْجَامِعَةِ!

۱۰۰- في أي عبارة لا يوجد المستثنى منه؟

- (۱) لَمْ يَكُنْ لِلْأَنْبِيَاءِ الْعِظَامُ هَدَفٌ إِلَّا التَّعْلِيمُ!
- (۲) لَا مَنطِقَةَ فِي الْأَرْضِ صَالِحَةً لَهَا إِلَّا هَذِهِ السُّهُولُ!
- (۳) لَيْسَ عِنْدِي مَا يُفِيدُنِي إِلَّا مَوْعِظَةُ أَبِي الْقَدِيمَةِ!
- (۴) إِنِّي مَا رَأَيْتُ الدَّهْرَ مِنْ هَجْرِكَ إِلَّا الْقِيَامَةَ!

مرحله ۱۷ | داوطلب انسانی | تاریخ

محدوده: جامع مطابق محدوده آزمون سراسری سال ۱۴۰۵

وقت پیشنهادی: ۱۰ دقیقه

۱۰۱- کدام گزینیه، از ویژگی‌های محاکم شرع در سازمان قضایی عصر قاجاریه است؟

- (۱) تحت نظارت صدراعظم قرار داشتند.
- (۲) به تخلفات و جرایم سیاسی و امنیتی رسیدگی می‌کردند.
- (۳) طرفین دعوا هزینه‌های رسیدگی را پرداخت می‌کردند.
- (۴) توسط قضات و مأمورانی که از حکومت حقوق می‌گرفتند، اداره می‌شدند.

۱۰۲- شمارش ماه و سال در گاه‌شماری «خورشیدی - قمری بابلی» چگونه بود؟

- (۱) سال خورشیدی و شامل ۱۲ ماه ۳۰ روزه بود و پنج روز اضافی، به آخر ماه دوازدهم اضافه می‌شد.
- (۲) سال شامل ۱۲ ماه ۲۹ یا ۳۰ روزه شمسی بود که هر چهار سال یک بار، ۱۳ ماه می‌شد.
- (۳) سال شامل ۱۲ ماه ۲۹ یا ۳۰ روزه قمری بود که هر سه سال یک بار، ۱۳ ماه می‌شد.
- (۴) سال قمری و شامل ۱۲ ماه ۲۹ یا ۳۰ روزه بود و پنج روز اضافی، به آخر ماه دوازدهم اضافه می‌شد.

۱۰۳- در تیرماه ۱۳۶۷، امام خمینی^(ره) پس از دریافت گزارش‌ها و نظر مشورتی فرماندهان نظامی و مسئولان سیاسی کشور به چه اقدامی در

خصوص جنگ تحمیلی عراق علیه ایران اقدام کردند؟

- (۱) فرمان شکستن محاصره آبادان را صادر کردند.
- (۲) به مسئولان توصیه کردند که جنگ را مسئله اصلی کشور بدانند.
- (۳) به منظور پایان دادن به جنگ تحمیلی، قطعنامه ۵۹۸ شورای امنیت سازمان ملل متحد را پذیرفتند.
- (۴) بنی‌صدر را از مقام فرماندهی کل قوا عزل کردند.

۱۰۴- کدام مورد، از ویژگی‌های دوران سلطنت نادرشاه افشار است؟

- (۱) تلاش‌های نادر، موجب برقراری صلح با عثمانی و حل اختلافات مذهبی با این دولت شد.
- (۲) نهادهای اداری در عصر حکومت نادر رونق چندانی نداشتند.
- (۳) نادر به‌عنوان پادشاه توفیق یافت که زمینه را برای ثبات و امنیت پایدار، فراهم کند.
- (۴) بخش عمده‌ای از دوران سلطنت نادرشاه، در جنگ با روسیه و عثمانی سپری شد.

- ۱۰۵- کدام گزینه شامل دو نمونه از مشهورترین کتاب‌های تک‌نگاری است و این نوع تاریخ‌نگاری از چه دورانی به بعد مرسوم شد؟
- (۱) تاریخ رویان - تاریخ گزیده - غزنویان
(۲) التاجی فی الاخبار الدولة الیدلمیه - تاریخ بیهقی - تیموریان
(۳) تاریخ عالم آرای عباسی - تاریخ سیستان - غزنویان
(۴) فتوحات شاهی - عجائب المقدور فی نواب تیمور - تیموریان

۱۰۶- کدام گزینه، درباره وضعیت کشاورزی ایران در عصر قاجار درست است؟

- (۱) مناسبات حاکم بر بخش کشاورزی، شیوه‌ها و ابزارهای تولید (تکنولوژی) این بخش دچار تغییر و تحول اساسی شد.
(۲) کشاورزی ایران اواخر قرن نوزدهم و اوایل قرن بیستم میلادی مانند گذشته یک کشاورزی معیشتی بود.
(۳) تجاری شدن کشاورزی ایران موجب مشارکت روزافزون تجار ایرانی و خارجی در صدور تولیدات برخی از محصولات کشاورزی شد.
(۴) در آستانه جنگ جهانی اول، به دلیل ورود بی‌رویه محصولات کشاورزی خارجی خصوصاً پنبه، در آستانه نابودی قرار گرفت.
- ۱۰۷- به کدام دلیل در دوره قاجار، برخی از روزنامه‌نگاران در خارج از کشور اقدام به نشر روزنامه‌هایی به زبان فارسی کردند؟ نمونه این روزنامه‌ها چه نام داشت؟

- (۱) وجود امکانات بیشتر برای چاپ و انتشار روزنامه در برخی کشورها - قانون
(۲) ماهیت استبدادی حکومت قاجار و نبود آزادی بیان - حیل‌المتین
(۳) تأثیرگذاری بر سیاست استعماری قدرت‌های جهانی در قبال ایران - قانون
(۴) آشنایی مردم دیگر کشورها با ایران و ترویج زبان فارسی - حیل‌المتین

۱۰۸- به ترتیب نبرد «عین جالوت» بین مغولان و کدام حکومت اتفاق افتاد و به چه نتیجه‌ای انجامید؟

- (۱) مملوکان مصر - شکست مغولان
(۲) خلافت عباسی - پیروزی مغولان
(۳) خلافت عباسی - شکست مغولان
(۴) مملوکان مصر - پیروزی مغولان

- ۱۰۹- بخشی از مقدمه کتاب «العبر» ابن خلدون اندیشمند مسلمان تونس، به کدام یک از موضوعات زیر اختصاص دارد - وی در چه قرنی می‌زیست؟

- (۱) تأثیر پدیده‌های محیطی بر شکل‌گیری حکومت‌ها - ۷ هج
(۲) تأثیر جغرافیا و اقلیم بر تاریخ، اخلاق و رفتار آدمیان - ۸ هج
(۳) ارائه فرمول‌های گوناگون برای تطبیق تقویم‌ها - ۷ هج
(۴) تحلیل رویدادهای تاریخی براساس زمان وقوع آن‌ها - ۸ هج

- ۱۱۰- پس از آنکه سران قریش در جلب رضایت ابوطالب برای دست برداشتن از حمایت رسول خدا ﷺ ناکام ماندند، برای مقابله با دعوت پیامبر ﷺ به کدام روش روی آوردند؟

- (۱) شکنجه و آزار نومسلمانان را شدت بخشیدند.
(۲) ازدواج و ارتباط اقتصادی با بنی‌هاشم را ممنوع کردند.
(۳) تهمت سحر و جادوگری به پیامبر ﷺ وارد آوردند.
(۴) تصمیم به قتل پیامبر خدا ﷺ گرفتند.

۱۱۱- هدف معاویه از توسعه نیروی دریایی و گسترش فتوحات در دریا چه بود؟

- (۱) فتح جزایر دریای مدیترانه و پایان دادن به حاکمیت مطلق رومیان بر آن دریا
(۲) ایجاد برتری برای امویان در رقابت تجاری با روم
(۳) محاصره کردن قسطنطنیه از راه دریا و فشار بر امپراتوری روم
(۴) افزایش قدرت دریایی برای رسیدن به جنوب فرانسه

- ۱۱۲- با کدام واقعه در ۲۹ اسفند ۱۳۲۹ ش، جنبش ضداستعماری ملت ایران در گام نخست به پیروزی رسید؟

- (۱) انتخاب دکتر محمد مصدق به نخست‌وزیری
(۲) تصویب لایحه ملی شدن صنعت نفت در مجلس شورای ملی
(۳) صدور رأی در دیوان بین‌المللی لاهه به سود کشور ما و علیه دولت انگلستان
(۴) تصویب لایحه ملی شدن صنعت نفت در مجلس سنا

۱۱۳- باستان‌شناسان درباره کدام یک از گزاره‌های مربوط به انسان پیش از تاریخ، توافق ندارند؟

- (۱) صدها هزار سال پیش، بشر موفق به ساخت ابزارهای سنگی بسیار ساده و ابتدایی شد.
(۲) در عصر نوسنگی کشت غلات و رام کردن جانوران در بیشتر نقاط جهان رواج یافت.
(۳) ابداع کشاورزی به دست بشر، پیش از اهلی کردن حیوانات اتفاق افتاده است.
(۴) اعتقادات انسان‌های اولیه با مشکلات و مخاطرات زندگی آنان ارتباط داشته است.

۱۱۴- متن زیر با کدام گزینه ارتباط دارد؟

«آب‌وهوای استان‌های هرمزگان و جنوب سیستان و بلوچستان گرم و شرجی است.»

- (۱) به دلیل سنگینی و فرونشینی هوا، کمربند کم‌فشار جنب حاره‌ای تشکیل می‌شود و این منطقه دارای آب‌وهوای گرم و شرجی است که مانع از صعود هوا می‌شود.
- (۲) در عرض‌های جغرافیایی که به خط استوا نزدیک‌ترند، زاویه تابش خورشید هنگام ظهر نزدیک به عمود است؛ به همین دلیل در این نواحی مقدار تابش خورشید بیشتر است.
- (۳) از دریافت نامساوی انرژی خورشید بر سطح زمین مناطق گرم، معتدل و سرد پدید می‌آید. هرچه از استوا به سمت عرض‌های جغرافیایی بالاتر حرکت کنیم دمای هوا کاهش می‌یابد.
- (۴) فشار هوا در یک مکان، متغیر است و کم یا زیاد می‌شود. پراکندگی کانون‌های فشار بر روی کره زمین از عوامل مهم گردش عمومی هوا و تغییرات آب‌وهوای نواحی است.

۱۱۵- همه عبارت‌ها، مفهوم درستی از «نقش شهرها» بیان می‌کنند، به جز

- (۱) نقش سکونتگاه‌ها در طول زمان تغییر می‌کند و یا تکامل و توسعه می‌یابد.
- (۲) اغلب سکونتگاه‌ها چند نقش دارند و این نقش‌ها را با هم ایفا می‌کنند.
- (۳) سیمای دو سکونتگاه با نقش یکسان، شبیه یکدیگر است.
- (۴) نقش هر سکونتگاه بر اساس وضعیت طبیعی آن تعیین می‌شود.

۱۱۶- کدام گزاره درباره «صنایع مربوط به فلزات اساسی» درست است؟

- (۱) بخش زیادی از صادرات غیرنفتی کشور را پوشش می‌دهد.
- (۲) صنایع خودروسازی بعد از نفت و گاز، بزرگ‌ترین بخش صنعتی کشور به‌شمار می‌رود.
- (۳) صنایع دفاعی وظیفه طراحی و تولید تجهیزات فلزی برای نیروهای مسلح را عهده‌دار است.
- (۴) بیشترین شاغلان صنایع پتروشیمی متعلق به استان‌های یزد، کرمان و اصفهان است.

۱۱۷- کدام گزینه در ارتباط با قلعه‌های هزارمسجد و آلاداغ درست است؟

- (۱) دارای دیوارهای بلند با دره‌های موازی به طول صدها کیلومتر
- (۲) جهت شمالی- جنوبی در منطقه آذربایجان تا شمال شرقی ایران
- (۳) دارای شکل منظم و موازی در شمال شرقی ایران
- (۴) در امتداد غربی به شرقی از کوه‌های شاه‌کوه تا گردنه خوش‌بیلاق

۱۱۸- در طبقه‌بندی کوپن، ویژگی دمایی گروه آب‌وهوایی «B» و «C» به ترتیب کدام است؟

- (۱) میانگین سردترین ماه زیر 3°C - است- هیچ ماهی سردتر از 18°C + نیست.
- (۲) اختلاف دما زیاد است- میانگین سردترین ماه بین 18°C + تا 3°C - است.
- (۳) هیچ ماهی بیش از 10°C نیست- میانگین سردترین ماه زیر 3°C - است.
- (۴) میانگین سردترین ماه بین 18°C + تا 3°C - است- دامنه دما زیاد است.

۱۱۹- کدام یک از عبارات زیر درست هستند؟

- (الف) در دامنه‌های کم‌شیب، ضخامت خاک کمتر است؛ بنابراین این دامنه‌ها کمتر می‌توانند آب را در خود نگه دارند.
- (ب) عاملی که خانه‌سازی و فعالیت‌های کشاورزی در کوهستان‌ها را با مشکل مواجه می‌کند، شیب زمین و محدودیت خاک است.
- (ج) با افزایش ارتفاع، تعداد گونه‌های گیاهی، کمتر و قد آن‌ها، کوتاه‌تر می‌شود و درجه رشد گیاهان و فصل رویش آن‌ها نیز کاهش می‌یابد.
- (د) علت اصلی تفاوت زیست‌بوم‌ها از نظر میزان تولید ترکیبات آلی و توده زیستی، نوع خاک، ارتفاع و جهت ناهمواری‌ها است.
- (ه) سرعت رشد پوشش گیاهی با میزان تولید ماده آلی رابطه‌ای معکوس دارد؛ یعنی با افزایش سرعت رشد پوشش گیاهی، میزان تولید ماده آلی کاهش خواهد یافت.

- (۱) «الف»- «ب» (۲) «ج»- «ه» (۳) «الف»- «د» (۴) «ب»- «ج»

۱۲۰- هر کدام از عبارات زیر مصداق کدام نوع از نهادهای تجاری است؟

- ایجاد در مجاورت بنادر مهم
 - کاهش مالیات‌ها و تعرفه‌های گمرکی
 - صادرات و واردات بدون پرداخت حقوق گمرکی
 - امضای موافقت‌نامه اقتصادی- تجاری
- (۱) اتحادیه‌های اقتصادی- تجاری منطقه‌ای / مناطق آزاد تجاری / اتحادیه‌های اقتصادی- تجاری منطقه‌ای / اتحادیه‌های اقتصادی- تجاری منطقه‌ای
 - (۲) اتحادیه‌های اقتصادی- تجاری منطقه‌ای / اتحادیه‌های اقتصادی- تجاری منطقه‌ای / مناطق آزاد تجاری / مناطق آزاد تجاری
 - (۳) مناطق آزاد تجاری / اتحادیه‌های اقتصادی- تجاری منطقه‌ای / مناطق آزاد تجاری / اتحادیه‌های اقتصادی- تجاری منطقه‌ای
 - (۴) مناطق آزاد تجاری / مناطق آزاد تجاری / اتحادیه‌های اقتصادی- تجاری منطقه‌ای / مناطق آزاد تجاری

۱۲۱- کدام گزینه به ترتیب حاوی گزاره‌های درستی درباره دریاى سرزمینی، آب‌های آزاد و آب‌های داخلی است؟

- (الف) همه کشورها در آن دارای حق عبور و مرور بدون ضرر هستند.
 (ب) پایین‌ترین حد جزر در دریا است.
 (ج) به آب‌های پشت خط مبنا به سمت ساحل می‌گویند.
 (د) تحقیقات در آن برای همه کشورها آزاد است.
 (ه) به شرط آنکه مخل دریاوردی بین‌المللی نباشند، امکان فعالیت نظامی و کشتی‌رانی در آن وجود دارد.
 (و) کشور مجاور دریا مالک آن است.

- (۱) «ب»، «ه» و «و»
 (۲) «و»، «ج» و «ب»
 (۳) «الف»، «ه» و «ج»
 (۴) «ج»، «الف» و «د»

۱۲۲- کدام عبارات در رابطه با خشک‌سالی درست است؟

- (الف) خشک‌سالی به‌طور کلی در منطقه خشک و نیمه‌خشک اتفاق می‌افتد.
 (ب) اگر میزان بارش در یک منطقه از حد میانگین بارندگی سالانه آن منطقه کمتر باشد، می‌توان گفت خشک‌سالی آب‌وهوایی اتفاق افتاده است.
 (ج) در خشک‌سالی زراعتی، میزان ریزش‌های جوی کمتر از میانگین بارش منطقه است.
 (د) یکی از خشک‌سالی‌های شدید که در سال ۱۳۴۶-۱۳۴۵ در شرق ایران در جنوب خراسان و سیستان و بلوچستان رخ داد، سبب قحطی شد.

- (۱) «الف» - «ب»
 (۲) «ب» - «ج»
 (۳) «ج» - «د»
 (۴) «ب» - «د»

۱۲۳- کدام گزینه معایب نقشه‌های سنتی و کاغذی برای مدیریت و تجزیه و تحلیل اطلاعات مکانی و جغرافیایی را به‌درستی نشان می‌دهد؟

- (۱) داده‌ها بیشتر به‌صورت توصیفی بود و امکان تبدیل آن به‌صورت رقمی وجود نداشت.
 (۲) گنجایش حجم اطلاعات و بازیابی و نمایش ارتباطات متعدد پدیده‌ها را نداشتند.
 (۳) در قالب و لایه‌های جداگانه ترسیم شده بودند و امکان ترکیب و تحلیل را نداشتند.
 (۴) توانایی محاسبات آماری و ریاضی را نداشتند و امکان هم‌پوشانی اطلاعات وجود نداشت.

۱۲۴- کدام گزینه درباره مقایسه اثر وضعیت بارش در احتمال وقوع سیل و زمین‌لغزش در یک شهر پایکوهی در هر یک از روزهای A و B درست است؟

A ← بارش به میزان ۲۵ میلی‌متر طی ۲ ساعت

B ← بارش به میزان ۲۵ میلی‌متر طی ۲۴ ساعت

- (۱) احتمال وقوع سیل و زمین‌لغزش، هر دو، در روز «A» بیشتر است.
 (۲) در روز «A» احتمال وقوع سیل و در روز «B» احتمال وقوع زمین‌لغزش بیشتر است.
 (۳) در روز «A» احتمال وقوع زمین‌لغزش و در روز «B» احتمال وقوع سیل بیشتر است.
 (۴) احتمال وقوع سیل و زمین‌لغزش، هر دو، در روز «B» بیشتر است.

۱۲۵- همه گزینه‌ها به استفاده از «سنجش از دور» در مطالعات مخاطرات طبیعی اشاره دارند؛ به‌جز

- (۱) به پیش‌بینی جهت حرکت سامانه‌های باران‌زا و زمان دقیق رسیدن آن‌ها به هر منطقه از چند روز قبل کمک می‌کند.
 (۲) به کمک آن می‌توان دستورالعمل‌های دقیقی برای تعیین مرز استقرار سکونتگاه‌ها در اطراف رودخانه‌ها تدوین نمود.
 (۳) به کوهنوردی، عملیات امداد و نجات در حوادث مختلف مانند زمین‌لرزه و سیل، ردیابی و کنترل ترافیک کمک می‌کند.
 (۴) به کمک آن می‌توان جابه‌جایی مواد سطح دامنه‌ها و حرکت توده‌های زمین‌لغزش را به‌طور دقیق اندازه‌گیری کرد.

مرحله ۱۷ | داوطلب انسانی | فلسفه و منطق

محدوده: جامع مطابق محدوده آزمون سراسری سال ۱۴۰۵

وقت پیشنهادی: ۲۰ دقیقه

۱۲۶- در کدام گزینه واقعیت داشتن یا نداشتن مفهوم، برای ما مهم نیست؟

- (۱) برو ای گدای مسکین در خانه علی علیه السلام زن
 (۲) نرود میخ آهنین در سنگ
 (۳) گل همین پنج روز و شش باشد
 (۴) توانا بود هر که دانا بود

۱۲۷- در کدام گزینه رابطه بین مفاهیم بیان شده، «عموم و خصوص مطلق» است؟

- (۱) شهر - تبریز
 (۲) مرد - راننده
 (۳) بیت - مصرع
 (۴) نسبت‌های چهارگانه - تباین

۱۲۸- کدام گزینه نقد مناسب‌تری برای استدلال زیر است؟

«به رقبای خود امید نداشته باشید؛ نفت برای خاموش کردن آتش کاربرد ندارد.»

- (۱) از خلاف‌آمد عادت بطلب کام که من
- (۲) خمیرمایه دکان شیشه‌گر سنگ است
- (۳) دشمن دانا بلندت می‌کند
- (۴) رقیب، آزارها فرمود و جای آشتی نگذاشت

۱۲۹- از صدق قضیه «دست بالای دست بسیار است» صدق کدام گزینه نتیجه می‌شود؟

- (۱) متداخل «هر دست بالایی دستی، دست است.»
- (۲) متضاد «هیچ دستی، دست بالایی دست نیست.»
- (۳) متداخل «بعضی دست‌ها بالایی دست‌های بسیار است.»
- (۴) نقیض «هیچ دستی بالایی دست‌های بسیار نیست.»

۱۳۰- مغالطه استدلال زیر، شبیه مغالطه کدام گزینه است؟

«همه کانگوروهای وحشی می‌پزند. هر پرنده‌ای تخم‌گذاری می‌کند؛ پس تمام کانگوروهای وحشی تخم‌گذاری می‌کنند»

- (۱) علی سیر است. سیر از سبزیجات است؛ پس علی از سبزیجات است.
- (۲) سرکه از انگور است. انگور از میوه‌ها است؛ پس سرکه از میوه‌ها است.
- (۳) جیوه فلز است. فلز جامد است؛ پس جیوه جامد است.
- (۴) دیوار موش دارد. موش گوش دارد؛ پس دیوار گوش دارد.

۱۳۱- در کدام گزینه مغالطه رخ داده و نام آن درست نوشته شده است؟

- (۱) نظر انسان‌ها معیار خوبی و بدی است. خوبی و بدی، شخصی است. پس نظر انسان‌ها، شخصی است. (اشتراک لفظ)
 - (۲) اگر آسمان ابری نباشد می‌توان ستاره‌ها را دید. اما ستاره‌ای را نمی‌توان دید. پس آسمان ابری است. (رفع تالی)
 - (۳) بعضی انسان‌ها سیاه‌پوست‌اند و بعضی سیاه‌پوست‌ها آفریقایی‌اند. پس بعضی انسان‌ها آفریقایی‌اند. (عدم رعایت شرایط اعتبار قیاس)
 - (۴) اگر دست‌به‌دست هم دهیم کشور خویش را آباد می‌کنیم. دست‌به‌دست هم نداده‌ایم. پس کشور خویش را آباد نمی‌کنیم. (وضع مقدم)
- ۱۳۲- آنگاه که مقدمات استدلال را به گونه‌ای می‌چینیم که مخاطب نتواند نتیجه را بر اساس گمان خود پیش‌بینی کند، شرایط را برای کدام کاربرد استدلال مهیا کرده‌ایم؟

- (۱) خطابه
- (۲) درک حقیقت
- (۳) غلبه بر دیگران
- (۴) اقناع مخاطب

۱۳۳- کدام گزینه یک پرسش فلسفی است؟

- (۱) آیا بشر در تخریب زمین مقصر است؟
- (۲) ریشه تناقض بین گفتار و عمل در کجاست؟
- (۳) چرا اتم‌های تشکیل‌دهنده یک جسم قابل دیدن نیستند؟
- (۴) اولین کسی که فلسفه را به فلسفه نظری و عملی تقسیم کرد که بود؟

۱۳۴- فلسفه هرکس معنادهنده به زندگی اوست، چون

- (۱) اندیشیدن فیلسوفانه لازمه زندگی هر انسانی است.
- (۲) باورهای اساسی درباره زندگی، تعیین‌کننده اهداف زندگی هستند.
- (۳) بدون فلسفه و تفکر فلسفی زندگی بی‌معنا و پوچ است.
- (۴) فلسفه، به بررسی زندگی انسان و معنای آن می‌پردازد.

۱۳۵- درباره مبانی علوم تجربی کدام گزینه درست است؟

- (۱) قواعدی عقلی و استدلالی‌اند که مبتنی بر شناخت‌های تجربی انسان هستند.
 - (۲) قواعدی مهم و اساسی‌اند که منشأ و ابزار تجربه و مقدمه کشف قوانین علوم تجربی هستند.
 - (۳) قواعدی عقلی هستند که در علوم تجربی بررسی نمی‌شوند بلکه دانشمندان آن‌ها را پیش‌فرض می‌گیرند.
 - (۴) قواعدی‌اند که دانشمندان علوم تجربی آن‌ها را بررسی عقلی می‌کنند و در تحلیل داده‌های حسی به آن‌ها توجه دارند.
- ۱۳۶- درباره این نظر پروتاگوراس که «اشیاء هر طوری که در هر نوبت به نظر می‌آیند، در آن نوبت همان‌طور هستند». کدام گزینه توضیح دقیق‌تری دارد؟

- (۱) حقیقت، امری یکسان است ولی برداشت انسان‌ها از آن متفاوت است.
- (۲) حقیقت جنبه شخصی و ثابت دارد؛ بنابراین برای هر فرد امری جداگانه است.
- (۳) در برخی موارد شناخت‌ها نسبی است و شناخت هرکس برای خودش معتبر است.
- (۴) از نظر کیفیت حقایق و نه واقعیت خارجی، دیدگاه نسبی‌گرایان اروپایی درست است.

۱۳۷- کدام گزینه درباره دیدگاه فلاسفه مسلمان پیرامون فعل اخلاقی درست است؟

- (۱) عقل، از آن جهت که رفتار خوب و بد انسان را تشخیص می‌دهد، عقل نظری نام دارد.
- (۲) دیدگاه آن‌ها نزدیک به افلاطون و ارسطو است، و عقل را منبع شناخت فضیلت و رذیلت می‌دانند.
- (۳) رذایل همواره لذت‌بخش هستند و به انسان گاهی احساس نشاط می‌دهند. اما باید در پی فضایل بود.
- (۴) انسان‌ها برای سوق‌پیدا کردن به سمت فضایل، تنها یک پشتوانه لازم دارند: علاقه فطری به کسب فضایل.

۱۳۸- از اینکه «کلاغ می تواند موجود باشد و می تواند موجود نباشد» کدام گزینه قابل استنتاج است؟

- (۱) کلاغ، ممکن الوجود بالغیر است.
- (۲) کلاغ ذاتاً واجب الوجود نیست، اما واجب الوجود بالغیر است.
- (۳) حمل چیستی و ذاتیات کلاغ بر خودش به دلیل نیاز ندارد.
- (۴) میان «چیستی» کلاغ و «وجود» آن، رابطه جدایی ناپذیر برقرار نیست.

۱۳۹- کدام گزینه بر طبق اصل «وجوب علی و معلولی» درست است؟

- (۱) هر واجب الوجودی ضرورتاً موجود است.
- (۲) تخلف معلول از علت ضرورتاً محال است.
- (۳) علت ضرورتاً معلول خاص خود را دارد.
- (۴) هر پدیده‌ای ضرورتاً در پی علتی ایجاد می شود.

۱۴۰- مفهوم رایج اتفاق در کدام گزینه به معنای انکار اصل علیت یا یکی از لوازم و فروع آن نیست؟

- (۱) برخورد دو اتومبیل در جاده اتفاقی است.
- (۲) رفع گرسنگی بعد از خوردن غذا اتفاقی است.
- (۳) سازگاری بعضی حیوانات با محیط اتفاقی است.
- (۴) وجود کره زمین در عالم هستی، اتفاقی است.

۱۴۱- از نظر ابن سینا کدام مورد سبب بقای انسان است؟

- (۱) عشق و محبت فطری ناشی از حقیقت وجود
- (۲) جاذبه عشق الهی اختصاص یافته به انسان
- (۳) ودیعت الهی که آسمان بار آن را نتوانست بکشد
- (۴) امکان ذاتی واجب شده از سوی غیر

۱۴۲- در مقایسه دیدگاه «دکارت» و «اوگوست کنت» نسبت به کارکرد عقل، کدام عبارت درست است؟

- (۱) دکارت برخلاف اوگوست کنت معتقد بود از طریق استدلال‌های عقلی محض، امور ناظر به واقعیت و غیرذهنی قابل اثبات است.
- (۲) دکارت کارکرد عقل منطقی و محض را در حوزه‌های مختلف قبول داشت، اما کنت کارکرد این عقل را در هیچ حوزه‌ای نمی پذیرفت.
- (۳) اوگوست کنت معتقد بود کارکرد عقل، ذهنی است و ارتباطی با عالم واقعیت ندارد برخلاف دکارت که به همه توانایی‌های عقل توجه داشت.
- (۴) از نظر اوگوست کنت عقل در شناخت نقشی ندارد و صرفاً با روش تجربی هر واقعیتی را می توان شناخت، اما دکارت بر شناخت عقلی تأکید داشت.

۱۴۳- کدام گزینه از منظر شیخ الرئیس، درباره مبدأ کل جهان هستی، نادرست است؟

- (۱) پادشاه راستینی که ذات هر چیزی از اوست و همه چیزهای دیگر بنده و مملوک اوست.
- (۲) ذات هر چیزی یا از او پدید آمده یا از چیزی پدید آمده که خداوند آن را به وجود آورده است.
- (۳) پادشاه راستین آن توانگر و بی نیاز مطلق است که هیچ چیز در هیچ چیز از او بی نیاز نیست.
- (۴) مبدأ کل جهان هستی پادشاه راستینی است که کل جهان را بی نیاز مطلق خلق کرده است.

۱۴۴- درباره طریق اثبات وحدت وجود از سوی ملاصدرا می توان گفت:

- (۱) قدم بلندی که او در مسیر اثبات فلسفی وحدت وجود عرفانی برداشت، به طور کامل از ابتکارات و ابداعات خاص خودش بود.
- (۲) او راه ابن سینا را تکمیل کرد یعنی بر مبنای دیدگاه ابن سینا با برداشتن یک قدم فلسفی یعنی اصالت وجود، به نتیجه رسید.
- (۳) این بحث ابن سینا را که وجود وجه مشترک و ماهیت وجه تمایز اشیاست، کنار گذاشت و در عوض از اصالت وجود بهره برد.
- (۴) قدم کوتاهی که او برداشت تا بر مبنای اصالت وجود، وحدت وجود را اثبات نماید، در دیدگاه‌های ابن سینا هم وجود داشت.

۱۴۵- ساختار و نظام فکری هر فردی به مانند

- (۱) ریشه یک درخت است که نتایج فلسفی به دست آمده توسط آن فرد، تنه اصلی درخت را تشکیل می دهد و نتایج علمی به منزله شاخه‌های درخت‌اند.
- (۲) ریشه یک درخت است که به میزانی که آن ریشه کم‌عیب باشد، افکاری مثل نگاه وی به زندگی که به منزله شاخ و برگ است، نیز کم‌عیب خواهد بود.
- (۳) یک درخت است که مبنای فلسفی پذیرفته شده توسط آن فرد به منزله ریشه آن درخت می باشد و استحکام ریشه، موجب استحکام شاخه‌ها خواهد شد.
- (۴) یک درخت است که حیات و شادابی آن، وابسته به زمین حیات عقلی و فلسفی است و میوه آن، نگاه درست به زندگی و خانواده و سیاست خواهد بود.

۱۴۶- آقای قاضی زاده تصمیم به راه اندازی یک کسب و کار شخصی دارد، گزینه های پیش روی او عبارت اند از:

- راه اندازی کارگاه پارچه بافی که هزینه ها و درآمد آن به ترتیب ۱۳۰۰ و ۱۸۵۰ میلیون تومان است.
- راه اندازی کارگاه دوخت لباس ورزشی که هزینه ها و درآمد آن به ترتیب ۷۵۰ و ۱۸۰۰ میلیون تومان است.
- راه اندازی فروشگاه لوازم بدنسازی و ورزشی که هزینه ها و درآمد آن به ترتیب ۱۶۰۰ و ۲۳۵۰ میلیون تومان است.

با در نظر گرفتن قانون بررسی منافع و هزینه های تولید، به ترتیب:

(الف) سود حاصل از انتخاب او کدام است؟

(ب) هزینه فرصت او کدام است؟

(ج) ویژگی مربوط به کسب و کار او، در کدام گزینه به درستی مطرح شده است؟

(۱) الف) ۱۳۰۰ میلیون تومان درآمد فروشگاه لوازم بدنسازی و ورزشی

(ب) ۵۰۰ میلیون تومان تفاضل درآمد فروشگاه لوازم بدنسازی و کارگاه پارچه بافی

(ج) در این نوع کسب و کار، فقط یک بار مالیات بر درآمد پرداخت می شود و این موضوع، یک مزیت است.

(۲) الف) ۱۰۵۰ میلیون تومان سود کارگاه دوخت لباس ورزشی

(ب) ۷۵۰ میلیون تومان سود فروشگاه لوازم ورزشی و بدنسازی

(ج) مسئولیت نامحدود فرد در مقابل بدهی ها و دعاوی، از معایب کسب و کار او است.

(۳) الف) ۱۰۵۰ میلیون تومان سود کارگاه دوخت لباس ورزشی

(ب) ۱۳۰۰ میلیون تومان، مجموع سود کارگاه پارچه بافی و فروشگاه لوازم بدنسازی

(ج) مشکل در تصمیم گیری به دلیل عدم وجود شریک، یکی از معایب این نوع کسب و کار است.

(۴) الف) ۱۳۰۰ میلیون تومان درآمد کارگاه پارچه بافی

(ب) ۶۰۰ میلیون تومان تفاضل سود انتخاب اول و دوم

(ج) راه اندازی آسان و هزینه های نسبتاً کم، از مزایای راه اندازی این نوع کسب و کار است.

۱۴۷- در رابطه با تأسیس یک «شرکت سهامی»، کدام گزینه کاملاً صحیح است؟

(۱) دولت برای شرکت ها قوانینی دارد تا به سرمایه گذاران اطمینان بدهد و کمک کند تا فریب نخورند؛ پذیرش و عمل به چنین قوانینی زمان بر و پرهزینه است و به مشاوره های حقوقی نیاز دارد. / برای تشکیل شرکت، حضور وکیل الزامی است تا به شما برای تکمیل اساسنامه شرکت و سایر اسناد مورد نیاز کمک کند. / اساسنامه شرکت نیز باید بیان کند که شرکت برای چه کسب و کاری تشکیل شده است و سهام آن، چه میزان است، اما چگونگی تقسیم سود و زیان در اختیار سهامداران است که در رابطه با آن باید توافق صورت گیرد. / مسئولیت شرکا در این نوع از کسب و کار محدود به میزان سهام هر عضو است.

(۲) دولت برای شرکت ها قوانینی دارد تا به سرمایه گذاران اطمینان بدهد و کمک کند تا فریب نخورند که پذیرش و عمل به چنین قوانینی زمان بر و پرهزینه است. / برای تشکیل شرکت ممکن است به وکیل نیاز باشد تا برای تکمیل اساسنامه شرکت و سایر اسناد مورد نیاز کمک کند. / اساسنامه شرکت باید بیان کند که شرکت برای چه کسب و کاری تشکیل شده است؛ سهام آن، چه میزان است؛ چگونه شرکت سرمایه اولیه خود را تأمین می کند؛ چگونه سود و زیان تقسیم می شود و... / مسئولیت شرکا در این نوع از کسب و کار محدود به میزان سهام است.

(۳) در خصوص شرکت ها قوانینی توسط دولت وضع شده تا به سرمایه گذاران کمک کند تا فریب نخورند که پذیرش و عمل به چنین قوانینی زمان بر و پرهزینه است و به مشاوره های مالی نیاز دارد. / برای تشکیل شرکت لازم است که یک وکیل برای تکمیل اساسنامه شرکت و سایر اسناد مورد نیاز کمک کند. / شراکت نامه شرکت باید بیان کند که شرکت برای چه کسب و کاری تشکیل شده است؛ سهام آن، چه میزان است و چگونه تقسیم و فروخته می شود؛ چگونه شرکت سرمایه اولیه خود را تأمین می کند و چگونه سود و زیان تقسیم می شود؛ سهامداران چه حقوق و مسئولیت هایی در شرکت دارند؛ چگونه منحل می شود و... / مسئولیت شرکا (در مقابل بدهی ها و دعاوی) در این نوع از کسب و کار نامحدود است.

(۴) برای تشکیل شرکت حضور وکیل الزامی نیست؛ اما گاهی برای تکمیل اساسنامه شرکت و سایر اسناد ممکن است نیاز به کمک او باشد. / شراکت نامه باید بیان کند که شرکت برای چه کسب و کاری تشکیل شده است و سهام آنچه میزان است و چگونه تقسیم و فروخته می شود؛ سهام داران چه حقوق و مسئولیت هایی دارند و... / دولت برای شرکت ها قوانینی وضع کرده است که عمل به آن ها زمان بر و پرهزینه است و به مشاوره های حقوقی نیاز دارد. / مسئولیت شرکا در این نوع از کسب و کار نامحدود است.

محل انجام محاسبات:

۱۴۸- مجموع دارایی یک شرکت تولیدی «لامپ کم مصرف»، ۲۰ میلیون تومان می‌باشد. با توجه به داده‌های جدول:

مالک	سهام هر یک از سهامداران	درصد مالکیت
علی	?	۲۰٪
احمد	۵ میلیون تومان	?

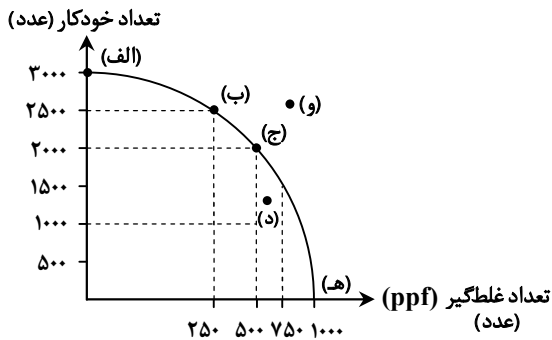
الف) سهم علی به‌عنوان یکی از سهامداران چقدر است؟

ب) احمد مالک چند درصد از شرکت می‌باشد؟

ج) کدام یک از سهامداران در منافع و مسئولیت‌های شرکت، بیشتر سهام است؟

- ۱) الف) ۴ میلیون تومان (ب) ۲۵٪ (ج) احمد
 ۲) الف) ۱۰ میلیون تومان (ب) ۳۵٪ (ج) علی
 ۳) الف) ۱۰ میلیون تومان (ب) ۲۵٪ (ج) علی
 ۴) الف) ۴ میلیون تومان (ب) ۳۵٪ (ج) احمد

۱۴۹- با توجه به منحنی مرز امکانات تولید روبه‌رو برای تولید خودکار و غلطگیر در یک کارخانه، به سؤالات زیر پاسخ دهید:

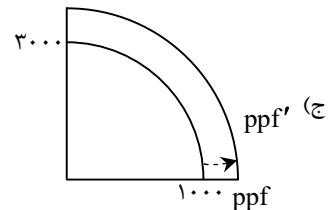


الف) هزینه فرصت حرکت از نقطه «ج» به «ب» برای این کارخانه چیست؟

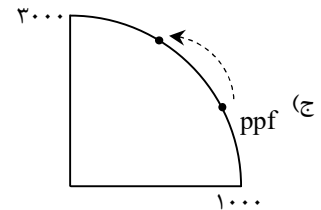
ب) در رابطه با نقطه «د» نمی‌توان گفت:

ج) کدام منحنی نشانگر تغییر در شرایط افزایش منابع است؟

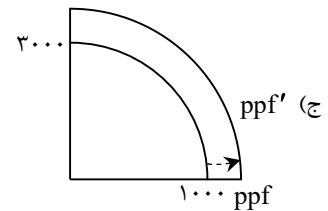
- ۱) الف) ۵۰۰ عدد خودکار (ب) به‌طور کلی بهتر است کارخانه به‌جای تولید در درون مرز امکانات تولید، بر روی مرز امکانات تولید کند.



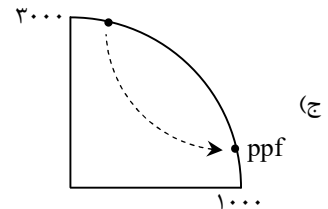
۲) الف) ۵۰۰ عدد خودکار (ب) در این نقطه این امکان وجود دارد که حداقل بیش از یک کالا تولید شود، بدون آنکه از تولید کالاهای دیگر کاسته شود.



۳) الف) ۲۵۰ عدد غلطگیر (ب) چنانچه برخی منابع این کارخانه غیرفعال باشند، باید منابع از تولید یک کالا به کالای دیگر منتقل شود.



۴) الف) ۲۵۰ عدد غلطگیر (ب) چنانچه برخی منابع این کارخانه غیرفعال باشند، باید منابع از تولید یک کالا به کالای دیگر منتقل شود.



محل انجام محاسبات:

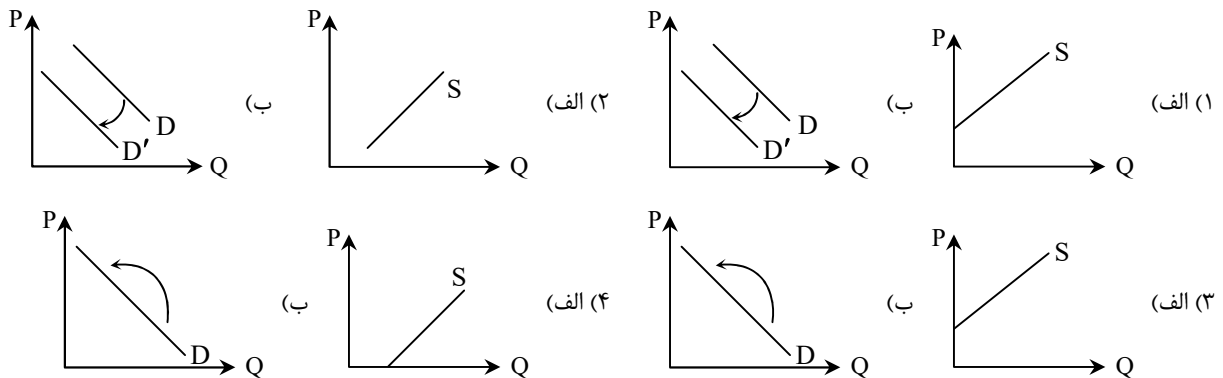
۱۵۰- چند مورد از عبارت‌های زیر درست است؟

- دولت سالیانه بخشی از درآمد موردنیاز خود را از طریق ایجاد بدهی تأمین می‌کند؛ یعنی از مردم قرض می‌گیرد یا آن‌ها را در طرح‌های عمرانی و سرمایه‌گذاری‌های دولت شریک می‌کند و از محل سود این طرح‌ها، سودی بین آن‌ها تقسیم می‌کند.
- در بازار رقابتی، در عمل هریک از طرفین به تنهایی در شکل‌گیری قیمت تأثیرگذار و به عبارت دیگر قیمت‌گذار هستند و بازار محصولاتی چون ماکارونی، مثالی برای این نوع بازار است.
- وقتی تولید ناکارا باشد این امکان وجود دارد که حداقل بیشتر از یک کالا تولید شود؛ بدون آنکه از تولید کالاهای دیگر کاسته شود و اگر یک شرکت یا یک کشور، هر فرصتی را برای استفاده بهتر از منابع به کار گیرد، اقتصاد آن کارا است.
- برای یک تصمیم‌گیری خوب، تشخیص تفاوت هزینه‌هایی که بر تصمیم افراد تأثیرگذارند مانند هزینه‌های هدررفته بسیار مهم هستند و در همین راستا، باید تمام منافع و تمام هزینه‌ها را در برابر هم سنجید.
- یکی از بازیگران در عرضه اقتصادی، شرکت‌ها و دولت‌هایی هستند که خارج از مرزهای ما زندگی می‌کنند، اما در زندگی اقتصادی ما اثرگذارند.

(۱) چهار مورد (۲) سه مورد (۳) دو مورد (۴) یک مورد

۱۵۱- با توجه به سؤالات زیر، گزینه صحیح کدام است؟

- (الف) «شرکت آلفا تعدادی از تولیدات خود را با هدف تبلیغ، رایگان عرضه کرده است.» منحنی عرضه آن چگونه است؟
 (ب) امروز که برای خرید راهی بازار شدید می‌بینید که قیمت دو برابر شده است.» منحنی تقاضای آن چگونه است؟



۱۵۲- جدول زیر ارزش مراحل مختلف تولید یک محصول فرضی را نشان می‌دهد. با احتساب مالیات بر ارزش‌افزوده‌ای برابر ۱۰٪، به ترتیب به سؤالات پاسخ دهید.

نام مرحله	اول	دوم	سوم	چهارم
قیمت	۳۴۰۰	۷۸۰۰	۱۲۰۰۰	۲۶۰۰۰

(الف) قیمت محصول با احتساب «مالیات بر ارزش‌افزوده» در مرحله سوم چقدر است؟

(ب) «اعتبار مالیاتی» مرحله اول و آخر تولید چقدر است؟

(ج) «مالیات جمع‌آوری‌شده» توسط فروشنده در مرحله چهارم چقدر است؟

(د) «مالیات بر ارزش‌افزوده خالص جمع‌آوری‌شده» در مرحله سوم چقدر است؟

(الف ۱) ۱۲۴۲۰	(ب) ۲۶۰۰ - ۳۴۰	(ج) ۲۶۰۰	(د) ۴۲۰
(الف ۲) ۱۳۲۰۰	(ب) صفر - ۱۲۰۰	(ج) ۲۶۰۰	(د) ۴۲۰
(الف ۳) ۱۳۲۰۰	(ب) صفر - ۱۲۰۰	(ج) ۱۴۰۰	(د) ۱۲۰۰
(الف ۴) ۱۲۴۲۰	(ب) ۲۶۰۰ - ۳۴۰	(ج) ۱۴۰۰	(د) ۱۲۰۰

محل انجام محاسبات:

۱۵۳- کدام گزینه در بردارنده پاسخ صحیح پرسش‌های زیر است؟

- الف) کدام مورد به نتایج عدم رعایت «مزیت‌های مطلق و نسبی» اشاره دارد؟
 ب) کشور انگلستان در سال ۱۷۰۱، قانونی را در مجلس خود تصویب کرد که بر اساس آن
 ج) هر چند زندگی عموم انسان‌ها در جامعه شهری به علت و تولید بر اساس ، اقتصادی تک‌محصولی است اما در فضای
 ، اقتصاد تک‌محصولی، اقتصادی شکننده و آسیب‌پذیر است.
- ۱) الف) تولید محصولات کمتر و بی‌کیفیت‌تر، وادار شدن تولیدکنندگان به تلاش برای تولید بهتر
 ب) تعرفه‌های گمرکی را تا ۵۲ درصد افزایش می‌داد.
 ج) نفع‌گرایی، سودآوری شخصی، بین‌المللی
 ۲) الف) هدر رفتن منابع، کاهش رفاه جامعه
 ب) تعرفه‌های گمرکی را تا ۵۲ درصد افزایش می‌داد.
 ج) نفع‌گرایی، سودآوری شخصی، بین‌المللی
 ۳) الف) تولید محصولات کمتر و بی‌کیفیت‌تر، وادار شدن تولیدکنندگان به تلاش برای تولید بهتر
 ب) واردات هر نوع پوشاک با ابریشم ایرانی یا هندی یا چینی به کشور را ممنوع اعلام می‌کرد.
 ج) تخصص‌گرایی، مزیت، جهانی
 ۴) الف) هدر رفتن منابع، کاهش رفاه جامعه
 ب) واردات هر نوع پوشاک با ابریشم ایرانی یا هندی یا چینی به کشور را ممنوع اعلام می‌کرد.
 ج) تخصص‌گرایی، مزیت، جهانی

۱۵۴- اطلاعات جدول زیر مربوط به یک جامعه فرضی می‌باشد. پاسخ درست سؤالات زیر، به ترتیب در کدام گزینه آمده است؟

۸,۰۰۰,۰۰۰ نفر	جمعیت پایین‌تر از ۱۵ سال
۱۲,۵۰۰,۰۰۰ نفر	جمعیت دانش‌آموزان بالای ۱۵ سال و دانشجویان
۹,۵۰۰,۰۰۰ نفر	جمعیت زنان خانه‌دار و بازنشسته‌ها
۵۰,۰۰۰,۰۰۰ نفر	جمعیت کل کشور
۱۳,۰۰۰,۰۰۰ نفر	جمعیت شاغل

الف) با فرض اینکه جدول زیر به همه عناصر جمعیتی اشاره کرده باشد، «جمعیت غیرفعال» بیانگر چه عددی است؟
 ب) «نرخ بیکاری» در این جامعه چند درصد است؟

- ۱) ۲۲ میلیون نفر - ۳۵ درصد
 ۲) ۳۰ میلیون نفر - ۱۴ درصد
 ۳) ۳۰ میلیون نفر - ۳۵ درصد
 ۴) ۲۲ میلیون نفر - ۱۴ درصد

۱۵۵- کدام گزینه بیانگر عبارت‌های نادرست است؟

- الف) امروزه پول‌های کاغذی، تحریری و الکترونیکی که در دست افراد یا در حساب‌های آن‌ها است، پشتوانه‌ای جز قدرت اقتصادی کشور ندارند.
 ب) پولی که در دست دارید و روی آن نوشته شده است ۱۰ هزار تومان، به خودی خود ۱۰ هزار تومان می‌ارزد و به شما امکان می‌دهد که با آن، معادل ۱۰ هزار تومان کالا یا خدمات دریافت کنید.
 ج) به دلیل اینکه بانک خودش مبلغ چک را روی آن می‌نویسد، به آن پول تصویری می‌گویند.
 د) کالاهایی که به عنوان وسیله مبادله از آن‌ها استفاده می‌شد، مشکلات جدیدی را با خود به همراه آورد، لذا بشر دریافت که به جای آن‌ها می‌توان از رسیده‌ها استفاده کرد.
 ه) در بیشتر موارد، حجم نقدینگی در کشورها با افزایش روبه‌رو است.
 و) سوءاستفاده برخی از بازرگانان از اعتماد مردم و دشواری اعتبارسنجی رسیده‌ها برای مردم، موجب شد تا دولت‌ها برای جلوگیری از بروز این‌گونه مشکلات، چاپ و انتشار اسکناس را برعهده صرافی‌های معتبر قرار دهند.

۱) «الف» - «ب» - «د» - «ه» ۲) «الف» - «د» - «و» ۳) «ب» - «ج» - «د» - «و» ۴) «ب» - «ج» - «ه»

محل انجام محاسبات:

۱۵۶- جدول روبه‌رو، داده‌های مربوط به هزینه سبد خانوار و نرخ cpi را طی چند سال متوالی در یک کشور فرضی بیان می‌کند. گزینه درست در این رابطه کدام است؟

ابتدای سال	هزینه سبد خانوار	cpi
۲۰۰۶	۴۸۰۰ دلار	۵ درصد
۲۰۰۷	-	۷ درصد
۲۰۰۸	۵۲۴۱/۶ دلار	-
۲۰۰۹	۵۷۶۵/۷۶ دلار	-

(۱) هزینه سبد خانوار در ابتدای سال ۲۰۰۵ برابر ۶/۴۲۳۳ دلار بوده است.

(۲) هزینه سبد خانوار در ابتدای سال ۲۰۰۷ برابر ۷۲۰۰ دلار بوده است.

(۳) با کاهش نرخ cpi در سال ۲۰۰۸ هزینه سبد خانوار نسبت به قبل با سرعت کمتری افزایش یافته است.

(۴) نرخ cpi در سال ۲۰۰۹ برابر ۱۵ درصد می‌باشد.

۱۵۷- چند مورد از موارد زیر نادرست است؟

(الف) یکی از مواردی که نشان‌دهنده آبادانی اقتصاد ایران تا اواسط صفویان است، مساجد باقی‌مانده و فعالیت‌های خیریه به‌جامانده از آن زمان است.
 (ب) از نظر عیسوی، ناکارآمدی تشکیلات اداری و ضعف نیروهای نظامی از مشخصات دوره قاجار می‌باشد.
 (ج) یکی از مواردی که ناظر به بزرگی اقتصاد ایران در دوران باستان است، تجارت با چین و یونان و وجود جاده ابریشم در این مملکت است.
 (د) یکی از وظایف پادشاهان و حکام در اواخر صفویه، انتخاب روش درست و بهره‌برداری از اوضاع خاص آن زمان بود که البته آن‌ها با بی‌تدبیری، از آن سر باز زدند.

(ه) در نیمه دوم حکومت صفوی، یکپارچگی اقتصادی شکل گرفت که البته همگون با لایحه‌های دینی- اجتماعی ایران زمین بود.

(۴) مورد ۱

(۳) مورد ۲

(۲) مورد ۳

(۱) مورد ۴

۱۵۸- جدول زیر اطلاعات مربوط به اقلام تولیدی در کشوری فرضی می‌باشد؛ با توجه به داده‌های جدول:

■ تولید خالص داخلی به «قیمت ثابت» در سال ۲۰۰۹ چقدر است؟

اقلام تولیدی	سال ۲۰۰۸		سال ۲۰۰۹	
	تعداد	قیمت	تعداد	قیمت
مواد غذایی، ماشین‌آلات و پوشاک	۸۰۰	۲۰۰۰	۹۰۰	۴۰۰۰
خدمات نهایی	۱۰۰۰	۱۲۰۰	۱۵۰۰	۲۵۰۰
کالاهای واسطه‌ای	۸۰۰	۵۰۰	۱۰۰۰	۸۰۰
مواد اولیه	۴۰۰	۶۰۰	۵۰۰	۱۰۰۰
محصولات چرمی نهایی	۲۰۰	۱۰۰۰	۴۵۰	۲۰۰۰
هزینه جایگزینی، نگهداری و تعمیر کالاهای سرمایه‌ای				۲۵۰,۰۰۰

(۱) ۳,۲۵۰ هزار

(۲) ۴,۳۰۰ هزار

(۳) ۵,۱۰۰ هزار

(۴) ۳,۸۰۰ هزار

۱۵۹- درست یا نادرست بودن گزاره‌های زیر در کدام گزینه به‌درستی مطرح شده است؟

(الف) بر اساس گزارش فائو سازمان خواربار و کشاورزی ملل متحد سالیانه حدود ۳/۱ میلیارد تن از مواد غذایی تولیدشده برای مصرف انسان در جهان دور ریخته می‌شود.

(ب) گزارش‌ها نشان از آن دارد که در ایران اتلاف مواد غذایی بسیار فراتر از متوسط جهانی است.

(ج) ظروف فلزی برخلاف ظروف پلاستیکی به‌راحتی در طبیعت تجزیه می‌شوند و به چرخه تبدیل و تغییر پیوسته آسیبی نمی‌زنند.

(د) اگر مفهوم اسراف را به‌معنای دور ریختن و هدر دادن منابع در نظر بگیریم، «اتلاف» مفهومی عام‌تر از اسراف است.

(۲) درست - درست - درست - نادرست

(۱) نادرست - درست - درست - درست

(۴) نادرست - درست - نادرست - نادرست

(۳) درست - نادرست - درست - نادرست

محل انجام محاسبات:

۱۶۰- کدام گزینه عبارات زیر را به درستی تکمیل می کند؟

الف) وقتی که می خریم، پس از ، علاوه بر اصل پول، سود آن را هم می گیریم.
ب) بیمه روشی است برای که در آن بیمه گذار یا بیمه شده، نگرانی ناشی از احتمال وقوع یک زیان بزرگ را با معامله می کند.

ج) کدام نوع از سرمایه گذاری ها به ظرفیت تولیدی کشور با ایجاد کارخانجات و شرکت های جدید یا توسعه ظرفیت آن ها کمک می کنند؟

- | | | |
|--|------------------------------------|------------------------|
| ۱) الف) اوراق مشارکت، انقضای مدت سررسید آن | ب) رفع خطر، پرداخت خسارت احتمالی | ج) سرمایه گذاری مولد |
| ۲) الف) سهام، انحلال شرکت | ب) رفع خطر، پرداخت خسارت احتمالی | ج) سرمایه گذاری عمرانی |
| ۳) الف) اوراق مشارکت، انقضای مدت سررسید آن | ب) انتقال خطرپذیری، پرداخت حق بیمه | ج) سرمایه گذاری مولد |
| ۴) الف) سهام، انحلال شرکت | ب) انتقال خطرپذیری، پرداخت حق بیمه | ج) سرمایه گذاری عمرانی |

محل انجام محاسبات:

اسامی هیأت علمی آزمون های ویژه داوطلبان کنکور ۱۴۰۵ گروه علوم انسانی

مدیرگروه	عنوان درس	مسئول درس	طراحان	دستیار مسئول درس
سید امیر محمد سید شاکری	ریاضی	حسین افسری	وحید رباعی- حسین افسری- علی افضل زاده	مهدی پوررضایی- عباس مالکی
علی اکبر آخوندی	علوم و فنون ادبی	محمد رضا پیرو	ابوالفضل قاضی- محمد رضا لمسه چی- علی عطری طاهره موسی زاده- محمد رضا پیرو - امیرمهد اسفندی	حسنا محمدی- سپهر سالار کیا
	جامعه شناسی	الهام رضایی	آزیتا بیدقی- فروغ تیموریان- علیرضا مختاری محمد زمان کبیر- محمود حسن پور	فاطمه صفری
	روان شناسی	سیده ضحی سکاکی	سیمین زاهدی- سیده ضحی سکاکی- حمیدرضا توکلی	ثنا کاشیان
	عربی	پویا رضاداد	کاظم غلامی- اسرافیل قربان پور- حمید جوهری مجد پدرام علیمرادی- پویا رضاداد- عرفان جالیزی	-
	تاریخ	سیده ساره زاهدی	شهرام امامی- بهروز یحیی- نگار مروتی- مریم قلی پور	-
	جغرافیا	الناز گنج کار	شهرام امامی- بهروز یحیی- نگار مروتی	الهه ریاحی نسب
	فلسفه و منطق	سعید رحیمیان	حمید سودیان طهرانی- علی اکبر آخوندی - سعید رحیمیان مهدی لاجوردی - فرهاد قاسمی نژاد- ناصر آزادجو	محمد حسین خدام
	اقتصاد	امیر محمد بیگی	حسین خاکساری- میترا چینی ساز- طاهره کریمی محمد رضا مبارکی- علی محسنی- آرش بدری	محمد رضا مبارکی

معاون تولید محتوا: علی الفتی

مدیر واحد آموزش تخصصی: محمد رضا محمد هاشمی